

Constable GD in CAPFs SSF Rifleman GD in Assam Rifles and Sepoy in NCB Examination 2022

Roll Number	www.govtjobsalert.in
Candidate Name	www.govtjobsalert.in
Venue Name	ION Digital Zone iDZ SARONA
Exam Date	27/01/2023
Exam Time	9:00 AM - 10:00 AM
Subject	Constable GD Examination 2022

Section : Part-A-General Intelligence and Reasoning

Q.1 छः छात्र A, B, C, D, E और F एक वृत्ताकार मेज के परितः केंद्र के विपरीत दिशा की ओर मुख करके बैठे हैं। D, E के दाईं ओर ठीक बगल में बैठा है, जो F के दाईं ओर ठीक बगल में बैठा है। A, D और C के ठीक बगल में बैठा है। निम्नलिखित में से कौन E के बाईं ओर दूसरे स्थान पर बैठा है?

- Ans
- 1. A
 - 2. C
 - 3. F
 - 4. B

Question ID : 26433068488

Status : Answered

Chosen Option : 4

Q.2 उस विकल्प का चयन कीजिए जो पांचवें अक्षर-समूह से उसी प्रकार संबंधित है जिस प्रकार दूसरा अक्षर-समूह पहले अक्षर-समूह से संबंधित है और चौथा अक्षर-समूह तीसरे अक्षर-समूह से संबंधित है।
NEST: OVHU :: STIR : TGRS :: BAKE : ?

- Ans
- 1. CZPF
 - 2. YBLV
 - 3. YZPV
 - 4. CBLF

Question ID : 26433057481

Status : Answered

Chosen Option : 1

Q.3 नीचे दिए गए समीकरण को गणितीय रूप से सही बनाने के लिए किन दो गणितीय चिन्हों को परस्पर बदलना चाहिए?
 $105 \div 15 \times 54 + 6 - 18 = 222$

- Ans
- 1. + और -
 - 2. ÷ और +
 - 3. + और ×
 - 4. ÷ और ×

Question ID : 264330117563

Status : Not Answered

Chosen Option : --

Q.4 नीचे दिए गए समीकरण को गणितीय रूप से सही बनाने के लिए किन दो गणितीय चिह्नों को परस्पर बदलना चाहिए?
 $15 \div 5 \times 27 + 3 - 9 = 51$

- Ans
- 1. \div और \times
 - 2. $+$ और $-$
 - 3. \div और $+$
 - 4. $+$ और \times

Question ID : 264330114176

Status : Answered

Chosen Option : 2

Q.5 सात व्यक्ति Q, R, Y, W, T, E और U एक सीधी पंक्ति में उत्तर की ओर मुख करके बैठे हैं। R के बाईं ओर केवल तीन व्यक्ति बैठते हैं। U दाएं सिरे पर बैठता है। Q और R के बीच केवल दो व्यक्ति बैठते हैं। T, R और Y के ठीक बगल में बैठता है। W, Q और E के ठीक बगल में है। पंक्ति के ठीक मध्य में कौन बैठता है?

- Ans
- 1. E
 - 2. W
 - 3. R
 - 4. T

Question ID : 26433092596

Status : Answered

Chosen Option : 3

Q.6 'F - G' का अर्थ है 'F, G का भाई है'
'F * G' का अर्थ है 'F, G की बहन है'
'F + G' का अर्थ है 'F, G का पिता है'
'F \$ G' का अर्थ है 'F, G की माता है'
यदि 'H \$ I + J - K' है, तो H, K से किस प्रकार संबंधित है?

- Ans
- 1. पिता
 - 2. दादा
 - 3. दादी
 - 4. बहन

Question ID : 26433087127

Status : Answered

Chosen Option : 2

Q.7 निम्न श्रंखला में प्रश्न-चिह्न (?) के स्थान पर कौन सी संख्या आएगी?
32, 34, ?, 212, 850, 4252

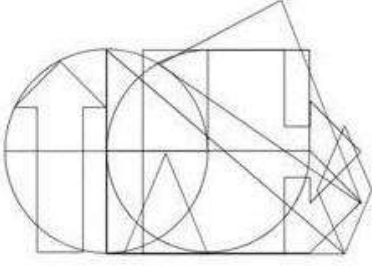
- Ans
- 1. 100
 - 2. 120
 - 3. 70
 - 4. 68

Question ID : 26433068972

Status : Answered

Chosen Option : 4

Q.8 उस विकल्प आकृति का चयन करें जो नीचे दी गई आकृति में अंतर्निहित है।
(आकृति घुमाने की अनुमति नहीं है)



Ans

✗ 1.



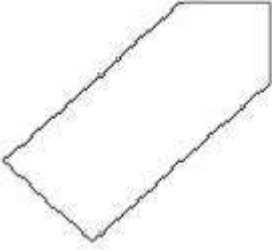
✗ 2.



✓ 3.



✗ 4.



Question ID : 26433085746

Status : Not Answered

Chosen Option : --

Q.9 एक निश्चित कूट भाषा में, FLASH को 'INDUK' लिखा जाता है, और GAMES को 'JCPGV' लिखा जाता है। उसी कूट भाषा में 'TRUST' को किस प्रकार लिखा जाएगा?

Ans ✗ 1. WTXVW

✗ 2. WTYVW

✓ 3. WTXUW

✗ 4. WUXVW

Question ID : 26433067987

Status : Answered

Chosen Option : 3

Q.10 निम्नलिखित में से कौन-सी संख्या दी गई श्रंखला में प्रश्न-चिह्न (?) के स्थान पर आएगी?
946 ,721, 552 ,? ,350 ,301

- Ans
- 1. 445
 - 2. 442
 - 3. 431
 - 4. 439

Question ID : 26433089791

Status : Answered

Chosen Option : 3

Q.11 इस प्रश्न में तीन कथन दिए गए हैं, जिसके बाद दो निष्कर्ष I और II दिए गए हैं। कथनों को सत्य मानते हुए, भले ही वे सर्वज्ञात तथ्यों से भिन्न प्रतीत होते हों, निर्णय कीजिए कि कौन-सा/से निष्कर्ष कथनों का तार्किक रूप से अनुसरण करता है/अनुसरण करते हैं।

कथन:

सभी पत्ते पौधे हैं।

सभी पौधे पेड़ हैं।

सभी पेड़ बड़े हैं।

निष्कर्ष:

I. कुछ पेड़ पत्ते हैं।

II. सभी पत्ते बड़े हैं।

- Ans
- 1. निष्कर्ष I और II दोनों अनुसरण करते हैं।
 - 2. केवल निष्कर्ष II अनुसरण करता है।
 - 3. केवल निष्कर्ष I अनुसरण करता है।
 - 4. न तो निष्कर्ष I और न ही II अनुसरण करता है।

Question ID : 26433070385

Status : Answered

Chosen Option : 1

Q.12 उस समुच्चय का चयन करें, जिसमें संख्याएँ उसी प्रकार संबंधित हैं, जिस प्रकार निम्नलिखित समुच्चयों की संख्याएँ हैं।

(नोट: संख्याओं को उसके घटक अंकों में विभाजित किए बिना, पूर्ण संख्याओं पर ही गणितीय संक्रियाएँ की जानी चाहिए। जैसे 13 - मान लीजिए 13 पर गणितीय संक्रियाएँ जैसे कि 13 में जोड़ना/घटाना/गुणा करना आदि किया जा सकता है। 13 को 1 और 3 में तोड़कर और फिर 1 और 3 पर गणितीय संक्रियाएँ करने की अनुमति नहीं है।)

(264, 43, 19)

(132, 27, 15)

- Ans
- 1. (176, 39, 23)
 - 2. (151, 63, 52)
 - 3. (240, 59, 39)
 - 4. (331, 50, 29)

Question ID : 26433076479

Status : Not Answered

Chosen Option : --

Q.13 किस विकल्प में निम्नलिखित शब्दों का वह क्रम दिया गया है, जिस क्रम में वे अंग्रेजी शब्दकोश में आते हैं?

- 1 Difficult
- 2 Differentiate
- 3 Dissolve
- 4 Dilute
- 5 Distance

- Ans
- 1. 1,4,2,3,5
 - 2. 2,3,1,4,5
 - 3. 1,3,2,5,4
 - 4. 2,1,4,3,5

Question ID : 26433069264

Status : Answered

Chosen Option : 4

Q.14 उस विकल्प का चयन करें जो पाँचवें पद से उसी प्रकार संबंधित है जिस प्रकार दूसरा पद पहले पद से संबंधित है और चौथा पद तीसरे पद से संबंधित है।

BRIGHT : DTKIJV :: DANGER : FCPIGT :: FOREST : ?

- Ans
- 1. HQTGSU
 - 2. RESTOF
 - 3. EPQDRS
 - 4. HQTGUV

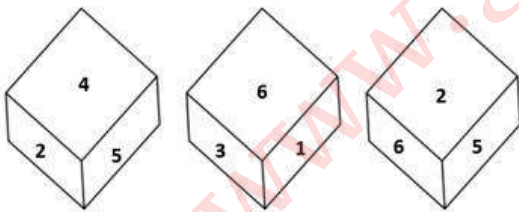
Question ID : 26433087194

Status : Answered

Chosen Option : 4

Q.15 एक ही पासे की तीन अलग-अलग स्थितियाँ यहाँ दर्शायी गई हैं। '1' दर्शाने वाले

फलक के विपरीत वाले फलक पर आने वाली संख्या ज्ञात कीजिए।



- Ans
- 1. 3
 - 2. 6
 - 3. 4
 - 4. 2

Question ID : 26433082891

Status : Answered

Chosen Option : 4

Q.16 कौन-सा अक्षर-समूह दी गई श्रृंखला में प्रश्नचिह्न (?) के स्थान पर आकर श्रृंखला को पूर्ण करेगा?
HSCQ, JVZR, ?, NBTT, PEQU

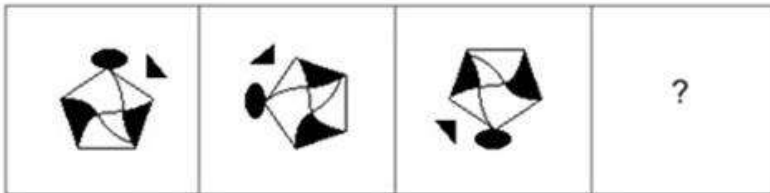
- Ans
- 1. LPXS
 - 2. LTYT
 - 3. LQGT
 - 4. LYWS

Question ID : 26433079426

Status : Answered

Chosen Option : 4

Q.17 उस आकृति का चयन कीजिए जो नीचे दी गई श्रृंखला में प्रश्न चिह्न (?) के स्थान पर आएगी।



Ans

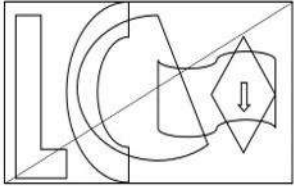
- 1.
- 2.
- 3.
- 4.

Question ID : 26433070421

Status : Answered

Chosen Option : 1

Q.18 उस विकल्प आकृति का चयन करें जो दी गई आकृति में निहित है। (आकृति को घुमाने की अनुमति नहीं है)।



Ans

- ✗ 1.
- ✗ 2.
- ✗ 3.
- ✓ 4.

Question ID : 26433089775

Status : Answered

Chosen Option : 4

Q.19 एक निश्चित कूट भाषा में 'HOUSE' को IQVUF के रूप में कूटबद्ध किया जाता है और 'GARDEN' को HCSFFP के रूप में कूटबद्ध किया जाता है। उसी भाषा में 'ORANGE' को किस प्रकार कूटबद्ध किया जाएगा?

- ✗ 1. LIZMTV
- ✗ 2. PSBOHF
- ✓ 3. PTBPHG
- ✗ 4. QSCOIF

Question ID : 26433074515

Status : Answered

Chosen Option : 4

Q.20 निम्नलिखित में से कौन-सा अक्षर नीचे दी गई अक्षर श्रृंखला में प्रश्न-चिह्न (?) के स्थान पर आकर श्रृंखला को पूर्ण करेगा?
B, D, E, G, H, J, ?

- Ans 1. M
 2. K
 3. J
 4. L

Question ID : 26433067278
Status : Answered
Chosen Option : 4

Section : Part-B-General Knowledge and General awareness

Q.1 जिप्सम को _____ पर गर्म करने पर यह जल के अणुओं का त्याग कर कैल्सियम सल्फेट अर्धहाइड्रेट बनता है।

- Ans 1. 173 K
 2. 215 K
 3. 115 K
 4. 373 K

Question ID : 264330115143
Status : Not Answered
Chosen Option : --

Q.2 इंटरनेट और फैक्स के माध्यम से वस्तुओं के क्रय-विक्रय के लिए उपलब्ध सुविधा का नाम बताएं।

- Ans 1. टेलीफोन सेवा
 2. डाक सेवा
 3. टेलीविजन
 4. ई-कॉमर्स

Question ID : 264330115597
Status : Answered
Chosen Option : 4

Q.3 निम्नलिखित में से कौन एक कथक नर्तक/नर्तकी नहीं हैं?

- Ans 1. सितारा देवी
 2. आनंद शंकर
 3. शंभू महाराज
 4. गोपी कृष्णा

Question ID : 26433071692
Status : Answered
Chosen Option : 2

Q.4 पुष्कर सिंह धामी, जो मार्च 2022 में भारत के उत्तराखंड राज्य के मुख्यमंत्री बने, _____ राजनीतिक दल से संबंधित हैं।

- Ans
- 1. राष्ट्रवादी कांग्रेस पार्टी
 - 2. भारतीय राष्ट्रीय कांग्रेस
 - 3. भारतीय कम्युनिस्ट पार्टी
 - 4. भारतीय जनता पार्टी

Question ID : 264330114895
Status : Answered
Chosen Option : 4

Q.5 प्रधानमंत्री श्री नरेंद्र मोदी ने विश्व जल दिवस, 2021 पर 'जल शक्ति अभियान : _____' अभियान शुरू किया। रिक्त स्थान को उपयुक्त विकल्प से भरें।

- Ans
- 1. कॉल द रेन
 - 2. कंज़र्व द रेन
 - 3. कास्ट द रेन
 - 4. कैच द रेन

Question ID : 264330116165
Status : Answered
Chosen Option : 4

Q.6 भारत के राष्ट्रीय खेल 2022 के 36वें संस्करण में कुल खेलों की संख्या _____ थी।

- Ans
- 1. 50
 - 2. 36
 - 3. 40
 - 4. 44

Question ID : 264330115910
Status : Answered
Chosen Option : 3

Q.7 भारत की दसवीं पंचवर्षीय योजना के दौरान वास्तविक विकास दर _____ थी।

- Ans
- 1. 6.2 प्रतिशत
 - 2. 7.6 प्रतिशत
 - 3. 7 प्रतिशत
 - 4. 5 प्रतिशत

Question ID : 264330115361
Status : Not Answered
Chosen Option : --

Q.8 जनगणना 2011 के अनुसार भारत का सबसे कम जनसंख्या वाला राज्य कौन-सा है?

- Ans
- 1. सिक्किम
 - 2. मिज़ोरम
 - 3. गोवा
 - 4. पंजाब

Question ID : 264330116028

Status : Answered

Chosen Option : 1

Q.9 उपाधियों का अंत का उल्लेख निम्नलिखित में से किस अनुच्छेद के तहत किया गया है?

- Ans
- 1. अनुच्छेद 17
 - 2. अनुच्छेद 18
 - 3. अनुच्छेद 19
 - 4. अनुच्छेद 20

Question ID : 26433089182

Status : Answered

Chosen Option : 2

Q.10 1936 के बर्लिन ओलंपिक में भारतीय हॉकी पुरुष टीम के कप्तान कौन थे?

- Ans
- 1. अहमद खान
 - 2. रूप सिंह
 - 3. ध्यान चंद
 - 4. सईद जाफ़र

Question ID : 26433090749

Status : Answered

Chosen Option : 3

Q.11 निम्नलिखित में से कौन-सी नदी अरब सागर में गिरती है?

- Ans
- 1. गंगा
 - 2. कृष्णा
 - 3. नर्मदा
 - 4. महानदी

Question ID : 26433089664

Status : Answered

Chosen Option : 1

Q.12 निम्नलिखित में से कौन सी पुस्तक दयानंद सरस्वती द्वारा लिखी गई थी?

- Ans
- 1. काबुलीवाला
 - 2. स्ट्रे बर्ड्स
 - 3. सत्यार्थ प्रकाश
 - 4. गीतांजलि

Question ID : 264330115727

Status : Answered

Chosen Option : 3

Q.13 निवल निर्यात = कुल निर्यात - _____

- Ans
- 1. कुल आय
 - 2. कुल आयात
 - 3. कुल ब्याज
 - 4. कुल राजस्व

Question ID : 264330115350

Status : Answered

Chosen Option : 1

Q.14 अनिदिता नेओगी अनाम को _____ से सम्मानित किया गया है।

- Ans
- 1. अभिनंदन सरोजा राष्ट्रीय पुरस्कार
 - 2. राष्ट्रीय नृत्य शिरोमणि
 - 3. पद्म भूषण
 - 4. पद्म विभूषण

Question ID : 264330115819

Status : Not Attempted and Marked For Review

Chosen Option : --

Q.15 भारतीय संविधान का निम्नलिखित में से कौन सा अनुच्छेद, भारत के नियंत्रक एवं महालेखा परीक्षक के लिए एक स्वतंत्र कार्यालय का प्रावधान करता है?

- Ans
- 1. अनुच्छेद 160
 - 2. अनुच्छेद 158
 - 3. अनुच्छेद 134
 - 4. अनुच्छेद 148

Question ID : 26433086822

Status : Answered

Chosen Option : 4

Q.16 प्रधानमंत्री नरेंद्र मोदी ने दक्षिण भारत में किस मार्ग पर पहली वंदे भारत एक्सप्रेस रेलगाड़ी को हरी झंडी दिखाई?

- Ans
- 1. मैसूर-चेन्नई
 - 2. एर्नाकुलम - कोल्लम
 - 3. मेट्टुपालयम - ऊटी
 - 4. बैंगलोर - चेन्नई

Question ID : 264330115053
Status : Answered
Chosen Option : 1

Q.17 लुई-नगाई-नी _____ के लोगों द्वारा बीज बोने के उत्सव के रूप में मनाया जाता है।

- Ans
- 1. अरुणाचल प्रदेश
 - 2. असम
 - 3. सिक्किम
 - 4. मणिपुर

Question ID : 264330115081
Status : Not Answered
Chosen Option : --

Q.18 प्रथम सात पंचवर्षीय योजनाओं में _____ को अधिक महत्व दिया गया।

- Ans
- 1. आत्म-निर्भरता
 - 2. आधुनिकीकरण
 - 3. हिस्सेदारी
 - 4. निर्यात वृद्धि

Question ID : 264330116118
Status : Answered
Chosen Option : 2

Q.19 _____ कोशिका का अपशिष्ट निपटाने वाला तंत्र है।

- Ans
- 1. माइटोकॉन्ड्रिया
 - 2. लाइसोसोम
 - 3. रसधानियाँ
 - 4. राइबोसोम

Question ID : 264330115190
Status : Answered
Chosen Option : 4

Q.20 निम्नलिखित में से हड़प्पा नगरों के किस भाग को निचला-नगर कहा जाता है?

- Ans
- 1. दक्षिणी
 - 2. उत्तरी
 - 3. पूर्वी
 - 4. पश्चिमी

Question ID : 264330115441

Status : Answered

Chosen Option : 1

Section : Part-C-Elementary Mathematics

Q.1 एक विलयन में 50 लीटर शुद्ध दूध है। 10 लीटर दूध को समान मात्रा में पानी से प्रतिस्थापित कर दिया जाता है। फिर से 10 लीटर मिश्रण को 10 लीटर पानी से प्रतिस्थापित किया जाता है और यह क्रिया एक बार और दोहराई जाती है। अंतिम विलयन में दूध की मात्रा ज्ञात करें।

- Ans
- 1. 25.6 लीटर
 - 2. 25 लीटर
 - 3. 25.4 लीटर
 - 4. 25.2 लीटर

Question ID : 26433081549

Status : Not Answered

Chosen Option : --

Q.2 यदि वार्षिक चक्रवृद्धि के मामले में ₹1,00,000 की राशि दो समान वार्षिक किश्तों में $2\frac{3}{4}$ प्रतिशत चक्रवृद्धि ब्याज प्रति वर्ष की दर से वापस की जानी है, तो प्रत्येक किस्त का मूल्य क्या है? (निकटतम अभिन्न मूल्य तक पूर्णांकित)

- Ans
- 1. ₹53,072
 - 2. ₹50,072
 - 3. ₹51,072
 - 4. ₹52,072

Question ID : 26433074226

Status : Not Answered

Chosen Option : --

Q.3 P, Q और R एक कार्य को क्रमशः 20, 30 और 60 दिनों में पूरा कर सकते हैं। यदि Q और R प्रत्येक तीसरे दिन P की सहायता करते हैं, तो कार्य को पूरा करने में कितने दिन लगेंगे?

- Ans
- 1. 17
 - 2. 18
 - 3. 12
 - 4. 15

Question ID : 26433065299

Status : Not Answered

Chosen Option : --

Q.4 Rs.10,000 के मूलधन के लिए 16% वार्षिक ब्याज दर पर 2 वर्ष का चक्रवृद्धि ब्याज (Rs. में) (लगभग) क्या होगा? (ब्याज अर्धवार्षिक रूप से चक्रवृद्धि किया जाता है)

- Ans 1. 3604
 2. 3306
 3. 3800
 4. 3200

Question ID : 26433071329
Status : Answered
Chosen Option : 4

Q.5 $0.25 : x :: 3 : 8$ है, तो $x = ?$

- Ans 1. 0.55
 2. 0.66
 3. 0.56
 4. 0.69

Question ID : 26433076376
Status : Not Answered
Chosen Option : --

Q.6 यदि एक प्राकृत संख्या को 2, 3 और 4 से विभाजित करने पर प्रत्येक स्थिति में 1 शेषफल बचता है, तो तीन अंकों की सबसे छोटी प्राकृत संख्या क्या होगी?

- Ans 1. 109
 2. 105
 3. 107
 4. 103

Question ID : 26433075634
Status : Not Answered
Chosen Option : --

Q.7 एक बस ने 15 km/h की चाल से 60 km, 25 km/h की चाल से 100 km और 5 km/h की चाल से 20 km की दूरी तय की। पूरी यात्रा के दौरान इसकी औसत चाल (m/sec में) क्या होगी?

- Ans 1. 20
 2. $\frac{25}{6}$
 3. $\frac{21}{2}$
 4. 15

Question ID : 26433075198
Status : Not Answered
Chosen Option : --

Q.8 एक समचतुर्भुज के विकर्णों का आधा भाग 75 cm और 90 cm है। समचतुर्भुज का क्षेत्रफल ज्ञात कीजिए।

- Ans
- 1. 6750 cm²
 - 2. 27000 cm²
 - 3. 13500 cm²
 - 4. 3375 cm²

Question ID : 26433075743

Status : Not Answered

Chosen Option : --

Q.9 एक चोर 12 m/s की चाल से दौड़ना शुरू करता है, 10 सेकंड दौड़ने के बाद एक पुलिसकर्मी उसी दिशा में 14.5 m/s की चाल से चोर को पकड़ने के लिए दौड़ना शुरू करता है। पुलिसकर्मी द्वारा चोर को पकड़ने में कितना समय लगेगा?

- Ans
- 1. 30 सेकंड
 - 2. 48 सेकंड
 - 3. 36 सेकंड
 - 4. 44 सेकंड

Question ID : 26433075693

Status : Not Attempted and Marked For Review

Chosen Option : --

Q.10 एक चुनाव में केवल दो उम्मीदवार हैं। एक व्यक्ति को 40 प्रतिशत मत मिले और वह 50 मतों से चुनाव हार गया। यह मानते हुए कि चुनाव में कोई अमान्य मत नहीं थे, मतों की कुल संख्या कितनी है?

- Ans
- 1. 250
 - 2. 120
 - 3. 150
 - 4. 450

Question ID : 26433079852

Status : Answered

Chosen Option : 1

Q.11 किसी एक दिवसीय मैच में एक क्रिकेट टीम के 11 खिलाड़ियों का औसत स्कोर 32 है। दस खिलाड़ियों द्वारा बनाए गए रन 11, 51, 2, 96, 21, 33, 0, 32, 9 और 14 हैं। 11वें खिलाड़ी ने कितने रन बनाए?

- Ans
- 1. 83
 - 2. 96
 - 3. 79
 - 4. 91

Question ID : 26433075096

Status : Not Answered

Chosen Option : --

Q.12 जब आशीष एक निश्चित कार्य पूरा करता है, तो उसे 70 रुपए का कुल वेतन मिलता है। जब कनिका समान कार्य पूरा करती है, तो उसे 165 रुपए का कुल वेतन मिलता है। आशीष और कनिका की दैनिक मजदूरी क्रमशः 3.5 रुपए और 5.5 रुपए हैं। यदि वे दोनों इसे एक साथ करते हैं, तो कार्य की लागत क्या है?

- Ans
- 1. 120 रुपए
 - 2. 108 रुपए
 - 3. 144 रुपए
 - 4. 140 रुपए

Question ID : 264330116849

Status : Not Answered

Chosen Option : --

Q.13 एक दुकानदार 10 पंखे खरीदता है और 10 पंखों के क्रय मूल्य पर 8 पंखे बेच देता है। उसका लाभ प्रतिशत कितना होगा?

- Ans
- 1. 24%
 - 2. 23%
 - 3. 22%
 - 4. 25%

Question ID : 26433074958

Status : Answered

Chosen Option : 3

Q.14 एक कस्बे में 5500 लोग हैं, जो एक चुनाव में मतदान कर सकते हैं। यदि पुरुष मतदाताओं की संख्या में 11% और महिला मतदाताओं की संख्या में 20% की वृद्धि होती है, तो मतदाताओं की संख्या 6330 हो जाती है। कस्बे में क्रमशः पुरुष और महिला मतदाताओं की प्रारंभिक संख्या ज्ञात कीजिए।

- Ans
- 1. 2000, 3500
 - 2. 2500, 3000
 - 3. 3000, 2500
 - 4. 3500, 2000

Question ID : 26433082091

Status : Not Answered

Chosen Option : --

Q.15 व्यंजक $2 \div \frac{5}{7}$ of $(7 + 9 \times 2) + \left[\frac{15}{6} \div \frac{5}{18} - \frac{24}{12} \right]$ को हल कीजिए।

- Ans
- 1. $\frac{47}{125}$
 - 2. $\frac{889}{125}$
 - 3. $\frac{146}{7}$
 - 4. $\frac{166}{7}$

Question ID : 26433082918

Status : Not Answered

Chosen Option : --

Q.16 एक गोले की त्रिज्या 6 cm है। इस गोले के पृष्ठीय क्षेत्रफल का संख्यात्मक मान इसके आयतन के संख्यात्मक मान का कितना प्रतिशत है?

- Ans
- 1. 50%
 - 2. 30%
 - 3. 60%
 - 4. 40%

Question ID : 26433092172

Status : Not Answered

Chosen Option : --

Q.17 एक वस्तु के अंकित मूल्य पर ग्राहक को 4.5 प्रतिशत की छूट दी जाती है। एक लड़की ने 191 रुपए में वस्तु खरीदी। वस्तु का अंकित मूल्य है:

- Ans
- 1. 500 रुपए
 - 2. 300 रुपए
 - 3. 200 रुपए
 - 4. 400 रुपए

Question ID : 264330116734

Status : Answered

Chosen Option : 3

Q.18 20 चूड़ियाँ खरीदने पर रिया को 5 चूड़ियाँ मुफ्त मिलती हैं। रिया को मिलने वाली छूट प्रतिशत क्या है?

- Ans
- 1. 25%
 - 2. 20%
 - 3. 15%
 - 4. 10%

Question ID : 26433076427

Status : Answered

Chosen Option : 1

Q.19 25 वस्तुएँ ₹8,625 में खरीदी गईं और ₹12,675 में बेची गईं। प्रति वस्तु लगभग लाभ प्रतिशत ज्ञात कीजिए।

- Ans
- 1. 32%
 - 2. 39%
 - 3. 47%
 - 4. 45%

Question ID : 26433076176

Status : Answered

Chosen Option : 4

Q.20 यदि $A = \frac{2}{3}B$ और $B = \frac{3}{5}C$, तो A:B:C का मान क्या होगा?

- Ans
- 1. 2:3:5
 - 2. 5:3:7
 - 3. 3:2:5
 - 4. 3:5:7

Question ID : 26433075666

Status : Not Answered

Chosen Option : --

Section : Part-D-English

Q.1 Select the most appropriate option to fill in the blank.

Janaki remains _____ while talking about her dark past.

- Ans
- 1. cautious
 - 2. dignified
 - 3. turbulent
 - 4. gracious

Question ID : 26433071883

Status : Not Answered

Chosen Option : --

Q.2 Select the INCORRECTLY spelt word.

- Ans
- 1. Spiteful
 - 2. Debatable
 - 3. Rotational
 - 4. Magnificientt

Question ID : 26433073505

Status : Not Answered

Chosen Option : --

Q.3 Identify the MISSPELT word in the following sentence.

In some regions of the world, child poverty remains a serious issue, significantly in relation of the geospatial and living standards in which children grow up.

- Ans
- 1. regions
 - 2. issue
 - 3. significantly
 - 4. geospatial

Question ID : 26433073661

Status : Not Answered

Chosen Option : --

Q.4 Select the most appropriate ANTONYM for the underlined word in the following sentence.

He is a spendthrift and spends money lavishly.

- Ans
- 1. Wicked
 - 2. Miser
 - 3. Mean
 - 4. Careful

Question ID : 26433093035

Status : Not Answered

Chosen Option : --

Q.5 Select the most appropriate synonym of the given word.

Commerce

- Ans
- 1. Class
 - 2. Trade
 - 3. Stream
 - 4. Bank

Question ID : 26433072350

Status : Not Answered

Chosen Option : --

Q.6 Select the most appropriate homonym to fill in the blank.

These products _____ for a long time.

- Ans 1. last
 2. lost
 3. least
 4. lust

Question ID : 26433088789
Status : Not Answered
Chosen Option : --

Q.7 Select the most appropriate ANTONYM of the given word.

Accuse

- Ans 1. Defend
 2. Incriminate
 3. Allege
 4. Charge

Question ID : 26433073577
Status : Not Answered
Chosen Option : --

Q.8 Select the most appropriate ANTONYM of the given word.

Grumble

- Ans 1. Raise
 2. Stray
 3. Navigate
 4. Praise

Question ID : 26433066086
Status : Not Answered
Chosen Option : --

Q.9 The given sentence is divided into three segments. Select the option that has the segment with a grammatical error. If there is no error, select 'no error' as your answer.

It will take / 5 minutes to / preparing a cup of tea.

- Ans 1. No error
 2. preparing a cup of tea
 3. It will take
 4. 5 minutes to

Question ID : 26433071858
Status : Not Answered
Chosen Option : --

Q.10 Complete the sentence by choosing the most appropriate synonym of the underlined word.

When you want to leave, you _____ the building.

- Ans
- 1. move in
 - 2. exit
 - 3. catch
 - 4. jump

Question ID : 26433088864
Status : Not Answered
Chosen Option : --

Q.11 Select the most appropriate option to fill in the blank.

The _____ of this beautiful garden is so exciting.

- Ans
- 1. site
 - 2. slight
 - 3. sight
 - 4. cite

Question ID : 26433073932
Status : Not Answered
Chosen Option : --

Q.12 Select the most appropriate meaning of the underlined idiom in the following sentence.

Keep an eye on the situation around, and take your decision accordingly.

- Ans
- 1. Be aggressive with red eyes
 - 2. Cries over spilt milk
 - 3. Ignore
 - 4. Observe continually and carefully

Question ID : 26433072513
Status : Not Answered
Chosen Option : --

Q.13 Select the most appropriate option to substitute the underlined segment in the given sentence to make it a meaningful sentence. If no substitution is required, select 'No substitution'.

The first step towards the prevention of cybercrimes will obviously to promote awareness about criminal activities and tighten up security.

- Ans
- 1. would obviously be to promote awareness about criminal activities
 - 2. would obviously been to promote awareness about criminal activities
 - 3. No substitution
 - 4. would obviously be to promote awareness for criminal activities

Question ID : 26433092042
Status : Not Answered
Chosen Option : --

Q.14 Select the most appropriate option that can substitute the underlined segment in the given sentence. If there is no need to substitute it, select 'No substitution'.

Many instances of corruption have been reported by authorities posted theyre.

- Ans
- 1. authorities in which were posted theyre
 - 2. No substitution
 - 3. authorities posted there
 - 4. authorities whom were posted theyre

Question ID : 26433091764

Status : Not Answered

Chosen Option : --

Q.15 Select the most appropriate meaning of the underlined idiom that can be substituted in the following sentence.

My son was disappointed with his failure, but he took heart and tried again

- Ans
- 1. was deeply affected
 - 2. loved dearly
 - 3. felt encouraged
 - 4. cried miserably

Question ID : 26433072236

Status : Not Answered

Chosen Option : --

Comprehension:

In the following passage, some words have been deleted. Read the passage carefully and select the most appropriate option to fill in each blank.

The build up to the 2020 Tokyo Olympics, which (1) _____ on July 23 and finished on August 8, as defined by cautious optimism, as well as a slew of (2) _____ that came with staging the Games under tight safety standards and without (3) _____ during the COVID-19 outbreak. While Indian competitors had shown enough potential to (4) _____ expect a big return of medals in the Games, the disappointments of Rio 2016 lingered. What happened was that India delivered its best-ever performance at the Games, beginning with Mirabai Chanu's silver medal in weightlifting on the first day and culminating with Neeraj Chopra's (5) _____ gold medal in javelin throw on the country's last day of competition in Tokyo.

SubQuestion No : 16

Q.16 Select the most appropriate option to fill in blank no. 1.

- Ans
- 1. beginning
 - 2. begin
 - 3. began
 - 4. begun

Question ID : 26433058733

Status : Not Answered

Chosen Option : --

Comprehension:

In the following passage, some words have been deleted. Read the passage carefully and select the most appropriate option to fill in each blank.

The build up to the 2020 Tokyo Olympics, which (1)_____ on July 23 and finished on August 8, as defined by cautious optimism, as well as a slew of (2)_____ that came with staging the Games under tight safety standards and without (3)_____ during the COVID-19 outbreak. While Indian competitors had shown enough potential to (4)_____ expect a big return of medals in the Games, the disappointments of Rio 2016 lingered. What happened was that India delivered its best-ever performance at the Games, beginning with Mirabai Chanu's silver medal in weightlifting on the first day and culminating with Neeraj Chopra's (5)_____ gold medal in javelin throw on the country's last day of competition in Tokyo.

SubQuestion No : 17

Q.17 Select the most appropriate option to fill in blank no. 2.

- Ans 1. certainty
 2. configuration
 3. enjoyment
 4. anxiety

Question ID : 26433058734

Status : Not Answered

Chosen Option : --

Comprehension:

In the following passage, some words have been deleted. Read the passage carefully and select the most appropriate option to fill in each blank.

The build up to the 2020 Tokyo Olympics, which (1)_____ on July 23 and finished on August 8, as defined by cautious optimism, as well as a slew of (2)_____ that came with staging the Games under tight safety standards and without (3)_____ during the COVID-19 outbreak. While Indian competitors had shown enough potential to (4)_____ expect a big return of medals in the Games, the disappointments of Rio 2016 lingered. What happened was that India delivered its best-ever performance at the Games, beginning with Mirabai Chanu's silver medal in weightlifting on the first day and culminating with Neeraj Chopra's (5)_____ gold medal in javelin throw on the country's last day of competition in Tokyo.

SubQuestion No : 18

Q.18 Select the most appropriate option to fill in blank no. 3.

- Ans 1. spectators
 2. tools
 3. athletes
 4. preachers

Question ID : 26433058735

Status : Not Answered

Chosen Option : --

Comprehension:

In the following passage, some words have been deleted. Read the passage carefully and select the most appropriate option to fill in each blank.

The build up to the 2020 Tokyo Olympics, which (1)_____ on July 23 and finished on August 8, as defined by cautious optimism, as well as a slew of (2)_____ that came with staging the Games under tight safety standards and without (3)_____ during the COVID-19 outbreak. While Indian competitors had shown enough potential to (4)_____ expect a big return of medals in the Games, the disappointments of Rio 2016 lingered. What happened was that India delivered its best-ever performance at the Games, beginning with Mirabai Chanu's silver medal in weightlifting on the first day and culminating with Neeraj Chopra's (5)_____ gold medal in javelin throw on the country's last day of competition in Tokyo.

SubQuestion No : 19

Q.19 Select the most appropriate option to fill in blank no. 4.

- Ans
- 1. constitutionally
 - 2. authoritatively
 - 3. casually
 - 4. legitimately

Question ID : 26433058736

Status : Not Answered

Chosen Option : --

Comprehension:

In the following passage, some words have been deleted. Read the passage carefully and select the most appropriate option to fill in each blank.

The build up to the 2020 Tokyo Olympics, which (1)_____ on July 23 and finished on August 8, as defined by cautious optimism, as well as a slew of (2)_____ that came with staging the Games under tight safety standards and without (3)_____ during the COVID-19 outbreak. While Indian competitors had shown enough potential to (4)_____ expect a big return of medals in the Games, the disappointments of Rio 2016 lingered. What happened was that India delivered its best-ever performance at the Games, beginning with Mirabai Chanu's silver medal in weightlifting on the first day and culminating with Neeraj Chopra's (5)_____ gold medal in javelin throw on the country's last day of competition in Tokyo.

SubQuestion No : 20

Q.20 Select the most appropriate option to fill in blank no. 5.

- Ans
- 1. non-fictional
 - 2. insignificant
 - 3. historic
 - 4. Asiatic

Question ID : 26433058737

Status : Not Answered

Chosen Option : --

Q.1 नीचे दिए गए वाक्य में प्रयुक्त गलत विभक्ति चिह्न को पहचानकर बताइए कि उसके स्थान पर कौन सा विभक्ति चिह्न सही होगा?
'अच्छी सेहत को प्रतिदिन योग करना चाहिए।'

- Ans
- 1. द्वारा
 - 2. से
 - 3. में
 - 4. के लिए

Question ID : 26433062866
Status : Answered
Chosen Option : 4

Q.2 'अनंत विश्व में अनेक देवताओं की कहानियाँ प्रचलित हैं।' इस वाक्य में प्रयुक्त 'अनंत' शब्द निम्न में से किस अर्थ को व्यक्त करता है?

- Ans
- 1. आकाश
 - 2. अंतहीन
 - 3. शेष
 - 4. ईश्वर

Question ID : 26433069728
Status : Answered
Chosen Option : 4

Q.3 निम्नलिखित में से शुद्ध वाक्य है-

- Ans
- 1. हमलोग उत्तर लिखते हैं।
 - 2. हमलोग उतर लिखते हैं।
 - 3. हम लोग उत्तर लिखते हैं।
 - 4. हमलोग उत्तर लिखत हैं।

Question ID : 26433080933
Status : Answered
Chosen Option : 3

Q.4 निम्नलिखित वाक्य में रेखांकित शब्द के स्थान पर सर्वोचित विकल्प चुनिए।
'वह इस आशा में विश्राम करता रहा कि मुझसे मुलाक़ात हो जाएगी।'

- Ans
- 1. विश्वास
 - 2. परिश्रम
 - 3. प्रतीक्षा
 - 4. उपासना

Question ID : 26433084964
Status : Answered
Chosen Option : 3

Q.5 'रात और संध्या के बीच की वेला' वाक्यांश के लिए सार्थक शब्द है-

- Ans
- 1. पर्णी
 - 2. गोधूलि
 - 3. भोर
 - 4. क्षितिज

Question ID : 26433065868

Status : Answered

Chosen Option : 3

Q.6 'जो किये गये उपकारों को मानता है' वाक्यांश के लिए एक शब्द _____ है।

- Ans
- 1. कृतघ्न
 - 2. कृपण
 - 3. कारीगर
 - 4. कृतज्ञ

Question ID : 26433062938

Status : Answered

Chosen Option : 4

Q.7 निम्नलिखित शब्द के सही पर्यायवाची शब्द का चयन विकल्पों में से कीजिए।
सुंदर

- Ans
- 1. माणिक
 - 2. भानु
 - 3. ललित
 - 4. पीताम्बर

Question ID : 26433066942

Status : Answered

Chosen Option : 1

Q.8 हमारे माता-पिता का तो कहना ही यही है कि सबके साथ भला करो, यदि _____ ।
रिक्त स्थान की पूर्ति उचित मुहावरे द्वारा कीजिए।

- Ans
- 1. अपना काम स्वयं करो
 - 2. परोपकार सर्वोपरि है
 - 3. आप काज महाकाज
 - 4. आप भले तो जग भला

Question ID : 26433062603

Status : Answered

Chosen Option : 2

Q.9 'वह आंख से कुबड़ा है।' इस वाक्य में रेखांकित शब्द के अर्थ स्थान पर उचित शब्द क्या होगा?

- Ans
- 1. बहरा
 - 2. गूंगा
 - 3. वाचाल
 - 4. दृष्टिहीन

Question ID : 26433062203

Status : Answered

Chosen Option : 4

Q.10 निम्नलिखित में से किस वाक्य में सर्वनाम सम्बन्धी अशुद्धि है?

- Ans
- 1. हम अपना काम स्वयं करता हूँ।
 - 2. वह अपना और अपनी सखी का काम करेगी।
 - 3. तुम यह पुस्तक पढ़ कर देखो।
 - 4. यह पुस्तक बहुत उपयोगी है।

Question ID : 26433062999

Status : Not Attempted and Marked For Review

Chosen Option : --

Q.11 'सौ वर्ष का समय' वाक्यांश के लिए एक शब्द होगा-

- Ans
- 1. शताब्दी
 - 2. युग
 - 3. सहस्राब्दी
 - 4. वार्षिक

Question ID : 26433065733

Status : Answered

Chosen Option : 1

Q.12 निम्नलिखित वाक्य में कौन से भाग में त्रुटि है?
'बिद्वानो का दल आ रहा है।'

- Ans
- 1. बिद्वानो
 - 2. दल
 - 3. का
 - 4. आ रहा है।

Question ID : 26433063063

Status : Answered

Chosen Option : 1

Q.13 'अनुराग' का विलोम है-

- Ans 1. विराग
 2. सुहाग
 3. वियोग
 4. विहंग

Question ID : 26433062923

Status : Answered

Chosen Option : 1

Q.14 'फैला अपने रवि कर जाल।'

उपरोक्त वाक्य में प्रयुक्त 'कर' शब्द निम्न में से किस अर्थ को व्यक्त करता है?

- Ans 1. सूँड़
 2. हाथ
 3. टैक्स
 4. किरण

Question ID : 26433069732

Status : Answered

Chosen Option : 4

Q.15 निम्नलिखित वाक्य के रिक्त स्थान में सबसे उपयुक्त मुहावरा क्या होगा?

'बुद्धिजीवी और पत्रकार _____ खाते हैं।'

- Ans 1. अक्ल की रोटी
 2. घास की रोटी
 3. गेहूँ की रोटी
 4. मक्के की रोटी

Question ID : 26433066734

Status : Answered

Chosen Option : 1

Comprehension:

निम्नलिखित गद्यांश में कुछ शब्दों को हटा दिया गया है। दिए गए विकल्पों की सहायता से रिक्त स्थानों की पूर्ति कीजिए। प्रत्येक संख्या के लिए सबसे उपयुक्त विकल्प का चयन कीजिए।
"जैसी संगति बैठिये तैसोई फल दीन" उक्ति का अर्थ है-मनुष्य जिस 1. _____ में बैठता है, उसे वैसा ही फल मिलता है। बुरे की संगति में 2. _____ मिलता है। अच्छे के साथ रहने से अच्छा परिणाम निकलता है। यदि सज्जन 3. _____ से घिरा रहेगा तो दुर्जनों के अकगुण उस पर अवश्य प्रभाव छोड़ेंगे। जिन मित्रों के साथ हम रहते हैं, उनके 4. _____ से बचना अत्यंत कठिन है। यदि मित्र अच्छे होंगे तो हमें 5. _____ की ओर अग्रसर करेंगे।

SubQuestion No : 16

Q.16 रिक्त स्थान 1 की पूर्ति के लिए सबसे उपयुक्त विकल्प का चयन करें।

- Ans 1. अकेला
 2. जगह
 3. संगति
 4. चौराहे

Question ID : 264330110867

Status : Answered

Chosen Option : 3

Comprehension:

निम्नलिखित गद्यांश में कुछ शब्दों को हटा दिया गया है। दिए गए विकल्पों की सहायता से रिक्त स्थानों की पूर्ति कीजिए। प्रत्येक संख्या के लिए सबसे उपयुक्त विकल्प का चयन कीजिए।
"जैसी संगति बैठिये तैसीई फल दीन" उक्ति का अर्थ है-मनुष्य जिस 1. _____ में बैठता है, उसे वैसा ही फल मिलता है। बुरे की संगति में 2. _____ मिलता है। अच्छे के साथ रहने से अच्छा परिणाम निकलता है। यदि सज्जन 3. _____ से घिरा रहेगा तो दुर्जनों के अवगुण उस पर अवश्य प्रभाव छोड़ेंगे। जिन मित्रों के साथ हम रहते हैं, उनके 4. _____ से बचना अत्यंत कठिन है। यदि मित्र अच्छे होंगे तो हमें 5. _____ की ओर अग्रसर करेंगे।

SubQuestion No : 17

Q.17 रिक्त स्थान 2 की पूर्ति के लिए सबसे उपयुक्त विकल्प का चयन करें।

- Ans 1. बुरा फल
 2. कडवा फल
 3. मीठा फल
 4. खट्टा फल

Question ID : 264330110868

Status : Answered

Chosen Option : 1

Comprehension:

निम्नलिखित गद्यांश में कुछ शब्दों को हटा दिया गया है। दिए गए विकल्पों की सहायता से रिक्त स्थानों की पूर्ति कीजिए। प्रत्येक संख्या के लिए सबसे उपयुक्त विकल्प का चयन कीजिए।
"जैसी संगति बैठिये तैसीई फल दीन" उक्ति का अर्थ है-मनुष्य जिस 1. _____ में बैठता है, उसे वैसा ही फल मिलता है। बुरे की संगति में 2. _____ मिलता है। अच्छे के साथ रहने से अच्छा परिणाम निकलता है। यदि सज्जन 3. _____ से घिरा रहेगा तो दुर्जनों के अवगुण उस पर अवश्य प्रभाव छोड़ेंगे। जिन मित्रों के साथ हम रहते हैं, उनके 4. _____ से बचना अत्यंत कठिन है। यदि मित्र अच्छे होंगे तो हमें 5. _____ की ओर अग्रसर करेंगे।

SubQuestion No : 18

Q.18 रिक्त स्थान 3 की पूर्ति के लिए सबसे उपयुक्त विकल्प का चयन करें।

- Ans 1. सज्जनों
 2. शीलवान
 3. दुर्जनों
 4. नेक

Question ID : 264330110869

Status : Answered

Chosen Option : 3

Comprehension:

निम्नलिखित गद्यांश में कुछ शब्दों को हटा दिया गया है। दिए गए विकल्पों की सहायता से रिक्त स्थानों की पूर्ति कीजिए। प्रत्येक संख्या के लिए सबसे उपयुक्त विकल्प का चयन कीजिए।
"जैसी संगति बैठिये तैसी फल दीन" उक्ति का अर्थ है-मनुष्य जिस 1. _____ में बैठता है, उसे वैसा ही फल मिलता है। बुरे की संगति में 2. _____ मिलता है। अच्छे के साथ रहने से अच्छा परिणाम निकलता है। यदि सज्जन 3. _____ से घिरा रहेगा तो दुर्जनों के अवगुण उस पर अवश्य प्रभाव छोड़ेंगे। जिन मित्रों के साथ हम रहते हैं, उनके 4. _____ से बचना अत्यंत कठिन है। यदि मित्र अच्छे होंगे तो हमें 5. _____ की ओर अग्रसर करेंगे।

SubQuestion No : 19

Q.19 रिक्त स्थान 4 की पूर्ति के लिए सबसे उपयुक्त विकल्प का चयन करें।

- Ans
- 1. कुप्रभाव
 - 2. दुष्प्रभाव
 - 3. गौण प्रभाव
 - 4. प्रभाव

Question ID : 264330110870

Status : Answered

Chosen Option : 2

Comprehension:

निम्नलिखित गद्यांश में कुछ शब्दों को हटा दिया गया है। दिए गए विकल्पों की सहायता से रिक्त स्थानों की पूर्ति कीजिए। प्रत्येक संख्या के लिए सबसे उपयुक्त विकल्प का चयन कीजिए।
"जैसी संगति बैठिये तैसी फल दीन" उक्ति का अर्थ है-मनुष्य जिस 1. _____ में बैठता है, उसे वैसा ही फल मिलता है। बुरे की संगति में 2. _____ मिलता है। अच्छे के साथ रहने से अच्छा परिणाम निकलता है। यदि सज्जन 3. _____ से घिरा रहेगा तो दुर्जनों के अवगुण उस पर अवश्य प्रभाव छोड़ेंगे। जिन मित्रों के साथ हम रहते हैं, उनके 4. _____ से बचना अत्यंत कठिन है। यदि मित्र अच्छे होंगे तो हमें 5. _____ की ओर अग्रसर करेंगे।

SubQuestion No : 20

Q.20 रिक्त स्थान 5 की पूर्ति के लिए सबसे उपयुक्त विकल्प का चयन करें।

- Ans
- 1. चालाकी
 - 2. तीव्र
 - 3. अच्छाई
 - 4. बुराई

Question ID : 264330110871

Status : Answered

Chosen Option : 3