

Constable GD in CAPFs SSF Rifleman GD in Assam Rifles and Sepoy in NCB Examination 2022

Roll Number	www.govtjobsalert.in
Candidate Name	www.govtjobsalert.in
Venue Name	ION DIGITAL ZONE IDZ TUPUDANA
Exam Date	17/01/2023
Exam Time	11:45 AM - 12:45 PM
Subject	Constable GD Examination 2022

Section : Part-A-General Intelligence and Reasoning

Q.1 विकल्पों में दिए गए गणितीय चिह्नों का कौन सा संयोजन निम्न समीकरण में * चिह्नों के स्थान पर क्रमिक रूप से आकर समीकरण को संतुलित करेगा?
 $200 * 2 * 10 * 8 * 40 * 20$

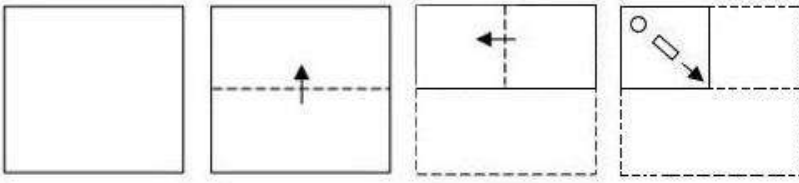
- Ans
- 1. $\times, =, \div, +, -$
 - 2. $\times, +, =, \div, -$
 - 3. $\div, =, \times, +, -$
 - 4. $-, +, \div, =, \times$

Question ID : 26433094997

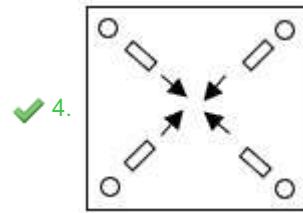
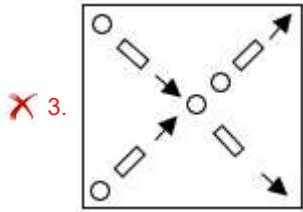
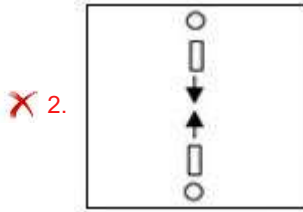
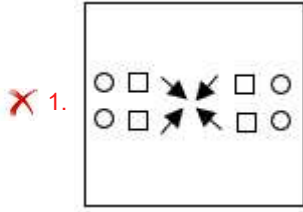
Status : Answered

Chosen Option : 3

Q.2 एक कागज को नीचे दिखाए अनुसार मोड़ा और काटा गया है। कागज की तह खुलने पर यह कैसा दिखाई देगा?



Ans



Question ID : 26433090958

Status : Answered

Chosen Option : 4

Q.3 'A + B' का अर्थ है 'A, B की पुत्री है'
 'A - B' का अर्थ है 'A, B का पति है'
 'A × B' का अर्थ है 'A, B की माता है'
 'A ÷ B' का अर्थ है 'A, B का भाई है'
 यदि $D + E + F - G \times H \div I - J$ है, तो निम्न में से कौन सा कथन सही नहीं है?

- Ans
- ✓ 1. D, I की बहन है
 - ✗ 2. E, I की बहन है
 - ✗ 3. E, H की बहन है
 - ✗ 4. E, G की पुत्री है

Question ID : 26433090049

Status : Not Answered

Chosen Option : --

Q.4 निम्नलिखित में से कौन-सी संख्या दी गई श्रृंखला में प्रश्न चिह्न (?) के स्थान पर आएगी?
1, 4, 27, ?, 3125

- Ans 1. 128
 2. 256
 3. 64
 4. 1024

Question ID : 26433085704
Status : Answered
Chosen Option : 2

Q.5 उस विकल्प का चयन कीजिए जो तीसरी संख्या से उसी प्रकार संबंधित है जिस प्रकार दूसरी संख्या पहली संख्या से संबंधित है और छठी संख्या पांचवीं संख्या से संबंधित है।
4 : 74 :: 6 : ? :: 7 : 353

- Ans 1. 450
 2. 226
 3. 256
 4. 216

Question ID : 26433078850
Status : Answered
Chosen Option : 2

Q.6 निम्नलिखित में से कौन सी संख्या दी गई श्रृंखला में प्रश्न चिह्न (?) के स्थान पर आएगी?
5, 8, ?, 23, 35, 50, 68

- Ans 1. 10
 2. 14
 3. 16
 4. 12

Question ID : 26433090065
Status : Answered
Chosen Option : 2

Q.7 उस विकल्प का चयन करें जो तीसरे शब्द से उसी प्रकार संबंधित है जिस प्रकार दूसरा शब्द पहले शब्द से संबंधित है।
महाराष्ट्र : मुंबई :: पश्चिम बंगाल : ?
(शब्दों को अर्थपूर्ण शब्दों के रूप में मानना है, और उन्हें शब्द में अक्षरों/व्यंजनों/स्वरों की संख्या के आधार पर एक-दूसरे से संबंधित नहीं करना है।)

- Ans 1. बिहार
 2. पंजाब
 3. कोलकाता
 4. भोपाल

Question ID : 26433087199
Status : Answered
Chosen Option : 3

Q.8 एक निश्चित कूट भाषा में, 'NATION' को 'MZGRLM' के रूप में लिखा जाता है और 'PRINTS' को 'KIRMGH' के रूप में लिखा जाता है। उसी भाषा में 'BOTTLE' को कैसे लिखा जाएगा?

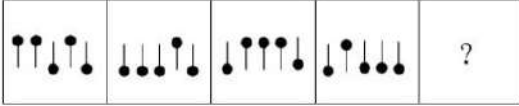
- Ans
- 1. OVGGYL
 - 2. YLGGOV
 - 3. YGGLOV
 - 4. OYGGLV

Question ID : 26433070330

Status : Answered

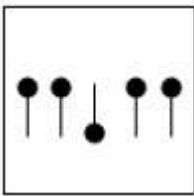
Chosen Option : 2

Q.9 दिए गए विकल्पों में से उस आकृति का चयन करें, जो निम्नलिखित श्रृंखला में प्रश्नचिह्न (?) को प्रतिस्थापित करेगी।

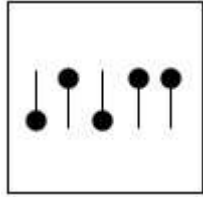


Ans

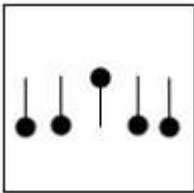
1.




2.



3.



4.



Question ID : 26433086244

Status : Not Answered

Chosen Option : --

Q.10 उस विकल्प का चयन कीजिए जो तीसरे शब्द से उसी प्रकार संबंधित है जिस प्रकार दूसरा शब्द पहले शब्द से संबंधित है। (शब्दों को अर्थपूर्ण शब्दों के रूप में मानना है और उन्हें शब्द में अक्षरों/व्यंजनों/स्वरों की संख्या के आधार पर एक-दूसरे से संबंधित नहीं करना है।)
चिकित्सक : अस्पताल :: खगोल विज्ञानी : ?

- Ans
- 1. पानी का जहाज
 - 2. पेशा
 - 3. शोरूम
 - 4. वेधशाला

Question ID : 26433068056

Status : Answered

Chosen Option : 4

Q.11 तीन कथनों के बाद तीन निष्कर्ष I, II और III दिए गए हैं। यह मानते हुए कि कथनों में दी गयी जानकारी सही है, भले ही वह सामान्य रूप से ज्ञात तथ्यों से भिन्न लगे, निर्णय करें कि दिया गया कौन-सा/से निष्कर्ष तार्किक रूप से कथनों का अनुसरण करता है/करते हैं?

कथन:

सभी गाय स्तनधारी हैं।

सभी गधे स्तनधारी हैं।

सभी स्तनधारी जानवर हैं।

निष्कर्ष:

I. सभी गधे जानवर हैं।

II. सभी जानवर गधे हैं।

III. कुछ गाय गधे हैं।

- Ans
- 1. केवल निष्कर्ष I और II अनुसरण करते हैं
 - 2. केवल निष्कर्ष II और III अनुसरण करते हैं
 - 3. सभी निष्कर्ष अनुसरण करते हैं
 - 4. केवल निष्कर्ष I अनुसरण करता है

Question ID : 26433091716

Status : Answered

Chosen Option : 4

Q.12 कौन सा विकल्प नीचे दिए गए शब्दों के उस क्रम को निरूपित करता है जिस क्रम में वे अंग्रेजी शब्दकोश में आते हैं?

1. FLOWER
2. FLETCHER
3. FLORIST
4. FILTER
5. FLEUR

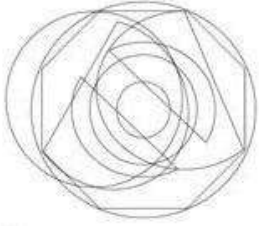
- Ans
- 1. 4, 2, 5, 3, 1
 - 2. 2, 4, 3, 5, 1
 - 3. 4, 5, 2, 3, 1
 - 4. 2, 4, 5, 3, 1

Question ID : 26433092547

Status : Answered


Chosen Option : 1

Q.13 उस विकल्प आकृति का चयन करें जो नीचे दी गई आकृति में अंतर्निहित है।
(आकृति घुमाने की अनुमति नहीं है)




Ans


✓ 1.



✗ 2.



✗ 3.



✗ 4.



Question ID : 26433085751

Status : Answered

Chosen Option : 1

Q.14 एक निश्चित कूट भाषा में 'TEACHER' शब्द को 'RCYAFCP' लिखा जाता है। 'SCHOOL' शब्द को 'QAFMMJ' लिखा जाता है। उसी भाषा में 'SUBJECT' शब्द को कैसे लिखा जाएगा?

- Ans
- 1. TVCKFDU
 - 2. QSZHCAR
 - 3. UWDLGEV
 - 4. RTAIDBS

Question ID : 26433090112

Status : Answered

Chosen Option : 2

Q.15 सात व्यक्ति P, Q, R, S, T, U और V एक दूसरे के बगल में एक सीधी पंक्ति में उत्तर की ओर मुख करके बैठे हैं (किंतु उनका इसी क्रम में होना अनिवार्य नहीं है)। U, V के बाईं ओर ठीक बगल में बैठा है। R, V के बाईं ओर पांचवें स्थान पर बैठा है। R, P और T के ठीक बगल में बैठा है। S, R के दाईं ओर तीसरे स्थान पर बैठा है।

Q के दाईं ओर ठीक बगल में कौन बैठा है?

- Ans
- 1. U
 - 2. T
 - 3. S
 - 4. V

Question ID : 26433080707

Status : Answered

Chosen Option : 3

Q.16 कौन-सा अक्षर-समूह दी गई श्रृंखला में प्रश्नचिह्न (?) के स्थान पर आकर श्रृंखला को पूर्ण करेगा?
EMRT, ?, IGVN, KDXK, MAZH

- Ans
- 1. HIUV
 - 2. IITP
 - 3. HKSR
 - 4. GJTQ

Question ID : 26433080423

Status : Answered

Chosen Option : 4

Q.17 निम्नलिखित में से कौन-सा पद दी गई श्रृंखला में प्रश्न-चिह्न (?) के स्थान पर आएगा?
SDR, XHU, CLX, ?, MTD, RXG

- Ans
- 1. HPA
 - 2. GQZ
 - 3. HQZ
 - 4. GPA

Question ID : 26433069457

Status : Answered

Chosen Option : 1

Q.18

दी गई आकृति की सही दर्पण-प्रतिबिंब का चयन करें, जब दर्पण को MN पर रखा जाता है, जैसा कि नीचे दिखाया गया है।



Ans

- ✗ 1. M f O R r Γ P
- ✗ 2. W f O R r Γ P
- ✓ 3. W f O R r Γ P
- ✗ 4. M f O R r 7 P

Question ID : 26433090150

Status : Answered

Chosen Option : 3

Q.19 आठ व्यक्ति - D, E, G, H, K, L, S और T एक सीधी पंक्ति में उत्तर की ओर मुख करके बैठे हैं। E पंक्ति के बाएं सिरे से दूसरे स्थान पर बैठा है। H और E के बीच कोई नहीं बैठा है। G, H के दाईं ओर चौथे स्थान पर बैठा है। K, G के बाईं ओर ठीक बगल में बैठा है। K और D के बीच केवल दो व्यक्ति बैठे हैं। L, S के दाईं ओर तीसरे स्थान पर बैठा है। S और T के बीच कितने व्यक्ति बैठे हैं?

- Ans ✓ 1. तीन से अधिक
- ✗ 2. तीन
- ✗ 3. एक
- ✗ 4. कोई भी नहीं

Question ID : 26433092757

Status : Answered

Chosen Option : 2

Q.20 नीचे दिए गए समीकरण को गणितीय रूप से सही बनाने के लिए किन दो चिन्हों को परस्पर बदलना चाहिए?

$$63 + 5 \div 35 - 7 \times 21 = 23$$

- Ans ✗ 1. + और ×
- ✓ 2. × और +
- ✗ 3. + और +
- ✗ 4. + और -

Question ID : 264330117568

Status : Not Answered

Chosen Option : --

Q.1 डेकाथलॉन में कितनी स्पर्धाएं (events) होती हैं?

- Ans
- 1. 12
 - 2. 10
 - 3. 8
 - 4. 9

Question ID : 26433092335
Status : Not Answered
Chosen Option : --

Q.2 भारतीय संविधान के अनुच्छेद 25 से 28 _____ से संबंधित हैं।

- Ans
- 1. संवैधानिक उपचार के अधिकार
 - 2. सांस्कृतिक और शैक्षणिक अधिकार
 - 3. धर्म की स्वतंत्रता के अधिकार
 - 4. शोषण के विरुद्ध अधिकार

Question ID : 26433090670
Status : Not Answered
Chosen Option : --

Q.3 नवंबर 2022 तक की स्थिति के अनुसार, बसवराज बोम्मई भारत के _____ राज्य के मुख्यमंत्री हैं।

- Ans
- 1. केरल
 - 2. तेलंगाना
 - 3. तमिलनाडु
 - 4. कर्नाटक

Question ID : 264330114891
Status : Not Answered
Chosen Option : --

Q.4 प्रति व्यक्ति आय उस देश के एक व्यक्ति द्वारा अर्जित औसत _____ को निरूपित करता है।

- Ans
- 1. आय
 - 2. ऋण
 - 3. पूंजी
 - 4. देयता

Question ID : 264330115355
Status : Answered
Chosen Option : 1

Q.5 निम्नलिखित में से कौन-सी, भारतीय रेलवे ट्रेक की एक श्रेणी नहीं है?

- Ans
- 1. ब्रॉड गेज
 - 2. फुट गेज
 - 3. मीटर गेज
 - 4. नैरो गेज

Question ID : 264330115602

Status : Answered

Chosen Option : 2

Q.6 निम्नलिखित में से कौन सा त्योहार उत्तर प्रदेश में नहीं मनाया जाता है?

- Ans
- 1. ताज महोत्सव
 - 2. नुआखाई
 - 3. गंगा महोत्सव
 - 4. बुद्ध महोत्सव

Question ID : 264330106221

Status : Answered

Chosen Option : 2

Q.7 फरवरी 2022 में मुंबई के मालाबार हिल में राजभवन में नए दरबार हॉल का उद्घाटन किसने किया?

- Ans
- 1. श्री उद्धव ठाकरे
 - 2. श्री राम नाथ कोविंद
 - 3. श्री अमित शाह
 - 4. श्री नरेंद्र मोदी

Question ID : 26433081827

Status : Not Answered

Chosen Option : --

Q.8 जल का वैद्युत अपघटन _____ का एक उदाहरण है।

- Ans
- 1. द्विविस्थापन अभिक्रिया
 - 2. वियोजन अभिक्रिया
 - 3. विस्थापन अभिक्रिया
 - 4. संयोजन अभिक्रिया

Question ID : 264330115268

Status : Answered

Chosen Option : 3

Q.9 निम्नलिखित में से किस तरल का पृष्ठ तनाव सबसे अधिक होता है?

- Ans
- 1. एथेन
 - 2. मेथेनॉल
 - 3. एथेनॉल
 - 4. जल

Question ID : 26433089651

Status : Answered

Chosen Option : 3

Q.10 विश्व के जल संसाधनों में भारत का अंश कितना है?

- Ans
- 1. 8%
 - 2. 15%
 - 3. 10%
 - 4. 4%

Question ID : 26433092217

Status : Answered

Chosen Option : 4

Q.11 क्रिकेट में, जब नियम के अनुसार फेंकी गई गेंद, बल्ले या बल्लेबाज को छुए बिना बल्लेबाज के पास से गुजर जाती है और उस गेंद पर रन बनते हैं, तो वे रन ____ के रूप में माने जाते हैं।

- Ans
- 1. एलबीडब्ल्यू
 - 2. बाई
 - 3. लेग बाई
 - 4. वाइड बॉल

Question ID : 26433096230

Status : Answered

Chosen Option : 4

Q.12 Unemployment is measured in India on the methods prescribed by the:

- Ans
- 1. National Employment Department
 - 2. Reserve Bank of India
 - 3. National Sample Survey Organisation
 - 4. National Stock Exchange

Question ID : 26433092892

Status : Answered

Chosen Option : 1

Q.13 निम्नलिखित में से किसे मोहिनीअट्टम में उनके व्यापक योगदान के लिए पद्म श्री से सम्मानित किया गया है?

- Ans
- 1. कनक रेले
 - 2. के पी किट्टप्पा पिल्लई
 - 3. महबूब सुभानी
 - 4. सुचित्रा एला

Question ID : 264330115897
Status : Not Answered
Chosen Option : --

Q.14 सितारा देवी निम्नलिखित में से किस शास्त्रीय नृत्य के लिए प्रसिद्ध थीं?

- Ans
- 1. कथकली
 - 2. भरतनाट्यम
 - 3. कथक
 - 4. मणिपुरी

Question ID : 26433074077
Status : Not Answered
Chosen Option : --

Q.15 निम्नलिखित में से कौन जून 2022 में आजमगढ़ निर्वाचन क्षेत्र, उत्तर प्रदेश से धर्मेन्द्र यादव को पराजित करके सांसद बना?

- Ans
- 1. यशवंत सिंह
 - 2. दिनेश लाल यादव
 - 3. घनश्याम सिंह लोधी
 - 4. अखिलेश यादव

Question ID : 264330114975
Status : Not Answered
Chosen Option : --

Q.16 आंध्र प्रदेश में, राज्य व्यापार सलाहकार समिति के अध्यक्ष कौन होते हैं?

- Ans
- 1. राज्य के मुख्यमंत्री
 - 2. राज्य के वित्त मंत्री
 - 3. राज्य के राज्यपाल
 - 4. राज्य विधानमंडल के अध्यक्ष

Question ID : 26433090680
Status : Not Answered
Chosen Option : --

Q.17 भारत में, औपनिवेशिक शासन के दौरान कृषि में ठहराव को _____ द्वारा स्थायी रूप से समाप्त कर दिया गया था।

- Ans
- 1. औद्योगिक लाइसेंसिंग
 - 2. हरित क्रांति
 - 3. पुरानी फसल तकनीक
 - 4. ऋण सुविधा

Question ID : 26433064869
Status : Not Answered
Chosen Option : --

Q.18 निम्नलिखित में से किस शासक ने शुंग वंश की स्थापना की थी?

- Ans
- 1. वज्रमित्र
 - 2. अग्निमित्र
 - 3. पुष्यमित्र
 - 4. वसुमित्र

Question ID : 26433099154
Status : Answered
Chosen Option : 3

Q.19 कृषि उपज का वह हिस्सा जो किसानों द्वारा बाजार में बेचा जाता है, _____ अधिशेष कहलाता है।

- Ans
- 1. संशोधित
 - 2. संतुलित
 - 3. आयातित
 - 4. बाजार

Question ID : 264330115437
Status : Not Answered
Chosen Option : --

Q.20 फ़रवरी _____ में, महात्मा गांधी ने असहयोग आंदोलन को वापस लेने का फैसला किया।

- Ans
- 1. 1924
 - 2. 1925
 - 3. 1922
 - 4. 1927

Question ID : 26433089902
Status : Answered
Chosen Option : 3

Q.1 40 लीटर मिश्रण में 10% एल्कोहल और शेष जल है। यदि इसमें 4 लीटर पानी मिला दिया जाए, तो नए मिश्रण में एल्कोहल का प्रतिशत _____ होगा।

- Ans
- ✓ 1. $9\frac{1}{11}\%$
 - ✗ 2. $11\frac{1}{9}\%$
 - ✗ 3. $11\frac{1}{11}\%$
 - ✗ 4. $9\frac{2}{11}\%$

Question ID : 26433080367

Status : Answered

Chosen Option : 1

Q.2 एक पुलिसकर्मी 600 मीटर की दूरी से किसी चोर का पीछा करना प्रारंभ करता है। पुलिसकर्मी और चोर की चाल क्रमशः 12 km/h और 10 km/h है। चोर कितनी देर में पकड़ लिया जाएगा?

- Ans
- ✗ 1. 16 min
 - ✗ 2. 15 min
 - ✗ 3. 17 min
 - ✓ 4. 18 min

Question ID : 26433080196

Status : Not Answered

Chosen Option : --

Q.3 A और B एक काम को क्रमशः 18 दिन और 27 दिन में पूरा कर सकते हैं। वे एक साथ मिलकर काम करना शुरू करते हैं और 8 दिनों के बाद, A काम छोड़ देता है। शेष काम को B कितने दिनों में पूरा करेगा?

- Ans
- ✗ 1. 9
 - ✓ 2. 7
 - ✗ 3. 8
 - ✗ 4. 5

Question ID : 26433081072

Status : Answered

Chosen Option : 2

Q.4 यदि एक बेलन की त्रिज्या और ऊंचाई का अनुपात 3 : 2 है और त्रिज्या 21 cm है, तो वक्र पृष्ठीय क्षेत्रफल (cm^2 में) ज्ञात करें। ($\pi = 22/7$ का उपयोग करें)

- Ans
- ✓ 1. 1848
 - ✗ 2. 1488
 - ✗ 3. 1948
 - ✗ 4. 1884

Question ID : 26433075822

Status : Answered

Chosen Option : 1

Q.5 एक बेलनकार बर्तन की त्रिज्या 50% बढ़ा दी जाती है और ऊँचाई 50% कम कर दी जाती है। इसके आयतन में कितना परिवर्तन होगा?

- Ans
- ✓ 1. 12.5% की वृद्धि
 - ✗ 2. कोई परिवर्तन नहीं
 - ✗ 3. 12.5% की कमी
 - ✗ 4. 8% की वृद्धि

Question ID : 26433091904

Status : Answered

Chosen Option : 3

Q.6 एक दुकानदार शर्ट को ₹800 प्रति शर्ट के मूल्य पर बेचता है। वह पूर्ण भुगतान को नकद में करने वाले सभी ग्राहकों को 10% की छूट देता है, और एक बार में 10 शर्ट खरीदने वाले ग्राहकों को दो शर्ट मुफ्त देता है। यदि कोई ग्राहक दोनों प्रकार की छूटों को लेना चाहता है, तो वह किस शुद्ध प्रभावी छूट का लाभ उठा सकता है?(दुकानदार 10 शर्टों के लिए पैसे लेता है लेकिन उतने ही मूल्य में दो अतिरिक्त शर्ट देता है) यह केवल स्पष्टता के लिए है न कि प्रश्न के भाग के रूप में। प्रश्न की भाषा सही है।

- Ans
- ✓ 1. 25%
 - ✗ 2. 12.5%
 - ✗ 3. 15%
 - ✗ 4. 10%

Question ID : 26433092144

Status : Not Answered

Chosen Option : --

Q.7 एक वस्तु की कीमत में 8% की कमी हुई और फिर 12% की वृद्धि हुई। कीमत में लगभग प्रभावी परिवर्तन प्रतिशत कितना है?

- Ans
- ✗ 1. 3.5%
 - ✓ 2. 3%
 - ✗ 3. 16.67%
 - ✗ 4. 4%

Question ID : 26433085434

Status : Answered

Chosen Option : 2

Q.8 एक पेन का क्रय मूल्य ₹121.5 है और इसका अंकित मूल्य ₹150 है। कोई लाभ या हानि न होने के लिए अंकित मूल्य पर दो समान क्रमिक प्रतिशत छूट कितनी होनी चाहिए?

- Ans
- 1. 15%
 - 2. 11.56%
 - 3. 10%
 - 4. 12.56%

Question ID : 26433081711

Status : Not Answered

Chosen Option : --

Q.9 14 पुरुष 5 दिन में 55 m लंबी दीवार बना सकते हैं। 21 पुरुष 4 दिन में वह दीवार कितनी लंबी बना सकते हैं?

- Ans
- 1. 58 m
 - 2. 60 m
 - 3. 62 m
 - 4. 66 m

Question ID : 26433082396

Status : Answered

Chosen Option : 4

Q.10 R समान कीमत पर दो कारें खरीदता है। वह एक कार को 12% के लाभ पर और दूसरी कार को 8% की हानि पर बेचता है। उसके लाभ या हानि का कुल प्रतिशत ज्ञात करें।

- Ans
- 1. 2% हानि
 - 2. 4% हानि
 - 3. 2% लाभ
 - 4. 4% लाभ

Question ID : 26433081708

Status : Answered

Chosen Option : 2

Q.11 60 ग्राम की मिश्रधातु में सोने और तांबे का अनुपात 2 : 1 है। अनुपात को 1 : 2 बनाने के लिए उसमें और कितना तांबा मिलाया जाना चाहिए?

- Ans
- 1. 40 ग्राम
 - 2. 80 ग्राम
 - 3. 60 ग्राम
 - 4. 54 ग्राम

Question ID : 26433091898

Status : Answered

Chosen Option : 1

Q.12 यदि एक गोले का पृष्ठीय क्षेत्रफल $30,184 \text{ cm}^2$ है, तो उसका आयतन ज्ञात कीजिए ($\pi = \frac{22}{7}$ का प्रयोग कीजिए)।

- Ans
- 1. $\frac{616}{3} \times (49)^3 \text{ cm}^3$
 - 2. $\frac{616}{3} \times (49) \text{ cm}^3$
 - 3. $\frac{616}{3} \times (49)^2 \text{ cm}^3$
 - 4. $\frac{620}{3} \times (49)^2 \text{ cm}^3$

Question ID : 26433083058

Status : Answered

Chosen Option : 3

Q.13 एक दुकानदार को Rs.120 प्रति kg और Rs.130 प्रति kg मूल्य की चाय की दो किस्मों को किस अनुपात में मिलाना चाहिए, ताकि मिश्रण को Rs.136.40 प्रति kg पर बेचने पर उसे 10% का लाभ हो सके?

- Ans
- 1. 3 : 4
 - 2. 2 : 5
 - 3. 1 : 2
 - 4. 3 : 2

Question ID : 26433082708

Status : Answered

Chosen Option : 4

Q.14 एक कार्य को, A और B मिलकर 12 दिनों में, B और C मिलकर 15 दिनों में और C और A मिलकर 20 दिनों में पूरा कर सकते हैं। यदि वे सभी एक साथ कार्य करते हैं, तो वे कितने दिनों में कार्य समाप्त कर सकते हैं?

- Ans
- 1. 9
 - 2. 13
 - 3. 12
 - 4. 10

Question ID : 26433090264

Status : Answered

Chosen Option : 4

Q.15 3,12, 24 और 36 से विभाज्य तीन अंकों की सबसे बड़ी संख्या ज्ञात कीजिए।

Ans 1. 984

2. 936

3. 900

4. 924

Question ID : 26433091514

Status : Answered

Chosen Option : 2

Q.16 यदि $42 \div 2 + m \times 3 - 22 \div 11 + 3 = 28$ है, तो m का मान ज्ञात कीजिए।

Ans 1. 0

2. 3

3. 1

4. 2

Question ID : 26433087333

Status : Answered

Chosen Option : 4

Q.17 7 km/h की चाल से दौड़ रहे चोर का एक पुलिसकर्मी पीछा करता है, जिसकी चाल 8 km/h है। यदि चोर पुलिसकर्मी से 85 m आगे है, तो चोर को पकड़ने में पुलिसकर्मी को कितना समय लगेगा?

Ans 1. 6.2 मिनट

2. 5.1 मिनट

3. 3.2 मिनट

4. 4.3 मिनट

Question ID : 26433080132

Status : Not Answered

Chosen Option : --

Q.18 अब्दुल ने कुछ वर्षों के बाद एक बैंक को ₹5,832 का भुगतान किया। उसने 8% वार्षिक की दर से ₹5,000 का ऋण लिया था, जिसे वार्षिक रूप से चक्रवृद्धि किया जाना था। समय (वर्षों में) ज्ञात कीजिए।

Ans 1. 2

2. 3

3. 4

4. 5

Question ID : 26433091557

Status : Marked For Review

Chosen Option : 1

Q.19 यदि ₹22,445 के एक मूलधन को 30% वार्षिक की दर से दो वर्षों के लिए जमा किया गया है तथा ब्याज का संयोजन वार्षिक रूप से चक्रवृद्धि किया गया है, तो मिश्रधन (लगभग) क्या होगा ?

- Ans
- 1. ₹39,337
 - 2. ₹37,933
 - 3. ₹39,733
 - 4. ₹37,339

Question ID : 26433092028

Status : Answered

Chosen Option : 2

Q.20 किराना सामग्री का $\frac{1}{3}$ भाग 18% लाभ पर बेचा जाता है, $\frac{1}{4}$ भाग 25% लाभ पर और शेष को 30% लाभ बेचा जाता है। यदि कुल लाभ ₹1,980 हो, तो किराना सामग्री का अभीष्ट मूल्य ज्ञात कीजिए।

- Ans
- 1. ₹8,500
 - 2. ₹8,000
 - 3. ₹8,200
 - 4. ₹8,400

Question ID : 26433080169

Status : Not Attempted and Marked For Review

Chosen Option : --

Section : Part-D-English

Q.1 Select the appropriate idiom that can replace the underlined word/phrase in the following sentence.

Grandmother revealed the secret.

- Ans
- 1. let the chance slip by
 - 2. let things slide
 - 3. let the chips fall where they may
 - 4. let the cat out of the bag

Question ID : 26433073280

Status : Not Answered

Chosen Option : --

Q.2 Select the most appropriate option that can substitute the underlined segment in the given sentence. If there is no need to substitute it, select 'No substitution'.

She was embarrassed because her friends were laughing on her.

- Ans
- 1. her friends were laughing upon her
 - 2. her friends were laughing at her
 - 3. No substitution
 - 4. her friends were laughing to her

Question ID : 26433092940

Status : Not Answered

Chosen Option : --

Q.3 Select the most appropriate option that can substitute the underlined segment in the given sentence.

The principal went a step farther to declare 12th June as a holiday for the entire group of schools.

- Ans
- 1. went a step further more
 - 2. went a step further
 - 3. went a step farther more
 - 4. goes a step farther

Question ID : 26433091770

Status : Not Answered

Chosen Option : --

Q.4 Which of the following options is most similar in meaning to the given word?
Magnificent

- Ans
- 1. Grand
 - 2. Evil
 - 3. Capable
 - 4. Enlarge

Question ID : 26433088812

Status : Not Answered

Chosen Option : --

Q.5 Select the most appropriate homonym to fill in the blank.

In order to keep _____ I jog for 45 minutes daily.

- Ans
- 1. feet
 - 2. fit
 - 3. feat
 - 4. fitt

Question ID : 26433094734

Status : Not Answered

Chosen Option : --

Q.6 Select the most appropriate ANTONYM of the word given in brackets to fill in the blank.

The employer is too _____ (generous) to give a bonus to the employees.

- Ans
- 1. caring
 - 2. kind
 - 3. cripple
 - 4. stingy

Question ID : 26433070460
Status : Not Answered
Chosen Option : --

Q.7 Select the most appropriate synonym of the word given below to fill in the blank in the following sentence.

Static
Society is not a/an _____ but a dynamic entity.

- Ans
- 1. inert
 - 2. independent
 - 3. capable
 - 4. variable

Question ID : 26433093262
Status : Not Answered
Chosen Option : --

Q.8 Select the most appropriate synonym of the underlined word.

All his attempts to save the wounded animal turned out to be futile.

- Ans
- 1. Foresightful
 - 2. Mirthful
 - 3. Unsuccessful
 - 4. Worthwhile

Question ID : 26433089060
Status : Not Answered
Chosen Option : --

Q.9 Select the most appropriate option to substitute the underline segment in the given sentence.

Ever since that leak of private emails, everything the CEO has done has been viewed with suspicion.

- Ans
- 1. under a cloud
 - 2. under water
 - 3. under wood
 - 4. under soil

Question ID : 264330103756
Status : Not Answered
Chosen Option : --

Q.10 Select the most appropriate antonym of the bracketed word to fill in the blank.

The land near arid regions is not _____ (barren) enough for growing crops or any kind of vegetation.

- Ans
- 1. fertile
 - 2. devoid
 - 3. arid
 - 4. stark

Question ID : 26433060716

Status : Not Answered

Chosen Option : --

Q.11 Select the most appropriate option that can substitute the underlined segment in the given sentence. If there is no need to substitute it, select 'No substitution'.

Although my friends begged me, I chose not to go for the reunion.

- Ans
- 1. I choose no to go for the reunion.
 - 2. No substitution
 - 3. I have chose not to go for the reunion.
 - 4. I chose not to go to the reunion.

Question ID : 264330103767

Status : Not Answered

Chosen Option : --

Q.12 Which of the following sentences is an example of present progressive tense?

- Ans
- 1. Why has he delayed the work?
 - 2. Why is he crying like that?
 - 3. Why were you worried about that?
 - 4. Why had he been staying in Delhi for such a long time?

Question ID : 264330108883

Status : Not Answered

Chosen Option : --

Q.13 Identify and correct the INCORRECTLY spelt word in the given sentence.

Many people were enduring mental agony and health issues with the change in lifestyle.

- Ans
- 1. enduring
 - 2. agouny
 - 3. heaolth
 - 4. mentel

Question ID : 26433092319

Status : Not Answered

Chosen Option : --

Q.14 Choose the sentence that contains correct spellings.

- Ans 1. The sage said that life is nothing but a journey of compromises.
 2. The sage said that life is nothing but a journey of comprimises.
 3. The sage said that life is nothing but a journey of comprommizes.
 4. The sage said that life is nothing but a journey of compormises.

Question ID : 26433086499

Status : Not Answered

Chosen Option : --

Q.15 Select the most appropriate synonym of the given word.

Titan

- Ans 1. Midget
 2. Predator
 3. Giant
 4. Puny

Question ID : 26433072096

Status : Not Answered

Chosen Option : --

Comprehension:

In the following passage, some words have been deleted. Read the passage carefully and select the most appropriate option to fill in each blank.

One of the greatest (1)_____ to textiles is light. It is a form of energy that can fade colour and cause chemical and physical (2)_____ of textile fibres. Exposure to both, natural and ultra violet light can threaten the (3)_____ of textiles. Light damage occurs progressively. You must have noticed at home that the most faded folds of curtains are the first to (4)_____ and fall apart. Fading of colours and alterations of hues are the (5)_____ easy-to-detect signs of light damage.

SubQuestion No : 16

Q.16 Select the most appropriate option to fill in blank number 1.

- Ans 1. threats
 2. beauties
 3. additions
 4. warnings

Question ID : 26433098989

Status : Not Answered

Chosen Option : --

Comprehension:

In the following passage, some words have been deleted. Read the passage carefully and select the most appropriate option to fill in each blank.

One of the greatest (1)_____ to textiles is light. It is a form of energy that can fade colour and cause chemical and physical (2)_____ of textile fibres. Exposure to both, natural and ultra violet light can threaten the (3)_____ of textiles. Light damage occurs progressively. You must have noticed at home that the most faded folds of curtains are the first to (4) _____ and fall apart. Fading of colours and alterations of hues are the (5)_____ easy-to-detect signs of light damage.

SubQuestion No : 17

Q.17 Select the most appropriate option to fill in blank number 2.

- Ans** 1. degradation
 2. embarrassment
 3. mortification
 4. disgrace

Question ID : 26433098990

Status : Not Answered

Chosen Option : --

Comprehension:

In the following passage, some words have been deleted. Read the passage carefully and select the most appropriate option to fill in each blank.

One of the greatest (1)_____ to textiles is light. It is a form of energy that can fade colour and cause chemical and physical (2)_____ of textile fibres. Exposure to both, natural and ultra violet light can threaten the (3)_____ of textiles. Light damage occurs progressively. You must have noticed at home that the most faded folds of curtains are the first to (4) _____ and fall apart. Fading of colours and alterations of hues are the (5)_____ easy-to-detect signs of light damage.

SubQuestion No : 18

Q.18 Select the most appropriate option to fill in blank number 3.

- Ans** 1. seniority
 2. longevity
 3. oldness
 4. dexterity

Question ID : 26433098991

Status : Not Answered

Chosen Option : --

Comprehension:

In the following passage, some words have been deleted. Read the passage carefully and select the most appropriate option to fill in each blank.

One of the greatest (1)_____ to textiles is light. It is a form of energy that can fade colour and cause chemical and physical (2)_____ of textile fibres. Exposure to both, natural and ultra violet light can threaten the (3)_____ of textiles. Light damage occurs progressively. You must have noticed at home that the most faded folds of curtains are the first to (4) _____ and fall apart. Fading of colours and alterations of hues are the (5)_____ easy-to-detect signs of light damage.

SubQuestion No : 19

Q.19 Select the most appropriate option to fill in blank number 4.

- Ans 1. shred
 2. distill
 3. desolate
 4. irate

Question ID : 26433098992

Status : Not Answered

Chosen Option : --

Comprehension:

In the following passage, some words have been deleted. Read the passage carefully and select the most appropriate option to fill in each blank.

One of the greatest (1)_____ to textiles is light. It is a form of energy that can fade colour and cause chemical and physical (2)_____ of textile fibres. Exposure to both, natural and ultra violet light can threaten the (3)_____ of textiles. Light damage occurs progressively. You must have noticed at home that the most faded folds of curtains are the first to (4) _____ and fall apart. Fading of colours and alterations of hues are the (5)_____ easy-to-detect signs of light damage.

SubQuestion No : 20

Q.20 Select the most appropriate option to fill in blank number 5.

- Ans 1. prompt
 2. premature
 3. former
 4. earliest

Question ID : 26433098993

Status : Not Answered

Chosen Option : --

Section : Part-D-Hindi

Q.1 ' _____ घोड़े पर सवार होना।'
उपरोक्त मुहावरे में रिक्त स्थान की पूर्ति उचित शब्द द्वारा कीजिए।

- Ans 1. पानी के
 2. तेजी के
 3. हवा के
 4. बातों के

Question ID : 26433069693

Status : Answered

Chosen Option : 2

Q.2 नीचे दिए गए वाक्य के अशुद्ध भाग का चयन कीजिए।
'रमेश को उस समय मुझसे बेफिजूल की बातें नहीं करनी चाहिए थीं।'

- Ans 1. बेफिजूल की बातें
 2. उस समय मुझसे
 3. रमेश को
 4. नहीं करनी चाहिए थीं।

Question ID : 26433085085
Status : Answered
Chosen Option : 1

Q.3 "चारों ओर रात्रि का घोर अँधेरा छाया था।"
उक्त वाक्य में प्रयुक्त 'घोर' के स्थान पर उसके उचित समानार्थी शब्द का प्रयोग निम्न में से किस वाक्य में किया गया है?

- Ans 1. चारों ओर रात्रि का गहरा अँधेरा छाया था।
 2. चारों ओर रात्रि का घनिष्ठ अँधेरा छाया था।
 3. चारों ओर रात्रि का घमासान अँधेरा छाया था।
 4. चारों ओर रात्रि का भयंकर अँधेरा छाया था।

Question ID : 26433085148
Status : Answered
Chosen Option : 2

Q.4 निम्नलिखित विकल्पों में से प्रश्नवाचक सर्वनाम का कौन सा एक शुद्ध वाक्य नहीं है?

- Ans 1. यह कौन- सी भाषा है?
 2. इस थैले में क्या है?
 3. क्या यह पत्र अपने प्राचार्य को देना है?
 4. द्विवेदी जी का मकान कौनसा है?

Question ID : 26433091238
Status : Not Answered
Chosen Option : --

Q.5 निम्न में से कौन-सा शब्द 'पयोद' शब्द का पर्यायवाची शब्द है?

- Ans 1. जलधर
 2. बारिश
 3. मलीन
 4. सहचर

Question ID : 26433067082
Status : Not Answered
Chosen Option : --

Q.6 'आँखों में _____ माला घिर आना।' उपरोक्त मुहावरे में रिक्त स्थान की पूर्ति उचित शब्द द्वारा कीजिए।

- Ans
- 1. मोती
 - 2. पुष्प
 - 3. मेघ
 - 4. फूल

Question ID : 26433069688

Status : Answered

Chosen Option : 1

Q.7 निम्न में से कौन-सा समूह 'गंगा' शब्द का पर्यायवाची समूह नहीं है?

- Ans
- 1. जाह्नवी, सुरसरि
 - 2. सुरसरि, त्रिपथगा
 - 3. त्रिपथगा, सूर्यजा
 - 4. भागीरथी, सुरसरि

Question ID : 26433067076

Status : Not Answered

Chosen Option : --

Q.8 "नमन का आरोग्य अच्छा है।"

उक्त वाक्य में प्रयुक्त 'आरोग्य' के स्थान पर उसके समानार्थी शब्द का प्रयोग निम्न में से किस वाक्य में नहीं किया गया है?

- Ans
- 1. नमन अस्वस्थ है।
 - 2. नमन तंदुरुस्त है।
 - 3. नमन का स्वास्थ्य अच्छा है।
 - 4. नमन की सेहत अच्छी है।

Question ID : 26433085150

Status : Answered

Chosen Option : 3

Q.9 'दस रुपया में क्या आता है?' इस वाक्य में प्रयुक्त कौन सा शब्द अशुद्ध है?

- Ans
- 1. आता
 - 2. रुपया
 - 3. दस
 - 4. क्या

Question ID : 26433066801

Status : Answered

Chosen Option : 2

Q.10 निम्नलिखित विकल्पों में से कौन सा एक वाक्य संकेतवाचक सर्वनाम का नहीं है?

- Ans
- 1. नदी में पानी नहीं है।
 - 2. ये मेरी पुस्तकें हैं।
 - 3. यह लड़का इस कक्षा का मॉनीटर है।
 - 4. वह आदमी एक विदेशी जासूस है।

Question ID : 26433091242

Status : Answered

Chosen Option : 1

Q.11 निम्नलिखित वाक्य में रेखांकित खंड के स्थान पर प्रयुक्त होने वाले सबसे उपयुक्त विकल्प का चयन कीजिए।

बच्चों को काटकर आम खिलाओ।

- Ans
- 1. काट आम
 - 2. आम काट
 - 3. आम काटकर
 - 4. काटकर

Question ID : 26433079574

Status : Answered

Chosen Option : 3

Q.12 निम्नलिखित में से शुद्ध वाक्य का चयन कीजिए।

- Ans
- 1. सीमा को पांच बहने हैं।
 - 2. सीमा बहनें हैं पांच।
 - 3. सीमा की पांच बहनें हैं।
 - 4. बहनें पांच है सीमा।

Question ID : 26433091311

Status : Answered

Chosen Option : 3

Q.13 'मैं रविवार के दिन तुम्हारे घर आऊंगा।' वाक्य में रेखांकित वाक्य-खंड के स्थान पर उचित वाक्य-खंड या शब्द का प्रयोग करें।

- Ans
- 1. या
 - 2. में
 - 3. के
 - 4. को

Question ID : 26433062199

Status : Answered

Chosen Option : 3

Q.14 'जो इतिहास से संबंध रखता है' वाक्यांश के लिए एक शब्द, _____ है।

- Ans
- 1. खगोलिक
 - 2. इतिहासकार
 - 3. भौगोलिक
 - 4. ऐतिहासिक

Question ID : 26433062943

Status : Answered

Chosen Option : 2

Q.15 निम्नलिखित वाक्यों में से शुद्ध वाक्य का चयन कीजिए।

- Ans
- 1. काम इस में होना देर स्वभाविक था।
 - 2. इस काम में देरी होनी स्वाभाविक थी।
 - 3. इस काम को देर होना स्वभाविक थी।
 - 4. इस काम में देर होनी स्वभाविक था।

Question ID : 26433091313

Status : Answered

Chosen Option : 3

Comprehension:

दिए गए गद्यांश के अनुसार प्रश्न संख्या 1-5 के उत्तर दीजिए।

भारतवर्ष ने कभी भी भौतिक वस्तुओं के (1) _____ को बहुत अधिक महत्त्व नहीं दिया है। उसकी दृष्टि से मनुष्य के भीतर जो महान (2) _____ गुण स्थिर भाव से बैठा हुआ है, वही चरम और परम है। लोभ-मोह, काम-क्रोध आदि विचार मनुष्य में (3) _____ रूप से विद्यमान रहते हैं, पर उन्हें प्रधान शक्ति मान लेना और अपने मन तथा बुद्धि को उन्हीं के इशारे पर छोड़ देना बहुत बुरा (4) _____ है। भारतवर्ष ने कभी भी उन्हें उचित नहीं माना, उन्हें सदा (5) _____ के बंधन से बाँधकर रखने का प्रयत्न किया है।

SubQuestion No : 16

Q.16 दिए गए शब्दों में से उचित शब्द चुनकर रिक्त स्थान (1) की पूर्ति कीजिए।

- Ans
- 1. संग्रह
 - 2. प्रयोग
 - 3. विग्रह
 - 4. लाभ

Question ID : 26433094115

Status : Answered

Chosen Option : 2

Comprehension:

दिए गए गद्यांश के अनुसार प्रश्न संख्या 1-5 के उत्तर दीजिए।

भारतवर्ष ने कभी भी भौतिक वस्तुओं के (1) _____ को बहुत अधिक महत्त्व नहीं दिया है। उसकी दृष्टि से मनुष्य के भीतर जो महान (2) _____ गुण स्थिर भाव से बैठा हुआ है, वही चरम और परम है। लोभ-मोह, काम-क्रोध आदि विचार मनुष्य में (3) _____ रूप से विद्यमान रहते हैं, पर उन्हें प्रधान शक्ति मान लेना और अपने मन तथा बुद्धि को उन्हीं के इशारे पर छोड़ देना बहुत बुरा (4) _____ है। भारतवर्ष ने कभी भी उन्हें उचित नहीं माना, उन्हें सदा (5) _____ के बंधन से बाँधकर रखने का प्रयत्न किया है।

SubQuestion No : 17

Q.17 दिए गए शब्दों में से उचित शब्द चुनकर रिक्त स्थान (2) की पूर्ति कीजिए।

- Ans
- 1. बाह्य
 - 2. विशेष
 - 3. महत्त्वपूर्ण
 - 4. आंतरिक

Question ID : 26433094116

Status : Answered

Chosen Option : 4

Comprehension:

दिए गए गद्यांश के अनुसार प्रश्न संख्या 1-5 के उत्तर दीजिए।

भारतवर्ष ने कभी भी भौतिक वस्तुओं के (1) _____ को बहुत अधिक महत्त्व नहीं दिया है। उसकी दृष्टि से मनुष्य के भीतर जो महान (2) _____ गुण स्थिर भाव से बैठा हुआ है, वही चरम और परम है। लोभ-मोह, काम-क्रोध आदि विचार मनुष्य में (3) _____ रूप से विद्यमान रहते हैं, पर उन्हें प्रधान शक्ति मान लेना और अपने मन तथा बुद्धि को उन्हीं के इशारे पर छोड़ देना बहुत बुरा (4) _____ है। भारतवर्ष ने कभी भी उन्हें उचित नहीं माना, उन्हें सदा (5) _____ के बंधन से बाँधकर रखने का प्रयत्न किया है।

SubQuestion No : 18

Q.18 दिए गए शब्दों में से उचित शब्द चुनकर रिक्त स्थान (3) की पूर्ति कीजिए।

- Ans
- 1. ऐच्छिक
 - 2. विशेष
 - 3. अनिवार्य
 - 4. स्वाभाविक

Question ID : 26433094117

Status : Answered

Chosen Option : 4

Comprehension:

दिए गए गद्यांश के अनुसार प्रश्न संख्या 1-5 के उत्तर दीजिए।

भारतवर्ष ने कभी भी भौतिक वस्तुओं के (1) _____ को बहुत अधिक महत्त्व नहीं दिया है। उसकी दृष्टि से मनुष्य के भीतर जो महान (2) _____ गुण स्थिर भाव से बैठा हुआ है, वही चरम और परम है। लोभ-मोह, काम-क्रोध आदि विचार मनुष्य में (3) _____ रूप से विद्यमान रहते हैं, पर उन्हें प्रधान शक्ति मान लेना और अपने मन तथा बुद्धि को उन्हीं के इशारे पर छोड़ देना बहुत बुरा (4) _____ है। भारतवर्ष ने कभी भी उन्हें उचित नहीं माना, उन्हें सदा (5) _____ के बंधन से बाँधकर रखने का प्रयत्न किया है।

SubQuestion No : 19

Q.19 दिए गए शब्दों में से उचित शब्द चुनकर रिक्त स्थान (4) की पूर्ति कीजिए।

- Ans 1. प्रणाली
 2. आचरण
 3. कार्य
 4. तरीका

Question ID : 26433094118

Status : Answered

Chosen Option : 2

Comprehension:

दिए गए गद्यांश के अनुसार प्रश्न संख्या 1-5 के उत्तर दीजिए।

भारतवर्ष ने कभी भी भौतिक वस्तुओं के (1) _____ को बहुत अधिक महत्त्व नहीं दिया है। उसकी दृष्टि से मनुष्य के भीतर जो महान (2) _____ गुण स्थिर भाव से बैठा हुआ है, वही चरम और परम है। लोभ-मोह, काम-क्रोध आदि विचार मनुष्य में (3) _____ रूप से विद्यमान रहते हैं, पर उन्हें प्रधान शक्ति मान लेना और अपने मन तथा बुद्धि को उन्हीं के इशारे पर छोड़ देना बहुत बुरा (4) _____ है। भारतवर्ष ने कभी भी उन्हें उचित नहीं माना, उन्हें सदा (5) _____ के बंधन से बाँधकर रखने का प्रयत्न किया है।

SubQuestion No : 20

Q.20 दिए गए शब्दों में से उचित शब्द चुनकर रिक्त स्थान (5) की पूर्ति कीजिए।

- Ans 1. रिश्तों
 2. संयम
 3. मोह
 4. बेड़ियों

Question ID : 26433094119

Status : Answered

Chosen Option : 4