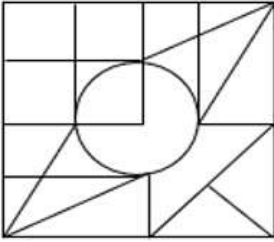


Constable GD in CAPFs SSF Rifleman GD in Assam Rifles and Sepoy in NCB Examination 2022

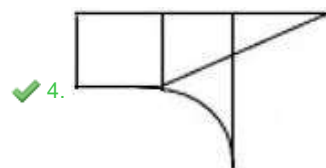

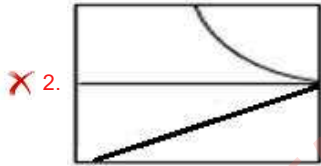
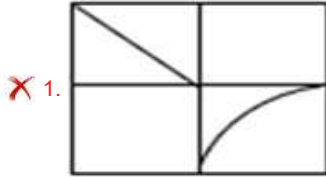
Roll Number	www.govtjobsalert.in
Candidate Name	www.govtjobsalert.in
Venue Name	iON Digital Zone iDZ Jamshedpur
Exam Date	13/01/2023
Exam Time	2:30 PM - 3:30 PM
Subject	Constable GD Examination 2022

Section : Part-A-General Intelligence and Reasoning

Q.1 उस विकल्प आकृति का चयन करें जो दी गई आकृति में अंतर्निहित है (घुमाने की अनुमति नहीं है)।



Ans



Question ID : 26433069482

Status : Answered

Chosen Option : 3

Q.2 छः विद्यार्थी एक वृत्ताकार मेज के परितः मेज के केंद्र की ओर मुख करके बैठे हैं। जेम्स, पीटर के दाईं ओर दूसरे स्थान पर बैठा है। चार्ल्स, पीटर के बाईं ओर दूसरे स्थान पर बैठा है। सैम, जेम्स के दाईं ओर तीसरे स्थान पर बैठा है। टॉम, सैम के दाईं ओर दूसरे स्थान पर बैठा है। एशले, चार्ल्स और जेम्स के ठीक बगल में है। एशले और टॉम के बीच में कौन बैठा है?

- Ans 1. जेम्स
 2. चार्ल्स
 3. सैम
 4. पीटर

Question ID : 26433081776

Status : Answered

Chosen Option : 1

Q.3 यदि दर्पण को 'PQ' पर रखा जाए जैसा कि नीचे दिखाया गया है, तो दिए गए अंक-अक्षर संयोजन का सही दर्पण प्रतिबिम्ब कौन-सा होगा?

H 3 Y 5 V N | P
Q

- Ans 1. H 3 Λ 2 Λ N
 2. N V 2 Y 3 H
 3. N V 2 Y 3 H
 4. N Λ 2 Y 3 H

Question ID : 26433081697

Status : Answered

Chosen Option : 3

Q.4 एक निश्चित कूट भाषा में 'BRAND' को 'DTYPF' लिखा जाता है और 'TOWER' को 'VMYCT' लिखा जाता है। उसी भाषा में 'STUDY' किस प्रकार लिखा जाएगा?

- Ans 1. UVWFA
 2. UVFW
 3. UVSFA
 4. URWBA

Question ID : 26433081766

Status : Answered

Chosen Option : 3

Q.5 उस समुच्चय का चयन करें, जिसकी संख्याओं के बीच ठीक वही संबंध है, जो संबंध निम्नांकित समुच्चयों की संख्याओं में है।
(नोट: संख्याओं को उसके घटक अंकों में विभाजित किए बिना, पूर्ण संख्याओं पर ही गणितीय संक्रियाएँ की जानी चाहिए। जैसे 13 - मान लीजिए 13 पर गणितीय संक्रियाएँ जैसे कि 13 में जोड़ना/घटाना/गुणा करना आदि किया जा सकता है। 13 को 1 और 3 में तोड़कर और फिर 1 और 3 पर गणितीय संक्रियाएँ करने की अनुमति नहीं है।)
(14, 231, 19)
(7, 154, 15)

- Ans 1. (13, 210, 17)
 2. (18, 242, 20)
 3. (9, 160, 15)
 4. (11, 188, 13)

Question ID : 26433076542
Status : Not Answered
Chosen Option : --

Q.6 किस विकल्प में निम्नलिखित शब्दों का वह क्रम दिया गया है, जिस क्रम में वे अंग्रेजी शब्दकोश में आते हैं?
1 instant
2 invite
3 ingrained
4 initiate
5 intimate

- Ans 1. 3,4,5,1,2
 2. 3,4,1,5,2
 3. 3,1,5,4,2
 4. 3,5,1,4,2

Question ID : 26433069305
Status : Answered
Chosen Option : 2

Q.7 गणितीय चिह्नों के उस सही संयोजन का चयन करें, जिन्हें क्रमिक रूप से * चिह्नों के स्थान पर रखे जाने पर दिया गया समीकरण संतुलित हो जाएगा।
176 * 4 * 9 * 3 * 13 * 14

- Ans 1. × , + , ÷ , - , =
 2. + , - , ÷ , × , =
 3. ÷ , + , - , × , =
 4. - , × , + , ÷ , =

Question ID : 26433085356
Status : Answered
Chosen Option : 3

Q.8 उस विकल्प का चयन कीजिए जो पांचवें अक्षर-समूह से उसी प्रकार संबंधित है जिस प्रकार दूसरा अक्षर-समूह, पहले अक्षर-समूह से संबंधित है और चौथा अक्षर-समूह, तीसरे अक्षर-समूह से संबंधित है।
PJE : RNK :: DHN : FLT :: AMS : ?

Ans 1. CRY

2. CQZ

3. DQY

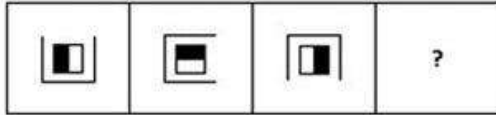
4. CQY

Question ID : 26433057714

Status : Answered

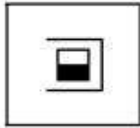
Chosen Option : 4

Q.9 उस आकृति का चयन कीजिए, जो नीचे दी गई शृंखला में आगे आएगी।

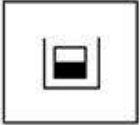


Ans


1.




2.



3.



4.

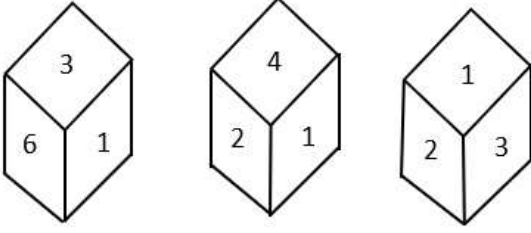


Question ID : 26433078974

Status : Answered

Chosen Option : 1

Q.10 एक ही पासे की तीन अलग-अलग स्थितियों को दर्शाया गया है। '1' दर्शाने वाले फलक के विपरीत फलक की संख्या ज्ञात कीजिए।



Ans 1. 5

2. 2

3. 3

4. 6

Question ID : 26433090075

Status : Answered

Chosen Option : 1

Q.11 दिए गए विकल्पों में से वह संख्या चुनिए, जो निम्नलिखित श्रृंखला में प्रश्न-चिह्न (?) को प्रतिस्थापित कर सके।

120, 121, 128, 141, 160, ?

Ans 1. 198

2. 185

3. 180

4. 190

Question ID : 26433078920

Status : Answered

Chosen Option : 2

Q.12 पाँच मित्र (A, B, C, E और F) एक वृत्ताकार मेज के परितः मेज के केंद्र की ओर मुख करके बैठे हैं। F, C के दाईं ओर ठीक बगल में बैठा है। A, C के बाईं ओर ठीक बगल में बैठा है। E, F के दाईं ओर ठीक बगल में बैठा है। B के दाईं ओर ठीक बगल में कौन बैठा है?

Ans 1. C

2. A

3. E

4. F

Question ID : 26433080434

Status : Answered

Chosen Option : 2

Q.13 कौन-सा अक्षर-समूह दी गई श्रृंखला में प्रश्नचिह्न (?) के स्थान पर आकर श्रृंखला को पूर्ण करेगा?
BMYU, YJVR, ?, SDPL, PAMI

- Ans 1. VHSO
 2. WGSO
 3. VGSO
 4. WHSO

Question ID : 26433067946
Status : Answered
Chosen Option : 3

Q.14 'A + B' का अर्थ है कि A, B का भाई है
'A - B' का अर्थ है कि 'A, B की माता है'
'A × B' का अर्थ है कि 'A, B का पति है'
'A ÷ B' का अर्थ है कि 'A, B की बहन है'
यदि $P ÷ Q - R + S - T × U$ है, तो निम्नलिखित में से कौन-सा कथन सही नहीं है?

- Ans 1. R, T की माता का भाई है।
 2. P, U की सास है।
 3. Q, S की माता है।
 4. P, R की माता की बहन है।

Question ID : 26433069660
Status : Answered
Chosen Option : 1

Q.15 दिए गए कथनों और निष्कर्षों को ध्यानपूर्वक पढ़िए। यह मानते हुए कि कथनों में दी गई जानकारी सत्य है, चाहे वह सामान्य रूप से ज्ञात तथ्यों से भिन्न प्रतीत होती हो, निर्धारित कीजिए कि दिए गए निष्कर्षों में से कौन-सा/से कथनों का तार्किक रूप से अनुसरण करता है/करते हैं।

कथन:

- A. सभी पेंसिल लकड़ियाँ हैं। B. कुछ लकड़ियाँ नोट्स हैं।
C. सभी डायरियाँ नोट्स हैं।

निष्कर्ष:

- I. कुछ नोट्स डायरियाँ हैं। II. कुछ लकड़ियाँ पेंसिल हैं।
III. कुछ डायरियाँ लकड़ियाँ हैं।

- Ans 1. निष्कर्ष I और III दोनों अनुसरण करते हैं।
 2. केवल निष्कर्ष II अनुसरण करता है।
 3. निष्कर्ष I और II दोनों अनुसरण करते हैं।
 4. केवल निष्कर्ष III अनुसरण करता है।

Question ID : 26433081633
Status : Marked For Review
Chosen Option : 1

Q.16 दिए गए विकल्पों में से उस अक्षर-समूह का चयन कीजिए जो निम्न श्रृंखला में प्रश्न-चिह्न (?) के स्थान पर आ सकता है।
FWCD, HQEF, JKGH, ? , NYKL

- Ans
- 1. GRXJ
 - 2. LDGB
 - 3. LEIJ
 - 4. GTBP

Question ID : 26433074745
Status : Answered
Chosen Option : 3

Q.17 उस विकल्प का चयन करें, जो तीसरे शब्द से उसी प्रकार संबंधित है, जिस प्रकार दूसरा शब्द पहले शब्द से संबंधित है।
(शब्दों को अर्थपूर्ण शब्दों के रूप में माना जाना चाहिए और इन्हें शब्द में अक्षरों की संख्या / व्यंजनों की संख्या / स्वरों की संख्या के आधार पर एक दूसरे से संबद्ध नहीं किया जाना चाहिए।)
तीन : त्रिभुज :: चार : ?

- Ans
- 1. क्षट्रभुज
 - 2. कोण
 - 3. आयत
 - 4. पंचभुज

Question ID : 26433079466
Status : Answered
Chosen Option : 3

Q.18 एक निश्चित कूट भाषा में 'TERMINATOR' को 'ROTANTERMI' के रूप में लिखा जाता है और 'SUPERMAN' को 'NAMRSUPE' के रूप में लिखा जाता है। उसी भाषा में 'AVENGERS' को किस प्रकार लिखा जाएगा?

- Ans
- 1. SREGAVNE
 - 2. SERGAVEN
 - 3. SREGAVEN
 - 4. SREAGVEN

Question ID : 26433068224
Status : Answered
Chosen Option : 3

Q.19 निम्नलिखित में से कौन-सी संख्या दी गई श्रृंखला में प्रश्न-चिह्न (?) को प्रतिस्थापित करेगी?
29, 65, 95, 119, ?, 149, 155

- Ans
- 1. 143
 - 2. 131
 - 3. 119
 - 4. 137

Question ID : 26433069389
Status : Answered
Chosen Option : 4

Q.20 नीचे दिए गए समीकरण को सही बनाने के लिए किन दो चिन्हों को गणितीय रूप से परस्पर बदलना चाहिए?

$$25 + 8 \div 40 - 20 \times 25 = 10$$

- Ans
- 1. \div और \times
 - 2. $-$ और $+$
 - 3. $+$ और \times
 - 4. $+$ और \div

Question ID : 264330117517

Status : Answered

Chosen Option : 3

Section : Part-B-General Knowledge and General awareness

Q.1 भारत में सहकारी बैंक, राज्य _____ अधिनियम के अंतर्गत पंजीकृत होता है।

- Ans
- 1. उद्योग
 - 2. सहकारी समितियां
 - 3. कंपनियों
 - 4. अल्पसंख्यक

Question ID : 264330115304

Status : Answered

Chosen Option : 2

Q.2 खेलो इंडिया स्कूल गेम्स का पहला संस्करण किस वर्ष आयोजित किया गया था?

- Ans
- 1. 2020
 - 2. 2018
 - 3. 2014
 - 4. 2019

Question ID : 26433092325

Status : Not Answered

Chosen Option : --

Q.3 _____ को शुरू की गई, स्टार्टअप इंडिया पहल ने उद्यमियों को समर्थन देने के उद्देश्य से कई कार्यक्रम शुरू किए हैं।

- Ans
- 1. 14 जनवरी, 2014
 - 2. 16 जनवरी, 2016
 - 3. 17 जनवरी, 2017
 - 4. 15 जनवरी, 2015

Question ID : 264330116186

Status : Answered

Chosen Option : 2

Q.4 एल्कीन्स के सामान्य सूत्र को पहचानिए।

- Ans 1. C_nH_{4n}
 2. C_nH_{3n}
 3. C_nH_{2n}
 4. C_nH_{6n}

Question ID : 26433086743
Status : Not Answered
Chosen Option : --

Q.5 अश्वघोष जिन्होंने 'बुद्धचरित' की रचना की, _____ के दरबार में रहते थे।

- Ans 1. सदाशकाना
 2. वासुदेव
 3. कनिष्क
 4. वशिष्क

Question ID : 264330106591
Status : Answered
Chosen Option : 3

Q.6 नवंबर 2022 तक की स्थिति के अनुसार, भारत में खाद्य प्रसंस्करण उद्योग के केंद्रीय मंत्री कौन हैं?

- Ans 1. नित्यानंद राय
 2. पशुपति कुमार पारस
 3. राज कुमार सिंह
 4. हरदीप सिंह पुरी

Question ID : 264330114936
Status : Answered
Chosen Option : 4

Q.7 भारत के संविधान में प्रारंभिक 10 मौलिक कर्तव्यों को कब जोड़ा गया था?

- Ans 1. 1985
 2. 1976
 3. 1947
 4. 1955

Question ID : 264330115622
Status : Answered
Chosen Option : 2

Q.8 निम्नलिखित में से तीन का नाम अक्सर समूह के रूप में एक साथ प्रयोग किया जाता है। निम्न में से विषम व्यक्तित्व का चयन कीजिए।

- Ans
- 1. लाला लाजपत राय
 - 2. बाल गंगाधर तिलक
 - 3. बिपिन चंद्र पाल
 - 4. दादा भाई नौरोजी

Question ID : 264330115711
Status : Answered
Chosen Option : 4

Q.9 भारत के संविधान की कौन सी अनुसूची संघ, राज्य और समवर्ती सूचियों से संबंधित है?

- Ans
- 1. सातवीं
 - 2. ग्यारहवीं
 - 3. नौवीं
 - 4. पांचवीं

Question ID : 26433074906
Status : Answered
Chosen Option : 1

Q.10 भारत में, किसी लघु उद्योग को _____ के संदर्भ में परिभाषित किया जाता है।

- Ans
- 1. भागीदारों की अधिकतम संख्या
 - 2. किसी इकाई की परिसंपत्ति पर अधिकतम निवेश की अनुमति
 - 3. कर्मचारियों की अधिकतम संख्या
 - 4. निदेशकों की अधिकतम संख्या

Question ID : 264330116135
Status : Not Answered
Chosen Option : --

Q.11 निम्नलिखित में से किस त्योहार में 14 देवताओं की पूजा की जाती है और यह जुलाई के महीने में मनाया जाता है?

- Ans
- 1. खर्ची पूजा
 - 2. बोनालू
 - 3. लोसर
 - 4. त्रिपुरेश्वरी

Question ID : 264330115112
Status : Answered
Chosen Option : 1

Q.12 चांग लो आदिवासी नृत्य _____ की चांग जनजाति द्वारा किया जाता है।

- Ans
- 1. मध्य प्रदेश
 - 2. छत्तीसगढ़
 - 3. नागालैंड
 - 4. गोवा

Question ID : 264330115069
Status : Answered
Chosen Option : 3

Q.13 अंतः उष्ण कटिबंधीय अभिसरण क्षेत्र में क्या होता है?

- Ans
- 1. दक्षिण-पश्चिमी और उत्तर-पश्चिमी व्यापारिक पवनें अभिसरण करती हैं
 - 2. दक्षिण-पूर्वी और उत्तर-पश्चिमी व्यापारिक पवनें अभिसरण करती हैं
 - 3. दक्षिण-पश्चिमी और उत्तर-पश्चिमी व्यापारिक पवनें विचलन करती हैं
 - 4. दक्षिण-पूर्वी और उत्तर-पूर्वी व्यापारिक पवनें अभिसरण करती हैं

Question ID : 26433091488
Status : Answered
Chosen Option : 4

Q.14 चौधरी अजीत सिंह, जिनका निधन 2021 में हुआ, निम्नलिखित में से किस पार्टी के संस्थापक थे?

- Ans
- 1. समाजवादी पार्टी
 - 2. भारतीय कम्युनिस्ट पार्टी
 - 3. राष्ट्रीय लोक दल
 - 4. बहुजन समाज पार्टी

Question ID : 264330115007
Status : Not Answered
Chosen Option : --

Q.15 दूरसंचार उद्योग में उपग्रह, क्लोउड कंप्यूटर नेटवर्क और _____ शामिल होते हैं।

- Ans
- 1. इंडक्शन कुकर
 - 2. वायरलेस नेटवर्क
 - 3. एयर कंडीशनर
 - 4. नलकूप

Question ID : 264330115400
Status : Answered
Chosen Option : 2

Q.16 फास्ट फूड प्रायः वसा और _____ से भरपूर होते हैं।

- Ans
- 1. पोषक तत्वों
 - 2. कैल्शियम
 - 3. आयरन
 - 4. अपूरित कैलोरी

Question ID : 264330115223
Status : Answered
Chosen Option : 4

Q.17 भारत एशिया के किस भाग में स्थित है?

- Ans 1. उत्तरी एशिया
 2. दक्षिण एशिया
 3. पूर्वी एशिया
 4. पश्चिम एशिया

Question ID : 264330116049
Status : Answered
Chosen Option : 3

Q.18 किसे तिरुमला तिरुपति देवस्थानम की अस्थाना नर्तकी होने का सम्मान प्राप्त है?

- Ans 1. मल्लिका साराभाई
 2. शोभना नारायण
 3. यामिनी कृष्णमूर्ति
 4. सोनल मानसिंह

Question ID : 264330115840
Status : Answered
Chosen Option : 3

Q.19 शक्ति, ऊर्जा का सर्वाधिक दृश्य रूप, जिसे प्रायः आधुनिक सभ्यता में प्रगति से पहचाना जाता है, सामान्यतः उसे क्या कहा जाता है?

- Ans 1. कोयला
 2. बिजली
 3. तेल
 4. जीवाश्म ईंधन

Question ID : 264330115551
Status : Answered
Chosen Option : 4

Q.20 निम्नलिखित में से किसने 2019 दक्षिण एशियाई खेलों की मेजबानी की?

- Ans 1. पाकिस्तान
 2. नेपाल
 3. भारत
 4. श्रीलंका

Question ID : 264330115940
Status : Answered
Chosen Option : 3

Q.1 एक ट्रेन दिल्ली से देहरादून तक 120 km/h की चाल से और देहरादून से दिल्ली तक 130 km/h की चाल से यात्रा करती है। पूरी यात्रा के दौरान औसत चाल क्या है?

- Ans
- ✓ 1. 124.8 km/h
 - ✗ 2. 125.4 km/h
 - ✗ 3. 127.8 km/h
 - ✗ 4. 126.8 km/h

Question ID : 26433075114
Status : Answered
Chosen Option : 1

Q.2 वार्षिक चक्रवृद्धि आधार पर गणना किए जाने पर कोई धनराशि 2 वर्ष में Rs.30,250 और 3 वर्ष में Rs.33,275 हो जाती है। धनराशि ज्ञात करें।

- Ans
- ✗ 1. Rs.24,000
 - ✗ 2. Rs.23,000
 - ✓ 3. Rs.25,000
 - ✗ 4. Rs.26,000

Question ID : 26433082404
Status : Answered
Chosen Option : 3

Q.3 ₹ 15,000 में सामान बेचने पर, रामू को ₹ 3,000 का लाभ होता है। उसका लाभ प्रतिशत क्या है?

- Ans
- ✗ 1. 30%
 - ✗ 2. 20%
 - ✓ 3. 25%
 - ✗ 4. 18%

Question ID : 26433075544
Status : Answered
Chosen Option : 3

Q.4 अंकित मूल्य पर 10%, 20% और 40% की क्रमिक छूट के बराबर एक एकल छूट _____ है।

- Ans
- ✗ 1. $52\frac{1}{5}\%$
 - ✗ 2. $51\frac{4}{5}\%$
 - ✓ 3. $56\frac{4}{5}\%$
 - ✗ 4. $48\frac{1}{5}\%$

Question ID : 26433074458
Status : Answered
Chosen Option : 3

Q.5 रवीश ने कुल दूरी की शुरुआती 20 km की दूरी 12 km/h की चाल से तय की; अगले 25 km की दूरी 10 km/h की चाल से तय की और शेष दूरी 15 km/h की चाल से तय की। यदि उसकी कुल औसत चाल 13.5 km/h थी, तो रवीश ने 15 km/h की चाल से कितनी दूरी तय की?

- Ans
- 1. 111.95 km
 - 2. 113.95km
 - 3. 110.95 km
 - 4. 112.5 km

Question ID : 26433073132

Status : Not Answered

Chosen Option : --

Q.6 $\frac{3}{8}$, $\frac{5}{12}$ और $\frac{15}{16}$ का महत्तम समापवर्तक (HCF) क्या है?

- Ans
- 1. $\frac{1}{24}$
 - 2. $\frac{1}{48}$
 - 3. $\frac{1}{36}$
 - 4. $\frac{1}{12}$

Question ID : 26433079819

Status : Answered

Chosen Option : 2

Q.7 एक खिलौना अर्धगोले पर लगे एक शंकु के आकार का है। अर्धगोले की त्रिज्या और शंकु की त्रिज्या 7 cm है और शंकु की ऊंचाई 5 cm है। खिलौने का कुल पृष्ठीय क्षेत्रफल ज्ञात कीजिये। ($\pi = \frac{22}{7}$ लें) (दशमलव के दो स्थानों तक पूर्णांकित)

- Ans
- 1. 2666.85 cm²
 - 2. 2648.81 cm²
 - 3. 497.25 cm²
 - 4. 486.65 cm²

Question ID : 26433083088

Status : Not Answered

Chosen Option : --

Q.8 एक कार 240 मिनट में 1080 km की दूरी तय करती है। कार की चाल m/sec में ज्ञात करें?

- Ans
- 1. 81
 - 2. 70
 - 3. 55
 - 4. 75

Question ID : 26433071234
Status : Answered
Chosen Option : 4

Q.9 किसी शहर की जनसंख्या 5% वार्षिक दर से बढ़ रही है। 2 वर्ष बाद शहर की जनसंख्या कितनी होगी, यदि वर्तमान जनसंख्या 16000 है?

- Ans
- 1. 17960
 - 2. 16960
 - 3. 16560
 - 4. 17640

Question ID : 26433082405
Status : Answered
Chosen Option : 4

Q.10 किसी शंकु का आयतन ज्ञात कीजिए, जिसके आधार की त्रिज्या 21 cm और ऊँचाई 20 cm है। (मान लीजिए $\pi = \frac{22}{7}$.)

- Ans
- 1. 9240 cm³
 - 2. 9420 cm³
 - 3. 8840 cm³
 - 4. 9204 cm³

Question ID : 26433075253
Status : Answered
Chosen Option : 1

Q.11 A, B और C मिलकर एक कार्य को 40/3 दिनों में पूरा कर सकते हैं। तीनों ने मिलकर इस पर काम करना शुरू किया और 5 दिन बाद A ने काम छोड़ दिया। फिर B और C ने मिलकर शेष काम को 17 दिनों में पूरा किया। दिनों की संख्या (लगभग) ज्ञात करें जिसमें A अकेला कुल कार्य पूरा कर सकता है।

- Ans
- 1. 24 दिन
 - 2. 26 दिन
 - 3. 44 दिन
 - 4. 29 दिन

Question ID : 264330116870
Status : Not Answered
Chosen Option : --

Q.12 A और B मिलकर एक कार्य को 30 दिनों में पूरा कर सकते हैं। उन्होंने 20 दिनों तक एक साथ कार्य किया और फिर B चला गया। अन्य 20 दिनों के बाद A ने शेष कार्य को पूरा किया। A अकेले पूरे कार्य को कितने दिनों में पूरा कर सकता है?

- Ans 1. 60
 2. 62
 3. 66
 4. 56

Question ID : 26433075166
Status : Answered
Chosen Option : 1

Q.13 $(x + y)^4$ और $(x - y)^4$ का मध्यानुपाती ज्ञात कीजिए।

- Ans 1. $(x^2 - y^2)^4$
 2. $(x^2 - y^2)^3$
 3. $(x^2 - y^2)^2$
 4. $(x^2 - y^2)$

Question ID : 26433075552
Status : Answered
Chosen Option : 3

Q.14 पहली संख्या का 75% दूसरी संख्या के 60% के बराबर है। पहली संख्या तथा दूसरी संख्या का अनुपात क्या है?

- Ans 1. 2 : 3
 2. 3 : 4
 3. 4 : 5
 4. 1 : 2

Question ID : 26433082788
Status : Answered
Chosen Option : 3

Q.15 ओम ने पिछले वर्ष की तुलना में अपनी बेकरी के लिए 12 प्रतिशत अधिक बाजरा आटा मंगवाने का निर्णय लिया। यदि उसने पिछले वर्ष 240 kg आर्डर किया था, तो उसे इस वर्ष कितनी मात्रा में बाजरे का आटा मंगवाना चाहिए?

- Ans 1. 272.2 kg
 2. 258.8 kg
 3. 268.8 kg
 4. 252.2 kg

Question ID : 264330116790
Status : Answered
Chosen Option : 3

Q.16 एक अलमारी Rs.14,360 में लाई गई और इसके परिवहन पर Rs.240 खर्च किए गए। 15% का लाभ प्राप्त करने के लिए इसे किस कीमत पर बेचा जाना चाहिए?

- Ans
- 1. Rs.16,800
 - 2. Rs.16,780
 - 3. Rs.16,770
 - 4. Rs.16,790

Question ID : 26433066359
Status : Answered
Chosen Option : 4

Q.17 किसी कारखाने में सभी श्रमिकों का औसत वेतन Rs.3,000 है। इन श्रमिकों में 12 उच्च अधिकारी हैं और उनका औसत वेतन Rs.12,000 है। शेष श्रमिकों का औसत वेतन Rs.2,500 है। श्रमिकों की कुल संख्या ज्ञात कीजिए।

- Ans
- 1. 216
 - 2. 204
 - 3. 228
 - 4. 200

Question ID : 26433091894
Status : Not Answered
Chosen Option : --

Q.18 एक चादर का अंकित मूल्य उसके लागत मूल्य से 14 प्रतिशत अधिक है। यदि अंकित मूल्य पर 14 प्रतिशत की छूट दी जाती है। लाभ या हानि प्रतिशत क्या है?

- Ans
- 1. 1.82 प्रतिशत हानि
 - 2. 1.64 प्रतिशत लाभ
 - 3. 1.44 प्रतिशत लाभ
 - 4. 1.96 प्रतिशत हानि

Question ID : 264330116755
Status : Answered
Chosen Option : 4

Q.19 12, 15 और 25 से विभाज्य 6 अंकीय सबसे छोटी संख्या को 9 से विभाजित किया जाता है तो शेषफल ज्ञात करें।

- Ans
- 1. 0
 - 2. 2
 - 3. 1
 - 4. 3

Question ID : 264330116653
Status : Answered
Chosen Option : 4

Q.20 18 और 32 के बीच का मध्यानुपाती ज्ञात करें।

Ans 1. 24

2. 20

3. 22

4. 25

Question ID : 26433082389

Status : Answered

Chosen Option : 1

Section : Part-D-English

Q.1 Select the most appropriate meaning of the given idiom.

To put a spoke in one's wheel

Ans 1. To receive cold reception

2. Narrating a false story

3. To leave someone without any provision

4. To thwart someone in execution of one's design

Question ID : 26433073875

Status : Not Answered

Chosen Option : --

Q.2 Select the most appropriate ANTONYM of the given word.

Significant

Ans 1. Idle

2. Paltry

3. Prominent

4. Distinct

Question ID : 26433072212

Status : Not Answered

Chosen Option : --

Q.3 Select the most appropriate ANTONYM of the given word.

Confident

Ans 1. Bold

2. Cowardly

3. Carefree

4. Undaunted

Question ID : 26433089033

Status : Not Answered

Chosen Option : --

Q.4 Select the most appropriate option that can substitute the underlined segment in the given sentence. If there is no need to substitute it, select 'No substitution'.
I went there to say goodbye to him but he refuse to meet me.

- Ans
- 1. No substitution
 - 2. he refused in meeting me
 - 3. he has refused to meet me
 - 4. he refused to meet me

Question ID : 26433093073
Status : Not Answered
Chosen Option : --

Q.5 Select the most appropriate option that can substitute the underlined segment in the given sentence. If there is no need to substitute it, select 'No substitution'.

The farmer has been work since 8 a.m. today and he's not completed the work yet.

- Ans
- 1. No substitution
 - 2. had working
 - 3. has been working
 - 4. is been working

Question ID : 26433088739
Status : Not Answered
Chosen Option : --

Q.6 Select the most appropriate option to fill in the blank.

The garbage _____ empties into a big bin.

- Ans
- 1. should
 - 2. shook
 - 3. shoot
 - 4. chute

Question ID : 26433090390
Status : Not Answered
Chosen Option : --

Q.7 Select the most appropriate synonym of the given word.

Aghast

- Ans
- 1. Pacified
 - 2. Horrified
 - 3. Inspired
 - 4. Mystified

Question ID : 26433073979
Status : Not Answered
Chosen Option : --

Q.8 Select the most appropriate ANTONYM of the given word.

Transient

- Ans 1. Perishable
 2. Permanent
 3. Temporary
 4. Delicate

Question ID : 26433074051
Status : Not Answered
Chosen Option : --

Q.9 Select the correct pair of words for the blanks in the given sentence.

Computer has a _____ memory and my father prefers _____ to digital payments.

- Ans 1. cache; cash
 2. cash; cache
 3. cash; cash
 4. cache; cache

Question ID : 26433060548
Status : Not Answered
Chosen Option : --

Q.10 Select the most appropriate meaning of the given idiom.

Hang in there

- Ans 1. Don't rake up a controversy
 2. A wise decision
 3. Don't give up
 4. Overcoming joy

Question ID : 26433073993
Status : Not Answered
Chosen Option : --

Q.11 Select the INCORRECTLY spelt word.

- Ans 1. License
 2. Exklusive
 3. Lament
 4. Juggle

Question ID : 26433073734
Status : Not Answered
Chosen Option : --

Q.12 Select the INCORRECTLY spelt word.

- Ans 1. Necessity
 2. Weather
 3. Modest
 4. Knowledge

Question ID : 26433073725
Status : Not Answered
Chosen Option : --

Q.13 Select the most appropriate option to fill in the blank.
We _____ the mathematical issue with zest and vigour.

- Ans 1. settled
 2. solved
 3. remedied
 4. cleared up

Question ID : 26433091725
Status : Not Answered
Chosen Option : --

Q.14 The following sentence has been split into four segments. Identify the segment that contains a grammatical error.

I am give / a speech on / emerging economic dynamics / in the program.

- Ans 1. emerging economic dynamics
 2. in the program
 3. I am give
 4. a speech on

Question ID : 26433094741
Status : Not Answered
Chosen Option : --

Q.15 Select the most appropriate synonym of the underlined word in the following sentence.

One should enjoy liberty with duties in mind.

- Ans 1. Statue
 2. Freedom
 3. Democracy
 4. Meal

Question ID : 26433072354
Status : Not Answered
Chosen Option : --

Comprehension:

In the following passage, some words have been deleted. Read the passage carefully and select the most appropriate option to fill in each blank.

A lot of research has (1)_____ that reptiles and amphibians are cold-blooded (2)_____. By the term cold-blooded animals, we (3)_____ that they cannot control their body temperature like we can. A reptile's skin is dry and scaly, (4)_____ the skin of an amphibian is wet and smooth. Most reptiles spend much of their time (5)_____ on land. Most amphibians live in or around water.

SubQuestion No : 16

Q.16 Select the most appropriate option to fill in blank number 1.

Ans 1. spread

2. tell

3. proved

4. talked

Question ID : 26433089035

Status : Not Answered

Chosen Option : --

Comprehension:

In the following passage, some words have been deleted. Read the passage carefully and select the most appropriate option to fill in each blank.

A lot of research has (1)_____ that reptiles and amphibians are cold-blooded (2)_____. By the term cold-blooded animals, we (3)_____ that they cannot control their body temperature like we can. A reptile's skin is dry and scaly, (4)_____ the skin of an amphibian is wet and smooth. Most reptiles spend much of their time (5)_____ on land. Most amphibians live in or around water.

SubQuestion No : 17

Q.17 Select the most appropriate option to fill in blank number 2.

Ans 1. birds

2. organisms

3. plants

4. animals

Question ID : 26433089036

Status : Not Answered

Chosen Option : --

Comprehension:

In the following passage, some words have been deleted. Read the passage carefully and select the most appropriate option to fill in each blank.

A lot of research has (1)_____ that reptiles and amphibians are cold-blooded (2)_____. By the term cold-blooded animals, we (3)_____ that they cannot control their body temperature like we can. A reptile's skin is dry and scaly, (4)_____ the skin of an amphibian is wet and smooth. Most reptiles spend much of their time (5)_____ on land. Most amphibians live in or around water.

SubQuestion No : 18

Q.18 Select the most appropriate option to fill in blank number 3.

- Ans
- 1. express
 - 2. designate
 - 3. intent
 - 4. mean

Question ID : 26433089037
Status : Not Answered
Chosen Option : --

Comprehension:

In the following passage, some words have been deleted. Read the passage carefully and select the most appropriate option to fill in each blank.

A lot of research has (1)_____ that reptiles and amphibians are cold-blooded (2)_____. By the term cold-blooded animals, we (3)_____ that they cannot control their body temperature like we can. A reptile's skin is dry and scaly, (4)_____ the skin of an amphibian is wet and smooth. Most reptiles spend much of their time (5)_____ on land. Most amphibians live in or around water.

SubQuestion No : 19

Q.19 Select the most appropriate option to fill in blank number 4.

- Ans
- 1. conversely
 - 2. similarly
 - 3. contrary
 - 4. whereas

Question ID : 26433089038
Status : Not Answered
Chosen Option : --

Comprehension:

In the following passage, some words have been deleted. Read the passage carefully and select the most appropriate option to fill in each blank.

A lot of research has (1)_____ that reptiles and amphibians are cold-blooded (2)_____. By the term cold-blooded animals, we (3)_____ that they cannot control their body temperature like we can. A reptile's skin is dry and scaly, (4)_____ the skin of an amphibian is wet and smooth. Most reptiles spend much of their time (5)_____ on land. Most amphibians live in or around water.

SubQuestion No : 20

Q.20 Select the most appropriate option to fill in blank number 5.

- Ans 1. jumping
 2. crawling
 3. dragging
 4. walking

Question ID : 26433089039
Status : Not Answered
Chosen Option : --

Section : Part-D-Hindi

Q.1 उसने मेरे साथ गद्देदारी की है।
उपरोक्त वाक्य के किस भाग में अशुद्धि है?

- Ans 1. मेरे साथ
 2. की है।
 3. उसने
 4. गद्देदारी

Question ID : 26433079760
Status : Answered
Chosen Option : 4

Q.2 निम्न वाक्य में रेखांकित शब्द को विकल्पों में दिए गए शब्दों में से उपयुक्त शब्द से बदलें।
मैं आशा करूँगा कि समय पर आपके पास पहुँच जाऊँ।

- Ans 1. प्रत्याशा
 2. चेष्टा
 3. उत्कंठा
 4. विंता

Question ID : 26433062872
Status : Answered
Chosen Option : 3

Q.3 मैं गेंदे की जगह नलिन के फूल देवी को अर्पित करूँगी।
उपरोक्त वाक्य में रेखांकित शब्द का पर्यायवाची क्या होगा?

- Ans 1. जुही
 2. कमल
 3. पुष्प
 4. केसर

Question ID : 26433080852
Status : Answered
Chosen Option : 1

Q.4 मुहावरों और उनके अर्थ का निम्न में से कौन सा एक युग्म सही है?

- Ans 1. बालू से तेल निकालना-असंभव को संभव करना
 2. रंग बदलना-अपरिवर्तनशील होना
 3. मन मैला करना-अत्यधिक प्रसन्न होना
 4. माथा ठनकना-खुशामद करना

Question ID : 26433062560
Status : Answered
Chosen Option : 1

Q.5 दिए गए वाक्य में रेखांकित अंश के स्थान पर सबसे उपयुक्त शब्द निम्न में से कौन-सा होगा?
लोग बड़ी मात्रा में जमा हो गए।

- Ans 1. भीड़
 2. संख्या
 3. परिमाण
 4. मात्र

Question ID : 26433072582
Status : Answered
Chosen Option : 2

Q.6 निम्नलिखित वाक्य के रिक्तस्थानों की पूर्ति उपयुक्त एकार्थी शब्द-युग्म द्वारा कीजिए।
आदमी की _____ उसे सफल बनती है, वहीं सफलता उसका _____-योग है।

- Ans 1. शुभ मुहूर्त-नतीजा
 2. दीपक-रोशनी
 3. लगन-लग्न
 4. ताजा-समान

Question ID : 26433091325
Status : Answered
Chosen Option : 3

Q.7 नीचे दिए वाक्यांश के लिए उचित शब्द दिए गए विकल्पों में से चुनिए-
जो सबके आगे रहता हो

- Ans
- 1. अग्रिम
 - 2. अग्रज
 - 3. अग्रगण्य
 - 4. अग्रणी

Question ID : 26433062385
Status : Answered
Chosen Option : 4

Q.8 निम्नलिखित में से अशुद्ध वाक्य कौन-सा है?

- Ans
- 1. मनुष्य स्वभावतः अकेलापन पसंद नहीं करता।
 - 2. विकास के सूत्र मानव के हाथ में हैं।
 - 3. देश में सर्वस्व शांति होना चाहिए।
 - 4. मनुष्यता मनुष्य की अमूल्य निधि है।

Question ID : 26433066990
Status : Answered
Chosen Option : 2

Q.9 निम्नलिखित विकल्पों में से किस एक वाक्य में संख्यावाचक विशेषण का उचित प्रयोग नहीं किया गया है?

- Ans
- 1. यह किसका खरगोश है?
 - 2. दिल्ली के पास यमुना में जरा-सा पानी है।
 - 3. मेरी गाय थोड़ा दूध देती है।
 - 4. गौरव के पास थोड़ी-सी भूमि बची हुई है।

Question ID : 26433062965
Status : Not Answered
Chosen Option : --

Q.10 "यह उसके जीवन की प्रमुख घटना थी।" इस वाक्य में प्रयुक्त शब्द 'प्रमुख' के स्थान पर उसके विलोम शब्द का प्रयोग निम्न में से किस वाक्य में किया गया है?

- Ans
- 1. यह उसके जीवन की गौण घटना थी।
 - 2. यह उसके जीवन की महत्वपूर्ण घटना थी।
 - 3. यह उसके जीवन की विशिष्ट घटना थी।
 - 4. यह उसके जीवन की क्षीण घटना थी।

Question ID : 26433067026
Status : Answered
Chosen Option : 4

Q.11 निम्न वाक्यांश के लिए विकल्पों में से उपयुक्त शब्द चुनें।
ऊँट पर रखकर चलायी जाने वाली तोप

- Ans
- 1. बंदूक
 - 2. शरासन
 - 3. मुकुल
 - 4. सुतुरनाल

Question ID : 26433069993
Status : Answered
Chosen Option : 2

Q.12 'जो देखने योग्य न हो' वाक्यांश के लिए उचित शब्द बताइए -

- Ans
- 1. अवर्णीय
 - 2. अप्रत्यक्ष
 - 3. अदर्शनीय
 - 4. अदृश्य

Question ID : 26433065902
Status : Answered
Chosen Option : 3

Q.13 विलोम शब्दों का निम्न में से कौन-सा युग्म सुमेलित नहीं है?

- Ans
- 1. अपना-पराया
 - 2. आस्था-अनास्था
 - 3. आकाश-पाताल
 - 4. अग्नि-आग

Question ID : 26433067091
Status : Answered
Chosen Option : 4

Q.14 निम्नलिखित विकल्पों में से कौन सा एक वाक्य क्रिया-विशेषण से सम्बन्ध रखता है?

- Ans
- 1. वह खड़ा है।
 - 2. बच्चे दौड़ते हैं।
 - 3. सीता यहाँ आ रही है।
 - 4. गाय चरती है।

Question ID : 26433062949
Status : Answered
Chosen Option : 3

Q.15 'आँखों में धूल झोंकना' मुहावरे का उचित अर्थ है-

- Ans 1. धोखा देना
 2. ध्यान न देना
 3. कुछ न देखना
 4. इशारा करना

Question ID : 26433065878

Status : Answered

Chosen Option : 1

Comprehension:

निम्नलिखित गद्यांश में कुछ शब्दों को हटा दिया गया है। दिए गए विकल्पों की सहायता से रिक्त स्थानों की पूर्ति कीजिए। प्रत्येक संख्या के लिए सबसे उपयुक्त विकल्प का चयन कीजिए।
आज घर-घर बाँटे जाने वाले समाचार पत्र से लगभग सभी की 1. _____ प्रारंभ होती है। यह हमारे जीवन की 2. _____ आवश्यकता बन गया है। किसी कारणवश यदि इसे पढ़ने का 3. _____ नहीं मिलता तो ऐसा प्रतीत होता है कि मानो कोई बड़ा और महत्वपूर्ण कार्य छूट गया है। समाचार पत्र से घर बैठे ही बहुत ही कम पैसों में देश-विदेश का 4. _____ प्राप्त हो जाता है। यह सभी प्रकार के समाचार और जनता के मध्य 5. _____ का कार्य करता है।

SubQuestion No : 16

Q.16 रिक्त स्थान 1 की पूर्ति के लिए सबसे उपयुक्त विकल्प का चयन कीजिए।

- Ans 1. आवश्यकता
 2. दिनचर्या
 3. कुशलता
 4. छुट्टियाँ

Question ID : 264330111113

Status : Answered

Chosen Option : 2

Comprehension:

निम्नलिखित गद्यांश में कुछ शब्दों को हटा दिया गया है। दिए गए विकल्पों की सहायता से रिक्त स्थानों की पूर्ति कीजिए। प्रत्येक संख्या के लिए सबसे उपयुक्त विकल्प का चयन कीजिए।
आज घर-घर बाँटे जाने वाले समाचार पत्र से लगभग सभी की 1. _____ प्रारंभ होती है। यह हमारे जीवन की 2. _____ आवश्यकता बन गया है। किसी कारणवश यदि इसे पढ़ने का 3. _____ नहीं मिलता तो ऐसा प्रतीत होता है कि मानो कोई बड़ा और महत्वपूर्ण कार्य छूट गया है। समाचार पत्र से घर बैठे ही बहुत ही कम पैसों में देश-विदेश का 4. _____ प्राप्त हो जाता है। यह सभी प्रकार के समाचार और जनता के मध्य 5. _____ का कार्य करता है।

SubQuestion No : 17

Q.17 रिक्त स्थान 2 की पूर्ति के लिए सबसे उपयुक्त विकल्प का चयन कीजिए।

- Ans 1. दैनिक
 2. नैतिक
 3. उपद्रव
 4. प्रमाणिक

Question ID : 264330111114

Status : Answered

Chosen Option : 1

Comprehension:

निम्नलिखित गद्यांश में कुछ शब्दों को हटा दिया गया है। दिए गए विकल्पों की सहायता से रिक्त स्थानों की पूर्ति कीजिए। प्रत्येक संख्या के लिए सबसे उपयुक्त विकल्प का चयन कीजिए।
आज घर-घर बाँटे जाने वाले समाचार पत्र से लगभग सभी की 1. _____ प्रारंभ होती है। यह हमारे जीवन की 2. _____ आवश्यकता बन गया है। किसी कारणवश यदि इसे पढ़ने का 3. _____ नहीं मिलता तो ऐसा प्रतीत होता है कि मानो कोई बड़ा और महत्वपूर्ण कार्य छूट गया है। समाचार पत्र से घर बैठे ही बहुत ही कम पैसों में देश-विदेश का 4. _____ प्राप्त हो जाता है। यह सभी प्रकार के समाचार और जनता के मध्य 5. _____ का कार्य करता है।

SubQuestion No : 18

Q.18 रिक्त स्थान 3 की पूर्ति के लिए सबसे उपयुक्त विकल्प का चयन कीजिए।

- Ans
- 1. दबाव
 - 2. मन
 - 3. अवसर
 - 4. महत्त्व

Question ID : 264330111115

Status : Answered

Chosen Option : 3

Comprehension:

निम्नलिखित गद्यांश में कुछ शब्दों को हटा दिया गया है। दिए गए विकल्पों की सहायता से रिक्त स्थानों की पूर्ति कीजिए। प्रत्येक संख्या के लिए सबसे उपयुक्त विकल्प का चयन कीजिए।
आज घर-घर बाँटे जाने वाले समाचार पत्र से लगभग सभी की 1. _____ प्रारंभ होती है। यह हमारे जीवन की 2. _____ आवश्यकता बन गया है। किसी कारणवश यदि इसे पढ़ने का 3. _____ नहीं मिलता तो ऐसा प्रतीत होता है कि मानो कोई बड़ा और महत्वपूर्ण कार्य छूट गया है। समाचार पत्र से घर बैठे ही बहुत ही कम पैसों में देश-विदेश का 4. _____ प्राप्त हो जाता है। यह सभी प्रकार के समाचार और जनता के मध्य 5. _____ का कार्य करता है।

SubQuestion No : 19

Q.19 रिक्त स्थान 4 की पूर्ति के लिए सबसे उपयुक्त विकल्प का चयन कीजिए।

- Ans
- 1. प्रमाण
 - 2. प्यार
 - 3. परिणाम
 - 4. समाचार

Question ID : 264330111116

Status : Answered

Chosen Option : 4

Comprehension:

निम्नलिखित गद्यांश में कुछ शब्दों को हटा दिया गया है। दिए गए विकल्पों की सहायता से रिक्त स्थानों की पूर्ति कीजिए। प्रत्येक संख्या के लिए सबसे उपयुक्त विकल्प का चयन कीजिए।

आज घर-घर बाँटे जाने वाले समाचार पत्र से लगभग सभी की 1. _____ प्रारंभ होती है। यह हमारे जीवन की 2. _____ आवश्यकता बन गया है। किसी कारणवश यदि इसे पढ़ने का 3. _____ नहीं मिलता तो ऐसा प्रतीत होता है कि मानो कोई बड़ा और महत्वपूर्ण कार्य छूट गया है। समाचार पत्र से घर बैठे ही बहुत ही कम पैसों में देश-विदेश का 4. _____ प्राप्त हो जाता है। यह सभी प्रकार के समाचार और जनता के मध्य 5. _____ का कार्य करता है।

SubQuestion No : 20

Q.20 रिक्त स्थान 5 की पूर्ति के लिए सबसे उपयुक्त विकल्प का चयन कीजिए।

- Ans 1. सेतु
 2. आदर्श
 3. उपयोगिता
 4. साथ

Question ID : 264330111117

Status : Answered

Chosen Option : 1

WWW.GOV TJOB SALE .IN