

# Constable GD in CAPFs SSF Rifleman GD in Assam Rifles and Sepoy in NCB Examination 2022

Roll Number	<a href="http://www.govtjobsalert.in">www.govtjobsalert.in</a>
Candidate Name	<a href="http://www.govtjobsalert.in">www.govtjobsalert.in</a>
Venue Name	iON Digital Zone iDZ Gegal Industrial Area
Exam Date	07/02/2023
Exam Time	11:45 AM - 12:45 PM
Subject	Constable GD Examination 2022

## Section : Part-A-General Intelligence and Reasoning

Q.1 आठ व्यक्ति - D, E, G, H, M, N, Y और Z एक सीधी पंक्ति में उत्तर की ओर मुख करके बैठे हैं। Y पंक्ति के किसी एक सिरे पर बैठा है। Y और Z के बीच केवल दो व्यक्ति बैठे हैं। E, Z के दाईं ओर तीसरे स्थान पर बैठा है। E और D के बीच केवल चार व्यक्ति बैठे हैं। G, E के दाईं ओर किसी एक स्थान पर बैठा है। N, Z के ठीक बगल में नहीं बैठा है। H, M के दाईं ओर दूसरे स्थान पर बैठा है। M के बाईं ओर कितने व्यक्ति बैठे हैं?

- Ans
- 1. एक
  - 2. कोई नहीं
  - 3. दो
  - 4. तीन

Question ID : 26433092425

Status : Answered

Chosen Option : 3

Q.2 'C \$ D' का अर्थ है 'C, D का भाई है'  
'C # D' का अर्थ है 'C, D की बहन है'  
'C + D' का अर्थ है 'C, D का पिता है'  
'C - D' का अर्थ है 'C, D की माता है'  
यदि 'P \$ Z + Q \$ B' है, तो P, B से किस प्रकार संबंधित है?

- Ans
- 1. P, B का पिता है
  - 2. P, B का चाचा/ताऊ है
  - 3. P, B का भाई है
  - 4. P, B का ससुर है

Question ID : 26433087126

Status : Answered

Chosen Option : 2

Q.3 उस विकल्प का चयन कीजिए जो तीसरे शब्द से उसी प्रकार संबंधित है जिस प्रकार दूसरा शब्द पहले शब्द से संबंधित है। (शब्दों को अर्थपूर्ण शब्दों के रूप में मानना है और उन्हें शब्द में अक्षरों/व्यंजनों/स्वरों की संख्या के आधार पर एक-दूसरे से संबंधित नहीं करना है।)  
सोमवार : गुरुवार :: बुधवार : ?

- Ans
- 1. शनिवार
  - 2. सोमवार
  - 3. शुक्रवार
  - 4. रविवार

Question ID : 26433067977  
Status : Answered  
Chosen Option : 1

Q.4 एक निश्चित कूट भाषा में, 'we can go' को 'ti mi pi' के रूप में लिखा जाता है, 'can i sit' को 'pi ri di' के रूप में लिखा जाता है और 'sit and go' को 'di si ti' के रूप में लिखा जाता है। उसी भाषा में 'and' को कैसे लिखा जाएगा?

- Ans
- 1. pi
  - 2. ti
  - 3. di
  - 4. si

Question ID : 26433070327  
Status : Answered  
Chosen Option : 4

Q.5 निम्नलिखित में से कौन सी संख्या दी गई श्रृंखला में प्रश्न चिह्न (?) के स्थान पर आएगी?  
665, 670, 663, 674, 661, 678, ?, 682

- Ans
- 1. 676
  - 2. 680
  - 3. 659
  - 4. 625

Question ID : 26433089767  
Status : Answered  
Chosen Option : 3

Q.6 एक निश्चित कूट भाषा में 'GLAD' शब्द को 'ZLADG' लिखा जाता है। 'SCAR' शब्द को 'ZCARS' लिखा जाता है। उसी भाषा में 'LOST' शब्द को कैसे लिखा जाएगा?

- Ans
- 1. ZLOST
  - 2. ZTLOS
  - 3. ZOTLS
  - 4. ZOSTL

Question ID : 26433090108  
Status : Answered  
Chosen Option : 4

Q.7 उस विकल्प का चयन करें, जो चौथे पद से उसी प्रकार संबंधित है जिस प्रकार पहला पद दूसरे पद से संबंधित है और पाँचवाँ पद छठे पद से संबंधित है।  
407 : 37 :: ? : 59 :: 253 : 23

- Ans
- 1. 341
  - 2. 539
  - 3. 738
  - 4. 649

Question ID : 26433074549  
Status : Answered  
Chosen Option : 4

Q.8 नीचे दिए गए समीकरण को गणितीय रूप से सही बनाने के लिए किन दो गणितीय चिन्हों को परस्पर बदलना चाहिए?  
 $12 + 112 \div 16 - 8 \times 64 = 140$

- Ans
- 1.  $\div$  और  $\times$
  - 2.  $+$  और  $\div$
  - 3.  $+$  और  $\times$
  - 4.  $+$  और  $-$

Question ID : 264330117562  
Status : Answered  
Chosen Option : 3

Q.9 उस विकल्प का चयन कीजिए जो पांचवें पद से उसी प्रकार संबंधित है जिस प्रकार दूसरा पद पहले पद से और चौथा पद तीसरे पद से संबंधित है।  
STAY : ASTY :: BEAM : ABEM :: RIDE : ?

- Ans
- 1. DEIR
  - 2. SJEF
  - 3. EFHQ
  - 4. DRIE

Question ID : 26433087193  
Status : Answered  
Chosen Option : 1

Q.10 निम्नलिखित में से कौन-सा पद दी गई श्रृंखला में प्रश्न-चिह्न (?) के स्थान पर आएगा?  
DVH, FWM, JZR, LAW, PDB, ?

- Ans
- 1. SFG
  - 2. SHE
  - 3. RFH
  - 4. REG

Question ID : 26433069454  
Status : Answered  
Chosen Option : 4

Q.11 पाँच दोस्त A, B, C, D और E एक पंक्ति में उत्तर की ओर मुख करके बैठे हैं। E, D के दाईं ओर ठीक बगल में है, और A बाएं सिरे पर है। C, A और D के ठीक मध्य में है। E के दाईं ओर ठीक बगल में कौन होगा?

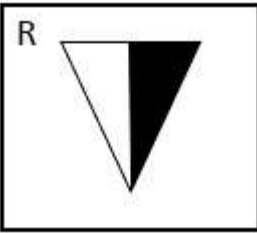
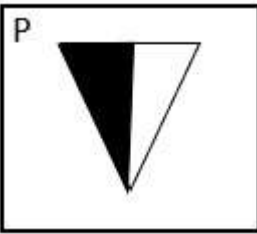
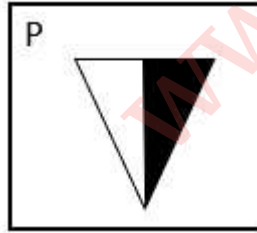
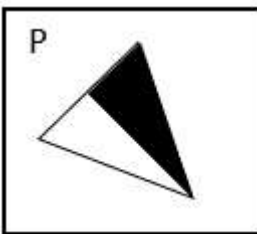
- Ans  1. D  
 2. A  
 3. B  
 4. C

Question ID : 26433079063  
 Status : Answered  
 Chosen Option : 3

Q.12 निम्नलिखित आकृति शृंखला में प्रश्न-चिह्न (?) के स्थान पर नीचे दिए गए विकल्पों में से कौन-सी आकृति आएगी?



Ans

1. 
2. 
3. 
4. 

Question ID : 26433081693  
 Status : Answered  
 Chosen Option : 3

Q.13 निम्नलिखित में से कौन सा विकल्प नीचे दिए गए शब्दों के उस क्रम को निरूपित करता है जिस क्रम में वे अंग्रेजी शब्दकोश में आते हैं?

1. Expensive
2. Experiment
3. Expertise
4. Expiry
5. Expert

Ans ✓ 1. 1, 2, 5, 3, 4

✗ 2. 1, 2, 3, 4, 5

✗ 3. 2, 1, 5, 3, 4

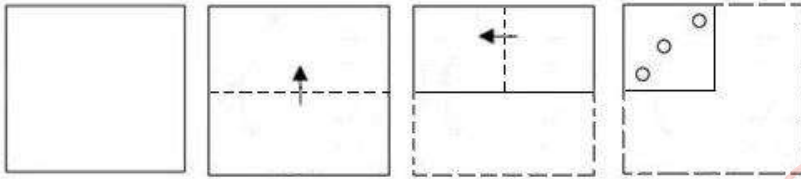
✗ 4. 1, 2, 3, 5, 4

Question ID : 26433086969

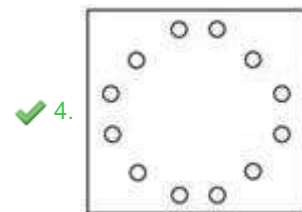
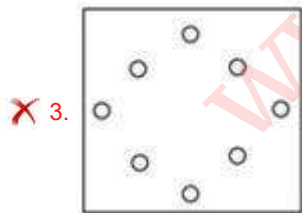
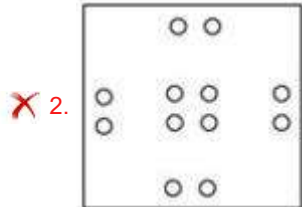
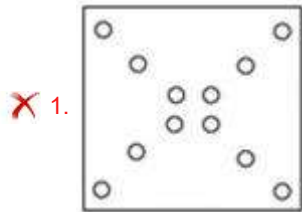
Status : Answered

Chosen Option : 1

Q.14 एक कागज को नीचे दिखाए अनुसार मोड़ा और काटा गया है। कागज की तह खुलने पर यह कैसा दिखाई देगा?



Ans



Question ID : 26433090955

Status : Answered

Chosen Option : 4

Q.15 विकल्पों में दिए गए गणितीय चिह्नों का कौन सा संयोजन निम्न समीकरण में \* चिह्नों के स्थान पर क्रमिक रूप से आकर समीकरण को संतुलित करेगा?  
91 \* 7 \* 2 \* 4 \* 10 \* 5

Ans  1. +, -, =, ÷, ×

2. ÷, =, ×, +, -

3. ×, ÷, +, =, -

4. ×, ÷, +, -, =

Question ID : 26433094994

Status : Answered

Chosen Option : 2

Q.16 तीन कथन दिए गए हैं, जिनके बाद तीन निष्कर्ष I, II और III दिए गए हैं। कथनों को सत्य मानते हुए, भले ही वे सामान्य रूप से ज्ञात तथ्यों से भिन्न प्रतीत होते हों, निर्धारित करें कि कौन-सा/से निष्कर्ष कथनों का तार्किक रूप से अनुसरण करता है/करते हैं।

कथन:

सभी सेब संतरे हैं।

कुछ संतरे केले हैं।

सभी केले कीवी हैं।

निष्कर्ष:

I. कुछ संतरे कीवी हैं।

II. कुछ संतरे सेब हैं।

III. कुछ सेब केले हैं।

Ans  1. केवल निष्कर्ष III अनुसरण करता है

2. सभी निष्कर्ष अनुसरण करते हैं

3. केवल निष्कर्ष II और III अनुसरण करते हैं

4. केवल निष्कर्ष I और II अनुसरण करते हैं

Question ID : 26433090998

Status : Answered

Chosen Option : 4

Q.17 दी गई आकृति की सही दर्पण-प्रतिबिंब का चयन करें, जब दर्पण को MN पर रखा जाता है, जैसा कि नीचे दिखाया गया है।



- Ans
- ✗ 1.  $b t \cap C \exists \Delta \varepsilon$
  - ✗ 2.  $b t a C \exists \nabla \varepsilon$
  - ✓ 3.  $b t \cap C \exists \Delta \varepsilon$
  - ✗ 4.  $b t a \cap \exists \Delta \varepsilon$

Question ID : 26433090147  
Status : Answered  
Chosen Option : 3

Q.18 निम्नलिखित में से कौन सी संख्या दी गई श्रृंखला में प्रश्न चिह्न (?) के स्थान पर आएगी?  
23, 50, 108, 228, ?, 964

- Ans
- ✗ 1. 478
  - ✗ 2. 474
  - ✗ 3. 468
  - ✓ 4. 472

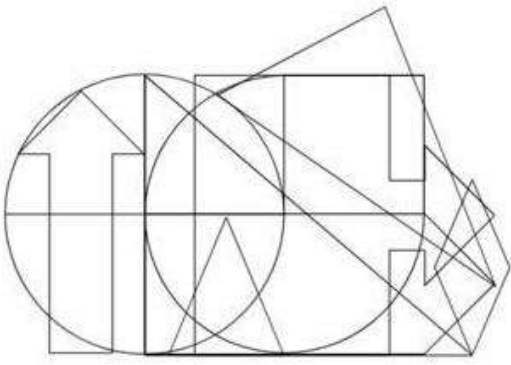
Question ID : 26433085642  
Status : Answered  
Chosen Option : 4

Q.19 कौन-सा अक्षर-समूह दी गई श्रृंखला में प्रश्नचिह्न (?) के स्थान पर आकर श्रृंखला को पूर्ण करेगा?  
KSCA, OXWG, ?, WHKS, AMEY

- Ans
- ✓ 1. SCQM
  - ✗ 2. TQMS
  - ✗ 3. XTRM
  - ✗ 4. VGMR


Question ID : 26433079425  
Status : Answered  
Chosen Option : 1

Q.20 उस विकल्प आकृति का चयन करें जो नीचे दी गई आकृति में अंतर्निहित है।  
(आकृति घुमाने की अनुमति नहीं है)




Ans

✗ 1.




✗ 2.



✓ 3.



✗ 4.





Section : Part-B-General Knowledge and General awareness

Q.1 उपभोक्ता पोषक तत्वों के \_\_\_\_\_ के साथ बेहतर गुणवत्ता वाले खाद्य पदार्थों की अपेक्षा करते हैं।

- Ans
- 1. मिलावट
  - 2. संदूषण
  - 3. प्रतिधारण
  - 4. बहिष्करण

Question ID : 264330115265  
Status : Answered  
Chosen Option : 2

Q.2 बक्सर का युद्ध \_\_\_\_\_ में लड़ा गया था।

- Ans
- 1. 1757
  - 2. 1755
  - 3. 1760
  - 4. 1764

Question ID : 264330115726  
Status : Answered  
Chosen Option : 4

Q.3 बैडमिंटन पोस्ट की ऊँचाई कितनी होती है?

- Ans
- 1. 1.55 m
  - 2. 1.85 m
  - 3. 1.80 m
  - 4. 1.45 m

Question ID : 26433092336  
Status : Not Answered  
Chosen Option : --

Q.4 किसी राज्य के राज्यपाल के सभी कार्यकारी कार्यों को \_\_\_\_\_ के नाम से किया जाना अभिव्यक्त किया जाएगा।

- Ans
- 1. मुख्यमंत्री
  - 2. मंत्रिमंडल
  - 3. राज्यपाल
  - 4. महाधिवक्ता

Question ID : 26433089187  
Status : Answered  
Chosen Option : 1

Q.5 बेंगलुरु में 108 फीट ऊंची कांस्य प्रतिमा, स्टेचू ऑफ़ प्रोस्पेरिटी, जिसका उद्घाटन प्रधानमंत्री नरेंद्र मोदी ने किया था, किसकी स्मृति में बनाई गई है?

- Ans
- 1. वल्लभभाई पटेल
  - 2. नादप्रभु केम्पेगौड़ा
  - 3. मगदी केम्पेगौड़ा
  - 4. ऋषभनाथ

Question ID : 264330115052

Status : Answered

Chosen Option : 4

Q.6 तंजौर बालासरस्वती एक प्रसिद्ध \_\_\_\_\_ नृत्यांगना थीं।

- Ans
- 1. कुचिपुड़ी
  - 2. भरतनाट्यम
  - 3. सत्रीया
  - 4. ओडिसी

Question ID : 264330115894

Status : Answered

Chosen Option : 2

Q.7 कौन से राजनीतिक नेता जून 2022 में केरल के थिक्काकारा निर्वाचन क्षेत्र से विधान सभा के सदस्य बने?

- Ans
- 1. जगदीप धनखड़
  - 2. अमित शाह
  - 3. पिनाराई विजयन
  - 4. उमा थॉमस

Question ID : 264330114972

Status : Answered

Chosen Option : 3

Q.8 धनात्मक शुद्ध निर्यात वाले राष्ट्र में व्यापार \_\_\_\_\_ होता/होती है।

- Ans
- 1. ऋण
  - 2. घाटा
  - 3. अधिशेष
  - 4. राशि

Question ID : 264330115349

Status : Answered

Chosen Option : 3

Q.9 निम्न में से एक ऐसे तत्व की पहचान करें, जो अर्ध-धातु नहीं है।

- Ans
- 1. आर्सेनिक
  - 2. सीजियम
  - 3. सिलिकॉन
  - 4. जर्मेनियम

Question ID : 26433087853

Status : Answered

Chosen Option : 2

Q.10 दिए गए विकल्पों में से \_\_\_\_\_ सिंचाई की एक विधि है।

- Ans
- 1. नहर
  - 2. दोहरी फसल लेना
  - 3. जुताई
  - 4. सीढ़ीदार खेती

Question ID : 264330115434

Status : Answered

Chosen Option : 1

Q.11 सूर्य पृथ्वी से लगभग \_\_\_\_\_ कि.मी. दूर है।

- Ans
- 1. 50 मिलियन
  - 2. 20 मिलियन
  - 3. 150 मिलियन
  - 4. 100 मिलियन

Question ID : 264330116092

Status : Not Answered

Chosen Option : --

Q.12 फुटबॉल मैच में टच लाइन की अधिकतम लंबाई कितनी होती है?

- Ans
- 1. 90 m
  - 2. 120 m
  - 3. 100 m
  - 4. 110 m

Question ID : 26433090753

Status : Answered

Chosen Option : 2

Q.13 \_\_\_\_\_ बजट से भारत में बजट घाटा दिखाने की प्रथा बंद कर दी गई है।

Ans  1. 1994-95

2. 1997-98

3. 2003-04

4. 2001-02

Question ID : 26433054803

Status : Not Answered

Chosen Option : --

Q.14 निम्नलिखित में से कौन एक भरतनाट्यम नर्तकी है?

Ans  1. सितारा देवी

2. तंजौर बालासरस्वती

3. वी सत्यनारायण शर्मा

4. कलामंडलम कल्याणीकुट्टी अम्मा

Question ID : 26433071691

Status : Answered

Chosen Option : 4

Q.15 प्रसिद्ध शासक कनिष्क \_\_\_\_\_ वंश के थे।

Ans  1. हूण

2. कुषाण

3. शुंग

4. शक

Question ID : 26433089863

Status : Answered

Chosen Option : 2

Q.16 वर्तमान में, पृथ्वी पर अलवणजल के 70 प्रतिशत स्रोत कहां से प्राप्त किए जा सकते हैं?

Ans  1. अंटार्कटिका, ग्रीनलैंड और दुनिया के पहाड़ी क्षेत्र

2. प्रशांत महासागर

3. हिमालय और आर्कटिक महासागर

4. हिमालय और बंगाल की खाड़ी

Question ID : 26433087892

Status : Answered

Chosen Option : 1

Q.17 निम्नलिखित राजनीतिक नेताओं में से कौन अगस्त 2022 में वेंकैया नायडू के बाद भारत के उपराष्ट्रपति बने?

- Ans
- 1. विश्वभूषण हरिचंदन
  - 2. जगदीप धनखड़
  - 3. आरिफ मोहम्मद खान
  - 4. भगत सिंह कोश्यारी

Question ID : 264330114888

Status : Answered

Chosen Option : 2

Q.18 निम्नलिखित में से किस अनुच्छेद के तहत संपत्ति के अधिकार को कानूनी अधिकार के रूप में स्थानांतरित कर दिया गया है?

- Ans
- 1. अनुच्छेद 301-A
  - 2. अनुच्छेद 333
  - 3. अनुच्छेद 345
  - 4. अनुच्छेद 300-A

Question ID : 26433089181

Status : Answered

Chosen Option : 4

Q.19 व्यक्तिगत संचार के साधनों का एक उदाहरण दें।

- Ans
- 1. रेडियो
  - 2. कंप्यूटर
  - 3. टेलीफोन सेवा
  - 4. टेलीविजन

Question ID : 264330115596

Status : Answered

Chosen Option : 3

Q.20 विशु पर्व मुख्य रूप से भारत के निम्नलिखित में से किस राज्य में मनाया जाता है?

- Ans
- 1. केरल
  - 2. मध्य प्रदेश
  - 3. असम
  - 4. राजस्थान

Question ID : 26433094896

Status : Answered

Chosen Option : 1

Q.1 जब एक ब्लूटूथ ईयरफोन की कीमत में 12% की वृद्धि की जाती है, तो इसकी बिक्री(ब्लूटूथ ईयरफोन की संख्या) 20% कम हो जाती है। इसके राजस्व पर पड़ने वाला शुद्ध प्रभाव क्या है?

- Ans
- 1. 14.0% की कमी
  - 2. 10.4% की कमी
  - 3. 10.4% की वृद्धि
  - 4. 14.0% की वृद्धि

Question ID : 26433080294

Status : Answered

Chosen Option : 2

Q.2 एक अलमारी ₹15,500 में खरीदी गई और ₹260 इसके परिवहन पर खर्च किए गए। 20% का लाभ प्राप्त करने के लिए इसे किस कीमत पर बेचा जाना चाहिए?

- Ans
- 1. ₹18910
  - 2. ₹18916
  - 3. ₹18912
  - 4. ₹18914

Question ID : 26433079772

Status : Answered

Chosen Option : 3

Q.3 दिए गए व्यंजक का मान क्या है?

$$9 \div \frac{3}{5} + 25 \left( \frac{4}{5} + \frac{3}{15} \right) - 9 \text{ of } \frac{2}{3}$$

- Ans
- 1. 42
  - 2. 37
  - 3. 45
  - 4. 34

Question ID : 26433081636

Status : Answered

Chosen Option : 4

Q.4 चेन्नई में एक आई.पी.एल. मैच का टिकट ₹2,500 का था। जब टिकट की कीमत कम की गई, तो टिकटों की बिक्री(टिकटों की संख्या) में 50% की वृद्धि हुई, लेकिन राजस्व में 15% की कमी देखी गई। टिकट की घटी हुई कीमत (दशमलव के बाद दो स्थानों तक पूर्णांकित) क्या थी?

- Ans
- 1. ₹2,250.33
  - 2. ₹2,125.67
  - 3. ₹1,450.33
  - 4. ₹1416.67

Question ID : 26433076222

Status : Answered

Chosen Option : 4

Q.5 एक दुकानदार फलों का उपहार पैकेट बेच रहा है, जिसमें वह सेब और आम मिला कर दे रहा है। पैकेट में ₹100 प्रति kg की औसत दर से कुल 12 kg फल हैं। पैकेट में ₹90 प्रति kg की दर से 8 kg सेब हैं, जबकि ₹X प्रति kg की दर से 4 kg आम हैं। 'X' का मान ज्ञात करें।  
नोट: पैकिंग के लिए अन्य सभी शुल्कों पर ध्यान नहीं दिया जाना है।

- Ans
- 1. 110
  - 2. 100
  - 3. 120
  - 4. 95

Question ID : 26433082498

Status : Answered

Chosen Option : 3

Q.6 रमेश को ₹800 के अंकित मूल्य वाली एक पुस्तक पर दो ऑफर मिल रहे थे। वह या तो 20% प्रत्येक की दो क्रमिक छूट ले सकता था, या 30% और 10% की दो क्रमिक छूट ले सकता था। यदि रमेश ने बेहतर ऑफर वाली योजना को चुना होता, तो उसने अन्य योजना के मुकाबले कितनी अधिक बचत की होती?

- Ans
- 1. ₹8
  - 2. ₹6
  - 3. ₹16
  - 4. ₹20

Question ID : 26433076328

Status : Answered

Chosen Option : 1

Q.7 Rs.1,920 में बेची गई किसी वस्तु पर अर्जित लाभ का प्रतिशत, Rs.1,280 में इसी वस्तु को बेचे जाने पर हुई हानि के प्रतिशत के बराबर है। 25% लाभ कमाने के लिए वस्तु को किस कीमत पर बेचा जाना चाहिए?

- Ans
- 1. Rs.2,000
  - 2. Rs.1,940
  - 3. Rs.2,020
  - 4. Rs.1,960

Question ID : 26433075847

Status : Answered

Chosen Option : 1

Q.8 एक पुलिसकर्मी ने 420 m की दूरी से एक चोर को देखा। चोर भागने लगता है और पुलिसकर्मी उसका पीछा करता है। पुलिसकर्मी और चोर क्रमशः 25 km/h और 20 km/h की चाल से दौड़ते हैं। तीन मिनट के बाद उनके बीच की दूरी क्या होगी?

- Ans
- 1. 250 m
  - 2. 320 m
  - 3. 170 m
  - 4. 230 m

Question ID : 26433075739

Status : Answered

Chosen Option : 3

Q.9 A और B एक साथ काम करते हुए एक प्रोजेक्ट को 16 दिनों में पूरा कर सकते हैं जबकि B अकेला इसे 24 दिनों में पूरा कर सकता है। A अकेले प्रोजेक्ट को कितने दिनों में पूरा कर सकता है?

- Ans
- 1. 44 दिन
  - 2. 36 दिन
  - 3. 48 दिन
  - 4. 42 दिन

Question ID : 26433080362

Status : Answered

Chosen Option : 3

Q.10 40 आदमी एक काम को 15 दिनों में पूरा कर सकते हैं। उन्होंने काम करना शुरू किया, और 5 दिनों के बाद 10 और आदमी उनके साथ जुड़ गए। पूरा काम कितने दिनों में पूरा होगा?

- Ans
- 1. 12
  - 2. 11
  - 3. 13
  - 4. 10

Question ID : 26433082991

Status : Answered

Chosen Option : 3

Q.11 एक गोले का संपूर्ण पृष्ठीय क्षेत्रफल  $22176 \text{ cm}^2$  है। गोले का व्यास ज्ञात कीजिए।

$\left( \pi = \frac{22}{7} \text{ का उपयोग कीजिए} \right)$

- Ans
- 1. 24 cm
  - 2. 42 cm
  - 3. 21 cm
  - 4. 84 cm

Question ID : 26433087407

Status : Answered

Chosen Option : 4



Q.12 एक इलेक्ट्रॉनिक दुकान किसी भी इलेक्ट्रॉनिक उपकरण की खरीद पर 20% की छूट दे रही है, जिसकी कीमत ₹80,000 या उससे अधिक है, ₹50,000 और ₹79,999 के बीच की वस्तुओं पर 16% की छूट, ₹20,000 से लेकर ₹49,999 तक की वस्तुओं पर 10% की छूट और मोबाइल कवर, इयरफ़ोन, चार्जर आदि जैसे किसी भी मोबाइल एक्सेसरीज़ की खरीद पर 3% की छूट दे रही है। नियम और शर्तों के अनुसार ये सभी छूट स्वतंत्र हैं और केवल मूल्य रेंज के आधार पर प्रदान की जाती हैं। अजय ने ₹40,000 की कीमत का एक मोबाइल, ₹90,000 का एक लैपटॉप और ₹400 का एक मोबाइल कवर खरीदा। उसे कुल कितनी छूट मिली?

- Ans
- 1. ₹22,002
  - 2. ₹22,120
  - 3. ₹22,012
  - 4. ₹21,012

Question ID : 26433082504

Status : Answered

Chosen Option : 3

Q.13 एक राशि चक्रवृद्धि ब्याज पर 3 वर्षों में Rs.4,900 और 5 वर्षों में Rs.6,400 हो जाती है, जब ब्याज वार्षिक रूप से चक्रवृद्धि किया जाता है। वार्षिक ब्याज दर ज्ञात कीजिए।

- Ans
- 1.  $13\frac{2}{7}\%$
  - 2.  $11\frac{2}{7}\%$
  - 3.  $12\frac{2}{7}\%$
  - 4.  $14\frac{2}{7}\%$

Question ID : 26433082979

Status : Answered

Chosen Option : 4

Q.14 वर्ष 2019 में ₹1,20,000 की राशि का 12% वार्षिक की दर से सावधि जमा में निवेश किया गया था, जिसकी गणना वार्षिक चक्रवृद्धि आधार पर की गई। वर्ष 2022 में इसका मूल्य लगभग क्या होगा?

- Ans
- 1. ₹1,61,253
  - 2. ₹1,43,200
  - 3. ₹1,68,591
  - 4. ₹1,56,400

Question ID : 26433091564

Status : Answered

Chosen Option : 3

Q.15 यदि एक बेलन की ऊंचाई में 25% की वृद्धि की जाती है, और उसके आधार की त्रिज्या में 15% की कमी की जाती है, तो उसके वक्र पृष्ठीय क्षेत्रफल में प्रतिशत वृद्धि/कमी ज्ञात कीजिए।

- Ans
- 1. 6.25% वृद्धि
  - 2. 2.23% कमी
  - 3. 4.15% कमी
  - 4. 3.25% वृद्धि

Question ID : 26433075006

Status : Answered

Chosen Option : 1

Q.16 एक पुलिसकर्मी 120 मीटर आगे एक चोर को देखता है, तुरंत पुलिसकर्मी चोर का पीछा करना शुरू कर देता है। पुलिसकर्मी एक मिनट में 26 मीटर और चोर 20 मीटर दौड़ता है। पुलिसकर्मी कितने समय में चोर को पकड़ लेगा?

- Ans
- 1. 19 मिनट
  - 2. 20 मिनट
  - 3. 18 मिनट
  - 4. 21 मिनट

Question ID : 26433075474

Status : Answered

Chosen Option : 2

Q.17 यदि प्रथम 110 प्राकृत संख्याओं का लघुत्तम समापवर्त्य N है, तो प्रथम 115 प्राकृत संख्याओं का लघुत्तम समापवर्त्य ज्ञात कीजिए।

- Ans
- 1.  $111 \times 112 \times 113 \times 114 \times 115N$
  - 2.  $115N$
  - 3.  $111 \times 113N$
  - 4.  $113N$

Question ID : 26433090316

Status : Answered

Chosen Option : 1

Q.18 दूध और पानी के मिश्रण में 18 भाग दूध और 8 भाग पानी है। मिश्रण के कितने भाग को हटाकर पानी से प्रतिस्थापित कर दिया जाना चाहिए, ताकि पानी और दूध का अनुपात बराबर हो जाए?

- Ans
- 1.  $\frac{10}{18}$
  - 2.  $\frac{12}{18}$
  - 3.  $\frac{1}{18}$
  - 4.  $\frac{5}{18}$

Question ID : 26433081548  
Status : Answered  
Chosen Option : 4

Q.19 दूध और पानी के 90 लीटर मिश्रण में दूध और पानी का अनुपात 4 : 1 है। मिश्रण में कितना पानी मिलाना चाहिए ताकि दूध का पानी से अनुपात 3 : 1 हो जाए?

- Ans
- 1. 5.5 लीटर
  - 2. 7 लीटर
  - 3. 6 लीटर
  - 4. 6.5 लीटर

Question ID : 26433076189  
Status : Answered  
Chosen Option : 3

Q.20 यदि 12 पुरुष 60 मीटर लंबी दीवार का निर्माण 5 दिन में कर सकते हैं, तो 24 पुरुष 2 दिन में उसी दीवार की कितनी लंबाई का निर्माण कर सकते हैं?

- Ans
- 1. 44 मीटर
  - 2. 46 मीटर
  - 3. 42 मीटर
  - 4. 48 मीटर

Question ID : 26433080122  
Status : Answered  
Chosen Option : 4

Q.1 Select the most appropriate meaning of the underlined idiom that can be substituted in the following sentence.

I am at sea after listening to the arguments.

- Ans
- 1. totally relaxed
  - 2. perplexed
  - 3. stuck in the seas
  - 4. sailing on the seas

Question ID : 26433072235  
Status : Not Answered  
Chosen Option : --

Q.2 Select the most appropriate option that can substitute the underlined segment in the given sentence.

She heard a loud humming noise and guess that it is being an aeroplane.

- Ans
- 1. has guessed that it is aeroplane
  - 2. guessing that it were aeroplane
  - 3. to guess that it is being the aeroplane
  - 4. guessed that it was an aeroplane

Question ID : 26433092289  
Status : Not Answered  
Chosen Option : --

Q.3 Select the most appropriate option that can substitute the underlined segment in the given sentence.

Travel on a hot dusty train gives me no pleasure.

- Ans
- 1. Travels on a
  - 2. Travel in a
  - 3. Travelling on a
  - 4. Travelling at a

Question ID : 264330102395  
Status : Not Answered  
Chosen Option : --

Q.4 Select the most appropriate homonym to fill in the blank.

I had to keep very \_\_\_\_\_ when the photographer was taking my picture.

- Ans
- 1. chum
  - 2. shrill
  - 3. still
  - 4. lid

Question ID : 26433088788  
Status : Not Answered  
Chosen Option : --

Q.5 Complete the sentence by choosing the most appropriate synonym of the underlined word.

If the answer is false, it is \_\_\_\_\_.

- Ans
- 1. correct
  - 2. untrue
  - 3. genuine
  - 4. right

Question ID : 26433088863  
Status : Not Answered  
Chosen Option : --

Q.6 Select the most appropriate ANTONYM of the word given in the bracket to fill in the blank.

If a person commits a crime with (malice) \_\_\_\_\_, they did it on purpose.

- Ans
- 1. disdain
  - 2. rancour
  - 3. disgust
  - 4. goodwill

Question ID : 26433059598  
Status : Not Answered  
Chosen Option : --

Q.7 Select the most appropriate ANTONYM of the underlined word in the given sentence.  
The engineers finally destroyed the ship to its original form.

- Ans
- 1. restored
  - 2. reversed
  - 3. abolished
  - 4. started

Question ID : 26433055484  
Status : Not Answered  
Chosen Option : --

Q.8 Select the most appropriate synonym for the underlined word in the given sentence.

He was  brusque and candid in the interview.

- Ans
- 1. brave
  - 2. abrupt
  - 3. pursue
  - 4. vociferous

Question ID : 26433072074  
Status : Not Answered  
Chosen Option : --

Q.9 Select the correct option to substitute the underlined segment in the given sentence. If no substitution is required, select 'No substitution'.

One must do his work.

- Ans
- 1. their work
  - 2. her work
  - 3. one's work
  - 4. No substitution

Question ID : 26433090809

Status : Not Answered

Chosen Option : --

Q.10 Select the correct spelling of the word to fill in the blank in the given sentence.

Trouble and disease give us bad \_\_\_\_\_.

- Ans
- 1. expereinces
  - 2. experiences
  - 3. xpreiences
  - 4. xperiences

Question ID : 26433084768

Status : Not Answered

Chosen Option : --

Q.11 The following sentence has been split into four segments. Identify the segment that contains a grammatical error.

I visit my school / once a year / to meeting / my former teachers.

- Ans
- 1. once a year
  - 2. I visit my school
  - 3. my former teachers
  - 4. to meeting

Question ID : 264330108880

Status : Not Answered

Chosen Option : --

Q.12 Select the most appropriate idiom for the underlined segment.

I thought I finished my work but I realised that all of my work is faulty. I have to start it over again.

- Ans
- 1. break the back of something
  - 2. go back to the drawing board
  - 3. break new ground
  - 4. get a pat on the back

Question ID : 264330100298

Status : Not Answered

Chosen Option : --

Q.13 Select the most appropriate synonym of the word given in brackets and complete the sentence.

The weather is \_\_\_\_\_ (gloomy) and windy.

- Ans
- 1. bright
  - 2. jovial
  - 3. cloudy
  - 4. shiny

Question ID : 26433089400  
Status : Not Answered  
Chosen Option : --

Q.14 Select the most appropriate synonym of the given word.

Slack

- Ans
- 1. Hyperactive
  - 2. Inactive
  - 3. Provocation
  - 4. Tight

Question ID : 26433088760  
Status : Not Answered  
Chosen Option : --

Q.15 Identify the MISSPELT word in the following sentence.

In our school, innovative and effective academic and evaluation strategies and intervations are needed.

- Ans
- 1. strategies
  - 2. effective
  - 3. innovative
  - 4. intervations

Question ID : 26433073660  
Status : Not Answered  
Chosen Option : --

**Comprehension:**

In the following passage, some words have been deleted. Read the passage carefully and select the most appropriate option to fill in each blank.

And you could hardly call it a (1) \_\_\_\_\_ at all, because Uncle Bob held his (2) \_\_\_\_\_ as though he had hold of a shovel, and tried to scoop up every ball that came over the net, even those he should have left for Uncle Ted. And then he took off his (3) \_\_\_\_\_ and played in just his trousers and stockinged feet, and with his face split nearly in two by his grin, he started (4) \_\_\_\_\_ over the net, and playing on Arnold's side instead. And the ball would (5) \_\_\_\_\_ on the roof of the house, or land in the rambler roses and bring down a shower of petals, and getting it again Uncle Bob would shake down more petals all over himself, so they'd be in his hair.

**SubQuestion No : 16**

**Q.16** Select the most appropriate option to fill in blank no. 1.

- Ans
- 1. cork
  - 2. ball
  - 3. racket
  - 4. game

Question ID : 26433092980

Status : Not Answered

Chosen Option : --

**Comprehension:**

In the following passage, some words have been deleted. Read the passage carefully and select the most appropriate option to fill in each blank.

And you could hardly call it a (1) \_\_\_\_\_ at all, because Uncle Bob held his (2) \_\_\_\_\_ as though he had hold of a shovel, and tried to scoop up every ball that came over the net, even those he should have left for Uncle Ted. And then he took off his (3) \_\_\_\_\_ and played in just his trousers and stockinged feet, and with his face split nearly in two by his grin, he started (4) \_\_\_\_\_ over the net, and playing on Arnold's side instead. And the ball would (5) \_\_\_\_\_ on the roof of the house, or land in the rambler roses and bring down a shower of petals, and getting it again Uncle Bob would shake down more petals all over himself, so they'd be in his hair.

**SubQuestion No : 17**

**Q.17** Select the most appropriate option to fill in blank no. 2.

- Ans
- 1. ball
  - 2. racket
  - 3. cork
  - 4. softball

Question ID : 26433092981

Status : Not Answered

Chosen Option : --



**Comprehension:**

In the following passage, some words have been deleted. Read the passage carefully and select the most appropriate option to fill in each blank.

And you could hardly call it a (1) \_\_\_\_\_ at all, because Uncle Bob held his (2) \_\_\_\_\_ as though he had hold of a shovel, and tried to scoop up every ball that came over the net, even those he should have left for Uncle Ted. And then he took off his (3) \_\_\_\_\_ and played in just his trousers and stockinged feet, and with his face split nearly in two by his grin, he started (4) \_\_\_\_\_ over the net, and playing on Arnold's side instead. And the ball would (5) \_\_\_\_\_ on the roof of the house, or land in the rambler roses and bring down a shower of petals, and getting it again Uncle Bob would shake down more petals all over himself, so they'd be in his hair.

**SubQuestion No : 18**

**Q.18** Select the most appropriate option to fill in blank no. 3.

- Ans
- 1. belt
  - 2. pants
  - 3. shirt
  - 4. trousers

Question ID : 26433092982

Status : Not Answered

Chosen Option : --

**Comprehension:**

In the following passage, some words have been deleted. Read the passage carefully and select the most appropriate option to fill in each blank.

And you could hardly call it a (1) \_\_\_\_\_ at all, because Uncle Bob held his (2) \_\_\_\_\_ as though he had hold of a shovel, and tried to scoop up every ball that came over the net, even those he should have left for Uncle Ted. And then he took off his (3) \_\_\_\_\_ and played in just his trousers and stockinged feet, and with his face split nearly in two by his grin, he started (4) \_\_\_\_\_ over the net, and playing on Arnold's side instead. And the ball would (5) \_\_\_\_\_ on the roof of the house, or land in the rambler roses and bring down a shower of petals, and getting it again Uncle Bob would shake down more petals all over himself, so they'd be in his hair.

**SubQuestion No : 19**

**Q.19** Select the most appropriate option to fill in blank no. 4.

- Ans
- 1. swimming
  - 2. jumping
  - 3. slimming
  - 4. skipping

Question ID : 26433092983

Status : Not Answered

Chosen Option : --

### Comprehension:

In the following passage, some words have been deleted. Read the passage carefully and select the most appropriate option to fill in each blank.

And you could hardly call it a (1) \_\_\_\_\_ at all, because Uncle Bob held his (2) \_\_\_\_\_ as though he had hold of a shovel, and tried to scoop up every ball that came over the net, even those he should have left for Uncle Ted. And then he took off his (3) \_\_\_\_\_ and played in just his trousers and stockinged feet, and with his face split nearly in two by his grin, he started (4) \_\_\_\_\_ over the net, and playing on Arnold's side instead. And the ball would (5) \_\_\_\_\_ on the roof of the house, or land in the rambler roses and bring down a shower of petals, and getting it again Uncle Bob would shake down more petals all over himself, so they'd be in his hair.

### SubQuestion No : 20

Q.20 Select the most appropriate option to fill in blank no. 5.

- Ans
- 1. flake
  - 2. bounce
  - 3. leap
  - 4. jump

Question ID : 26433092984

Status : Not Answered

Chosen Option : --

### Section : Part-D-Hindi

Q.1 निम्नलिखित वाक्य के रेखांकित शब्द के स्थान पर सर्वोचित विकल्प का चयन कीजिए।  
उसने उपाय किया ताकि परीक्षा उत्तीर्ण कर सके।

- Ans
- 1. परिश्रम
  - 2. सहयोग
  - 3. तप
  - 4. अनुष्ठान

Question ID : 26433084963

Status : Answered

Chosen Option : 1

Q.2 'डंके की \_\_\_\_\_ पर कहना'  
उक्त मुहावरे में रिक्त स्थान की पूर्ति उचित शब्द द्वारा कीजिए।

- Ans
- 1. टंकार
  - 2. चोट
  - 3. मार
  - 4. आवाज

Question ID : 26433069690

Status : Answered

Chosen Option : 2

Q.3 'चक्की के दो पाटों में कोई सबुत नहीं बचता।' इस वाक्य के निम्न में से किस शब्द में वर्तनी की अशुद्धि है?

- Ans
- 1. बचता
  - 2. सबुत
  - 3. चक्की
  - 4. पाटों

Question ID : 26433085066  
Status : Answered  
Chosen Option : 2

Q.4 'पंजाब \_\_\_\_\_।' उपर्युक्त वाक्य में रिक्त स्थान के लिए उपयुक्त विकल्प निम्न में से क्या होगा?

- Ans
- 1. से अभिप्राय पांच नदियों की धरती से है
  - 2. से अभिप्राय पांच संतों की धरती से है
  - 3. से अभिप्राय पांच धर्मों की धरती से है
  - 4. से अभिप्राय पांच ऋषियों की धरती से है

Question ID : 26433067050  
Status : Answered  
Chosen Option : 1

Q.5 'अनुचित बात के लिए आग्रह', वाक्यांश के लिए एक शब्द \_\_\_\_\_ है।

- Ans
- 1. दुराग्रह
  - 2. दुराग्रही
  - 3. सत्याग्रह
  - 4. दुस्साहस

Question ID : 26433062937  
Status : Answered  
Chosen Option : 3

Q.6 'घाव पर नमक \_\_\_\_\_' उपरोक्त मुहावरे में रिक्त स्थान के लिए उपयुक्त विकल्प का चयन कीजिए।

- Ans
- 1. रगड़ना
  - 2. मलना
  - 3. डालना
  - 4. छिड़कना

Question ID : 26433069685  
Status : Answered  
Chosen Option : 4

Q.7 निम्न में से कौन-सा शब्द समूह 'बादल' शब्द का पर्यायवाची समूह है?

- Ans
- 1. गिरी, ओद्रे
  - 2. जलधर, नग
  - 3. क्षणदा, जलधर
  - 4. जलद, नीरद

Question ID : 26433067073

Status : Answered

Chosen Option : 4

Q.8 निम्न वाक्यांश के लिए उपयुक्त एक शब्द का चयन विकल्पों में से कीजिए।  
भविष्य में होने वाला

- Ans
- 1. क्रेता
  - 2. अपूर्व
  - 3. वक्ता
  - 4. भावी

Question ID : 26433070093

Status : Answered

Chosen Option : 4

Q.9 निम्नलिखित विकल्पों में से किस एक वाक्य में सर्वनाम के प्रयोग सम्बन्धी अशुद्धि है?

- Ans
- 1. जो कुछ मेरा है, वह सब आपका है।
  - 2. ये मेरे पिता जी हैं।
  - 3. मोहन तुम आकर क्षमा माँगेगा।
  - 4. तू बड़ा हो गया है, तेरी शादी करा दूँ।

Question ID : 26433062976

Status : Answered

Chosen Option : 3

Q.10 निम्नलिखित शब्द के सही पर्यायवाची शब्द का चयन विकल्पों में से कीजिए।  
समुद्र

- Ans
- 1. व्याल
  - 2. सरिता
  - 3. सारंग
  - 4. पयोनिधि

Question ID : 26433066941

Status : Answered

Chosen Option : 4

Q.11 'आज की कथा को ध्यान से सुननी चाहिए।' इस वाक्य में अशुद्ध शब्द है-

- Ans
- 1. चाहिए
  - 2. ध्यान
  - 3. कथा
  - 4. सुननी

Question ID : 26433066798

Status : Answered

Chosen Option : 4

Q.12 निम्नलिखित में से शुद्ध वाक्य है-

- Ans
- 1. मोहन बहुत माधव छात्रा है।
  - 2. मोहन बहुत मेधाव छात्र है।
  - 3. मोहन बहत मेधावी छात्र है।
  - 4. मोहन बहुत मेधावी छात्र है।

Question ID : 26433080932

Status : Answered

Chosen Option : 4

Q.13 निम्नलिखित में से उस वाक्य का चयन कीजिए जिसमें 'अनिश्चयवाचक सर्वनाम' का शुद्ध प्रयोग किया गया है।

- Ans
- 1. यह कार्य कुछ नहीं कर सकता।
  - 2. मेरी समझ में कोई न कोई नहीं आ रहा है।
  - 3. आप कोई हैं जो दुखी होकर वन में भटक रहे हैं।
  - 4. आपने तो मेरी बात का कुछ का कुछ अर्थ निकाल लिया।

Question ID : 26433063007

Status : Answered

Chosen Option : 2

Q.14 निम्नलिखित में से 'युद्ध' के लिए समानार्थी शब्द नहीं है-

- Ans
- 1. संग्राम
  - 2. सहचर
  - 3. समर
  - 4. रण

Question ID : 26433085082

Status : Answered

Chosen Option : 3

Q.15 "वह व्यक्ति उनका अनुचर है।"  
उक्त वाक्य में प्रयुक्त 'अनुचर' के स्थान पर उसके समानार्थी शब्द का प्रयोग निम्न में से किस वाक्य में नहीं किया गया है?

- Ans  1. वह व्यक्ति उनका निर्जर है।  
 2. वह व्यक्ति उनका चाकर है।  
 3. वह व्यक्ति उनका नौकर है।  
 4. वह व्यक्ति उनका सेवक है।

Question ID : 26433067034

Status : Answered

Chosen Option : 1

#### Comprehension:

प्रश्न संख्या 1-5 के उत्तर निम्न अवतरण के आधार पर दीजिए।  
भारतीय मनीषा ने जिस प्रकार संतोष करने के लिए हमें सीख दी है, उसी तरह (1). \_\_\_\_\_ करने के लिए भी कहा है। चाणक्य के अनुसार हमें इन तीन उपक्रमों में संतोष नहीं करना चाहिए- त्रिषु नैव कर्तव्यः विद्यायां जप दानयोः अर्थात् विद्यार्जन में कभी संतोष नहीं करना चाहिए कि बस, बहुत ज्ञान (2). \_\_\_\_\_ कर लिया इसी तरह जप और दान करने में भी (3). \_\_\_\_\_ नहीं करना चाहिए। वैसे संतोष करने के लिए तो कहा गया है- जब आवे संतोष धन, सब धन धुरि समान। हमें जो प्राप्त हो उसमें ही संतोष करना चाहिए- 'साईं इतना दीजिए जामे कुटुंब समाय मैं भी भूखा न रहूँ, (4). \_\_\_\_\_ न भूखा जाए। आज के मनुष्य की सांसारिकता में बढ़ती लिप्तता, वैश्विक बाजारवाद और भौतिकता की चकाचौंध के कारण संत्रास, कुंठा और असंतोष दिन-प्रतिदिन बढ़ता ही जा रहा है। इसी असंतोष को दूर करने के लिए संतोषी बनना (5). \_\_\_\_\_ हो गया है।

#### SubQuestion No : 16

Q.16 रिक्त स्थान (1) के लिए सर्वाधिक उपयुक्त शब्द इनमें से कौन सा होगा?

- Ans  1. असंतोष  
 2. लालच  
 3. प्रेम  
 4. गुस्सा

Question ID : 26433092226

Status : Answered

Chosen Option : 1

**Comprehension:**

प्रश्न संख्या 1-5 के उत्तर निम्न अवतरण के आधार पर दीजिए।

भारतीय मनीषा ने जिस प्रकार संतोष करने के लिए हमें सीख दी है, उसी तरह (1). \_\_\_\_\_ करने के लिए भी कहा है। चाणक्य के अनुसार हमें इन तीन उपक्रमों में संतोष नहीं करना चाहिए- त्रिषु नैव कर्तव्यः विद्यायां जप दानयोः अर्थात् विद्यार्जन में कभी संतोष नहीं करना चाहिए कि बस, बहुत ज्ञान (2). \_\_\_\_\_ कर लिया इसी तरह जप और दान करने में भी (3). \_\_\_\_\_ नहीं करना चाहिए। वैसे संतोष करने के लिए तो कहा गया है- जब आवे संतोष धन, सब धन धुरि समान। हमें जो प्राप्त हो उसमें ही संतोष करना चाहिए- 'साईं इतना दीजिए जामे कुटुंब समाय मैं भी भूखा न रहूँ, (4). \_\_\_\_\_ न भूखा जाए। आज के मनुष्य की सांसारिकता में बढ़ती लिप्तता, वैश्विक बाजारवाद और भौतिकता की चकाचौंध के कारण संत्रास, कुंठा और असंतोष दिन-प्रतिदिन बढ़ता ही जा रहा है। इसी असंतोष को दूर करने के लिए संतोषी बनना (5). \_\_\_\_\_ हो गया है।

**SubQuestion No : 17**

Q.17 रिक्त स्थान (2) के लिए सर्वाधिक उपयुक्त शब्द इनमें से कौन सा होगा?

- Ans  1. प्रदान  
 2. अर्जित  
 3. इकठ्ठा  
 4. दान

Question ID : 26433092227

Status : Answered

Chosen Option : 2

**Comprehension:**

प्रश्न संख्या 1-5 के उत्तर निम्न अवतरण के आधार पर दीजिए।

भारतीय मनीषा ने जिस प्रकार संतोष करने के लिए हमें सीख दी है, उसी तरह (1). \_\_\_\_\_ करने के लिए भी कहा है। चाणक्य के अनुसार हमें इन तीन उपक्रमों में संतोष नहीं करना चाहिए- त्रिषु नैव कर्तव्यः विद्यायां जप दानयोः अर्थात् विद्यार्जन में कभी संतोष नहीं करना चाहिए कि बस, बहुत ज्ञान (2). \_\_\_\_\_ कर लिया इसी तरह जप और दान करने में भी (3). \_\_\_\_\_ नहीं करना चाहिए। वैसे संतोष करने के लिए तो कहा गया है- जब आवे संतोष धन, सब धन धुरि समान। हमें जो प्राप्त हो उसमें ही संतोष करना चाहिए- 'साईं इतना दीजिए जामे कुटुंब समाय मैं भी भूखा न रहूँ, (4). \_\_\_\_\_ न भूखा जाए। आज के मनुष्य की सांसारिकता में बढ़ती लिप्तता, वैश्विक बाजारवाद और भौतिकता की चकाचौंध के कारण संत्रास, कुंठा और असंतोष दिन-प्रतिदिन बढ़ता ही जा रहा है। इसी असंतोष को दूर करने के लिए संतोषी बनना (5). \_\_\_\_\_ हो गया है।

**SubQuestion No : 18**

Q.18 रिक्त स्थान (3) के लिए सर्वाधिक उपयुक्त शब्द इनमें से कौन सा होगा?

- Ans  1. कम  
 2. गुस्सा  
 3. अधिक  
 4. संतोष

Question ID : 26433092228

Status : Answered

Chosen Option : 4

**Comprehension:**

प्रश्न संख्या 1-5 के उत्तर निम्न अवतरण के आधार पर दीजिए।

भारतीय मनीषा ने जिस प्रकार संतोष करने के लिए हमें सीख दी है, उसी तरह (1). \_\_\_\_\_ करने के लिए भी कहा है। चाणक्य के अनुसार हमें इन तीन उपक्रमों में संतोष नहीं करना चाहिए- त्रिषु नैव कर्तव्यः विद्यायां जप दानयोः अर्थात् विद्यार्जन में कभी संतोष नहीं करना चाहिए कि बस, बहुत ज्ञान (2). \_\_\_\_\_ कर लिया इसी तरह जप और दान करने में भी (3). \_\_\_\_\_ नहीं करना चाहिए। वैसे संतोष करने के लिए तो कहा गया है- जब आवे संतोष धन, सब धन धुरि समान। हमें जो प्राप्त हो उसमें ही संतोष करना चाहिए- 'साईं इतना दीजिए जामे कुटुंब समाय मैं भी भूखा न रहूँ, (4). \_\_\_\_\_ न भूखा जाए। आज के मनुष्य की सांसारिकता में बढ़ती लिप्तता, वैश्विक बाजारवाद और भौतिकता की चकाचौंध के कारण संत्रास, कुंठा और असंतोष दिन-प्रतिदिन बढ़ता ही जा रहा है। इसी असंतोष को दूर करने के लिए संतोषी बनना (5). \_\_\_\_\_ हो गया है।

**SubQuestion No : 19**

Q.19 रिक्त स्थान (4) के लिए सर्वाधिक उपयुक्त शब्द इनमें से कौन सा होगा?

- Ans
- 1. राजा
  - 2. शत्रु
  - 3. साधु
  - 4. मित्र

Question ID : 26433092229

Status : Answered

Chosen Option : 3

**Comprehension:**

प्रश्न संख्या 1-5 के उत्तर निम्न अवतरण के आधार पर दीजिए।

भारतीय मनीषा ने जिस प्रकार संतोष करने के लिए हमें सीख दी है, उसी तरह (1). \_\_\_\_\_ करने के लिए भी कहा है। चाणक्य के अनुसार हमें इन तीन उपक्रमों में संतोष नहीं करना चाहिए- त्रिषु नैव कर्तव्यः विद्यायां जप दानयोः अर्थात् विद्यार्जन में कभी संतोष नहीं करना चाहिए कि बस, बहुत ज्ञान (2). \_\_\_\_\_ कर लिया इसी तरह जप और दान करने में भी (3). \_\_\_\_\_ नहीं करना चाहिए। वैसे संतोष करने के लिए तो कहा गया है- जब आवे संतोष धन, सब धन धुरि समान। हमें जो प्राप्त हो उसमें ही संतोष करना चाहिए- 'साईं इतना दीजिए जामे कुटुंब समाय मैं भी भूखा न रहूँ, (4). \_\_\_\_\_ न भूखा जाए। आज के मनुष्य की सांसारिकता में बढ़ती लिप्तता, वैश्विक बाजारवाद और भौतिकता की चकाचौंध के कारण संत्रास, कुंठा और असंतोष दिन-प्रतिदिन बढ़ता ही जा रहा है। इसी असंतोष को दूर करने के लिए संतोषी बनना (5). \_\_\_\_\_ हो गया है।

**SubQuestion No : 20**

Q.20 रिक्त स्थान (5) के लिए सर्वाधिक उपयुक्त शब्द इनमें से कौन सा होगा?

- Ans
- 1. आवश्यक
  - 2. नहीं
  - 3. अधिक
  - 4. कम

Question ID : 26433092230

Status : Answered

Chosen Option : 1