

# Constable GD in CAPFs SSF Rifleman GD in Assam Rifles and Sepoy in NCB Examination 2022

Roll Number	www.govtjobsalert.in
Candidate Name	www.govtjobsalert.in
Venue Name	iON Digital Zone iDZ 1 Patliputra
Exam Date	01/02/2023
Exam Time	2:30 PM - 3:30 PM
Subject	Constable GD Examination 2022

## Section : Part-A-General Intelligence and Reasoning

Q.1 दिए गए विकल्पों में से उस अक्षर-समूह का चयन कीजिए जो निम्न श्रृंखला में प्रश्न-चिह्न (?) के स्थान पर आ सकता है।  
GSLC, AMOF, UGRI, ? , IUXX

- Ans
- 1. DSTN
  - 2. OULC
  - 3. OAUL
  - 4. DPGE

Question ID : 26433074751  
Status : Answered  
Chosen Option : 3

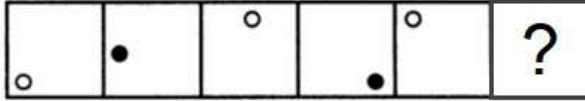
Q.2 दिए गए समीकरण को संतुलित करने के लिए विकल्पों में दी गई किन दो संख्याओं(अंको को नहीं) को परस्पर बदलना होगा?  
 $56 \div 16 \times 8 + 45 \times 13 = 697$

- Ans
- 1. 8 और 13
  - 2. 8 और 45
  - 3. 16 और 45
  - 4. 16 और 8

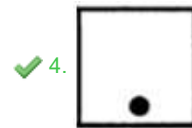
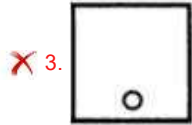
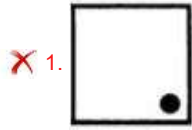
Question ID : 26433090136  
Status : Answered  
Chosen Option : 4

Q.3 दिए गए विकल्पों में से उस आकृति का चयन करें जो निम्नलिखित श्रृंखला में

प्रश्नवाचक चिह्न (?) का स्थान ले सकती है।



Ans



Question ID : 26433080503

Status : Answered

Chosen Option : 4

Q.4 निम्नलिखित में से कौन-सी संख्या दी गई श्रृंखला में प्रश्न-चिह्न (?) के स्थान पर आकर उसे पूर्ण करेगी?  
125, 88, 63, 46, ?

Ans ✗ 1. 35

✗ 2. 37

✓ 3. 33

✗ 4. 38

Question ID : 26433069595

Status : Answered

Chosen Option : 3

Q.5 इस प्रश्न में तीन कथन दिए गए हैं, जिसके बाद दो निष्कर्ष I और II दिए गए हैं। कथनों को सत्य मानते हुए, भले ही वे सर्वज्ञात तथ्यों से भिन्न प्रतीत होते हों, निर्णय कीजिए कि कौन-सा/से निष्कर्ष कथनों का तार्किक रूप से अनुसरण करता है/अनुसरण करते हैं।

कथन:

सभी मोबाइल कंप्यूटर हैं।

कुछ कंप्यूटर फर्नीचर हैं।

कुछ फर्नीचर टेबल हैं।

निष्कर्ष:

I. कुछ टेबल कंप्यूटर हैं।

II. कुछ मोबाइल फर्नीचर हैं।

Ans  1. न तो निष्कर्ष I और न ही II अनुसरण करता है।

2. निष्कर्ष I और II दोनों अनुसरण करते हैं।

3. केवल निष्कर्ष I अनुसरण करता है।

4. केवल निष्कर्ष II अनुसरण करता है।

Question ID : 26433070387

Status : Answered

Chosen Option : 2

Q.6 एक निश्चित कूट भाषा में, 'EXAM' को '625214' और 'TEST' को '2162021' के रूप में लिखा जाता है। इसी कूट भाषा में 'ASSESSMENT' को किस प्रकार से लिखा जाएगा?

Ans  1. 22020620201461512

2. 22020620201461521

3. 22020620201465121

4. 22020602201461521

Question ID : 26433087254

Status : Answered

Chosen Option : 2

Q.7 छः विद्यार्थी एक वृत्ताकार मेज के परितः मेज के केंद्र की ओर मुख करके बैठे हैं। ब्रियाना, मार्क के दाईं ओर दूसरे स्थान पर बैठी है। फेलिक्स, मार्क के बाईं ओर दूसरे स्थान पर बैठा है। ऐन, ब्रियाना और फेलिक्स के ठीक बगल में है। जेम्स, ब्रियाना के बाईं ओर तीसरे स्थान पर बैठा है। आफरीन, जेम्स के दाईं ओर दूसरे स्थान पर बैठी है। आफरीन और ऐन के बीच में कौन बैठा है?

Ans  1. जेम्स

2. ब्रियाना

3. मार्क

4. फेलिक्स

Question ID : 26433081782

Status : Answered

Chosen Option : 3

Q.8 उस विकल्प का चयन करें, जो तीसरे शब्द से उसी प्रकार संबंधित है, जिस प्रकार दूसरा शब्द पहले शब्द से संबंधित है।  
(शब्दों को अर्थपूर्ण शब्दों के रूप में माना जाना चाहिए और इन्हें शब्द में अक्षरों की संख्या / व्यंजनों की संख्या / स्वरों की संख्या के आधार पर एक दूसरे से संबद्ध नहीं किया जाना चाहिए।)  
शिक्षा : अध्यापक :: उपचार : ?

Ans  1. चिकित्सक

2. दवाई

3. मजदूर

4. अस्पताल

Question ID : 26433079472

Status : Answered

Chosen Option : 1

Q.9 निम्नलिखित में से कौन-सा पद दी गई शृंखला में प्रश्न-चिह्न (?) के स्थान पर आएगा?  
, LSEO, NRDN, PQCM, RPBL

Ans  1. JTFP

2. PFJO

3. TFPJ

4. FPJI

Question ID : 26433068983

Status : Answered

Chosen Option : 1

Q.10 नीचे दिए गए समीकरण को सही बनाने के लिए किन दो चिन्हों को गणितीय रूप से परस्पर बदलना चाहिए?

$$24 - 36 \times 5 + 108 \div 18 = 18$$

Ans  1. + और -

2. - और +

3. + और ×

4. + और ÷

Question ID : 264330117523

Status : Answered

Chosen Option : 3

Q.11 उस समुच्चय का चयन करें, जिसमें संख्याएँ उसी प्रकार संबंधित हैं, जिस प्रकार निम्नलिखित समुच्चयों की संख्याएँ हैं।

(नोट: संख्याओं को उसके घटक अंकों में विभाजित किए बिना, पूर्ण संख्याओं पर ही गणितीय संक्रियाएँ की जानी चाहिए। जैसे 13 - मान लीजिए 13 पर गणितीय संक्रियाएँ जैसे कि 13 में जोड़ना/घटाना/गुणा करना आदि किया जा सकता है। 13 को 1 और 3 में तोड़कर और फिर 1 और 3 पर गणितीय संक्रियाएँ करने की अनुमति नहीं है।)

(25, 280, 45)

(18, 192, 30)

Ans  1. (13, 168, 54)

2. (12, 148, 25)

3. (14, 192, 24)

4. (12, 156, 24)

Question ID : 26433076481

Status : Answered

Chosen Option : 4

Q.12 दर्पण को नीचे दिए गए चित्र के अनुसार MN पर रखे जाने पर दी गई आकृति

का दर्पण में निर्मित सही प्रतिबिंब चयनित कीजिए।

6 Z k B M V d

M ————— N

Ans

✗ 1. b V M B k S e

✓ 2. e S k B W A q

✗ 3. e S k B W A q

✗ 4. e Z k B W A q

Question ID : 26433080798

Status : Answered

Chosen Option : 1

Q.13 एक निश्चित कूट भाषा में,  
'A + B' का अर्थ है कि 'A, B की बहन है',  
'A - B' का अर्थ है कि 'A, B का पिता है' और  
'A x B' का अर्थ है कि 'A, B का भाई है'.  
यदि  $Q + R - P \times N - S$  है, तो R का S से क्या संबंध है?

Ans

✗ 1. ताऊ/चाचा

✗ 2. भाई

✗ 3. पिता

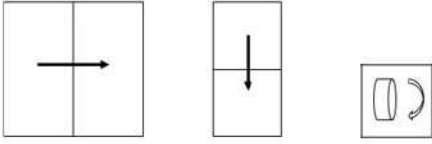
✓ 4. दादा

Question ID : 26433070370

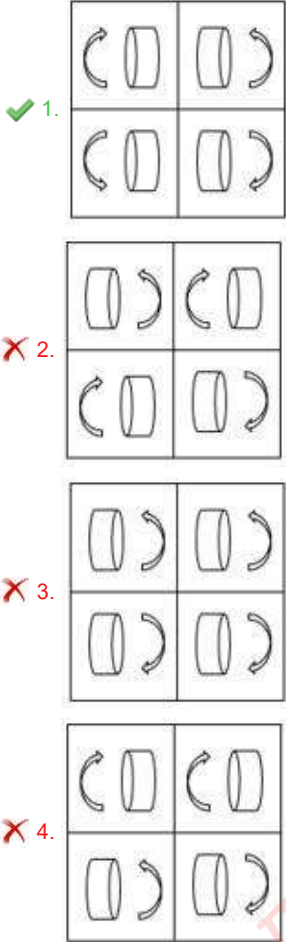
Status : Answered

Chosen Option : 1

Q.14 एक कागज को नीचे दिखाये गए रूप में मोड़ा और काटा जाता है। खोलने पर यह कैसे दिखाई देगा?



Ans



Question ID : 26433089787

Status : Answered

Chosen Option : 3

Q.15 निम्नलिखित में से कौन-सी संख्या दी गई श्रृंखला में प्रश्न-चिह्न (?) के स्थान पर आएगी?  
5, 31, 161, 811, ?

Ans  1. 4825

2. 4061

3. 4444

4. 4500

Question ID : 26433082010

Status : Answered

Chosen Option : 2

Q.16 किस विकल्प में निम्नलिखित शब्दों का वह क्रम दिया गया है, जिस क्रम में वे अंग्रेजी शब्दकोश में आते हैं?

- 1 riddle
- 2 river
- 3 rightful
- 4 ring
- 5 risk

Ans  1. 1,2,4,5,3

2. 1,3,4,5,2

3. 1,2,3,4,5

4. 1,3,2,4,5

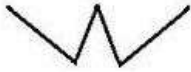
Question ID : 26433069325

Status : Answered

Chosen Option : 2

Q.17 निम्नलिखित विकल्पों में से उस आकृति का चयन करें जिसमें नीचे दी गई

आकृति निहित है (आकृति को घुमाने की अनुमति नहीं है)।



Ans

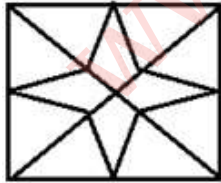
1.




2.



3.



4.



Question ID : 26433069535

Status : Answered

Chosen Option : 3

Q.18 एक निश्चित कूट भाषा में, FATHER को 'IFWMHW' लिखा जाता है, और SISTER को 'VNVYHW' लिखा जाता है। उसी कूट भाषा में 'UNCLE' को किस प्रकार लिखा जाएगा?

- Ans
- 1. XSHQI
  - 2. XSGQH
  - 3. XSFQH
  - 4. XTGRH

Question ID : 26433067989  
Status : Answered  
Chosen Option : 3

Q.19 एक ही परिवार के छः सदस्य विराज, दीपू, नूर, प्रिंस, सुमन और तारन एक वृत्ताकार मेज के परितः मेज के केंद्र की ओर मुख करके बैठे हैं। विराज, नूर के दाईं ओर ठीक बगल में बैठा है। प्रिंस, विराज और दीपू दोनों के ठीक बगल में बैठा है। सुमन, विराज के दाईं ओर तीसरे स्थान पर बैठी है। नूर, प्रिंस के बाईं ओर दूसरे स्थान पर बैठी है। इनमें से कौन दीपू और विराज के ठीक बगल में बैठा/बैठी है?

- Ans
- 1. तारन
  - 2. सुमन
  - 3. नूर
  - 4. प्रिंस

Question ID : 26433068866  
Status : Not Answered  
Chosen Option : --

Q.20 उस विकल्प का चयन कीजिए जो पांचवें अक्षर-समूह से उसी प्रकार संबंधित है जिस प्रकार दूसरा अक्षर-समूह पहले अक्षर-समूह से संबंधित है और चौथा अक्षर-समूह तीसरे अक्षर-समूह से संबंधित है।  
TIDE: RRAU :: REST : PVPF :: GAME : ?

- Ans
- 1. EZJU
  - 2. TZNN
  - 3. HBNF
  - 4. ICOG

Question ID : 26433057485  
Status : Not Answered  
Chosen Option : --

Section : Part-B-General Knowledge and General awareness

Q.1 निम्नलिखित में से कौन सा तत्व अपने गुणों में क्षार धातुओं के साथ-साथ हैलोजन की तरह व्यवहार करता है?

- Ans
- 1. हीलियम
  - 2. लिथियम
  - 3. नियॉन
  - 4. हाइड्रोजन

Question ID : 264330115175  
Status : Not Answered  
Chosen Option : --



Q.2 भारत में जनगणना के संबंध में, NPR का पूर्ण रूप क्या है?

- Ans  1. National Population Register (नेशनल पोप्युलेशन रजिस्टर)  
 2. National Population Record (नेशनल पोप्युलेशन रिकॉर्ड)  
 3. National People Record (नेशनल पीपल रिकॉर्ड)  
 4. National People Register (नेशनल पीपल रजिस्टर)

Question ID : 264330116030  
Status : Answered  
Chosen Option : 1

Q.3 निम्नलिखित में से किसने अक्टूबर 2022 में भारत के 2 दिवसीय पीएम किसान सम्मान सम्मेलन का उद्घाटन किया?

- Ans  1. राजनाथ सिंह  
 2. नरेन्द्र मोदी  
 3. निर्मला सीतारमण  
 4. अमित शाह

Question ID : 264330114956  
Status : Answered  
Chosen Option : 3

Q.4 हर्षवर्धन और पुलकेशिन द्वितीय का युद्ध किस नदी के तट पर हुआ था?

- Ans  1. नर्मदा  
 2. गोदावरी  
 3. कृष्णा  
 4. गंगा

Question ID : 26433089128  
Status : Not Answered  
Chosen Option : --

Q.5 भारत में दूसरी बार एशियाई खेलों का आयोजन किस वर्ष किया गया था?

- Ans  1. 1982  
 2. 1941  
 3. 1978  
 4. 2015

Question ID : 264330116249  
Status : Not Answered  
Chosen Option : --

Q.6 माइक्रोफाइनेंस एक \_\_\_\_\_ सेवा है।

- Ans
- 1. सॉफ्टवेयर उत्पादन
  - 2. उत्पादन
  - 3. वित्तीय
  - 4. अपशिष्ट प्रबंधन

Question ID : 264330115310  
Status : Not Answered  
Chosen Option : --

Q.7 8 अगस्त, 2022 से प्रभावी, राष्ट्रीय अवसंरचना वित्तपोषण एवं विकास बैंक (NaBFID) के नए प्रबंध निदेशक कौन हैं?

- Ans
- 1. सुमिता डावरा
  - 2. पंकज जैन
  - 3. अरुण कुमार सिंह
  - 4. राजकिरण राय

Question ID : 264330115013  
Status : Not Answered  
Chosen Option : --

Q.8 सागा दावा मुख्य रूप से सिक्किम में भारत के निम्नलिखित में से किस समुदाय द्वारा मनाया जाता है?

- Ans
- 1. सिख
  - 2. बौद्ध
  - 3. हिंदू
  - 4. जैन

Question ID : 264330105968  
Status : Not Answered  
Chosen Option : --

Q.9 2018 में, मणिपुरी में संगीत नाटक अकादमी पुरस्कार किसने जीता?

- Ans
- 1. राधा श्रीधर
  - 2. मादम्बी सुब्रमण्यम नंबूदरी
  - 3. पसुमूर्ति रामलिंग शास्त्री
  - 4. अखम लक्ष्मी देवी

Question ID : 264330115821  
Status : Not Answered  
Chosen Option : --

Q.10 भूकंप की तीव्रता मापने के लिए किसका प्रयोग किया जाता है?

- Ans
- 1. ग्रेविमीटर
  - 2. एनीमोमीटर
  - 3. रिक्टर स्केल
  - 4. दाब सेंसर

Question ID : 264330115993  
Status : Answered  
Chosen Option : 3

Q.11 बिहू निम्नलिखित में से किस राज्य का लोकप्रिय नृत्य है?

- Ans
- 1. केरल
  - 2. तेलंगाना
  - 3. असम
  - 4. तमिलनाडु

Question ID : 26433071420  
Status : Answered  
Chosen Option : 3

Q.12 पौधों में स्वतंत्र रूप से संगठित संवाहक नलियों के रूप में कितने पथ निर्मित होते हैं?

- Ans
- 1. चार
  - 2. पांच
  - 3. एक
  - 4. दो

Question ID : 264330115204  
Status : Not Answered  
Chosen Option : --

Q.13 भारत में हरित क्रांति ने निम्नलिखित में से किसके उत्पादन में वृद्धि की?

- Ans
- 1. गेहूँ
  - 2. कोयले
  - 3. अंडे
  - 4. कपास

Question ID : 264330115418  
Status : Answered  
Chosen Option : 1

Q.14 10वीं पंचवर्षीय योजना की अवधि क्या थी?

- Ans
- 1. 2004-2009
  - 2. 2002-2007
  - 3. 2007-2012
  - 4. 2005-2010

Question ID : 264330116120  
Status : Not Answered  
Chosen Option : --

Q.15 हिंदुस्तान सोशललिस्ट रिपब्लिकन एसोसिएशन (HSRA) की स्थापना दिल्ली के \_\_\_\_\_ में हुई थी।

- Ans
- 1. मुगल गार्डन
  - 2. फिरोजशाह कोटला
  - 3. सफदरजंग का मकबरा
  - 4. लाल किला

Question ID : 26433089888  
Status : Not Answered  
Chosen Option : --

Q.16 शॉट पुट में, शॉट जो एक धातु की गेंद है, पुरुषों और महिलाओं के लिए उसका वजन कितना kg होता है?

- Ans
- 1. पुरुष- 7.26 kg महिला- 4 kg
  - 2. पुरुष- 7.5 kg महिला- 4.5 kg
  - 3. पुरुष- 7.3 kg महिला- 4.5 kg
  - 4. पुरुष - 7 kg महिला - 4 kg

Question ID : 264330115942  
Status : Answered  
Chosen Option : 2

Q.17 UPSC के सदस्यों का कार्यकाल \_\_\_\_\_ होता है।

- Ans
- 1. 5 वर्ष या 65 वर्ष की आयु
  - 2. 4 वर्ष या 62 वर्ष की आयु
  - 3. 6 वर्ष या 65 वर्ष की आयु जो भी पहले हो
  - 4. 6 वर्ष या 62 वर्ष की आयु

Question ID : 26433089963  
Status : Not Answered  
Chosen Option : --

Q.18 'देश की रक्षा करने और आह्वान किए जाने पर राष्ट्र की सेवा के लिए तत्पर रहने' का उल्लेख \_\_\_\_\_ के तहत किया गया है।

- Ans
- 1. मूल कर्तव्यों
  - 2. मूल अधिकारों
  - 3. निर्देशक सिद्धांतों
  - 4. संविधान की प्रस्तावना

Question ID : 264330115628  
Status : Not Answered  
Chosen Option : --

Q.19 मिशन इन्द्रधनुष का अंतिम लक्ष्य \_\_\_\_\_ वर्ष की आयु तक के बच्चों के लिए सभी उपलब्ध टीकों के साथ पूर्ण टीकाकरण सुनिश्चित करना है।

- Ans
- 1. तीन
  - 2. पांच
  - 3. दो
  - 4. आठ

Question ID : 264330116167  
Status : Answered  
Chosen Option : 2

Q.20 कौन सा क्षेत्र भारत में लगभग 60 प्रतिशत औषधालय (dispensaries) चलाता है?

- Ans
- 1. सहकारी क्षेत्र
  - 2. सार्वजनिक क्षेत्र
  - 3. संयुक्त क्षेत्र
  - 4. निजी क्षेत्र

Question ID : 264330115557  
Status : Not Answered  
Chosen Option : --

Section : Part-C-Elementary Mathematics

Q.1 एक खिलौना Rs.950 में खरीदा जाता है और Rs.1140 में बेचा जाता है। लाभ प्रतिशत ज्ञात कीजिए।

- Ans
- 1. 16%
  - 2. 21%
  - 3. 19%
  - 4. 20%

Question ID : 26433075144  
Status : Answered  
Chosen Option : 4

Q.2 वह सबसे बड़ी संख्या ज्ञात करें, जिससे 1780 और 2452 को विभाजित करने पर प्रत्येक स्थिति में 4 शेष बचता है।

- Ans
- 1. 24
  - 2. 48
  - 3. 16
  - 4. 52

Question ID : 26433081468  
Status : Answered  
Chosen Option : 2

Q.3 एक वस्तु को Rs.15,000 में बेचने पर, सुबीर को Rs.2,000 की हानि होती है। उसकी प्रतिशत हानि क्या है?

- Ans
- 1. 11%
  - 2. 10%
  - 3.  $11\frac{13}{17}\%$
  - 4.  $10\frac{13}{17}\%$

Question ID : 26433080305

Status : Answered

Chosen Option : 3

Q.4 25 छात्रों की एक कक्षा के भूगोल की परीक्षा में औसत अंक 64 हैं। यदि तीन छात्रों के अंकों को वास्तविक प्राप्तांक क्रमशः 54, 64 और 67 के स्थान पर गलती से 44, 46 और 61 पढ़ लिया गया है, तो सही औसत की गणना करें।

- Ans
- 1. 65.45
  - 2. 64.55
  - 3. 65.36
  - 4. 64.54

Question ID : 26433076220

Status : Answered

Chosen Option : 2

Q.5 यदि Rs.12,000 की राशि 2 वर्ष की अवधि के लिए 10% वार्षिक दर से वार्षिक और छमाही रूप से चक्रवृद्धि होती है, तो चक्रवृद्धि ब्याज में क्या अंतर होगा?  
नोट: दशमलव को निकटतम पूर्णांक में लिखें।

- Ans
- 1. Rs.66
  - 2. Rs.46
  - 3. Rs.166
  - 4. Rs.196

Question ID : 26433075075

Status : Answered

Chosen Option : 3

Q.6 ₹x की धनराशि 3 वर्ष पहले 5% वार्षिक की चक्रवृद्धि ब्याज दर पर उधार ली गई थी, जहां ब्याज वार्षिक रूप से चक्रवृद्धि था। यदि उधार ली गई धनराशि का वर्तमान मान ₹18,522 है, तो x का मान क्या है?

- Ans
- 1. ₹16,000
  - 2. ₹15,000
  - 3. ₹15,500
  - 4. ₹16,500

Question ID : 26433075562

Status : Not Answered

Chosen Option : --

Q.7 एक गोल्फ क्लब में 90% सदस्य पुरुष हैं और शेष महिलाएं हैं। पुरुषों की औसत ऊंचाई 170 cm और महिलाओं की औसत ऊंचाई 165 cm है। क्लब के सदस्यों की औसत ऊंचाई ज्ञात कीजिये।

- Ans
- 1. 170.5
  - 2. 169.5
  - 3. 167.5
  - 4. 168.5

Question ID : 26433075905  
Status : Answered  
Chosen Option : 2

Q.8 25 प्रतिशत की छूट देने के बाद एक वस्तु का विक्रय मूल्य 9510 रुपए हो जाता है। वस्तु का अंकित मूल्य क्या है?

- Ans
- 1. 11640 रुपए
  - 2. 12680 रुपए
  - 3. 10850 रुपए
  - 4. 10200 रुपए

Question ID : 264330116736  
Status : Answered  
Chosen Option : 2

Q.9 रीता एक कार्य को 14 दिनों में कर सकती है और गीता उसी कार्य को 21 दिनों में कर सकती है। रीता और गीता उसी कार्य को एक साथ पूरा करने में कितने दिन लेंगी?

- Ans
- 1. 6.8
  - 2. 8.8
  - 3. 8.4
  - 4. 6.4

Question ID : 26433075700  
Status : Answered  
Chosen Option : 3

Q.10 एक घनाभ का कुल पृष्ठीय क्षेत्रफल  $4200 \text{ cm}^2$  है। यदि घनाभ की लंबाई और चौड़ाई 15 cm और 16 cm है, तो घनाभ की ऊंचाई ज्ञात कीजिए।

- Ans
- 1. 60 cm
  - 2. 70 cm
  - 3. 62 cm
  - 4. 3720 cm

Question ID : 26433085494  
Status : Answered  
Chosen Option : 2

Q.11  $4 + 2\sqrt{3}$  और  $6 - 3\sqrt{3}$  का मध्यानुपाती कितना है?

- Ans
- 1.  $\sqrt{12}$
  - 2.  $\sqrt{8}$
  - 3.  $\sqrt{18}$
  - 4.  $\sqrt{6}$

Question ID : 26433081026  
Status : Not Answered  
Chosen Option : --

Q.12 यदि पेट्रोल की कीमत में 40% की वृद्धि हो जाती है, तो इसकी खपत को कितने प्रतिशत (1 दशमलव स्थान तक पूर्णांकित) कम किया जाना चाहिए, ताकि पेट्रोल पर खर्च समान रहे?

- Ans
- 1. 25.7%
  - 2. 40.5%
  - 3. 35.5%
  - 4. 28.6%

Question ID : 26433082780  
Status : Not Answered  
Chosen Option : --

Q.13 दो संख्याओं का अनुपात 4 : 5 है और उनका महत्तम समापवर्तक 6 है। उनका लघुत्तम समापवर्तक क्या है?

- Ans
- 1. 168
  - 2. 120
  - 3. 72
  - 4. 88

Question ID : 26433091517  
Status : Answered  
Chosen Option : 2

Q.14 48 km/h की चाल से चलने वाली कार द्वारा 3 घंटे 15 मिनट में तय की गई दूरी ज्ञात कीजिए।

- Ans
- 1. 145 km
  - 2. 154 km
  - 3. 165 km
  - 4. 156 km

Question ID : 26433076199  
Status : Answered  
Chosen Option : 4



Q.15 टीना अपने वेतन का 30% भोजन पर, शेष का 30% ईंधन पर खर्च करती है और शेष Rs.4,900 बचाती है। टीना का वेतन क्या है?

- Ans
- 1. Rs.6,000
  - 2. Rs.10,000
  - 3. Rs.8,000
  - 4. Rs.12,000

Question ID : 26433076033  
Status : Answered  
Chosen Option : 2

Q.16 14 cm के व्यास वाले अर्धगोले का संपूर्ण पृष्ठीय क्षेत्रफल ज्ञात कीजिए। ( $\pi = \frac{22}{7}$ )

- Ans
- 1. 1232 cm<sup>2</sup>
  - 2. 308 cm<sup>2</sup>
  - 3. 2156 cm<sup>2</sup>
  - 4. 462 cm<sup>2</sup>

Question ID : 26433075747  
Status : Answered  
Chosen Option : 2

Q.17 दो संख्याएं P और Q इस प्रकार हैं कि P के 8% और Q के 4% का योग P के 5% और Q के 7% के योग का दो-तिहाई है। अनुपात P : Q ज्ञात करें।

- Ans
- 1. 7 : 1
  - 2. 4 : 9
  - 3. 2 : 5
  - 4. 1 : 7

Question ID : 26433081573  
Status : Not Answered  
Chosen Option : --

Q.18 ₹12,500 पर 10%, 15% और 4% की क्रमिक छूट किसके बराबर है?

- Ans
- 1. ₹3,320
  - 2. ₹4,150
  - 3. ₹5,240
  - 4. ₹4,520

Question ID : 26433080221  
Status : Answered  
Chosen Option : 3

Q.19 A एक कार्य को 18 दिनों में कर सकता है। B इस कार्य को 24 दिनों में कर सकता है। A अकेले काम शुरू करता है। कितने दिनों के बाद B को उसके साथ जुड़ना चाहिए, ताकि कार्य 15 दिनों में समाप्त हो जाए?

- Ans
- 1. 13 दिन
  - 2. 14 दिन
  - 3. 11 दिन
  - 4. 19 दिन

Question ID : 264330116851  
Status : Answered  
Chosen Option : 1

Q.20 सुमाति ने बिंदु A से बिंदु B तक 475 मीटर/मिनट की चाल से यात्रा की। जिस क्षण सुमाति बिंदु B पर पहुँची, रचना बिंदु B से उस चाल की 1.6 गुना चाल से रवाना हुई, जिस चाल से सुमाति ने यात्रा की थी और बिंदु C पर पहुँची। यदि B से होते हुए A से C से तक तय की गई कुल दूरी 45.6 km थी और जबसे सुमाति ने बिंदु A से चलना आरंभ किया और जब रचना बिंदु C पर पहुँची तब तक लिया गया समय 75 मिनट था, तो A और B के बीच की दूरी कितनी है?

- Ans
- 1. 19 km
  - 2. 17 km
  - 3. 18 km
  - 4. 20 km

Question ID : 26433075295  
Status : Not Answered  
Chosen Option : --

Section : Part-D-English

Q.1 Select the most appropriate option that can substitute the underlined segment in the given sentence.  
I am been working here for the past ten years.

- Ans
- 1. have been working here
  - 2. was been working here
  - 3. is been working here
  - 4. having been working here

Question ID : 26433091372  
Status : Not Answered  
Chosen Option : --

Q.2 Select the INCORRECTLY spelt word.

- Ans
- 1. Potable
  - 2. Maticulous
  - 3. Erroneous
  - 4. Enterprising

Question ID : 26433073507  
Status : Not Answered  
Chosen Option : --

Q.3 Select the most appropriate meaning of the given idiom.

Public enemy number one

- Ans  1. Someone who is the greatest threat to a group or community  
 2. One who helps the poor  
 3. The opposition party leader  
 4. A person who always smiles

Question ID : 26433072573  
Status : Not Answered  
Chosen Option : --

Q.4 Select the most appropriate option to substitute the underlined segment in the given sentence to make it a meaningful sentence. If no substitution is required, select 'No substitution'.

One must not only have the ability to read voraciously but have the necessary training in comprehending and remembering all the relevant details.

- Ans  1. not only have the ability for read voraciously but also have  
 2. not only have the ability to read voraciously but also had  
 3. not only have the ability to read voraciously but also have  
 4. No substitution

Question ID : 26433092045  
Status : Not Answered  
Chosen Option : --

Q.5 Select the most appropriate option to fill in the blank.

Scientists are able to quickly \_\_\_\_\_ the outbreak through a new immunisation.

- Ans  1. quest  
 2. quash  
 3. scatter  
 4. quench

Question ID : 26433060336  
Status : Not Answered  
Chosen Option : --

Q.6 Select the most appropriate ANTONYM of the given word.

Dignify

- Ans  1. Cure  
 2. Adorn  
 3. Oblige  
 4. Condemn

Question ID : 26433090781  
Status : Not Answered  
Chosen Option : --

**Q.7** Select the most appropriate synonym of the given word.

**Fascinating**

- Ans**
- 1. Revolting
  - 2. Dominating
  - 3. Intimidating
  - 4. Interesting

Question ID : 26433073982  
Status : Not Answered  
Chosen Option : --

**Q.8** Select the word segment that substitutes (replaces) the bracketed word segment correctly and completes the sentence meaningfully:  
Shakespeare was both a dramatist (better than) a poet.

- Ans**
- 1. and
  - 2. when not
  - 3. as well as
  - 4. or

Question ID : 26433088798  
Status : Not Answered  
Chosen Option : --

**Q.9** Select the INCORRECTLY spelt word.

- Ans**
- 1. Frekquent
  - 2. Ferocious
  - 3. Collide
  - 4. Coherent

Question ID : 26433073731  
Status : Not Answered  
Chosen Option : --

**Q.10** Select the most appropriate ANTONYM of the word given in brackets to fill in the blank.

The company of friends made her feel \_\_\_\_\_ (cranky), as she was all alone in her apartment.

- Ans**
- 1. awful
  - 2. wishful
  - 3. fearful
  - 4. cheerful

Question ID : 26433089747  
Status : Not Answered  
Chosen Option : --

Q.11 Select the most appropriate ANTONYM of the given word.  
Symbolise

- Ans  1. Link  
 2. Align  
 3. Slide  
 4. Hide

Question ID : 26433066088  
Status : Not Answered  
Chosen Option : --

Q.12 Select the most appropriate homophone to substitute the underlined word in the given sentence.

These ornaments are coated with gold.

- Ans  1. guild  
 2. gilled  
 3. gel  
 4. gild

Question ID : 26433074013  
Status : Not Answered  
Chosen Option : --

Q.13 The given sentence is divided into three segments. Select the option that has the segment with a grammatical error. If there is no error, select 'no error' as your answer.

She have / left by the time / I reach home.

- Ans  1. She have  
 2. I reach home  
 3. left by the time  
 4. No error

Question ID : 26433071860  
Status : Not Answered  
Chosen Option : --

Q.14 Select the most appropriate meaning of the given idiom.

Silver tongue

- Ans  1. Speaking to discourage people  
 2. Speaking with an eloquent expression to convince people  
 3. Speaking to annoy people  
 4. Speaking to bore people

Question ID : 26433074442  
Status : Not Answered  
Chosen Option : --

**Q.15 Select the most appropriate synonym of the given word.**

**Splendid**

- Ans  1. Authentic  
 2. Enticing  
 3. Spectacular  
 4. Stationary

Question ID : 26433087913

Status : Not Answered

Chosen Option : --

**Comprehension:**

In the following passage, some words have been deleted. Read the passage carefully and select the most appropriate option to fill in each blank.

The ability to think clearly and calmly while addressing an 1. \_\_\_\_\_ is neither inborn nor difficult to develop. The presence of an audience should act as a stimulus and not as a 2. \_\_\_\_\_ to thought. Audience fright can be overcome through training and practice. Even great speakers 3. \_\_\_\_\_ stage fright and self-consciousness. Every speaker gets worked up and experiences strain, shock, and excitement before he or she begins to talk. But every speaker who is struggling to gain 4. \_\_\_\_\_ should remember that all meritorious public speaking is accompanied by a little 5. \_\_\_\_\_.

**SubQuestion No : 16**

**Q.16 Select the most appropriate option to fill in blank no. 1.**

- Ans  1. adult  
 2. audience  
 3. association  
 4. accomplice

Question ID : 26433091359

Status : Not Answered

Chosen Option : --

**Comprehension:**

In the following passage, some words have been deleted. Read the passage carefully and select the most appropriate option to fill in each blank.

The ability to think clearly and calmly while addressing an 1. \_\_\_\_\_ is neither inborn nor difficult to develop. The presence of an audience should act as a stimulus and not as a 2. \_\_\_\_\_ to thought. Audience fright can be overcome through training and practice. Even great speakers 3. \_\_\_\_\_ stage fright and self-consciousness. Every speaker gets worked up and experiences strain, shock, and excitement before he or she begins to talk. But every speaker who is struggling to gain 4. \_\_\_\_\_ should remember that all meritorious public speaking is accompanied by a little 5. \_\_\_\_\_.

**SubQuestion No : 17**

**Q.17 Select the most appropriate option to fill in blank no. 2.**

- Ans  1. choice  
 2. briefing  
 3. catch  
 4. hindrance

Question ID : 26433091360

Status : Not Answered

Chosen Option : --

**Comprehension:**

In the following passage, some words have been deleted. Read the passage carefully and select the most appropriate option to fill in each blank.

The ability to think clearly and calmly while addressing an 1. \_\_\_\_\_ is neither inborn nor difficult to develop. The presence of an audience should act as a stimulus and not as a 2. \_\_\_\_\_ to thought. Audience fright can be overcome through training and practice. Even great speakers 3. \_\_\_\_\_ stage fright and self-consciousness. Every speaker gets worked up and experiences strain, shock, and excitement before he or she begins to talk. But every speaker who is struggling to gain 4. \_\_\_\_\_ should remember that all meritorious public speaking is accompanied by a little 5. \_\_\_\_\_.

**SubQuestion No : 18**

**Q.18 Select the most appropriate option to fill in blank no. 3.**

- Ans  1. accorded  
 2. experience  
 3. keened  
 4. saved

Question ID : 26433091361

Status : Not Answered

Chosen Option : --

**Comprehension:**

In the following passage, some words have been deleted. Read the passage carefully and select the most appropriate option to fill in each blank.

The ability to think clearly and calmly while addressing an 1. \_\_\_\_\_ is neither inborn nor difficult to develop. The presence of an audience should act as a stimulus and not as a 2. \_\_\_\_\_ to thought. Audience fright can be overcome through training and practice. Even great speakers 3. \_\_\_\_\_ stage fright and self-consciousness. Every speaker gets worked up and experiences strain, shock, and excitement before he or she begins to talk. But every speaker who is struggling to gain 4. \_\_\_\_\_ should remember that all meritorious public speaking is accompanied by a little 5. \_\_\_\_\_.

**SubQuestion No : 19**

**Q.19 Select the most appropriate option to fill in blank no. 4.**

- Ans  1. money  
 2. profit  
 3. merit  
 4. confidence

Question ID : 26433091362

Status : Not Answered

Chosen Option : --

**Comprehension:**

In the following passage, some words have been deleted. Read the passage carefully and select the most appropriate option to fill in each blank.

The ability to think clearly and calmly while addressing an 1. \_\_\_\_\_ is neither inborn nor difficult to develop. The presence of an audience should act as a stimulus and not as a 2. \_\_\_\_\_ to thought. Audience fright can be overcome through training and practice. Even great speakers 3. \_\_\_\_\_ stage fright and self-consciousness. Every speaker gets worked up and experiences strain, shock, and excitement before he or she begins to talk. But every speaker who is struggling to gain 4. \_\_\_\_\_ should remember that all meritorious public speaking is accompanied by a little 5. \_\_\_\_\_.

**SubQuestion No : 20****Q.20 Select the most appropriate option to fill in blank no. 5.**

- Ans  1. happiness  
 2. trick  
 3. nervousness  
 4. childishness

Question ID : 26433091363  
Status : Not Answered  
Chosen Option : --

Section : Part-D-Hindi

**Q.1 कौन से विकल्प में विशेषण से बने भाववाचक संज्ञा शब्दों में त्रुटि है?**

- Ans  1. चतुरा, मीठा, दुर्बला  
 2. गर्मी, सर्दी, नरमी  
 3. लड़कपन, मित्रता, बुढ़ापा  
 4. ममत्व, अपनापन, निकटता

Question ID : 26433063030  
Status : Answered  
Chosen Option : 1

**Q.2 निम्नलिखित वाक्य में रेखांकित शब्द के स्थान पर उपयुक्त पर्यायवाची शब्द कौन-सा होगा?**

बारिश के साथ ही दामिनी चमकने लगी।

- Ans  1. आंधी  
 2. तड़ित  
 3. बुँदे  
 4. ओला

Question ID : 26433066901  
Status : Answered  
Chosen Option : 2



Q.3 आज क्रिकेट के खेल में साहिल ने \_\_\_\_\_ मार लिया।  
रिक्त स्थान की पूर्ति उचित शब्द द्वारा करके मुहावरे को पूरा कीजिए।

- Ans
- 1. इनाम
  - 2. मन
  - 3. मैदान
  - 4. मक्खियाँ

Question ID : 26433062612  
Status : Answered  
Chosen Option : 3

Q.4 नीचे दिए शब्द के लिए उचित वाक्यांश दिए गए विकल्पों में से चुनिए।  
अलौकिक

- Ans
- 1. जो इस लोक का न हो
  - 2. जिसका अस्तित्व अल्पकाल तक रहे
  - 3. जो इस लोक का हो
  - 4. जो कम जानता हो

Question ID : 26433062391  
Status : Answered  
Chosen Option : 1

Q.5 निम्नलिखित वाक्यांश के लिए उपयुक्त सार्थक शब्द है-  
ईश्वर में विश्वास करने वाला

- Ans
- 1. आस्तिक
  - 2. इन्सान
  - 3. भगवान
  - 4. दैवीय

Question ID : 26433065750  
Status : Answered  
Chosen Option : 1

Q.6 श्री कृष्ण ने माँ यशोदा से खेलने के लिए विभाकर को खिलौने के रूप में माँगा।

वाक्य में प्रयुक्त शब्द विभाकर का पर्यायवाची शब्द है-

- Ans
- 1. चंद्रमा
  - 2. घोड़ा
  - 3. सिंह
  - 4. दानव

Question ID : 26433080858  
Status : Answered  
Chosen Option : 1

Q.7 'लंबोदर' शब्द के लिए उचित वाक्यांश है-

- Ans
- 1. जिसका हाथ लंबा हो
  - 2. जिसका उदर लंबा हो
  - 3. जिसकी गर्दन लंबी हो
  - 4. जिसका उधार लंबा हो

Question ID : 26433065870  
Status : Answered  
Chosen Option : 2

Q.8 निम्नलिखित में से अशुद्ध वाक्य कौन-सा है?

- Ans
- 1. वरुण प्रतिदिन घूमने जाता है।
  - 2. कल मैंने दिनभर पढ़ाई की।
  - 3. मेरे पर कृपा करो।
  - 4. मनाली अत्यंत सुन्दर शहर है।

Question ID : 26433085138  
Status : Answered  
Chosen Option : 3

Q.9 निम्नलिखित वाक्य के रिक्त स्थान में सबसे उपयुक्त मुहावरा क्या होगा?  
'नेता बनना हो तो मंत्री जी के साथ \_\_\_\_\_ बन जाओ'

- Ans
- 1. अमरबेल
  - 2. पेड़
  - 3. दुश्मन
  - 4. दोस्त

Question ID : 26433066736  
Status : Answered  
Chosen Option : 4

Q.10 निम्नलिखित विकल्पों में से कौन सा एक वाक्य क्रिया-विशेषण से सम्बन्ध रखता है?

- Ans
- 1. हो सकता है आँधी आए।
  - 2. विश्व का कल्याण हो।
  - 3. डाकिया आता होगा।
  - 4. बुशरा यहाँ आ रही है।

Question ID : 26433062955  
Status : Answered  
Chosen Option : 3

Q.11 वाक्य में रेखांकित शब्द के स्थान पर सर्वोचित शब्द का चयन कीजिए।

प्रेम करना तलवार की नोक पर चलना है।

- Ans
- 1. म्यान
  - 2. चपलता
  - 3. धार
  - 4. मूठ

Question ID : 26433065696  
Status : Answered  
Chosen Option : 3

Q.12 'जड़' शब्द के विलोम से दिए गए वाक्य के रिक्त स्थान की पूर्ति कीजिए।

हमें अपने \_\_\_\_\_ मन से ईश्वर को अनुभव करना चाहिए।

- Ans
- 1. मधुर
  - 2. निम्न
  - 3. मूल
  - 4. चेतन

Question ID : 26433063088  
Status : Answered  
Chosen Option : 1

Q.13 वाक्य में रेखांकित शब्द को दिए गए शब्दों में से उचित शब्द से बदले।

इलाहाबाद के लोगों के आश्वासन पर यमुना नदी पर पुल बना दिया गया।

- Ans
- 1. आग्रह
  - 2. विनती
  - 3. प्रार्थना
  - 4. आदेश

Question ID : 26433074411  
Status : Answered  
Chosen Option : 1

Q.14 वर्तनीगत अशुद्धियाँ न रहने वाला वाक्य चुनिए।

- Ans
- 1. धूआँ का रंग काला है।
  - 2. बच्चों, मेरी बातों सुनों।
  - 3. उस कारखाना में बहुत मजदूर है।
  - 4. मैंने दस रुपये का दही खरीदा।

Question ID : 26433063065  
Status : Answered  
Chosen Option : 1

Q.15 सद् कार्यो को हमेशा समर्थन मिलता है और गलत का \_\_\_\_\_ होता है।

समर्थन के विलोम शब्द से वाक्य पूर्ण करें।

- Ans
- 1. असमंजस
  - 2. असहयोग
  - 3. विरोध
  - 4. असमर्थ

Question ID : 26433080875

Status : Answered

Chosen Option : 3

**Comprehension:**

निम्नलिखित गद्यांश में से कुछ शब्द हटा दिए गए हैं। दिए गए विकल्पों की सहायता से रिक्त स्थानों की पूर्ति कीजिए। प्रत्येक संख्या के लिए उपयुक्त विकल्प का चयन कीजिए।

दुनिया में अब 1. \_\_\_\_\_ करोड़ों 2. \_\_\_\_\_ छप चुकी हैं। हजारों पुस्तकें रोज़ छपती हैं। तरह-तरह 3. \_\_\_\_\_ अक्षरों में हजारों की तादाद में रोज़ 4. \_\_\_\_\_ समाचार-पत्र छपते रहते हैं। इन सबके मूल में 5. \_\_\_\_\_, अक्षर।

SubQuestion No : 16

Q.16 रिक्त स्थान 1 की पूर्ति के लिए सर्वाधिक उपयुक्त विकल्प का चयन कीजिए।

- Ans
- 1. सब
  - 2. से
  - 3. कब
  - 4. तक

Question ID : 26433079597

Status : Answered

Chosen Option : 2

**Comprehension:**

निम्नलिखित गद्यांश में से कुछ शब्द हटा दिए गए हैं। दिए गए विकल्पों की सहायता से रिक्त स्थानों की पूर्ति कीजिए। प्रत्येक संख्या के लिए उपयुक्त विकल्प का चयन कीजिए।

दुनिया में अब 1. \_\_\_\_\_ करोड़ों 2. \_\_\_\_\_ छप चुकी हैं। हजारों पुस्तकें रोज़ छपती हैं। तरह-तरह 3. \_\_\_\_\_ अक्षरों में हजारों की तादाद में रोज़ 4. \_\_\_\_\_ समाचार-पत्र छपते रहते हैं। इन सबके मूल में 5. \_\_\_\_\_, अक्षर।

SubQuestion No : 17

Q.17 रिक्त स्थान 2 की पूर्ति के लिए सर्वाधिक उपयुक्त विकल्प का चयन कीजिए।

- Ans
- 1. पुस्तकें
  - 2. पुस्तकों
  - 3. परिणाम
  - 4. पाठ

Question ID : 26433079598

Status : Answered

Chosen Option : 1

**Comprehension:**

निम्नलिखित गद्यांश में से कुछ शब्द हटा दिए गए हैं। दिए गए विकल्पों की सहायता से रिक्त स्थानों की पूर्ति कीजिए। प्रत्येक संख्या के लिए उपयुक्त विकल्प का चयन कीजिए।

दुनिया में अब 1. \_\_\_\_\_ करोड़ों 2. \_\_\_\_\_ छप चुकी हैं। हजारों पुस्तकें रोज़ छपती हैं। तरह-तरह 3. \_\_\_\_\_ अक्षरों में हजारों की तादाद में रोज़ 4. \_\_\_\_\_ समाचार-पत्र छपते रहते हैं। इन सबके मूल में 5. \_\_\_\_\_, अक्षर।

**SubQuestion No : 18**

Q.18 रिक्त स्थान 3 की पूर्ति के लिए सर्वाधिक उपयुक्त विकल्प का चयन कीजिए।

- Ans  1. के  
 2. का  
 3. में  
 4. की

Question ID : 26433079599

Status : Answered

Chosen Option : 1

**Comprehension:**

निम्नलिखित गद्यांश में से कुछ शब्द हटा दिए गए हैं। दिए गए विकल्पों की सहायता से रिक्त स्थानों की पूर्ति कीजिए। प्रत्येक संख्या के लिए उपयुक्त विकल्प का चयन कीजिए।

दुनिया में अब 1. \_\_\_\_\_ करोड़ों 2. \_\_\_\_\_ छप चुकी हैं। हजारों पुस्तकें रोज़ छपती हैं। तरह-तरह 3. \_\_\_\_\_ अक्षरों में हजारों की तादाद में रोज़ 4. \_\_\_\_\_ समाचार-पत्र छपते रहते हैं। इन सबके मूल में 5. \_\_\_\_\_, अक्षर।

**SubQuestion No : 19**

Q.19 रिक्त स्थान 4 की पूर्ति के लिए सर्वाधिक उपयुक्त विकल्प का चयन कीजिए।

- Ans  1. भी  
 2. तक  
 3. भर  
 4. ही

Question ID : 26433079600

Status : Answered

Chosen Option : 4

**Comprehension:**

निम्नलिखित गद्यांश में से कुछ शब्द हटा दिए गए हैं। दिए गए विकल्पों की सहायता से रिक्त स्थानों की पूर्ति कीजिए। प्रत्येक संख्या के लिए उपयुक्त विकल्प का चयन कीजिए।

दुनिया में अब 1. \_\_\_\_\_ करोड़ों 2. \_\_\_\_\_ छप चुकी हैं। हजारों पुस्तकें रोज़ छपती हैं। तरह-तरह 3. \_\_\_\_\_ अक्षरों में हजारों की तादाद में रोज़ 4. \_\_\_\_\_ समाचार-पत्र छपते रहते हैं। इन सबके मूल में 5. \_\_\_\_\_, अक्षर।

**SubQuestion No : 20**

**Q.20** रिक्त स्थान 5 की पूर्ति के लिए सर्वाधिक उपयुक्त विकल्प का चयन कीजिए।

**Ans**

✓ 1. हैं

✗ 2. होती

✗ 3. होना

✗ 4. क्योंकि

Question ID : 26433079601

Status : Not Answered

Chosen Option : --

WWW.GOVtJOBSALERT.COM