

# Constable GD in CAPFs SSF Rifleman GD in Assam Rifles and Sepoy in NCB Examination 2022

Roll Number	<a href="http://www.govtjobsalert.in">www.govtjobsalert.in</a>
Candidate Name	<a href="http://www.govtjobsalert.in">www.govtjobsalert.in</a>
Venue Name	IPS Digital Centre
Exam Date	07/02/2023
Exam Time	2:30 PM - 3:30 PM
Subject	Constable GD Examination 2022

## Section : Part-A-General Intelligence and Reasoning

Q.1 उस विकल्प का चयन करें जो तीसरी संख्या से उसी प्रकार संबंधित है जिस प्रकार दूसरी संख्या पहली संख्या से संबंधित है और छठी संख्या पांचवी संख्या से संबंधित है।  
64 : 16 :: 169 : ? :: 256 : 32

- Ans
- 1. 28
  - 2. 26
  - 3. 30
  - 4. 24

Question ID : 26433067896

Status : Answered

Chosen Option : 2

Q.2 उस विकल्प का चयन कीजिए जो तीसरे शब्द से उसी प्रकार संबंधित है जिस प्रकार दूसरा शब्द पहले शब्द से संबंधित है। (शब्दों को अर्थपूर्ण शब्दों के रूप में मानना है और उन्हें शब्द में अक्षरों/व्यंजनों/स्वरों की संख्या के आधार पर एक-दूसरे से संबंधित नहीं करना है।)  
घोड़ा : अस्तबल :: पक्षी : ?

- Ans
- 1. उड़ना
  - 2. छत्ता
  - 3. घोंसला
  - 4. आकाश

Question ID : 26433069580

Status : Answered

Chosen Option : 3

Q.3 एक निश्चित कूट भाषा में, 'MOVE' को 'NQWG' लिखा जाता है और 'RUST' को 'SWTV' लिखा जाता है। उसी भाषा में 'TASK' कैसे लिखा जाएगा?

- Ans
- 1. CUUM
  - 2. UCMU
  - 3. CUMU
  - 4. UCTM

Question ID : 26433068894

Status : Answered

Chosen Option : 4

Q.4 'A + B' का अर्थ है 'B, A का दादा है'  
'A @ B' का अर्थ है 'B, A का भाई है'  
'A % B' का अर्थ है 'B, A की पुत्री है'  
'A \$ B' का अर्थ है 'B, A का पति है'  
यदि A \$ B % C @ D + E है, तो E, A से किस प्रकार संबंधित है?

- Ans
- 1. पुत्र
  - 2. भाई
  - 3. ससुर
  - 4. पिता

Question ID : 26433068531

Status : Not Answered

Chosen Option : --

Q.5 दिए गए विकल्पों में से वह संख्या चुनिए, जो निम्नलिखित श्रृंखला में प्रश्न-चिह्न (?) को प्रतिस्थापित कर सके।  
73, 74, 66, 93, 29, ?

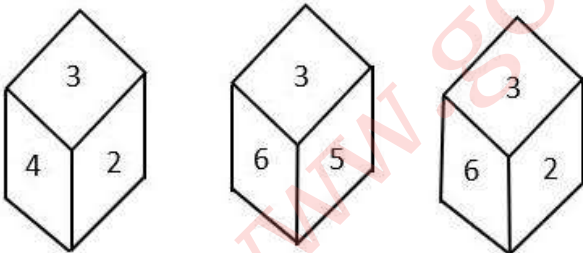
- Ans
- 1. 146
  - 2. 164
  - 3. 145
  - 4. 154

Question ID : 26433078924

Status : Not Answered

Chosen Option : --

Q.6 एक ही पासे की तीन अलग-अलग स्थितियों को दर्शाया गया है। '3' दर्शाने वाले फलक के विपरीत फलक की संख्या ज्ञात कीजिए।



- Ans
- 1. 2
  - 2. 4
  - 3. 1
  - 4. 5

Question ID : 26433090078

Status : Answered

Chosen Option : 3

Q.7 एक कूट भाषा में 'sweet fruits' को 're de', 'mango is sweet' को 'de me ke', 'orange is citrus' को 'ke le pe', 'eat orange' को 'pe ne' के रूप में कूटबद्ध किया जाता है। शब्द 'eat' के लिए कूट क्या होगा?

- Ans
- 1. de
  - 2. ne
  - 3. pe
  - 4. re

Question ID : 26433082267

Status : Answered

Chosen Option : 2

Q.8 तीन कथनों के बाद तीन निष्कर्ष I, II और III दिए गए हैं। कथनों को सत्य मानते हुए, भले ही वे सामान्य रूप से ज्ञात तथ्यों से भिन्न प्रतीत होते हों, निर्णय लीजिए कि कौन-सा/से निष्कर्ष कथनों का तार्किक रूप से अनुसरण करता/करते है/हैं।

कथन:

सभी सेब केक हैं।

सभी केक केले हैं।

कुछ केले फल हैं।

निष्कर्ष:

I. कुछ सेब केक हैं।

II. कुछ केले सेब हैं।

III. कुछ फल केले हैं।

- Ans
- 1. सभी निष्कर्ष अनुसरण करते हैं।
  - 2. निष्कर्ष I और II दोनों अनुसरण करते हैं।
  - 3. निष्कर्ष I और III दोनों अनुसरण करते हैं।
  - 4. निष्कर्ष II और III दोनों अनुसरण करते हैं।

Question ID : 26433081796

Status : Answered

Chosen Option : 1

Q.9 यदि A का अर्थ  $\div$ , B का अर्थ  $\times$ , C का अर्थ  $+$  और D का अर्थ  $-$  है, तो निम्नलिखित समीकरण का मान क्या होगा?

$$24 B 12 A 8 C 10 D 6 = ?$$

- Ans
- 1. 48
  - 2. 36
  - 3. 40
  - 4. 60

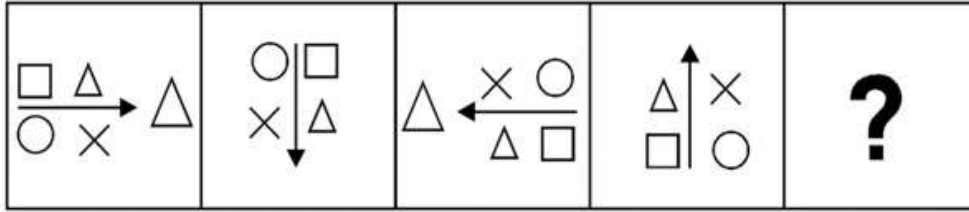
Question ID : 26433085654

Status : Answered

Chosen Option : 3

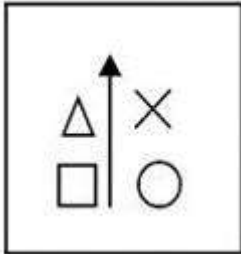
Q.10 दिए गए विकल्पों में से उस आकृति का चयन करें जो निम्नलिखित श्रृंखला में

प्रश्नवाचक चिह्न (?) का स्थान ले सकती है।

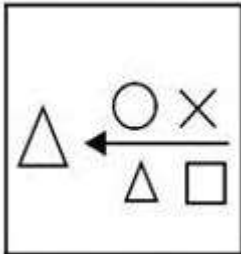


Ans

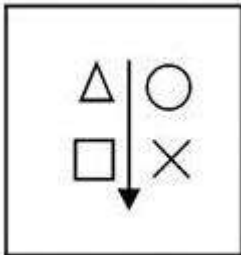
✗ 1.



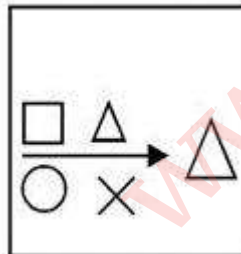
✗ 2.



✗ 3.



✓ 4.



Question ID : 26433080483

Status : Answered

Chosen Option : 4

Q.11 सात व्यक्ति I, II, III, IV, V, VI और VII एक वृत्ताकार मेज के परितः मेज के केंद्र की ओर मुख करके बैठे हुए हैं। I और III एक दूसरे के बगल में नहीं बैठे हैं। VII, VI और IV के बीच में बैठा है। IV, I के बाईं ओर ठीक बगल में बैठा है। केवल II, V और III के बीच में बैठा है। I और VII के बीच में कौन बैठा है?

- Ans
- 1. II
  - 2. VI
  - 3. IV
  - 4. III

Question ID : 264330114208

Status : Answered

Chosen Option : 3

Q.12 कौन-सा अक्षर-समूह दी गई श्रृंखला में प्रश्नचिह्न (?) के स्थान पर आकर श्रृंखला को पूर्ण करेगा?  
CMUZ, FOVB, ?, LSXF, OUYH

- Ans
- 1. IQWD
  - 2. JQWD
  - 3. IQXD
  - 4. JQXD

Question ID : 26433067949

Status : Answered

Chosen Option : 1

Q.13 नीचे दिए गए समीकरण को गणितीय रूप से सही बनाने के लिए किन दो गणितीय चिन्हों को परस्पर बदलना चाहिए?

$$135 \div 15 \times 27 + 3 - 18 = 252$$

- Ans
- 1. + और ×
  - 2. ÷ और ×
  - 3. + और -
  - 4. ÷ और +

Question ID : 264330117491

Status : Answered

Chosen Option : 4

Q.14 एक शिक्षक 10 किंडरगार्टन बच्चों को दो समानांतर पंक्तियों में इस प्रकार बैठाता है कि प्रत्येक पंक्ति में पाँच-पाँच बच्चे एक-दूसरे की ओर मुख करके बैठते हैं। अनु, बॉबी, लिली, टॉम और सुधा उत्तर की ओर मुख करके पंक्ति 1 में बैठते हैं, जबकि प्रिया, रमा, उमा, कला और गुना दक्षिण की ओर मुख करके पंक्ति 2 में बैठते हैं। लिली का मुख, गुना के ठीक बगल में बैठे व्यक्ति की ओर है। टॉम, सुधा के बाईं ओर तीसरे स्थान पर बैठा है। अनु किनारों पर नहीं बैठती है। न तो प्रिया और न ही रमा किनारों पर बैठती हैं। गुना पंक्ति के ठीक मध्य में बैठा है। लिली और टॉम के बीच में केवल एक बच्चा बैठा है। कला एक किनारे पर बैठती है, लेकिन उसका मुख सुधा की ओर नहीं है। प्रिया, रमा के दाईं ओर बैठती है, लेकिन उसके ठीक बगल में नहीं है। कौन-सा बच्चा टॉम की ओर मुख करके बैठा है?

- Ans
- 1. उमा
  - 2. गुना
  - 3. प्रिया
  - 4. कला

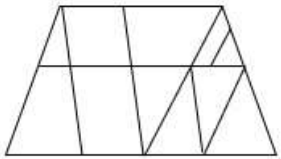
Question ID : 26433079067

Status : Not Answered

Chosen Option : --

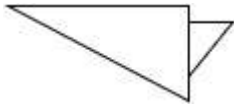
Q.15 वह विकल्प चित्र चुनिए, जो प्रस्तुत चित्र में अंतर्निहित है। (घुमाना अनुमन्य नहीं

है)

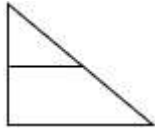


Ans

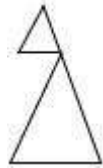
✗ 1.



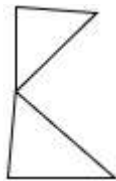
✗ 2.



✓ 3.



✗ 4.



Question ID : 26433069333

Status : Answered

Chosen Option : 3

Q.16 दर्पण को चित्र में दिखाए अनुसार MN पर रखे जाने पर दी गई आकृति के सही

दर्पण प्रतिबिंब का चयन करें।



Ans

✗ 1.



✗ 2.



✗ 3.



✓ 4.



Question ID : 26433082335

Status : Answered

Chosen Option : 4

Q.17 'प्रबलता' का जो संबंध 'कमजोरी' से है, वही संबंध 'साहस' का '\_\_\_\_\_ ' से है।  
(शब्दों को अर्थपूर्ण शब्दों के रूप में मानना है और उन्हें शब्द में अक्षरों/व्यंजनों/स्वरों की संख्या के आधार पर एक-दूसरे से संबंधित नहीं करना है।)

- Ans
- 1. शक्ति
  - 2. झगड़ा
  - 3. कायरता
  - 4. वीरता

Question ID : 26433057749  
Status : Answered  
Chosen Option : 3

Q.18 कौन-सा अक्षर-समूह दी गई श्रृंखला में प्रश्नचिह्न (?) के स्थान पर आकर श्रृंखला को पूर्ण करेगा?  
LQOA, ?, LUOE, LWOG, LYOI

- Ans
- 1. LRMC
  - 2. CRML
  - 3. CTPL
  - 4. LSOC

Question ID : 26433068038  
Status : Answered  
Chosen Option : 4

Q.19 किस विकल्प में निम्नलिखित शब्दों का वह क्रम दिया गया है, जिस क्रम में वे अंग्रेजी शब्दकोश में आते हैं?

1. lantern
2. lavish
3. lament
4. latitude
5. lately

- Ans
- 1. 3,1,4,2,5
  - 2. 3,5,1,4,2
  - 3. 3,5,4,1,2
  - 4. 3,1,5,4,2

Question ID : 26433069308  
Status : Answered  
Chosen Option : 4

Q.20 निम्न श्रृंखला में प्रश्न-चिह्न (?) के स्थान पर कौन सी संख्या आएगी?  
57, 50, 64, ?, 71, 36

- Ans
- 1. 50
  - 2. 40
  - 3. 43
  - 4. 62

Question ID : 26433067841  
Status : Answered  
Chosen Option : 3

Q.1 कौन-सी पर्वत श्रृंखला शीत साइबेरियाई पवनों को भारत में प्रवेश करने से रोकती है?

- Ans
- 1. पश्चिमी घाट
  - 2. अरावली पर्वत श्रृंखला
  - 3. सतपुड़ा पर्वत श्रृंखला
  - 4. हिमालय

Question ID : 264330115980

Status : Not Answered

Chosen Option : --

Q.2 इनमें से कौन सा एक सूक्ष्म पोषक तत्व है?

- Ans
- 1. फ़ाइबर
  - 2. आयरन
  - 3. कार्बोहाइड्रेट
  - 4. जल

Question ID : 264330115231

Status : Answered

Chosen Option : 2

Q.3 निम्नलिखित में से किसे मद्रास संगीत अकादमी द्वारा TTK स्मारक पुरस्कार से सम्मानित किया गया है?

- Ans
- 1. महबूब सुभानी
  - 2. वेम्पति चिन्ना सत्यम
  - 3. उदय शंकर
  - 4. पंडित बिरजू महाराज

Question ID : 264330115848

Status : Answered

Chosen Option : 2

Q.4 SAMADHAN पोर्टल, कामगारों के लिए न्याय को सरल और त्वरित बनाने के इरादे से ऑनलाइन पंजीकरण की अनुमति देता है। औद्योगिक विवाद क्षेत्र के \_\_\_\_\_ के समक्ष उठाया जाता है।

- Ans
- 1. सुलह अधिकारी
  - 2. मंडल निरीक्षक
  - 3. सीमा-शुल्क अधिकारी
  - 4. खंड विकास अधिकारी

Question ID : 264330116194

Status : Not Answered

Chosen Option : --



Q.5 एल्युमिनियम प्रगलन भारत में \_\_\_\_\_ सबसे महत्वपूर्ण धातुकर्म उद्योग है।

- Ans
- 1. तीसरा
  - 2. पहला
  - 3. चौथा
  - 4. दूसरा

Question ID : 264330115403

Status : Answered

Chosen Option : 2

Q.6 निम्नलिखित में से कौन-सा भारत की संसदीय सरकार का सिद्धांत नहीं है?

- Ans
- 1. लोकसभा का विघटन
  - 2. बहुमत दल का शासन
  - 3. विधायिका, कार्यपालिका और न्यायपालिका के बीच शक्तियों का स्पष्ट विभाजन
  - 4. सामूहिक जिम्मेदारी

Question ID : 26433090675

Status : Answered

Chosen Option : 1

Q.7 2011 क्रिकेट विश्व कप की मेजबानी किसने की?

- Ans
- 1. भारत
  - 2. ऑस्ट्रेलिया
  - 3. भारत, श्रीलंका, बांग्लादेश
  - 4. केवल श्रीलंका, बांग्लादेश

Question ID : 264330115955

Status : Answered

Chosen Option : 3

Q.8 अर्थशास्त्रियों के अनुसार, एक गरीब राष्ट्र केवल तभी प्रगति कर सकता है, जब उसके पास अच्छा \_\_\_\_\_ हो।

- Ans
- 1. निजी क्षेत्र
  - 2. सेवा क्षेत्र
  - 3. औद्योगिक क्षेत्र
  - 4. कृषि क्षेत्र

Question ID : 264330116143

Status : Answered

Chosen Option : 3

Q.9 जनगणना 2011 के अनुसार भारत की महिला साक्षरता दर कितनी है?

Ans  1. 63.52%

2. 65.46%

3. 69.89%

4. 67.78%

Question ID : 264330116057

Status : Answered

Chosen Option : 4

Q.10 भारत के लोकतंत्र का आधार कानून का शासन है और इसका अर्थ है कि हमारे पास \_\_\_\_\_ होना चाहिए।

Ans  1. अभिव्यक्ति की स्वतंत्रता

2. एक लिखित संविधान

3. संसद की संप्रभुता

4. स्वतंत्र न्यायपालिका

Question ID : 264330115613

Status : Answered

Chosen Option : 4

Q.11 निम्नलिखित में से कौन-सी धान की फसल (paddy crop) है?

Ans  1. खीरा

2. जूट

3. चावल

4. कपास

Question ID : 264330115525

Status : Answered

Chosen Option : 3

Q.12 एक बजट दस्तावेज, जो सरकार के पूंजी खाते में परिसंपत्तियों और देयताओं से संबंधित होता है, उसे \_\_\_\_\_ कहा जाता है।

Ans  1. पूंजीगत बजट

2. शून्य बजट

3. दीर्घकालिक बजट

4. राजस्व बजट

Question ID : 264330115278

Status : Answered

Chosen Option : 1

Q.13 निम्नलिखित में से किस शास्त्रीय नृत्य शैली को मूल रूप से सादिर अट्टम के नाम से जाना जाता था?

- Ans
- 1. कुचिपुड़ी
  - 2. मणिपुरी
  - 3. सत्रीया
  - 4. भरतनाट्यम

Question ID : 264330115064  
Status : Not Answered  
Chosen Option : --

Q.14 नवंबर 2022 में, अजीत मोहन के स्थान पर मेटा (Meta) का नया भारतीय प्रमुख कौन बना?

- Ans
- 1. अंखी दास
  - 2. राजीव अग्रवाल
  - 3. संध्या देवनाथन
  - 4. अभिजीत बोस

Question ID : 264330114981  
Status : Not Answered  
Chosen Option : --

Q.15 नवंबर 2022 तक की स्थिति के अनुसार, भारत में एक राजनीतिक दल, भारतीय जनता पार्टी के अध्यक्ष कौन हैं?

- Ans
- 1. अमित शाह
  - 2. स्वतंत्र देव सिंह
  - 3. जगत प्रकाश नड्डा
  - 4. नरेन्द्र मोदी

Question ID : 264330114939  
Status : Answered  
Chosen Option : 3

Q.16 1962 में, मैकमोहन रेखा के क्षेत्र में भारत का युद्ध किस देश के साथ हुआ था?

- Ans
- 1. भूटान
  - 2. नेपाल
  - 3. पाकिस्तान
  - 4. चीन

Question ID : 264330115687  
Status : Answered  
Chosen Option : 4

Q.17 पल्लवों के अभिलेखों में कई स्थानीय सभाओं की चर्चा है। इनमें से एक था ब्राह्मण भूस्वामियों का संगठन जिसे \_\_\_\_\_ कहते थी।

- Ans
- 1. सभा
  - 2. भ्रमण
  - 3. परिषद
  - 4. नौकायन

Question ID : 264330115457  
Status : Answered  
Chosen Option : 3

Q.18 कॉपर क्लोराइड के साथ लेड की अभिक्रिया से कौन से उत्पाद निर्मित होते हैं?

- Ans
- 1. लेड क्लोराइड और कॉपर
  - 2. लेड ऑक्साइड और कॉपर
  - 3. लेड ऑक्साइड और कॉपर हाइड्रॉक्साइड
  - 4. कॉपर ऑक्साइड और लेड क्लोराइड

Question ID : 26433087844  
Status : Answered  
Chosen Option : 1

Q.19 मीराबाई चानू भारत के निम्नलिखित में से किस राज्य से संबंधित हैं?

- Ans
- 1. नागालैंड
  - 2. मणिपुर
  - 3. त्रिपुरा
  - 4. असम

Question ID : 264330116262  
Status : Answered  
Chosen Option : 2

Q.20 कश्मीर के लोग नवरेह उत्सव को देवी \_\_\_\_\_ को समर्पित करते हैं और इस उत्सव के दौरान उन्हें श्रद्धांजलि देते हैं।

- Ans
- 1. लक्ष्मी
  - 2. शारिका
  - 3. पार्वती
  - 4. सीता

Question ID : 264330115115  
Status : Answered  
Chosen Option : 2

Q.1 आकाश एक कार्य को 74 दिनों में कर सकता है। विशाल यह कार्य 37 दिनों में कर सकता है। आकाश अकेले काम शुरू करता है। कितने दिनों के बाद विशाल को उसके साथ जुड़ना चाहिए, ताकि कार्य 40 दिनों में समाप्त हो जाए?

- Ans
- 1. 16 दिन
  - 2. 23 दिन
  - 3. 25 दिन
  - 4. 19 दिन

Question ID : 264330116878

Status : Not Answered

Chosen Option : --

Q.2 एक कंपनी ने एक निश्चित कार्य को 150 दिनों में पूरा करने के लिए 200 श्रमिकों को नियोजित किया। 50 दिनों में सिर्फ एक चौथाई कार्य ही पूरा हुआ। पूरे कार्य को समय पर पूरा करने के लिए, कितने अतिरिक्त श्रमिकों को नियोजित करने की आवश्यकता है?

- Ans
- 1. 100
  - 2. 150
  - 3. 50
  - 4. 75

Question ID : 26433075988

Status : Answered

Chosen Option : 1

Q.3 एक व्यक्ति एक कार में 30 km/h की औसत चाल से 450 km की यात्रा करता है, फिर 40 km/h की चाल से 360 km की यात्रा करता है, और अंत में 50 km/h की चाल से 150 km की यात्रा करके गंतव्य तक पहुंचता है। पूरी यात्रा के दौरान उसकी औसत चाल ज्ञात कीजिए।

- Ans
- 1.  $\frac{340}{9}$  km/h
  - 2.  $\frac{320}{9}$  km/h
  - 3.  $\frac{370}{9}$  km/h
  - 4.  $\frac{310}{9}$  km/h

Question ID : 26433074302

Status : Answered

Chosen Option : 2

Q.4 रानी घर से 30 km/h की चाल से स्कूल जाती है और 20 km/h की चाल से घर वापस आती है। यदि उसके घर और स्कूल के बीच की दूरी 8 km है, तो पूरी यात्रा की औसत चाल क्या होगी?

- Ans
- 1. 28 km/h
  - 2. 22 km/h
  - 3. 24 km/h
  - 4. 26 km/h

Question ID : 26433075643

Status : Answered

Chosen Option : 3

Q.5 यदि एक ठोस लम्ब वृत्तीय बेलन का कुल पृष्ठीय क्षेत्रफल  $1100 \text{ cm}^2$  है और इसकी त्रिज्या 7 cm है, तो इसका वक्र पृष्ठीय क्षेत्रफल ज्ञात कीजिए। ( $\pi = \frac{22}{7}$  का प्रयोग करें)

- Ans
- 1.  $792 \text{ cm}^2$
  - 2.  $840 \text{ cm}^2$
  - 3.  $562 \text{ cm}^2$
  - 4.  $930 \text{ cm}^2$

Question ID : 26433080073

Status : Answered

Chosen Option : 1

Q.6 एक इंजन के पहिया की परिधि  $3\frac{3}{4} \text{ m}$  है और 2 सेकंड में 4 चक्कर लगाता है। यह ट्रेन 2 घंटे में कितनी दूरी (km में) तय करेगी?

- Ans
- 1. 50 km
  - 2. 54 km
  - 3. 70 km
  - 4. 62 km

Question ID : 26433076043

Status : Not Answered

Chosen Option : --

Q.7 स्लिंग बैग पर 10 प्रतिशत की छूट थी। मयूरी ने एक स्लिंग बैग खरीदा और नकद भुगतान करने पर 5 प्रतिशत की अतिरिक्त छूट प्राप्त की। उसने 2565 रुपए का भुगतान किया। स्लिंग बैग का मूल्य टैग क्या था?

- Ans
- 1. 3000 रुपए
  - 2. 2000 रुपए
  - 3. 2800 रुपए
  - 4. 3400 रुपए

Question ID : 264330116763

Status : Answered

Chosen Option : 1

Q.8 दो संख्याएँ 2:3 के अनुपात में हैं। यदि प्रत्येक संख्या में आठ जोड़ दिया जाए, तो उनका अनुपात 8:11 हो जाएगा। दो संख्याएँ क्या हैं?

- Ans  1. 24 और 36  
 2. 12 और 18  
 3. 36 और 54  
 4. 18 और 27

Question ID : 26433075667  
Status : Answered  
Chosen Option : 1

Q.9 निम्नलिखित संख्याओं के वर्ग का औसत ज्ञात करें:  
5, 8, 9, 12, 15 और 16।

- Ans  1. 131.25  
 2. 131.75  
 3. 132.50  
 4. 130.50

Question ID : 264330116685  
Status : Answered  
Chosen Option : 3

Q.10 समीर ने Rs.372 प्रति दर्जन की दर से 20 दर्जन खिलौने खरीदे। उसने उनमें से प्रत्येक को Rs.32 की दर से बेचा। उसका प्रतिशत लाभ क्या था?

- Ans  1. 4.2%  
 2. 3.2%  
 3. 3.6%  
 4. 2.2%

Question ID : 26433075232  
Status : Not Answered  
Chosen Option : --

Q.11 सुरेश ने अपना मोबाइल फोन मोहन को 10% के लाभ पर ₹29,700 में बेचा। सुरेश के लिए फोन का क्रय मूल्य क्या था?

- Ans  1. ₹28,000  
 2. ₹27,000  
 3. ₹26,000  
 4. ₹25,000

Question ID : 26433074564  
Status : Answered  
Chosen Option : 2

Q.12 यदि पुस्तक का अंकित मूल्य 5000 रुपए है और इसे 4000 रुपए में बेचा गया है तो छूट ज्ञात करें।

- Ans  1. 1000 रुपए  
 2. 1100 रुपए  
 3. 1200 रुपए  
 4. 1500 रुपए

Question ID : 264330116717  
Status : Answered  
Chosen Option : 1

Q.13 12 और 16 के महत्तम समापवर्तक और लघुत्तम समापवर्त्य का योग ज्ञात करें।

- Ans  1. 52  
 2. 56  
 3. 48  
 4. 44

Question ID : 264330116656  
Status : Answered  
Chosen Option : 1

Q.14 यदि p और q एक संख्या 728pq की दो एकल अंकों वाली प्राकृत संख्याएँ हैं जिससे कि यह 80 से विभाज्य है, तो  $p \times q$  किसके बराबर है?

- Ans  1. 15  
 2. 0  
 3. 5  
 4. 10

Question ID : 26433080239  
Status : Answered  
Chosen Option : 2

Q.15 24 और 12 का तृतीयानुपाती ज्ञात कीजिए।

- Ans  1. 7  
 2. 5  
 3. 9  
 4. 6

Question ID : 26433080031  
Status : Answered  
Chosen Option : 4



Q.16 यदि एक निश्चित राशि पर 8% वार्षिक ब्याज की दर से तीन वर्षों के चक्रवृद्धि और साधारण ब्याज के बीच का अंतर Rs.61.60 है, तो राशि ज्ञात कीजिए।

- Ans
- 1. Rs.5,050
  - 2. Rs.2,125
  - 3. Rs.4,050
  - 4. Rs.3,125

Question ID : 26433064993

Status : Not Answered

Chosen Option : --

Q.17 एक शहर की जनसंख्या में पहले वर्ष में 10% की वृद्धि होती है और दूसरे वर्ष में 10% की कमी होती है। यदि दूसरे वर्ष के अंत में जनसंख्या 990000 है, तो पहले वर्ष की शुरुआत में जनसंख्या क्या थी?

- Ans
- 1. 13,00,000
  - 2. 10,00,000
  - 3. 15,00,000
  - 4. 12,00,000

Question ID : 26433082723

Status : Answered

Chosen Option : 2

Q.18 चीनी की कीमत में 5% की कमी आई है। यदि कोई परिवार अपना खर्च चीनी पर पहले की तरह ही रखना चाहता है, तो परिवार को चीनी की खपत में \_\_\_\_\_ वृद्धि करनी होगी।

- Ans
- 1.  $5\frac{2}{19}\%$
  - 2. 5%
  - 3.  $5\frac{4}{19}\%$
  - 4.  $5\frac{5}{19}\%$

Question ID : 26433074954

Status : Answered

Chosen Option : 4

Q.19 सर्दियों के दिनों में, दिन के समय औसत तापमान  $34^{\circ}\text{C}$  होता है। रात में तापमान गिरकर  $8^{\circ}\text{C}$  हो जाता है। प्रतिशत कमी क्या है?

- Ans
- 1. 84.68 प्रतिशत
  - 2. 76.47 प्रतिशत
  - 3. 42 प्रतिशत
  - 4. 26 प्रतिशत

Question ID : 264330116798

Status : Answered

Chosen Option : 2

Q.20 एक शंकु की ऊंचाई और त्रिज्या क्रमशः 21 cm और  $7\sqrt{7}$  cm हैं। शंकु का आयतन ज्ञात करें ( $\pi = \frac{22}{7}$  लें)।

- Ans
- 1. 7,634 cm<sup>3</sup>
  - 2. 6,724 cm<sup>3</sup>
  - 3. 7,546 cm<sup>3</sup>
  - 4. 6,982 cm<sup>3</sup>

Question ID : 26433076115

Status : Answered

Chosen Option : 3

Section : Part-D-English

Q.1 Select the most appropriate ANTONYM of the given word.

Tasty

- Ans
- 1. Hollow
  - 2. Insipid
  - 3. Transient
  - 4. Supreme

Question ID : 26433074382

Status : Not Answered

Chosen Option : --

Q.2 Select the most appropriate option to fill in the blank.

She needs to be \_\_\_\_\_ if she wants to stand up to her bullies.

- Ans
- 1. bolder
  - 2. boulder
  - 3. balder
  - 4. blonder

Question ID : 26433084619

Status : Not Answered

Chosen Option : --

Q.3 Select the most appropriate synonym of the given word.

Accomplish

- Ans
- 1. Fail
  - 2. Disappoint
  - 3. Approve
  - 4. Achieve

Question ID : 26433074042

Status : Not Answered

Chosen Option : --

Q.4 Select the most appropriate ANTONYM of the given word.

Officious

- Ans
- 1. Legal
  - 2. Imperial
  - 3. Timid
  - 4. Obtrusive

Question ID : 26433072417  
Status : Not Answered  
Chosen Option : --

Q.5 Select the INCORRECTLY spelt word.

- Ans
- 1. Maintenance
  - 2. Defroded
  - 3. Continuation
  - 4. Discrimination

Question ID : 26433073880  
Status : Not Answered  
Chosen Option : --

Q.6 Select the INCORRECTLY spelt word.

- Ans
- 1. Acclaim
  - 2. Opportunity
  - 3. Convenceince
  - 4. Calendar

Question ID : 26433072365  
Status : Not Answered  
Chosen Option : --

Q.7 Select the most appropriate meaning of the given idiom.  
Be in seventh heaven

- Ans
- 1. To support someone strongly
  - 2. To be prepared for trouble
  - 3. To be impossible to understand
  - 4. To be extremely happy

Question ID : 26433086429  
Status : Not Answered  
Chosen Option : --

Q.8 Select the most appropriate synonym of the given word.

Baffle

- Ans
- 1. Perceive
  - 2. Convince
  - 3. Confuse
  - 4. Betray

Question ID : 26433088996  
Status : Not Answered  
Chosen Option : --

Q.9 Select the most appropriate option that can substitute the underlined segment in the given sentence.

The doctors always wear a right and suitable uniform.

- Ans
- 1. nice
  - 2. virtuous
  - 3. decent
  - 4. fit

Question ID : 26433086463  
Status : Not Answered  
Chosen Option : --

Q.10 Select the most appropriate meaning of the underlined idiom in the given sentence.

The child made a wry face when he was denied entry into the museum.

- Ans
- 1. A disappointed look
  - 2. An earnest request
  - 3. An offending remark
  - 4. An obscene gesture

Question ID : 26433072063  
Status : Not Answered  
Chosen Option : --

Q.11 Select the option that expresses the given sentence in past perfect tense.

- A. Fortunately, the movie had not been starting on time.
- B. Fortunately, the movie was not starting on time.
- C. Fortunately, the movie had not started on time.
- D. Fortunately, the movie did not start on time.

- Ans
- 1. A
  - 2. C
  - 3. D
  - 4. B

Question ID : 26433073518  
Status : Not Answered  
Chosen Option : --

Q.12 Select the most appropriate option to fill in the blank.

A feeling comes over one that so much evil and misfortune \_\_\_\_\_ the world that a little more or less does not make much difference.

- Ans
- 1. had shadowed
  - 2. shadowing
  - 3. shadow
  - 4. shadowed

Question ID : 26433092113

Status : Not Answered

Chosen Option : --

Q.13 Select the most appropriate ANTONYM of the underlined word in the following sentence.

The robbers were captured and brought to the jail.

- Ans
- 1. Released
  - 2. Composed
  - 3. Destroyed
  - 4. Seized

Question ID : 26433072239

Status : Not Answered

Chosen Option : --

Q.14 Select the most appropriate option to fill in the blank.

A couple of parrots \_\_\_\_\_ on the telephone wires.

- Ans
- 1. waited
  - 2. flew
  - 3. perched
  - 4. seeded

Question ID : 26433060334

Status : Not Answered

Chosen Option : --

Q.15 Select the most appropriate option to substitute the underlined segment in the given sentence.

He asked me if I have anything to say.

- Ans
- 1. if I has anything
  - 2. if I want anything
  - 3. if I had anything
  - 4. if I am having anything

Question ID : 26433093473

Status : Not Answered

Chosen Option : --

**Comprehension:**

In the following passage, some words have been deleted. Read the passage carefully and select the most appropriate option to fill in each blank.

Twenty five years ago, few people realised that computers (1) \_\_\_\_\_ about to become part of our daily lives. This short period of time has seen (2) \_\_\_\_\_ changes, in business, education and public administration. Jobs which took weeks to complete in the past are now carried out in minutes. People who spent all day copying and checking calculations are now freed from these (3) \_\_\_\_\_ tasks. Students have become as familiar with hardware and software as their parents were with pencils and exercise books. Computerisation of public records has enabled government departments to analyse the needs of citizens in detail. Some of us may wonder, (4) \_\_\_\_\_, life has really improved as a result of these changes. Many jobs disappeared, for example, when intelligent machines took over the work. Employers complain that clerical (5) \_\_\_\_\_ have become dependent on calculators and cannot do simple arithmetic.

**SubQuestion No : 16**

**Q.16** Select the most appropriate option to fill in blank 1.

Ans  1. were

2. was

3. be

4. is

Question ID : 26433089079

Status : Not Answered

Chosen Option : --

**Comprehension:**

In the following passage, some words have been deleted. Read the passage carefully and select the most appropriate option to fill in each blank.

Twenty five years ago, few people realised that computers (1) \_\_\_\_\_ about to become part of our daily lives. This short period of time has seen (2) \_\_\_\_\_ changes, in business, education and public administration. Jobs which took weeks to complete in the past are now carried out in minutes. People who spent all day copying and checking calculations are now freed from these (3) \_\_\_\_\_ tasks. Students have become as familiar with hardware and software as their parents were with pencils and exercise books. Computerisation of public records has enabled government departments to analyse the needs of citizens in detail. Some of us may wonder, (4) \_\_\_\_\_, life has really improved as a result of these changes. Many jobs disappeared, for example, when intelligent machines took over the work. Employers complain that clerical (5) \_\_\_\_\_ have become dependent on calculators and cannot do simple arithmetic.

**SubQuestion No : 17**

**Q.17** Select the most appropriate option to fill in blank 2.

Ans  1. anonymous

2. hazardous

3. enormous

4. indigenous

Question ID : 26433089080

Status : Not Answered

Chosen Option : --

### Comprehension:

In the following passage, some words have been deleted. Read the passage carefully and select the most appropriate option to fill in each blank.

Twenty five years ago, few people realised that computers (1)\_\_\_\_\_ about to become part of our daily lives. This short period of time has seen (2)\_\_\_\_\_ changes, in business, education and public administration. Jobs which took weeks to complete in the past are now carried out in minutes. People who spent all day copying and checking calculations are now freed from these (3)\_\_\_\_\_ tasks. Students have become as familiar with hardware and software as their parents were with pencils and exercise books. Computerisation of public records has enabled government departments to analyse the needs of citizens in detail. Some of us may wonder, (4)\_\_\_\_\_, life has really improved as a result of these changes. Many jobs disappeared, for example, when intelligent machines took over the work. Employers complain that clerical (5)\_\_\_\_\_ have become dependent on calculators and cannot do simple arithmetic.

#### SubQuestion No : 18

Q.18 Select the most appropriate option to fill in blank 3.

- Ans  1. bores  
 2. boring  
 3. bore  
 4. bored

Question ID : 26433089081

Status : Not Answered

Chosen Option : --

### Comprehension:

In the following passage, some words have been deleted. Read the passage carefully and select the most appropriate option to fill in each blank.

Twenty five years ago, few people realised that computers (1)\_\_\_\_\_ about to become part of our daily lives. This short period of time has seen (2)\_\_\_\_\_ changes, in business, education and public administration. Jobs which took weeks to complete in the past are now carried out in minutes. People who spent all day copying and checking calculations are now freed from these (3)\_\_\_\_\_ tasks. Students have become as familiar with hardware and software as their parents were with pencils and exercise books. Computerisation of public records has enabled government departments to analyse the needs of citizens in detail. Some of us may wonder, (4)\_\_\_\_\_, life has really improved as a result of these changes. Many jobs disappeared, for example, when intelligent machines took over the work. Employers complain that clerical (5)\_\_\_\_\_ have become dependent on calculators and cannot do simple arithmetic.

#### SubQuestion No : 19

Q.19 Select the most appropriate option to fill in blank 4.

- Ans  1. subsequently  
 2. therefore  
 3. however  
 4. for instance

Question ID : 26433089082

Status : Not Answered

Chosen Option : --

### Comprehension:

In the following passage, some words have been deleted. Read the passage carefully and select the most appropriate option to fill in each blank.

Twenty five years ago, few people realised that computers (1)\_\_\_\_\_ about to become part of our daily lives. This short period of time has seen (2)\_\_\_\_\_ changes, in business, education and public administration. Jobs which took weeks to complete in the past are now carried out in minutes. People who spent all day copying and checking calculations are now freed from these (3)\_\_\_\_\_ tasks. Students have become as familiar with hardware and software as their parents were with pencils and exercise books. Computerisation of public records has enabled government departments to analyse the needs of citizens in detail. Some of us may wonder, (4)\_\_\_\_\_, life has really improved as a result of these changes. Many jobs disappeared, for example, when intelligent machines took over the work. Employers complain that clerical (5)\_\_\_\_\_ have become dependent on calculators and cannot do simple arithmetic.

### SubQuestion No : 20

Q.20 Select the most appropriate option to fill in blank 5.

- Ans  1. soldiers  
 2. religions  
 3. staff  
 4. messengers

Question ID : 26433089083

Status : Not Answered

Chosen Option : --

### Section : Part-D-Hindi

Q.1 निम्न में से 'अग्नि' का पर्याय है-

- Ans  1. अमिय  
 2. अम्बक  
 3. अनिल  
 4. अनल

Question ID : 26433062912

Status : Answered

Chosen Option : 4

Q.2 जो सुगमता से साधा जाए ऊपर दिए गए वाक्यांश के लिए एक शब्द क्या होगा?

- Ans  1. दुर्गम्य  
 2. सुगम्य  
 3. दुःसाध्य  
 4. सुसाध्य

Question ID : 26433070061

Status : Answered

Chosen Option : 4



Q.3 निम्न वाक्य में रेखांकित शब्द को विकल्पों में दिए गए शब्दों में से उचित शब्द से बदलें।  
मुझे आशंका है कि वह इतना काम कर सकेगा या नहीं।

- Ans
- 1. भय
  - 2. शंका
  - 3. खेद
  - 4. अंदेशा

Question ID : 26433062875  
Status : Answered  
Chosen Option : 2

Q.4 निम्नलिखित में से शुद्ध वर्तनी वाला शब्द कौन-सा है?

- Ans
- 1. एतवार
  - 2. इतवार
  - 3. ईतवार
  - 4. ईटवार

Question ID : 26433066749  
Status : Answered  
Chosen Option : 2

Q.5 निम्न वाक्य में रेखांकित अंश के स्थान पर सबसे उपयुक्त विकल्प का चयन कीजिए।  
उसने पुरस्कार का अपमान कर दिया।

- Ans
- 1. तिरस्कार
  - 2. आपमान
  - 3. समापन
  - 4. बेइज्जत

Question ID : 26433066870  
Status : Answered  
Chosen Option : 1

Q.6 'गाँव से संबंधित' वाक्यांश के लिए इनमें से उपयुक्त शब्द कौन-सा है?

- Ans
- 1. देशी
  - 2. शहरी
  - 3. ग्रामीण
  - 4. गायक

Question ID : 26433066889  
Status : Answered  
Chosen Option : 3

Q.7 'खून पसीना एक करना' मुहावरे का उचित अर्थ है-

- Ans
- 1. कुछ न समझना
  - 2. कठिन परिश्रम करना
  - 3. लड़ाई करना
  - 4. परिश्रम न करना

Question ID : 26433065881

Status : Answered

Chosen Option : 2

Q.8 निम्नलिखित मुहावरे के लिए उपयुक्त सार्थक शब्द क्या होगा?  
आंख की किरकिरी होना

- Ans
- 1. बहुत अधिक प्रिय होना
  - 2. अप्रिय लगना
  - 3. व्यर्थ का काम करना
  - 4. आंखों में कुछ चला जाना

Question ID : 26433065780

Status : Answered

Chosen Option : 2

Q.9 निम्नलिखित विकल्पों में से किस एक वाक्य में संख्यावाचक विशेषण का उचित प्रयोग नहीं किया गया है?

- Ans
- 1. मेरी आठ बीघा जमीन ननिहाल में है।
  - 2. सौ ग्राम धनिया की कीमत क्या है?
  - 3. हमें चन्द्रमा सुन्दर प्रतीत होता है।
  - 4. राम ने दो मीटर कपड़ा खरीदा।

Question ID : 26433062968

Status : Answered

Chosen Option : 3

Q.10 'सकाम' शब्द का सही विलोम शब्द क्या होगा?

- Ans
- 1. निष्काम
  - 2. कुकाम
  - 3. निकर्म
  - 4. दुर्काम

Question ID : 26433067093

Status : Answered

Chosen Option : 2

Q.11 'भीष्म पितामह ने अविवाहित रहने का प्रण लिया था।'  
उपरोक्त वाक्य में प्रयुक्त शब्द 'प्रण' के पर्यायवाची शब्द का चयन विकल्पों में से कीजिए।

- Ans
- 1. संकल्प
  - 2. कटक
  - 3. व्रत
  - 4. प्रतिज्ञा

Question ID : 26433069739  
Status : Answered  
Chosen Option : 4

Q.12 'जो वर्ष में एक बार होता हो' वाक्यांश के लिए सार्थक शब्द है-

- Ans
- 1. वार्षिक
  - 2. वर्षा
  - 3. एक वर्ष
  - 4. भीषण

Question ID : 26433062226  
Status : Answered  
Chosen Option : 1

Q.13 निम्न वाक्य में रेखांकित शब्द के उपयुक्त विलोम शब्द द्वारा रिक्त स्थान की पूर्ति कीजिए।  
कभी कभी परिस्थितियाँ मनुष्य को आस्तिक से \_\_\_\_\_ बना देती हैं।

- Ans
- 1. धार्मिक
  - 2. तार्किक
  - 3. आत्यंतिक
  - 4. नास्तिक

Question ID : 26433072618  
Status : Answered  
Chosen Option : 4

Q.14 विकल्पों में से शुद्ध वर्तनी वाले वाक्य का चयन कीजिए।

- Ans
- 1. फ़िज़ूल खर्च मत करो।
  - 2. मीरा आटा गुँध रही है।
  - 3. शत्रु युद्धभूमी से दौड़ गया।
  - 4. सुधा नीरपराध है।

Question ID : 26433079234  
Status : Not Answered  
Chosen Option : --

Q.15 "निरंजन झाइवर को कार चलवाता है।"  
उपरोक्त वाक्य में कारक सम्बन्धी त्रुटि पहचानकर निम्नलिखित में से शुद्ध वाक्य का चयन कीजिए।

- Ans
- 1. निरंजन झाइवर की कार चलवाता है।
  - 2. निरंजन झाइवर पर कार चलवाता है।
  - 3. निरंजन झाइवर के लिए कार चलवाता है।
  - 4. निरंजन झाइवर से कार चलवाता है।

Question ID : 26433066963

Status : Answered

Chosen Option : 4

**Comprehension:**

निम्नलिखित गद्यांश में कुछ शब्दों को हटा दिया गया है। दिए गए विकल्पों की सहायता से रिक्त स्थानों की पूर्ति कीजिए। प्रत्येक संख्या के लिए सबसे उपयुक्त विकल्प का चयन कीजिए।

आजकल देखा जाता है कि लोगों में त्योहारों को मनाने की 1. \_\_\_\_\_ कम होती जा रही है। पुराने उत्साह और आस्था का अभाव 2. \_\_\_\_\_ दिखाई देता है। जहाँ त्योहार मनाए भी जाते हैं उनके पीछे अन्य 3. \_\_\_\_\_ होते हैं। त्योहार मनाने के लिए समय और धन दोनों की 4. \_\_\_\_\_ होती है। जीवन में प्रतिस्पर्धा बढ़ गई है। सब बातों के केंद्र में 5. \_\_\_\_\_ आ गया है।

**SubQuestion No : 16**

Q.16 रिक्त स्थान 1 की पूर्ति के लिए सबसे उपयुक्त विकल्प का चयन कीजिए।

- Ans
- 1. उक्ति
  - 2. सपना
  - 3. कार्य
  - 4. प्रवृत्ति

Question ID : 264330111131

Status : Answered

Chosen Option : 4

**Comprehension:**

निम्नलिखित गद्यांश में कुछ शब्दों को हटा दिया गया है। दिए गए विकल्पों की सहायता से रिक्त स्थानों की पूर्ति कीजिए। प्रत्येक संख्या के लिए सबसे उपयुक्त विकल्प का चयन कीजिए।

आजकल देखा जाता है कि लोगों में त्योहारों को मनाने की 1. \_\_\_\_\_ कम होती जा रही है। पुराने उत्साह और आस्था का अभाव 2. \_\_\_\_\_ दिखाई देता है। जहाँ त्योहार मनाए भी जाते हैं उनके पीछे अन्य 3. \_\_\_\_\_ होते हैं। त्योहार मनाने के लिए समय और धन दोनों की 4. \_\_\_\_\_ होती है। जीवन में प्रतिस्पर्धा बढ़ गई है। सब बातों के केंद्र में 5. \_\_\_\_\_ आ गया है।

**SubQuestion No : 17**

Q.17 रिक्त स्थान 2 की पूर्ति के लिए सबसे उपयुक्त विकल्प का चयन कीजिए।

- Ans
- 1. सर्वत्र
  - 2. जग
  - 3. कम
  - 4. अछूता

Question ID : 264330111132

Status : Answered

Chosen Option : 1

**Comprehension:**

निम्नलिखित गद्यांश में कुछ शब्दों को हटा दिया गया है। दिए गए विकल्पों की सहायता से रिक्त स्थानों की पूर्ति कीजिए। प्रत्येक संख्या के लिए सबसे उपयुक्त विकल्प का चयन कीजिए।

आजकल देखा जाता है कि लोगों में त्योहारों को मनाने की 1. \_\_\_\_\_ कम होती जा रही है। पुराने उत्साह और आस्था का अभाव 2. \_\_\_\_\_ दिखाई देता है। जहाँ त्योहार मनाए भी जाते हैं उनके पीछे अन्य 3. \_\_\_\_\_ होते हैं। त्योहार मनाने के लिए समय और धन दोनों की 4. \_\_\_\_\_ होती है। जीवन में प्रतिस्पर्धा बढ़ गई है। सब बातों के केंद्र में 5. \_\_\_\_\_ आ गया है।

**SubQuestion No : 18**

Q.18 रिक्त स्थान 3 की पूर्ति के लिए सबसे उपयुक्त विकल्प का चयन कीजिए।

- Ans
- 1. त्योहार
  - 2. कारण
  - 3. गुण
  - 4. आसान

Question ID : 264330111133

Status : Answered

Chosen Option : 2

**Comprehension:**

निम्नलिखित गद्यांश में कुछ शब्दों को हटा दिया गया है। दिए गए विकल्पों की सहायता से रिक्त स्थानों की पूर्ति कीजिए। प्रत्येक संख्या के लिए सबसे उपयुक्त विकल्प का चयन कीजिए।

आजकल देखा जाता है कि लोगों में त्योहारों को मनाने की 1. \_\_\_\_\_ कम होती जा रही है। पुराने उत्साह और आस्था का अभाव 2. \_\_\_\_\_ दिखाई देता है। जहाँ त्योहार मनाए भी जाते हैं उनके पीछे अन्य 3. \_\_\_\_\_ होते हैं। त्योहार मनाने के लिए समय और धन दोनों की 4. \_\_\_\_\_ होती है। जीवन में प्रतिस्पर्धा बढ़ गई है। सब बातों के केंद्र में 5. \_\_\_\_\_ आ गया है।

**SubQuestion No : 19**

Q.19 रिक्त स्थान 4 की पूर्ति के लिए सबसे उपयुक्त विकल्प का चयन कीजिए।

- Ans
- 1. अनावश्यकता
  - 2. समझ
  - 3. बढ़ाव
  - 4. आवश्यकता

Question ID : 264330111134

Status : Answered

Chosen Option : 4

**Comprehension:**

निम्नलिखित गद्यांश में कुछ शब्दों को हटा दिया गया है। दिए गए विकल्पों की सहायता से रिक्त स्थानों की पूर्ति कीजिए। प्रत्येक संख्या के लिए सबसे उपयुक्त विकल्प का चयन कीजिए।

आजकल देखा जाता है कि लोगों में त्योहारों को मनाने की 1. \_\_\_\_\_ कम होती जा रही है। पुराने उत्साह और आस्था का अभाव 2. \_\_\_\_\_ दिखाई देता है। जहाँ त्योहार मनाए भी जाते हैं उनके पीछे अन्य 3. \_\_\_\_\_ होते हैं। त्योहार मनाने के लिए समय और धन दोनों की 4. \_\_\_\_\_ होती है। जीवन में प्रतिस्पर्धा बढ़ गई है। सब बातों के केंद्र में 5. \_\_\_\_\_ आ गया है।

**SubQuestion No : 20**

Q.20 रिक्त स्थान 5 की पूर्ति के लिए सबसे उपयुक्त विकल्प का चयन कीजिए।

- Ans
- 1. झगड़ा
  - 2. धन
  - 3. प्यार
  - 4. परिवार

Question ID : 264330111135

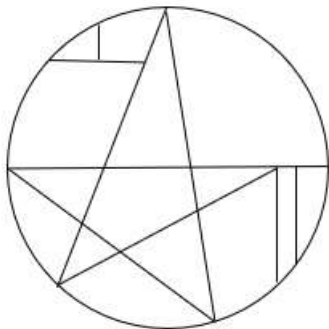
Status : Answered

Chosen Option : 2

WWW.GOVtjobsalert.in

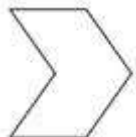
Q.2 वह विकल्प चित्र चुनिए, जो प्रस्तुत चित्र में अंतर्निहित है। (घुमाना अनुमन्य नहीं

है)



Ans

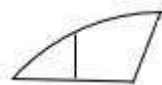
✗ 1.



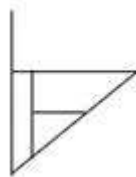
✗ 2.



✓ 3.



✗ 4.



Question ID : 26433069358

Status : Answered

Chosen Option : 3

Q.3 निम्नलिखित में से कौन-सी संख्या दी गई श्रृंखला में प्रश्न-चिह्न (?) को प्रतिस्थापित करेगी?  
81, 88, 102, ?, 151, 186

Ans ✗ 1. 109

✓ 2. 123

✗ 3. 137

✗ 4. 116

Question ID : 26433069386

Status : Answered

Chosen Option : 2

Q.4 एक निश्चित कूट भाषा में, 'PROVED' को '65' और 'REMOVER' को '81' के रूप में लिखा जाता है। उसी कूट भाषा में 'DEVOUR' को किस प्रकार से लिखा जाएगा?

- Ans  1. 85  
 2. 70  
 3. 75  
 4. 80

Question ID : 26433069474  
Status : Answered  
Chosen Option : 4

Q.5 किस विकल्प में निम्नलिखित शब्दों का वह क्रम दिया गया है, जिस क्रम में वे अंग्रेजी शब्दकोश में आते हैं?

1. Chair
2. Charm
3. Chauffer
4. Chain
5. Change

- Ans  1. 4,5,1,3,2  
 2. 4,1,2,5,3  
 3. 4,1,5,3,2  
 4. 4,1,5,2,3

Question ID : 26433069273  
Status : Answered  
Chosen Option : 4

Q.6 दिए गए विकल्पों में से उस अक्षर-समूह का चयन कीजिए जो निम्न श्रृंखला में प्रश्न-चिह्न (?) के स्थान पर आ सकता है।  
GTNS, OPVA, WLDI, ?, MDTY

- Ans  1. EHLQ  
 2. EKWS  
 3. JUFV  
 4. JKDF

Question ID : 26433074742  
Status : Answered  
Chosen Option : 1

Q.7 उस विकल्प का चयन कीजिए जो तीसरे शब्द से उसी प्रकार संबंधित है जिस प्रकार दूसरा शब्द पहले शब्द से संबंधित है। (शब्दों को अर्थपूर्ण शब्दों के रूप में मानना है और उन्हें शब्द में अक्षरों/व्यंजनों/स्वरों की संख्या के आधार पर एक-दूसरे से संबंधित नहीं करना है।)  
चाप : वृत्त :: कॉकपिट : ?

- Ans  1. बाइक  
 2. वायुयान  
 3. पहिया  
 4. कार

Question ID : 26433067367  
Status : Answered  
Chosen Option : 3



Q.8 यदि '+' का अर्थ है '÷', '-' का अर्थ है '.', '×' का अर्थ है 'x', और '÷' का अर्थ है '+', तो निम्नलिखित में से कौन-सा अभिव्यक्ति का मान होगा?  
 $63 \div 84 + 7 - 6 \times 48$

- Ans
- 1. 49
  - 2. 46
  - 3. 33
  - 4. 39

Question ID : 264330114185

Status : Answered

Chosen Option : 4

Q.9 पांच व्यक्ति K, L, M, N और O एक सीधी पंक्ति में उत्तर की ओर मुख करके बैठे हैं। L, N के बाईं ओर ठीक बगल में बैठा है। M, L के बाईं ओर ठीक बगल में बैठा है। N, O के बाईं ओर ठीक बगल में बैठा है। K पंक्ति के अंतिम दाएं सिरे पर बैठा है। पंक्ति के ठीक मध्य में कौन बैठा है?

- Ans
- 1. N
  - 2. M
  - 3. L
  - 4. O

Question ID : 26433069155

Status : Answered

Chosen Option : 1

www.govtjobalert.in

Q.10 यदि श्रृंखला जारी रखनी है तो कौन-सी आकृति प्रश्न चिह्न (?) के स्थान पर

आएगी?

O	U	2	L	
B L 2	2 B L	O B U	U O B	?
U	O	L	2	

Ans

✗ 1.

2
B U O
L

✓ 2.

U
2 O L
B

✗ 3.

B
L O 2
U

✗ 4.

2
B L U
O

Question ID : 26433076624

Status : Answered

Chosen Option : 2

Q.11 निम्नलिखित में से कौन-सा अक्षर-समूह नीचे दी गई अक्षर-समूह श्रृंखला में प्रश्न-चिह्न (?) के स्थान पर आकर श्रृंखला को पूर्ण करेगा?  
UH, SD, OZ, MV, ?

Ans ✗ 1. HR

✓ 2. IR

✗ 3. IQ

✗ 4. IS

Question ID : 26433067287

Status : Answered

Chosen Option : 2

Q.12 तीन कथनों के बाद 1, 2 और 3 से संख्यांकित तीन निष्कर्ष दिए गए हैं। कथनों को सत्य मानते हुए भले ही वे सामान्यतः ज्ञात तथ्यों से भिन्न प्रतीत होते हों, निर्णय लें कि कौन-सा/से निष्कर्ष कथनों का तार्किक रूप से अनुसरण करता है/करते हैं।

1. सभी काँटन रेशम हैं।
2. सभी रेशम ऊन हैं।
3. सभी ऊन जूट हैं।

निष्कर्ष:

1. कुछ जूट रेशम हैं।
2. कुछ ऊन काँटन हैं।
3. कुछ जूट काँटन हैं।

Ans ✓ 1. सभी निष्कर्ष 1, 2 और 3 अनुसरण करते हैं

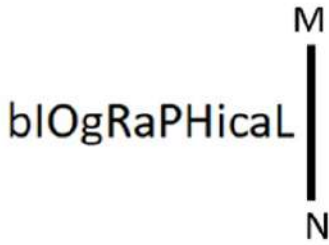
- ✗ 2. केवल निष्कर्ष 1 अनुसरण करता है
- ✗ 3. केवल निष्कर्ष 2 और 3 अनुसरण करते हैं
- ✗ 4. केवल निष्कर्ष 1 और 3 अनुसरण करते हैं

Question ID : 26433087134

Status : Answered

Chosen Option : 1

Q.13 दी गई आकृति के सही दर्पण प्रतिबिम्ब का चयन करें जब दर्पण को MN पर रखा जाए जैसा कि नीचे दर्शाया गया है।



Ans

- ✓ 1. bIOgRaPHical
- ✗ 2. BIOgRaPHical
- ✗ 3. plogRaPHical
- ✗ 4. plogRaPHical

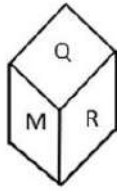
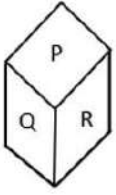
Question ID : 26433085558

Status : Answered

Chosen Option : 1

Q.14 एक ही पासे की दो अलग-अलग स्थितियों को दर्शाया गया है जिस पर 'M' से 'R' तक के वर्णाक्षर बने हैं।

'P' दर्शाने वाले फलक के विपरीत फलक पर स्थित वर्णाक्षर जात कीजिए।



- Ans
- 1. N
  - 2. M
  - 3. O
  - 4. R

Question ID : 26433085514

Status : Answered

Chosen Option : 2

Q.15 उस विकल्प का चयन करें, जो पाँचवीं संख्या से उसी प्रकार संबंधित है, जिस प्रकार दूसरी संख्या, पहली संख्या से संबंधित है और चौथी संख्या, तीसरी संख्या से संबंधित है।

2 : 1 :: 54 : 3 :: 16 : ?

- Ans
- 1. 3
  - 2. 4
  - 3. 2
  - 4. 5

Question ID : 26433069414

Status : Not Answered

Chosen Option : --

Q.16 छः विद्यार्थी एक वृत्ताकार मेज के परितः मेज के केंद्र की ओर मुख करके बैठे हैं। राजेश, रमेश के दाईं ओर दूसरे स्थान पर बैठा है। रमेश, सुरेश के बाईं ओर ठीक बगल में बैठा है। निमेश, जयेश के दाईं ओर दूसरे स्थान पर बैठा है। परेश, राजेश के दाईं ओर दूसरे स्थान पर बैठा है। जयेश, राजेश और परेश के ठीक बगल में है। रमेश और परेश के बीच में कौन बैठा है?

- Ans
- 1. निमेश
  - 2. राजेश
  - 3. सुरेश
  - 4. जयेश

Question ID : 26433081773

Status : Answered

Chosen Option : 1

Q.17 'A @ B' का अर्थ है कि 'A , B की पत्नी है'  
'A & B' का अर्थ है कि 'A, B का पिता है'  
'A # B' का अर्थ है कि 'A , B की बहन है'  
दिए गए विकल्पों में से किसका अर्थ है कि 'P , L की माता है'?

- Ans
- 1. P @ L & S # R
  - 2. P @ R & S # L
  - 3. S @ L & R # P
  - 4. S @ P # R & L

Question ID : 26433069657

Status : Answered

Chosen Option : 2

Q.18 उस विकल्प का चयन कीजिए जो तीसरे शब्द से उसी प्रकार संबंधित है जिस प्रकार दूसरा शब्द पहले शब्द से संबंधित है। (शब्दों को अर्थपूर्ण शब्दों के रूप में माना जाना चाहिए और शब्द में अक्षरों की संख्या/व्यंजनों की संख्या/स्वरों की संख्या के आधार पर एक दूसरे से संबंधित नहीं किया जाना चाहिए)  
अभियंता : निर्माण :: चिकित्सक : \_\_\_\_\_

- Ans
- 1. नष्ट करना
  - 2. निर्माण
  - 3. बनाना
  - 4. इलाज

Question ID : 26433079401

Status : Answered

Chosen Option : 4

Q.19 निम्नलिखित में से कौन-सी संख्याएँ दी गई श्रृंखला में प्रश्नवाचक चिह्न (?) का स्थान लेगी?  
1, 9, 25, 49, ?, ?, 169, 225, 289

- Ans
- 1. 81, 121
  - 2. 64, 81
  - 3. 100, 121
  - 4. 81, 100

Question ID : 26433069051

Status : Answered

Chosen Option : 1

Q.20 नीचे दिए गए समीकरण को गणितीय रूप से सही बनाने के लिए किन दो चिन्हों को परस्पर बदलना चाहिए?

$$12 \times 108 - 36 \div 6 + 18 = 48$$

- Ans
- 1. + और ÷
  - 2. + और ×
  - 3. ÷ और -
  - 4. - और +

Question ID : 264330117514

Status : Answered

Chosen Option : 3

Q.1 निम्न में से कौन अपशिष्ट को छोटे कणों में विघटित करता है?

- Ans
- 1. सर्वाहारी
  - 2. शाकाहारी
  - 3. मांसाहारी
  - 4. अपरदाहारी

Question ID : 264330115250

Status : Answered

Chosen Option : 3

Q.2 हरित क्रांति का प्रमुख पहलू यह है कि इसने भारत को \_\_\_\_\_ बना दिया है।

- Ans
- 1. आत्मनिर्भर
  - 2. फसलों का सबसे बड़ा आयातक
  - 3. फसलों का सबसे बड़ा निर्यातक
  - 4. नकदी फसलों का सबसे बड़ा उत्पादक

Question ID : 264330116154

Status : Answered

Chosen Option : 4

Q.3 भारत के 2020 के राष्ट्रीय खेलों के लिए शुभकर कौन था?

- Ans
- 1. छौआ, द डियर
  - 2. अम्मू, द ग्रेट हॉर्नबिल
  - 3. सावज, द एशियाटिक लायन
  - 4. रुबिगुला, द फ्लेम-थ्रोटेड बुलबुल

Question ID : 264330115953

Status : Not Attempted and Marked For Review

Chosen Option : --

Q.4 भारत की जलवायु को \_\_\_\_\_ प्रकार के रूप में वर्णित किया गया है।

- Ans
- 1. मानसूनी
  - 2. ठंडे
  - 3. सूखे
  - 4. बंजर

Question ID : 26433089696

Status : Answered

Chosen Option : 1

Q.5 अक्टूबर 2022 में, भारत व्यापार संवर्धन संगठन के अध्यक्ष और प्रबंध निदेशक के रूप में किसे नियुक्त किया गया?

- Ans
- 1. विभु नायर
  - 2. राहुल नार्वेकर
  - 3. प्रदीप सिंह खरोला
  - 4. नूर रहमान शेख

Question ID : 264330115004  
Status : Not Answered  
Chosen Option : --

Q.6 निम्नलिखित में से कौन सी भारत की सबसे पुरानी फुटबॉल प्रतियोगिता है?

- Ans
- 1. फेडरेशन कप
  - 2. डूरंड कप
  - 3. बीसी रॉय ट्रॉफी
  - 4. संतोष ट्रॉफी

Question ID : 264330116288  
Status : Not Attempted and Marked For Review  
Chosen Option : --

Q.7 मेकापति विक्रम रेड्डी, जो जून 2022 में आंध्र प्रदेश के अत्माकुर निर्वाचन क्षेत्र से विधान सभा सदस्य बने, \_\_\_\_\_ राजनीतिक दल से संबंधित हैं।

- Ans
- 1. भारतीय जनता पार्टी
  - 2. वाईएसआर कांग्रेस पार्टी
  - 3. भारतीय कम्युनिस्ट पार्टी
  - 4. भारतीय राष्ट्रीय कांग्रेस

Question ID : 264330114904  
Status : Not Attempted and Marked For Review  
Chosen Option : --

Q.8 निम्नलिखित में से कौन सी धातु ऊष्मा की सबसे अच्छी चालक है?

- Ans
- 1. सोडियम
  - 2. गोल्ड
  - 3. आयरन
  - 4. सिल्वर

Question ID : 264330115152  
Status : Answered  
Chosen Option : 4

Q.9 जब किसी परिवार की आय मूलभूत जीवन स्तर (भोजन, आश्रय, आवास) को बनाए रखने के लिए आवश्यक राशि से कम हो जाती है, तो इसे क्या कहा जाता है?

- Ans
- 1. पीढ़ीगत निर्धनता
  - 2. सापेक्ष निर्धनता
  - 3. निरपेक्ष निर्धनता
  - 4. परिस्थितिजन्य निर्धनता

Question ID : 264330116074

Status : Answered

Chosen Option : 4

Q.10 महामस्तकाभिषेक एक जैन त्यौहार है जो, प्रत्येक \_\_\_\_\_ वर्षों में एक बार मनाया जाता है।

- Ans
- 1. 6
  - 2. 8
  - 3. 12
  - 4. 10

Question ID : 264330115090

Status : Not Attempted and Marked For Review

Chosen Option : --

Q.11 निम्नलिखित में से किसने वज्जि पर प्रस्तावित हमले के बारे में सलाह लेने के लिए बुद्ध से मुलाकात की?

- Ans
- 1. राधागुप्त
  - 2. वस्सकार
  - 3. अशोक
  - 4. यश

Question ID : 26433089851

Status : Not Answered

Chosen Option : --

Q.12 बाल विवाह निषेध (संशोधन) विधेयक, 2021 लड़की की आयु 18 से बढ़ाकर \_\_\_\_\_ वर्ष करने का प्रस्ताव करता है।

- Ans
- 1. 21
  - 2. 22
  - 3. 24
  - 4. 20

Question ID : 264330116220

Status : Answered

Chosen Option : 1



Q.13 निम्नलिखित में से कौन सा नृत्य रूप एक अद्वितीय नृत्य रूप है क्योंकि इसमें कलाकार महिलाओं के रूप में तैयार होते हैं और यह ओडिशा के कुछ हिस्सों में लोकप्रिय है?

- Ans
- 1. थैय्यम
  - 2. गोटीपुआ
  - 3. बिहु
  - 4. फुगदी

Question ID : 264330115066  
Status : Answered  
Chosen Option : 1

Q.14 अंतिम (बारहवीं) पंचवर्षीय योजना का उद्देश्य क्या था?

- Ans
- 1. स्वच्छ भारत
  - 2. दोगुनी प्रति व्यक्ति आय
  - 3. त्वरित, सतत और अधिक समावेशी विकास।
  - 4. विसर्पी विकास

Question ID : 264330115370  
Status : Answered  
Chosen Option : 3

Q.15 दिसंबर 1929 में, \_\_\_\_\_ की अध्यक्षता में, लाहौर कांग्रेस ने 'पूर्ण स्वराज' की मांग को औपचारिक रूप दिया।

- Ans
- 1. जवाहर लाल नेहरू
  - 2. आसफ अली
  - 3. जगजीवन राम
  - 4. बलदेव सिंह

Question ID : 264330115696  
Status : Answered  
Chosen Option : 1

Q.16 सुपर मार्केट के संचालन की एक सीमा बताएं।

- Ans
- 1. एक ग्राहक को एक ही स्थान पर विभिन्न ब्रांडों का सामान मिल सकता है।
  - 2. सुपर मार्केट को शुरू करने और चलाने के लिए बड़ी मात्रा में पूंजी आवश्यक है।
  - 3. वे मानक गुणवत्ता वाली वस्तुएं प्रदान करते हैं।
  - 4. वे सामानों की एक विस्तृत श्रृंखला को संभालते हैं।

Question ID : 264330115548  
Status : Answered  
Chosen Option : 1

Q.17 राष्ट्रीय कृषि और ग्रामीण विकास बैंक (NABARD) का उद्देश्य \_\_\_\_\_ उद्योगों के प्रचार और विकास के लिए ऋण और अन्य सुविधाएं प्रदान करना है।

- Ans
- 1. शहरी
  - 2. बड़े
  - 3. आलीशान
  - 4. ग्रामीण

Question ID : 264330115301  
Status : Answered  
Chosen Option : 4

Q.18 निम्नलिखित में से किसे कथक में उनके योगदान के लिए पद्म श्री से सम्मानित किया गया था?

- Ans
- 1. सरोदी सैकिया
  - 2. जोगेन दत्ता बयान
  - 3. टंकेश्वर हजारिका बोरबयान
  - 4. सुनयना हजारीलाल

Question ID : 264330115874  
Status : Not Answered  
Chosen Option : --

Q.19 संविधान के किस अनुच्छेद के तहत एक नागरिक को कोई भी उपजीविका या व्यापार करने की स्वतंत्रता है?

- Ans
- 1. अनुच्छेद 19 (1) (g)
  - 2. अनुच्छेद 20 (c)
  - 3. अनुच्छेद 21 (f)
  - 4. अनुच्छेद 22 (b)

Question ID : 26433091448  
Status : Answered  
Chosen Option : 1

Q.20 निम्नलिखित में से कौन मार्च 2022 में उत्तराखंड के मुख्यमंत्री बने?

- Ans
- 1. भुवन चंद्र खंडूरी
  - 2. पुष्कर सिंह धामी
  - 3. त्रिवेन्द्र सिंह रावत
  - 4. तीरथ सिंह रावत

Question ID : 26433082244  
Status : Answered  
Chosen Option : 2

Q.1 यदि संख्या 'x', 3 और 2 से विभाज्य है, तो  $2x^3 + 3x^2$  किससे विभाज्य होगी?

Ans  1. 108

2. 428

3. 72

4. 214

Question ID : 26433081700

Status : Answered

Chosen Option : 1

Q.2 संख्याओं 0.002, 0.04 और 0.0006 का चतुर्थानुपाती ज्ञात कीजिए।

Ans  1.  $0.12 \times 10^{-2}$

2.  $1.2 \times 10^{-2}$

3.  $12 \times 10^{-2}$

4.  $1.2 \times 10^{-3}$

Question ID : 26433091923

Status : Answered

Chosen Option : 2

Q.3 एक डीलर गेहूं को 25% लाभ पर बेचता है और वास्तविक माप से 5% कम वजन का उपयोग करता है। उसका लाभ प्रतिशत क्या है?

Ans

1.  $3\frac{11}{19}\%$

2.  $3\frac{1}{19}\%$

3.  $23\frac{1}{19}\%$

4.  $31\frac{11}{19}\%$

Question ID : 26433076078

Status : Answered

Chosen Option : 4

Q.4 R, आधे घंटे में 5 km और 400 मीटर की दूरी तय करके घर से पोस्ट ऑफिस जाता है, और फिर 90 मिनट में 25 km और 750 मीटर की दूरी तय करके कार्यालय जाता है। घर से कार्यालय तक उसकी औसत चाल km/h में कितनी है?

Ans  1. 15.755

2. 15.575

3. 17.555

4. 15.775

Question ID : 26433071259

Status : Answered

Chosen Option : 2

Q.5 A की दौड़ने की चाल B की चाल से  $\frac{11}{9}$  गुनी है। यदि B को इस प्रकार शुरुआती बढ़त दी जाती है कि B, A को दौड़ की लंबाई के  $\frac{1}{3}$  से हरा देता है, तो दौड़ की लंबाई का कितना भाग B को A से शुरुआती बढ़त के लिए दिया गया है? [नोट: A और B समान समय पर दौड़ना शुरू करते हैं मानिए।]

- Ans
1.  $\frac{3}{11}$
2.  $\frac{22}{27}$
3.  $\frac{5}{11}$
4.  $\frac{6}{11}$

Question ID : 26433075816  
Status : Not Answered  
Chosen Option : --

Q.6 ₹9,960 की राशि को 7.5% वार्षिक चक्रवृद्धि ब्याज पर उधार लिया गया और दो समान वार्षिक किश्तों में वापस भुगतान किया गया। प्रत्येक किश्त की राशि कितनी थी?

- Ans
1. ₹5,457
2. ₹5,475
3. ₹5,547
4. ₹5,745

Question ID : 26433081588  
Status : Answered  
Chosen Option : 3

Q.7 एक व्यापारी ने 1200 वस्तुएँ ₹1,800 में खरीदीं और उसने उन्हें 1000 वस्तुएँ ₹1,600 की दर से बेचा। लाभ या हानि प्रतिशत की गणना कीजिए।

- Ans
1.  $\frac{20}{3}$  % हानि
2.  $\frac{30}{7}$  % हानि
3.  $\frac{20}{3}$  % लाभ
4.  $\frac{30}{7}$  % लाभ

Question ID : 26433074278  
Status : Answered  
Chosen Option : 1

Q.8 यदि  $p$ ,  $q$  और  $r$  का औसत  $A$  है और  $pq + qr + rp = 0$  है, तो

$\frac{p^2+q^2+r^2}{27}$  का मान \_\_\_\_\_ है।

Ans

✗ 1.  $A^2$

✓ 2.  $\frac{A^2}{3}$

✗ 3.  $9A^2$

✗ 4.  $3A^2$

Question ID : 26433081542

Status : Not Answered

Chosen Option : --

Q.9 P, Q और R एक कार्य को 38 दिनों में कर सकते हैं। Q और R 76 दिनों में कार्य कर सकते हैं। दिनों की संख्या ज्ञात करें जिनमें P समान कार्य को पूरा कर सकता है।

Ans

✗ 1. 90 दिन

✗ 2. 84 दिन

✗ 3. 81 दिन

✓ 4. 76 दिन

Question ID : 264330116904

Status : Answered

Chosen Option : 4

Q.10 एक डीलर एक घड़ी पर 8% और 18% छूट की घोषणा करता है। यदि घड़ी का विक्रय मूल्य ₹943 है, तो घड़ी का अंकित मूल्य क्या है?

Ans

✓ 1. ₹1,250

✗ 2. ₹1,185

✗ 3. ₹1,480

✗ 4. ₹1,320

Question ID : 26433082670

Status : Marked For Review

Chosen Option : 1

Q.11 517, 139, 195, 176 और 192 संख्याओं का औसत ज्ञात कीजिए।

Ans  1. 315.4

2. 243.8

3. 726.3

4. 515.4

Question ID : 26433079994

Status : Answered

Chosen Option : 2

Q.12 दो उम्मीदवारों के बीच हुए एक चुनाव में, तकनीकी समस्या के कारण कुल मतों के 25% मतों को अमान्य के रूप में चिह्नित किया गया। विजेता को 7500 मत मिलते हैं, जो कुल वैध मतों के  $\frac{1}{3}$  हैं। विजेता को मिले मत और अमान्य मतों के बीच का अंतर ज्ञात करें।

Ans  1. 3750

2. 7500

3. 2500

4. 0

Question ID : 26433081705

Status : Answered

Chosen Option : 1

Q.13 यदि अर्धगोले की त्रिज्या = शंकु की त्रिज्या = शंकु की ऊंचाई है, तो इस अर्धगोले के वक्र पृष्ठीय क्षेत्रफल तथा इस शंकु के वक्र पृष्ठीय क्षेत्रफल का अनुपात क्या होगा?

Ans  1.  $1 : \sqrt{3}$

2.  $2 : 1$

3.  $1 : 2$

4.  $\sqrt{2} : 1$

Question ID : 26433076087

Status : Answered

Chosen Option : 4

Q.14 चक्रवृद्धि ब्याज की किस वार्षिक दर से वार्षिक संयोजित पर कोई धनराशि 4 वर्षों में स्वयं की  $\frac{625}{256}$  गुनी हो जाती है?

Ans  1. 22%

2. 25%

3. 26%

4. 20%

Question ID : 26433075116

Status : Answered

Chosen Option : 2

Q.15 एक खिलौने पर 15% की छूट है। 15% की एक और क्रमिक छूट दी जाती है। खिलौने पर प्रभावी छूट कितनी है?

- Ans
- 1. 32.75%
  - 2. 27.75%
  - 3. 25%
  - 4. 30%

Question ID : 26433071256  
Status : Answered  
Chosen Option : 2

Q.16 100 cm लंबे बोर्ड को काट कर 86 cm कर दिया जाता है। कितने प्रतिशत हटा दिया गया है?

- Ans
- 1. 14 प्रतिशत
  - 2. 32 प्रतिशत
  - 3. 28 प्रतिशत
  - 4. 20 प्रतिशत

Question ID : 264330116824  
Status : Answered  
Chosen Option : 1

Q.17 एक जैकेट और हैंडबैग की कीमत 3 : 2 के अनुपात में है। यदि एक जैकेट की कीमत हैंडबैग से ₹600 अधिक है, तो हैंडबैग की कीमत \_\_\_\_\_ है।

- Ans
- 1. ₹2,800
  - 2. ₹1,200
  - 3. ₹2,400
  - 4. ₹1,800

Question ID : 26433082085  
Status : Answered  
Chosen Option : 2

Q.18 रोहन और सोहन एक कार्य को क्रमशः 10 दिन और 12 दिन में पूरा कर सकते हैं। यदि वे सोहन से शुरू करते हुए एकांतर दिनों में (पहले दिन सोहन और दूसरे दिन रोहन के आधार पर) कार्य करते हैं, तो पूरा कार्य कितने दिनों में समाप्त होगा?

- Ans
- 1. 12
  - 2. 10
  - 3. 11
  - 4. 13

Question ID : 26433075570  
Status : Answered  
Chosen Option : 3

Q.19 एक वर्ग और एक समबाहु त्रिभुज के परिमाण बराबर हैं। यदि वर्ग का विकर्ण  $12\sqrt{2}\text{cm}$  है, तो त्रिभुज का क्षेत्रफल ज्ञात कीजिए।

- Ans
- 1.  $64\sqrt{5}\text{ cm}^2$
  - 2.  $65\sqrt{3}\text{ cm}^2$
  - 3.  $67\sqrt{2}\text{ cm}^2$
  - 4.  $64\sqrt{3}\text{ cm}^2$

Question ID : 26433066324

Status : Not Answered

Chosen Option : --

Q.20 वह बड़ी से बड़ी संख्या ज्ञात करें जो 57, 93 और 191 को इस प्रकार विभाजित करे ताकि प्रत्येक स्थिति में समान शेष बचे।

- Ans
- 1. 3
  - 2. 1
  - 3. 2
  - 4. 4

Question ID : 26433075089

Status : Answered

Chosen Option : 2

Section : Part-D-English

Q.1 Select the most appropriate option to fill in the blank.

The Board of Doctors declared that the patient might take time to \_\_\_\_\_.

- Ans
- 1. come across
  - 2. walk through
  - 3. come round
  - 4. look round

Question ID : 26433072734

Status : Not Answered

Chosen Option : --

Q.2 The following sentence has been divided into parts. One of them may contain an error.

Select the part that contains the error from the given options. If you don't find any error, mark 'No error' as your answer.

Mrs. Meera and family / received his letter / a week ago.

- Ans
- 1. received his letter
  - 2. No error
  - 3. a week ago
  - 4. Mrs. Meera and family

Question ID : 264330108878

Status : Not Answered

Chosen Option : --



Q.3 Select the most appropriate ANTONYM of the word given in the brackets to fill in the blank.

We \_\_\_\_\_ (agree) to talk to terrorists.

- Ans
- 1. refuse
  - 2. admit
  - 3. grant
  - 4. allow

Question ID : 26433088853  
Status : Not Answered  
Chosen Option : --

Q.4 Select the most appropriate meaning of the given idiom.

To go through fire and water

- Ans
- 1. To face many challenges
  - 2. To do something easy
  - 3. To punish
  - 4. To tolerate

Question ID : 26433073710  
Status : Not Answered  
Chosen Option : --

Q.5 Select the INCORRECTLY spelt word.

- Ans
- 1. Reckon
  - 2. Subservent
  - 3. Subvert
  - 4. Rebuke

Question ID : 26433073655  
Status : Not Answered  
Chosen Option : --

Q.6 Select the most appropriate synonym of the underlined word in the following sentence.

He went to the tomb of his father to pay his tribute.

- Ans
- 1. Grave
  - 2. Funeral
  - 3. Ritual
  - 4. Mortuary

Question ID : 26433072351  
Status : Not Answered  
Chosen Option : --

Q.7 Select the most appropriate ANTONYM of the given word.

Dense

- Ans
- 1. Generic
  - 2. Secret
  - 3. Sparse
  - 4. Compact

Question ID : 26433071972  
Status : Not Answered  
Chosen Option : --

Q.8 Select the most appropriate option that can substitute the underlined segment in the given sentence.

Not only composition, but also the wrong choice of Sridhar as the singer destroyed the sweetness on the song.

- Ans
- 1. destroyed the sweetness by the song
  - 2. destroyed the sweetness in the song
  - 3. destroyed the sweetness around the song
  - 4. destroyed the sweetness of the song

Question ID : 264330100987  
Status : Not Answered  
Chosen Option : --

Q.9 Select the most appropriate option that can substitute the underlined segment in the given sentence. If there is no need to substitute it, select 'No substitution required'.

Who penned this book on the history of India's partition?

- Ans
- 1. No substitution required
  - 2. pen
  - 3. write
  - 4. publicise

Question ID : 26433088562  
Status : Not Answered  
Chosen Option : --

Q.10 Select the word that is similar in meaning to the underlined word.

My boss maintained a very parochial view of the world.

- Ans
- 1. Harmonious
  - 2. Laughing
  - 3. Narrow
  - 4. Patriarchal

Question ID : 26433087945  
Status : Not Answered  
Chosen Option : --

Q.11 Select the most appropriate synonym of the given word.

Ample

- Ans  1. Abundant  
 2. Affectionate  
 3. Insufficient  
 4. Enthusiastic

Question ID : 26433073432  
Status : Not Answered  
Chosen Option : --

Q.12 The sentence given below has one misspelt word. Spot the INCORRECTLY spelt word and select its correct spelling.

Inkompetent employees of our company need to be sacked.

- Ans  1. Imcompetent  
 2. Imcompetent  
 3. Incompetent  
 4. Incompitent

Question ID : 26433073553  
Status : Not Answered  
Chosen Option : --

Q.13 Select the most appropriate ANTONYM of the given word.  
Perfume

- Ans  1. Redolence  
 2. Fragrance  
 3. Stench  
 4. Extraordinary

Question ID : 26433086346  
Status : Not Answered  
Chosen Option : --

Q.14 Select the most appropriate ANTONYM of the given word.

Prosperity

- Ans  1. Wealth  
 2. Failure  
 3. Money  
 4. Gradual

Question ID : 26433088324  
Status : Not Answered  
Chosen Option : --

Q.15 Select the most appropriate meaning of the given idiom.

**Taste of your own medicine**

- Ans
- 1. Extremely pleased and excited about something
  - 2. Try to manage something which went wrong
  - 3. Have the same bad treatment that you have given to others
  - 4. Try everything possible

Question ID : 26433072686

Status : Not Answered

Chosen Option : --

**Comprehension:**

In the following passage, some words have been deleted. Read the passage carefully and select the most appropriate option to fill in each blank.

The major goal of renewable energy deployment in India is to drive economic (1)\_\_\_\_\_, improve energy security, increase access to electricity, and (2)\_\_\_\_\_ climate change. Sustainable development is attainable via the use of sustainable energy and by giving residents (3)\_\_\_\_\_ to inexpensive, dependable, sustainable, and contemporary energy. Strong government backing and an increasingly favourable economic scenario have propelled India to the (4)\_\_\_\_\_ of the world's most promising renewable energy sectors. The government has devised regulations, initiatives, and a welcoming atmosphere to (5)\_\_\_\_\_ international investment and rapidly expand the country's presence in the renewable energy sector.

**SubQuestion No : 16**

Q.16 Select the most appropriate option to fill in blank number 1.

- Ans
- 1. surplus
  - 2. recession
  - 3. growth
  - 4. inflation

Question ID : 26433061007

Status : Not Answered

Chosen Option : --

**Comprehension:**

In the following passage, some words have been deleted. Read the passage carefully and select the most appropriate option to fill in each blank.

The major goal of renewable energy deployment in India is to drive economic (1)\_\_\_\_\_, improve energy security, increase access to electricity, and (2)\_\_\_\_\_ climate change. Sustainable development is attainable via the use of sustainable energy and by giving residents (3)\_\_\_\_\_ to inexpensive, dependable, sustainable, and contemporary energy. Strong government backing and an increasingly favourable economic scenario have propelled India to the (4)\_\_\_\_\_ of the world's most promising renewable energy sectors. The government has devised regulations, initiatives, and a welcoming atmosphere to (5)\_\_\_\_\_ international investment and rapidly expand the country's presence in the renewable energy sector.

**SubQuestion No : 17**

**Q.17** Select the most appropriate option to fill in blank number 2.

- Ans**
- 1. increase
  - 2. exclude
  - 3. reduce
  - 4. exaggerate

Question ID : 26433061008

Status : Not Answered

Chosen Option : --

**Comprehension:**

In the following passage, some words have been deleted. Read the passage carefully and select the most appropriate option to fill in each blank.

The major goal of renewable energy deployment in India is to drive economic (1)\_\_\_\_\_, improve energy security, increase access to electricity, and (2)\_\_\_\_\_ climate change. Sustainable development is attainable via the use of sustainable energy and by giving residents (3)\_\_\_\_\_ to inexpensive, dependable, sustainable, and contemporary energy. Strong government backing and an increasingly favourable economic scenario have propelled India to the (4)\_\_\_\_\_ of the world's most promising renewable energy sectors. The government has devised regulations, initiatives, and a welcoming atmosphere to (5)\_\_\_\_\_ international investment and rapidly expand the country's presence in the renewable energy sector.

**SubQuestion No : 18**

**Q.18** Select the most appropriate option to fill in blank number 3.

- Ans**
- 1. access
  - 2. power
  - 3. authority
  - 4. excess

Question ID : 26433061009

Status : Not Answered

Chosen Option : --

**Comprehension:**

In the following passage, some words have been deleted. Read the passage carefully and select the most appropriate option to fill in each blank.

The major goal of renewable energy deployment in India is to drive economic (1)\_\_\_\_\_, improve energy security, increase access to electricity, and (2)\_\_\_\_\_ climate change. Sustainable development is attainable via the use of sustainable energy and by giving residents (3)\_\_\_\_\_ to inexpensive, dependable, sustainable, and contemporary energy. Strong government backing and an increasingly favourable economic scenario have propelled India to the (4)\_\_\_\_\_ of the world's most promising renewable energy sectors. The government has devised regulations, initiatives, and a welcoming atmosphere to (5)\_\_\_\_\_ international investment and rapidly expand the country's presence in the renewable energy sector.

**SubQuestion No : 19**

**Q.19** Select the most appropriate option to fill in blank number 4.

- Ans
- 1. background
  - 2. forward
  - 3. rear
  - 4. forefront

Question ID : 26433061010  
Status : Not Answered  
Chosen Option : --

**Comprehension:**

In the following passage, some words have been deleted. Read the passage carefully and select the most appropriate option to fill in each blank.

The major goal of renewable energy deployment in India is to drive economic (1)\_\_\_\_\_, improve energy security, increase access to electricity, and (2)\_\_\_\_\_ climate change. Sustainable development is attainable via the use of sustainable energy and by giving residents (3)\_\_\_\_\_ to inexpensive, dependable, sustainable, and contemporary energy. Strong government backing and an increasingly favourable economic scenario have propelled India to the (4)\_\_\_\_\_ of the world's most promising renewable energy sectors. The government has devised regulations, initiatives, and a welcoming atmosphere to (5)\_\_\_\_\_ international investment and rapidly expand the country's presence in the renewable energy sector.

**SubQuestion No : 20**

**Q.20** Select the most appropriate option to fill in blank number 5.

- Ans
- 1. attract
  - 2. conceive
  - 3. examine
  - 4. borrow

Question ID : 26433061011  
Status : Not Answered  
Chosen Option : --

Q.1 आज राकेश ने अपनी दुकान का श्री \_\_\_\_\_ किया।  
रिक्त स्थान की पूर्ति उचित शब्द द्वारा कीजिए।

- Ans
- 1. राम
  - 2. इति
  - 3. गणेश
  - 4. हरि

Question ID : 26433062614  
Status : Answered  
Chosen Option : 3

Q.2 दिए गए वाक्य के रेखांकित शब्द को उचित विकल्प से परिवर्तित करें।  
महासागर पर पुल बन जाने पर रावण को आश्चर्य हुआ।

- Ans
- 1. हर्ष
  - 2. विस्मय
  - 3. भ्रम
  - 4. संकोच

Question ID : 26433069917  
Status : Answered  
Chosen Option : 2

Q.3 निम्नलिखित वाक्यांश के लिए एक सार्थक शब्द चुनें।  
जो व्यक्ति अच्छे आचरण वाला हो

- Ans
- 1. सदाचारी
  - 2. समभाषी
  - 3. सहकारी
  - 4. सहयोगी

Question ID : 26433069985  
Status : Answered  
Chosen Option : 1

Q.4 गंगा का जल अत्यंत पावन है।  
उपरोक्त वाक्य में रेखांकित शब्द के उचित पर्यायवाची शब्द का चयन विकल्पों में से कीजिए।

- Ans
- 1. मधु
  - 2. देवा
  - 3. विभूति
  - 4. देवनदी

Question ID : 26433079727  
Status : Answered  
Chosen Option : 4

Q.5 मिश्र वाक्य - 'लोग समझते हैं कि तुम मूर्ख हो।' निम्नलिखित विकल्पों में से इस वाक्य के लिए कौन सा एक उचित सरल वाक्य होगा ?

- Ans
- 1. तुम मूर्ख हो, लोग समझते हैं।
  - 2. मूर्ख लोग समझते हैं।
  - 3. मूर्ख लोग समझते तुम्हें हैं।
  - 4. लोग तुम्हें मूर्ख समझते हैं।

Question ID : 26433062435

Status : Answered

Chosen Option : 4

Q.6 निम्नलिखित वाक्य के रिक्त स्थान में सबसे उपयुक्त मुहावरा क्या होगा?  
'इस पद पर पहुँचने से पहले उसे बहुत \_\_\_\_\_ है।'

- Ans
- 1. बाजी मारना
  - 2. पापड़ बेलने पड़े
  - 3. नौ-दो ग्यारह
  - 4. एक एक ग्यारह

Question ID : 26433066724

Status : Answered

Chosen Option : 2

Q.7 निम्न में से कौन सा वाक्य संबोधन कारक का उदाहरण नहीं है?

- Ans
- 1. अजी तुम उसे क्या मारोगे?
  - 2. आलोक माँ के लिए दवाई लाया।
  - 3. अरे भाई ! यहाँ आओ।
  - 4. हे भगवान ! तू सबका भला कर।

Question ID : 26433079226

Status : Answered

Chosen Option : 1

Q.8 निम्नलिखित वाक्य में कौन सा शब्द क्रिया शब्द है?  
मैंने आशा को मीनार दिखाई।

- Ans
- 1. आशा
  - 2. मैंने
  - 3. दिखाई
  - 4. मीनार

Question ID : 26433085039

Status : Answered

Chosen Option : 3



Q.9 'जो किए जाने योग्य हो' इस वाक्यांश के लिए सार्थक शब्द है -

- Ans  1. करणीय  
 2. अनुकरणीय  
 3. कथित  
 4. अकरणीय

Question ID : 26433062339  
Status : Answered  
Chosen Option : 2

Q.10 निम्नलिखित में से शुद्ध वाक्य है-

- Ans  1. दीपक गाय चारता है।  
 2. दीपक गाय चराता है।  
 3. दीपक गाय चरता है।  
 4. दीपक गाय चरत है।

Question ID : 26433066838  
Status : Answered  
Chosen Option : 2

Q.11 निम्नलिखित में से कौन सा शब्द अनेकार्थी शब्द है?

- Ans  1. गुलाब  
 2. बेला  
 3. चमेली  
 4. रातरानी

Question ID : 26433091321  
Status : Not Attempted and  
Marked For Review  
Chosen Option : --

Q.12 निम्नलिखित वाक्य में रेखांकित शब्द के विलोम शब्द का प्रयोग करके रिक्त स्थान की पूर्ति कीजिए।  
दुराचार से व्यक्ति का \_\_\_\_\_ नष्ट हो जाता है।

- Ans  1. यश  
 2. विचार  
 3. फल  
 4. सदाचार

Question ID : 26433091344  
Status : Answered  
Chosen Option : 4

Q.13 'रमेश की माँ को गम्भीर बिमारी है।' वाक्य में अशुद्ध वर्तनी वाला शब्द है -

- Ans  1. बिमारी  
 2. रमेश  
 3. गम्भीर  
 4. माँ

Question ID : 26433069694

Status : Answered

Chosen Option : 1

Q.14 वाक्यांशों और उनके लिए एक शब्द का निम्नलिखित में से कौन सा युग्म अशुद्ध है?

- Ans  1. लेने की इच्छा-लिप्सा  
 2. जो किसी से जीता न जा सके-अजेय  
 3. सात दिन का समूह-सप्ताह  
 4. नाप तौलकर खर्च करने वाला-मितभाषी

Question ID : 26433086289

Status : Answered

Chosen Option : 4

Q.15 निम्नलिखित में से क्या 'मान' का अर्थ नहीं है?

- Ans  1. इज्जत  
 2. अभिमान  
 3. श्रेष्ठ  
 4. सम्मान

Question ID : 26433080941

Status : Answered

Chosen Option : 3

#### Comprehension:

निम्नलिखित गद्यांश में कुछ शब्दों को हटा दिया गया है। दिए गए विकल्पों की सहायता से रिक्त स्थानों की पूर्ति कीजिए। प्रत्येक संख्या के लिए सबसे उपयुक्त विकल्प का चयन कीजिए।  
कविता बनाना 1. \_\_\_\_\_ नहीं है। यह भगवान द्वारा मिला 2. \_\_\_\_\_ है। यह गुण अनेक लोगों में होता है, 3. \_\_\_\_\_ उन्हें इसका बोध नहीं होता। सही 4. \_\_\_\_\_ मिलने पर उनकी सोई हुई काव्य- प्रतिभा जाग उठती है।  
अतः अध्यापकों का 5. \_\_\_\_\_ बनता है कि वे बच्चों की काव्य-प्रतिभा के विकास का उपाय करें। केवल यह कहने पर कि बारिश पर कविता बनाओ विद्यार्थी कुछ भी नहीं कर पाते।

#### SubQuestion No : 16

Q.16 रिक्त स्थान 1 की पूर्ति के लिए सबसे उपयुक्त विकल्प का चयन करें।

- Ans  1. कठिन  
 2. मुश्किल  
 3. खेल  
 4. नामुमकिन

Question ID : 264330110921

Status : Answered

Chosen Option : 3

**Comprehension:**

निम्नलिखित गद्यांश में कुछ शब्दों को हटा दिया गया है। दिए गए विकल्पों की सहायता से रिक्त स्थानों की पूर्ति कीजिए। प्रत्येक संख्या के लिए सबसे उपयुक्त विकल्प का चयन कीजिए।  
कविता बनाना 1. \_\_\_\_\_ नहीं है। यह भगवान द्वारा मिला 2. \_\_\_\_\_ है। यह गुण अनेक लोगों में होता है, 3. \_\_\_\_\_ उन्हें इसका बोध नहीं होता। सही 4. \_\_\_\_\_ मिलने पर उनकी सोई हुई काव्य- प्रतिभा जाग उठती है।  
अतः अध्यापकों का 5. \_\_\_\_\_ बनता है कि वे बच्चों की काव्य-प्रतिभा के विकास का उपाय करें। केवल यह कहने पर कि बारिश पर कविता बनाओ विद्यार्थी कुछ भी नहीं कर पाते।

**SubQuestion No : 17**

Q.17 रिक्त स्थान 2 की पूर्ति के लिए सबसे उपयुक्त विकल्प का चयन करें।

- Ans  1. श्राप  
 2. वरदान  
 3. बद्दुआ  
 4. अभिशाप

Question ID : 264330110922

Status : Answered

Chosen Option : 2

**Comprehension:**

निम्नलिखित गद्यांश में कुछ शब्दों को हटा दिया गया है। दिए गए विकल्पों की सहायता से रिक्त स्थानों की पूर्ति कीजिए। प्रत्येक संख्या के लिए सबसे उपयुक्त विकल्प का चयन कीजिए।  
कविता बनाना 1. \_\_\_\_\_ नहीं है। यह भगवान द्वारा मिला 2. \_\_\_\_\_ है। यह गुण अनेक लोगों में होता है, 3. \_\_\_\_\_ उन्हें इसका बोध नहीं होता। सही 4. \_\_\_\_\_ मिलने पर उनकी सोई हुई काव्य- प्रतिभा जाग उठती है।  
अतः अध्यापकों का 5. \_\_\_\_\_ बनता है कि वे बच्चों की काव्य-प्रतिभा के विकास का उपाय करें। केवल यह कहने पर कि बारिश पर कविता बनाओ विद्यार्थी कुछ भी नहीं कर पाते।

**SubQuestion No : 18**

Q.18 रिक्त स्थान 3 की पूर्ति के लिए सबसे उपयुक्त विकल्प का चयन करें।

- Ans  1. द्वारा  
 2. की  
 3. परन्तु  
 4. और

Question ID : 264330110923

Status : Answered

Chosen Option : 3

**Comprehension:**

निम्नलिखित गद्यांश में कुछ शब्दों को हटा दिया गया है। दिए गए विकल्पों की सहायता से रिक्त स्थानों की पूर्ति कीजिए। प्रत्येक संख्या के लिए सबसे उपयुक्त विकल्प का चयन कीजिए।  
कविता बनाना 1. \_\_\_\_\_ नहीं है। यह भगवान द्वारा मिला 2. \_\_\_\_\_ है। यह गुण अनेक लोगों में होता है, 3. \_\_\_\_\_ उन्हें इसका बोध नहीं होता। सही 4. \_\_\_\_\_ मिलने पर उनकी सोई हुई काव्य- प्रतिभा जाग उठती है।  
अतः अध्यापकों का 5. \_\_\_\_\_ बनता है कि वे बच्चों की काव्य-प्रतिभा के विकास का उपाय करें। केवल यह कहने पर कि बारिश पर कविता बनाओ विद्यार्थी कुछ भी नहीं कर पाते।

**SubQuestion No : 19**

Q.19 रिक्त स्थान 4 की पूर्ति के लिए सबसे उपयुक्त विकल्प का चयन करें।

- Ans  1. मौका न मिलने पर  
 2. अवसर  
 3. अकेले होने पर  
 4. दुखी होने पर

Question ID : 264330110924

Status : Answered

Chosen Option : 2

**Comprehension:**

निम्नलिखित गद्यांश में कुछ शब्दों को हटा दिया गया है। दिए गए विकल्पों की सहायता से रिक्त स्थानों की पूर्ति कीजिए। प्रत्येक संख्या के लिए सबसे उपयुक्त विकल्प का चयन कीजिए।  
कविता बनाना 1. \_\_\_\_\_ नहीं है। यह भगवान द्वारा मिला 2. \_\_\_\_\_ है। यह गुण अनेक लोगों में होता है, 3. \_\_\_\_\_ उन्हें इसका बोध नहीं होता। सही 4. \_\_\_\_\_ मिलने पर उनकी सोई हुई काव्य- प्रतिभा जाग उठती है।  
अतः अध्यापकों का 5. \_\_\_\_\_ बनता है कि वे बच्चों की काव्य-प्रतिभा के विकास का उपाय करें। केवल यह कहने पर कि बारिश पर कविता बनाओ विद्यार्थी कुछ भी नहीं कर पाते।

**SubQuestion No : 20**

Q.20 रिक्त स्थान 5 की पूर्ति के लिए सबसे उपयुक्त विकल्प का चयन करें।

- Ans  1. योग्यता  
 2. कर्तव्य  
 3. काम नहीं है  
 4. अकर्तव्य

Question ID : 264330110925

Status : Answered

Chosen Option : 2

Q.4 तीन कथन दिए गए हैं, जिनके बाद तीन निष्कर्ष I, II और III दिए गए हैं। कथनों को सत्य मानते हुए, भले ही वे सामान्य रूप से ज्ञात तथ्यों से भिन्न प्रतीत होते हों, निर्धारित करें कि कौन-सा/से निष्कर्ष कथनों का तार्किक रूप से अनुसरण करता है/करते हैं।

कथन:

कुछ लैंप घड़ियां हैं।  
सभी घड़ियां किताबें हैं।  
कुछ किताबें पत्थर हैं।

निष्कर्ष:

- I. कुछ लैंप पत्थर हैं।
- II. कुछ किताबें लैंप हैं।
- III. कुछ घड़ियां पत्थर हैं।

- Ans
- 1. सभी निष्कर्ष अनुसरण करते हैं
  - 2. केवल निष्कर्ष II अनुसरण करता है
  - 3. केवल निष्कर्ष I और II अनुसरण करते हैं
  - 4. केवल निष्कर्ष I और III अनुसरण करते हैं

Question ID : 26433090988

Status : Answered

Chosen Option : 2

Q.5 दिए गए विकल्पों में से उस अक्षर-समूह का चयन कीजिए जो निम्न श्रृंखला में प्रश्न-चिह्न (?) के स्थान पर आ सकता है।  
GZT, ZSM, SLF, LEY, ?

- Ans
- 1. GXP
  - 2. GXR
  - 3. EXR
  - 4. EXP

Question ID : 26433079036

Status : Answered

Chosen Option : 3

Q.6 उस विकल्प का चयन करें जो तीसरे शब्द से उसी प्रकार संबंधित है जिस प्रकार दूसरा शब्द पहले शब्द से संबंधित है। (शब्दों को अर्थपूर्ण शब्दों के रूप में मानना है, और उन्हें शब्द में अक्षरों/व्यंजनों/स्वरों की संख्या के आधार पर एक-दूसरे से संबंधित नहीं करना है।)  
तीव्र : धीमा :: ऊपर : ?

- Ans
- 1. नीचे
  - 2. आकाश
  - 3. महान
  - 4. विशाल

Question ID : 26433082939

Status : Answered

Chosen Option : 1

Q.7 दर्पण को दाईं ओर रखे जाने पर, निम्नलिखित में से कौन-सी आकृति दी गई प्रश्न आकृति

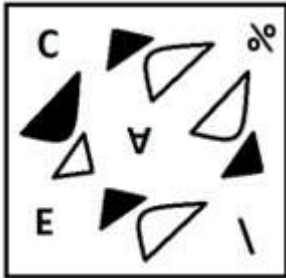
का सटीक दर्पण प्रतिबिम्ब होगी?

प्रश्न आकृति:

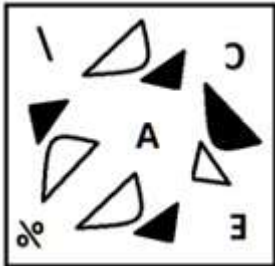


Ans

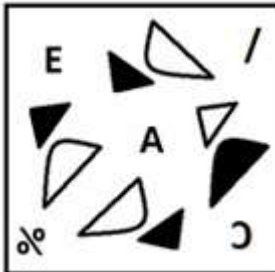
✗ 1.



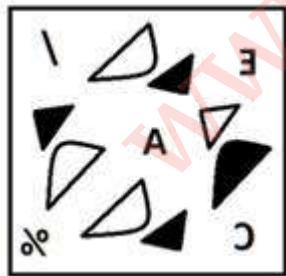
✗ 2.



✗ 3.



✓ 4.



Question ID : 26433087089

Status : Answered

Chosen Option : 4

Q.8 निम्नलिखित में से कौन-सी संख्या दी गई श्रृंखला में प्रश्न-चिह्न (?) के स्थान पर आएगी?  
600, 120, 30, 10, ?

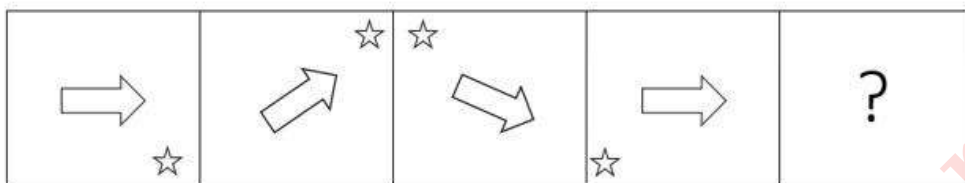
- Ans
- 1. 1
  - 2. 15
  - 3. 5
  - 4. 12

Question ID : 26433082014

Status : Answered

Chosen Option : 3

Q.9 दिए गए विकल्पों में से उस आकृति का चयन करें जो निम्न श्रृंखला में प्रश्नवाचक चिह्न (?) के स्थान पर आ सकती है।




Ans

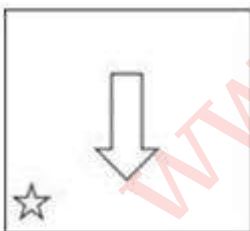
1.



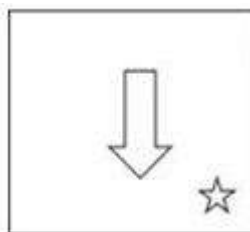
2.



3.



4.



Question ID : 26433080754

Status : Answered

Chosen Option : 4

Q.10 नीचे दिए गए समीकरण को गणितीय रूप से सही बनाने के लिए किन दो चिन्हों को परस्पर बदलना चाहिए?

$$165 - 15 \div 5 + 6 \times 16 = 102$$

- Ans
- 1. + और ÷
  - 2. + और ×
  - 3. - और +
  - 4. ÷ और -

Question ID : 264330117555

Status : Answered

Chosen Option : 4

Q.11 एक निश्चित कूट भाषा में, 'BRIGHT' को 'JSCVJI' के रूप में लिखा जाता है और 'BROKEN' को 'PSCPGM' के रूप में लिखा जाता है। उसी भाषा में 'BUDGET' को कैसे लिखा जाएगा?

- Ans
- 1. EVCVGI
  - 2. DUBTEG
  - 3. TEGDUB
  - 4. EVCTEG

Question ID : 26433090039

Status : Answered

Chosen Option : 1

Q.12 A + B का अर्थ है 'A, B का भाई है'।  
'A - B' का अर्थ है 'A, B की माँ है'।  
'A × B' का अर्थ है 'A, B का पति है'।  
'A ÷ B' का अर्थ है 'A, B की बहन है'।  
'A @ B' का अर्थ है 'A, B का बेटा है'।  
यदि J @ K × L - M ÷ N है तो J, N से किस प्रकार संबंधित है?

- Ans
- 1. भांजा
  - 2. जीजा
  - 3. भाई
  - 4. मौसी

Question ID : 26433086998

Status : Answered

Chosen Option : 3

Q.13 उस विकल्प का चयन कीजिए जो तीसरे शब्द से उसी प्रकार संबंधित है जिस प्रकार दूसरा शब्द पहले शब्द से संबंधित है। (शब्दों को अर्थपूर्ण शब्दों के रूप में मानना है और उन्हें शब्द में अक्षरों/व्यंजनों/स्वरों की संख्या के आधार पर एक-दूसरे से संबंधित नहीं करना है।)  
क्रिकेट : बैट :: बैडमिंटन : ?

- Ans
- 1. गेंद
  - 2. खिलाड़ी
  - 3. स्टिक
  - 4. रैकेट

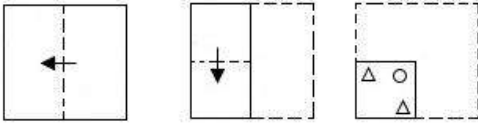
Question ID : 26433067804

Status : Answered

Chosen Option : 4

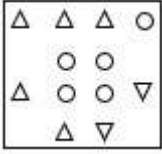


Q.14 एक कागज को नीचे दर्शाए गए अनुसार मोड़ा और काटा जाता है। खोले जाने पर यह कैसा दिखाई देगा?

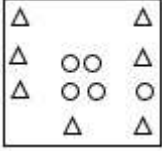


Ans

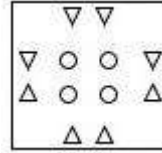
✗ 1.



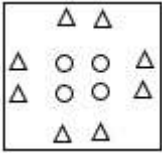
✗ 2.



✓ 3.



✗ 4.



Question ID : 26433090086

Status : Answered

Chosen Option : 3

Q.15 एक निश्चित कूट भाषा में 'MAKE' को '32' के रूप में लिखा जाता है और 'QUAD' को '45' के रूप में लिखा जाता है। उसी भाषा में 'SELF' को कैसे लिखा जाएगा?

Ans ✗ 1. 46

✓ 2. 44

✗ 3. 42

✗ 4. 40

Question ID : 26433069646

Status : Answered

Chosen Option : 2

Q.16 सात व्यक्ति, A, B, C, D, E, F और G एक सीधी पंक्ति में उत्तर की ओर मुख करके बैठे हैं। E के दाईं ओर केवल दो व्यक्ति बैठे हैं। E और A के बीच में केवल दो व्यक्ति बैठे हैं। B, A के दाईं ओर दूसरे स्थान पर बैठा है। D, F के दाईं ओर ठीक बगल में बैठा है। C, G के बाईं ओर किसी एक स्थान पर बैठा है। पंक्ति के बाएं सिरे पर कौन बैठा है?

- Ans
- 1. F
  - 2. A
  - 3. C
  - 4. B

Question ID : 26433092418

Status : Answered

Chosen Option : 3

Q.17 निम्नलिखित में से कौन सा विकल्प दी गई श्रृंखला में प्रश्न चिह्न (?) को प्रतिस्थापित करेगा?  
176, 326, 526, 776, ?, 1426, 1826

- Ans
- 1. 1176
  - 2. 1276
  - 3. 976
  - 4. 1076

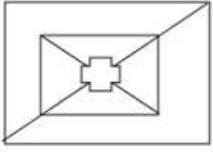
Question ID : 26433089437

Status : Answered


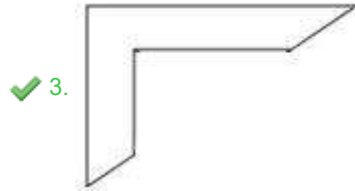
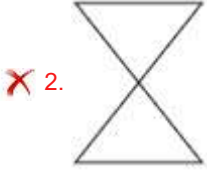

Chosen Option : 4

Q.18 उस विकल्प का चयन कीजिए, जो दी गई आकृति में अंतर्निहित है (घूमाने की

अनुमति नहीं है)।



Ans



Question ID : 26433082898

Status : Answered

Chosen Option : 3

Q.19 सात व्यक्ति, L, M, N, O, P, Q, और R एक पंक्ति में उत्तर की ओर मुख करके बैठे हैं। R और P पंक्ति के सिरों पर बैठे हैं। N, P के दाईं ओर ठीक बगल में बैठा है। M, R के बाईं ओर तीसरे स्थान पर बैठा है। O, M के दाईं ओर ठीक बगल में बैठा है। L, N और M के बीच में बैठा है। R के बाईं ओर ठीक बगल में कौन बैठा है?

Ans ✗ 1. P

✗ 2. M

✓ 3. Q

✗ 4. L

Question ID : 26433074629

Status : Answered

Chosen Option : 3

Q.20 दिए गए समीकरण को संतुलित करने के लिए विकल्पों में दी गई किन दो संख्याओं(अंको को नहीं) को परस्पर बदलना होगा?  
 $540 + 225 \div 15 \times 25 - 260 = 415$

- Ans  1. 15 और 25  
 2. 225 और 260  
 3. 15 और 260  
 4. 225 और 25

Question ID : 26433090139  
Status : Answered  
Chosen Option : 1

Section : Part-B-General Knowledge and General awareness

Q.1 निम्नलिखित में से किसका संबंध भारतीय शास्त्रीय नृत्य की एक शैली से है?

- Ans  1. जाकिर हुसैन  
 2. अमजद अली खान  
 3. रानी कर्णा  
 4. सुकन्या रामगोपाल

Question ID : 26433070806  
Status : Answered  
Chosen Option : 3

Q.2 भारतीय संविधान के अंतर्गत उच्चतम न्यायालय निम्नलिखित में से कौन सा मूल अधिकारों के प्रवर्तन के लिए जारी कर सकता है?

- Ans  1. रिट  
 2. अधिसूचना  
 3. अध्यादेश  
 4. हुक्मनामा

Question ID : 264330115643  
Status : Answered  
Chosen Option : 1

Q.3 फ्रील्ड हॉकी में, एक टीम से कितने खिलाड़ी खेलते हैं?

- Ans  1. 12  
 2. 10  
 3. 11  
 4. 8

Question ID : 264330116302  
Status : Answered  
Chosen Option : 3

Q.4 भारत में, श्वेत क्रांति को \_\_\_\_\_ के नाम से भी जाना जाता है।

- Ans
- 1. ऑपरेशन मिल्क
  - 2. ऑपरेशन डेयरी
  - 3. ऑपरेशन फ्लड
  - 4. ऑपरेशन डैम

Question ID : 264330115421

Status : Answered

Chosen Option : 3

Q.5 गुप्त शासक समुद्र गुप्त की प्रशंसा में लिखित प्रयाग प्रशस्ति या इलाहाबाद स्तंभ के रचयिता कौन थे?

- Ans
- 1. कालिदास
  - 2. भास
  - 3. हरिसेना
  - 4. विशाखदत्त

Question ID : 26433099150

Status : Answered

Chosen Option : 4

Q.6 Match the following:

- a) National Highways i) Zila Parishad
- b) State Highways ii) State Public Works Department
- c) Border Roads iii) Central Public Works Department
- d) District Roads iv) Border Roads Organisation

- Ans
- 1. a-iii,b-ii,c-i,d-iv
  - 2. a-iv,b-iii,c-i,d-ii
  - 3. a-ii,b-iii,c-iv,d-i
  - 4. a-iii,b-ii,c-iv,d-i

Question ID : 264330115589

Status : Answered

Chosen Option : 4

Q.7 त्रिपुरा की खर्ची पूजा में कितने देवताओं की पूजा की जाती है?

- Ans
- 1. 9
  - 2. 14
  - 3. 13
  - 4. 8

Question ID : 264330106216

Status : Answered

Chosen Option : 4

Q.8 निम्नलिखित में से किस जोखिम का संबंध हरित क्रांति से है?

- Ans
- 1. खाद्यान्न उत्पादन में वृद्धि
  - 2. किसानों की आय में वृद्धि
  - 3. छोटे और बड़े किसानों के बीच बढ़ती असमानता
  - 4. खाद्यान्नों की उत्पादकता में वृद्धि

Question ID : 26433054628

Status : Answered

Chosen Option : 3

Q.9 भारत जोड़ो यात्रा 2022 का नेतृत्व किसने किया?

- Ans
- 1. प्रियंका गांधी
  - 2. तरुण गांधी
  - 3. राहुल गांधी
  - 4. सोनिया गांधी

Question ID : 264330115045

Status : Answered

Chosen Option : 3

Q.10 कलामंडलम कल्याणीकुट्टी अम्मा को \_\_\_\_\_ में उनके कार्यों के लिए प्रसिद्धि और पहचान मिली।

- Ans
- 1. सत्रीया
  - 2. मोहिनीअट्टम
  - 3. रचनात्मक नृत्य
  - 4. कुचिपुड़ी

Question ID : 264330115885

Status : Answered

Chosen Option : 2

Q.11 आपराधिक कानून संशोधन अधिनियम 2018, ने महिलाओं के बलात्कार के लिए न्यूनतम दंड को 7 से बढ़ाकर \_\_\_\_\_ वर्ष कर दिया है।

- Ans
- 1. 8
  - 2. 9
  - 3. 11
  - 4. 10

Question ID : 264330116231

Status : Answered

Chosen Option : 4

Q.12 In the expenditure method, GDP  $\equiv$  Sum total of all the final \_\_\_\_\_ received by the firms in the economy.

- Ans
- 1. sales
  - 2. revenue
  - 3. income
  - 4. expenditures

Question ID : 264330115342

Status : Answered

Chosen Option : 3

Q.13 'वन्दे मातरम्' गीत निम्नलिखित में से किस लेखक ने अपने एक उपन्यास में उद्धृत किया है?

- Ans
- 1. बंकिमचंद्र चट्टोपाध्याय
  - 2. वीर सिंह सलगांवकर
  - 3. मुरुगम पेरियार
  - 4. लाल माखन सिंह

Question ID : 26433091466

Status : Answered

Chosen Option : 1

Q.14 डिस्कस फेंकते समय खिलाड़ियों को कितने व्यास के वृत्त के अंदर रहना होता है?

- Ans
- 1. 2.5 मीटर
  - 2. 3 मीटर
  - 3. 3.5 मीटर
  - 4. 2 मीटर

Question ID : 264330115945

Status : Answered

Chosen Option : 2

Q.15 एक स्थलीय पारितंत्र में हरे पौधे अपनी पत्तियों पर पड़ने वाले सूर्य के प्रकाश की लगभग \_\_\_\_\_ ऊर्जा ग्रहण करते हैं और इसे खाद्य ऊर्जा में परिवर्तित करते हैं।

- Ans
- 1. 50%
  - 2. 10%
  - 3. 25%
  - 4. 1%

Question ID : 264330115261

Status : Answered

Chosen Option : 4

Q.16 निम्नलिखित में से कौन अक्टूबर 2022 में एक राजनीतिक दल, भारतीय राष्ट्रीय कांग्रेस के अध्यक्ष बने?

- Ans
- 1. शशि थरूर
  - 2. मल्लिकार्जुन खड़गे
  - 3. सुनील जाखड़
  - 4. सोनिया गांधी

Question ID : 264330114959

Status : Answered

Chosen Option : 2

Q.17 किसी कोश में भरे जा सकने वाले इलेक्ट्रॉनों की अधिकतम संख्या \_\_\_\_\_ द्वारा निरूपित की जाती है, जहाँ n कोशों की संख्या है।

- Ans
- 1.  $2n^2$
  - 2.  $2n^3$
  - 3.  $3n^2$
  - 4.  $3n^3$

Question ID : 264330115178

Status : Answered

Chosen Option : 1

Q.18 भारत के सबसे दक्षिणी सिरे का क्या नाम है?

- Ans
- 1. काराकोरम
  - 2. इंदिरा पॉइंट
  - 3. कैलीमेयर पॉइंट
  - 4. इंदिरा कोल

Question ID : 264330116013

Status : Answered

Chosen Option : 2

Q.19 राज्य में संवैधानिक आपातकाल लगाने की अनुशंसा करने की शक्ति किसके पास है?

- Ans
- 1. भारत के उपराष्ट्रपति
  - 2. उस राज्य के राज्यपाल
  - 3. भारत के प्रधानमंत्री
  - 4. भारत के गृह मंत्री

Question ID : 26433090678

Status : Answered

Chosen Option : 2



Q.20 This underemployment is hidden in contrast to someone who does not have a job and is clearly visible as unemployed. Hence, it is also called \_\_\_\_\_.

- Ans
- 1. Open employment
  - 2. Cyclic unemployment
  - 3. Frictional unemployment
  - 4. Disguised employment

Question ID : 264330116083

Status : Answered

Chosen Option : 2

Section : Part-C-Elementary Mathematics

Q.1 10 kg बेहतर किस्म वाले चावल में 5 kg घटिया किस्म का चावल मिला दिया जाता है। बेहतर किस्म और घटिया किस्म वाले चावल की कीमतें क्रमशः ₹85 और ₹46 हैं। मिश्रण का प्रति kg औसत मूल्य ज्ञात कीजिए।

- Ans
- 1. ₹73
  - 2. ₹74
  - 3. ₹75
  - 4. ₹72

Question ID : 26433076172

Status : Answered

Chosen Option : 4

Q.2 पूजा, नेहा और मनोज क्रमशः 16, 22 और 20 दिनों में एक कार्य कर सकते हैं। यदि नेहा और मनोज दोनों हर दूसरे दिन पूजा की सहायता करते हैं तो कार्य किस दिन समाप्त होगा?

- Ans
- 1. 7वें दिन
  - 2. 10वें दिन
  - 3. 9वें दिन
  - 4. 8वें दिन

Question ID : 264330116915

Status : Answered

Chosen Option : 2

Q.3 एक वीआईपी बैग पर 20% की छूट थी। अनुपम ने एक बैग खरीदा। उसे नगद भुगतान पर 8% की अतिरिक्त छूट मिली। यदि उसने ₹2,208 का भुगतान किया हो, तो बैग पर टैग मूल्य कितना अंकित था?

- Ans
- 1. ₹2,300
  - 2. ₹3,000
  - 3. ₹2,500
  - 4. ₹2,600

Question ID : 26433080174

Status : Answered

Chosen Option : 2

Q.4 यदि कोई धनराशि 3 वर्षों में  $\frac{64}{27}$  गुना हो जाती है, तो प्रतिवर्ष चक्रवृद्धि ब्याज की दर क्या है?

- Ans
- 1.  $33\frac{1}{3}$  प्रतिशत
  - 2.  $21\frac{1}{3}$  प्रतिशत
  - 3.  $16\frac{1}{3}$  प्रतिशत
  - 4.  $25\frac{1}{4}$  प्रतिशत

Question ID : 26433079876

Status : Answered

Chosen Option : 1

Q.5 एक व्यक्ति ने अंकित मूल्य ₹500 वाली एक मेज को दो क्रमागत छूटों क्रमशः 8% और 25% पर क्रय किया। उसने परिवहन पर ₹32 खर्च किए और मेज को ₹500 में बेच दिया। उसे कितने रुपये का लाभ हुआ?

- Ans
- 1. ₹120
  - 2. ₹130
  - 3. ₹123
  - 4. ₹124

Question ID : 26433075348

Status : Answered

Chosen Option : 3

Q.6 यदि धातु के तीन ठोस गोले जिनकी त्रिज्याएँ 1 cm, 6 cm और 8 cm हैं, को पिघलाकर एक और ठोस गोला बनाया जाता है, तो नए गोले का पृष्ठीय क्षेत्रफल ( $\text{cm}^2$  में) \_\_\_\_\_ है।

- Ans
- 1.  $243\pi$
  - 2.  $364\pi$
  - 3.  $642\pi$
  - 4.  $324\pi$

Question ID : 26433075896

Status : Answered

Chosen Option : 4

Q.7 P एक कार्य को 20 दिनों में कर सकता है और Q उसे 25 दिनों में कर सकता है। यदि वे इस पर एक साथ मिलकर 4 दिनों तक कार्य करते हैं, तो कार्य का कितना प्रतिशत शेष बचेगा?

- Ans
- 1. 68%
  - 2. 52%
  - 3. 36%
  - 4. 64%

Question ID : 26433075955

Status : Answered

Chosen Option : 4

Q.8 वह सबसे बड़ी संख्या कौन-सी है, जो 187, 233 और 279 को विभाजित करके प्रत्येक स्थिति में समान शेषफल प्रदान करेगी?

- Ans
- 1. 46
  - 2. 36
  - 3. 30
  - 4. 56

Question ID : 26433082341

Status : Answered

Chosen Option : 1

Q.9 257.5 मीटर और 272.5 मीटर लंबाई की दो ट्रेनें विपरीत दिशाओं में यात्रा करते हुए 15.9 सेकंड में एक दूसरे को पार करती हैं। उनकी अनुमानित संयुक्त चाल प्रति घंटा क्या है?

- Ans
- 1. 120 किमी/घंटा
  - 2. 150 किमी/घंटा
  - 3. 145 किमी/घंटा
  - 4. 136 किमी/घंटा

Question ID : 26433075922

Status : Answered

Chosen Option : 1

Q.10 एक मोटरबाइक के मूल्य में प्रतिवर्ष 10% का हास होता है। यदि मोटरबाइक का वर्तमान मूल्य Rs.1,00,000 है, तो 36 महीने बाद इसका मूल्य (Rs. में) क्या होगा?

- Ans
- 1. 70900
  - 2. 72900
  - 3. 71900
  - 4. 73900

Question ID : 26433071358

Status : Answered

Chosen Option : 2

Q.11 अमीषा 2 km/h की चाल से 3 km चलती है, 4 km/h की चाल से 7 km दौड़ती है और बस द्वारा 32 km जाती है। यदि बस की चाल 28 km/h है, तो पूरी यात्रा में अमीषा की औसत चाल ज्ञात कीजिए।

- Ans
- 1.  $\frac{394}{41}$  km/h
  - 2.  $\frac{392}{41}$  km/h
  - 3.  $\frac{391}{41}$  km/h
  - 4.  $\frac{393}{41}$  km/h

Question ID : 26433092158

Status : Answered

Chosen Option : 2

Q.12 एक सरकारी कर्मि अपनी आय का 76% खर्च कर देता है। यदि उसकी आय में 14% की वृद्धि हो और उसके खर्च में 10% की वृद्धि हो, तो उसकी बचत का वृद्धि-प्रतिशत (दशमलव के 2 स्थान तक शुद्ध) ज्ञात कीजिए।

- Ans
- 1. 26.67%
  - 2. 27.66%
  - 3. 28.33%
  - 4. 24.33%

Question ID : 26433080156

Status : Answered

Chosen Option : 1

Q.13 राखी ने सुजाता को 10% के लाभ पर एक टीवी बेचा। उर्मिला ने वह टीवी, राखी को 20% के लाभ पर बेचा था। यदि उर्मिला का क्रय मूल्य Rs. 50,000 था, तो सुजाता ने टीवी को कितने में खरीदा?

- Ans
- 1. Rs.66,000
  - 2. Rs.72,000
  - 3. Rs.78,000
  - 4. Rs.65,000

Question ID : 26433075058

Status : Answered

Chosen Option : 1

Q.14 If  $y$  varies directly with  $x$ , and  $y = 16$  when  $x = 24$ , then find the value of  $y$  when  $x = 45$ .

Ans  1. 30

2. 45

3. 40

4. 24

Question ID : 26433074994

Status : Answered

Chosen Option : 1

Q.15 एक घनाभ की भुजाएँ 3 : 4 : 5 के अनुपात में हैं और इसका आयतन 480 घन इकाई है। सबसे बड़ी और सबसे छोटी भुजा के बीच का अंतर \_\_\_\_\_ इकाई है।

Ans  1. 6

2. 3

3. 5

4. 4

Question ID : 26433071270

Status : Answered

Chosen Option : 4

Q.16 एक निश्चित राशि 6% वार्षिक चक्रवृद्धि ब्याज की दर से 2 वर्षों में Rs.7,200 हो जाती है, जिस पर ब्याज वार्षिक रूप से चक्रवृद्धि किया जाता है। वह राशि (Rs. में, निकटतम पूर्णांक तक) ज्ञात कीजिए।

Ans  1. Rs.6,449

2. Rs.6,400

3. Rs.6,408

4. Rs.6,507

Question ID : 26433076041

Status : Answered

Chosen Option : 3

Q.17 एक विक्रेता ने किसी वस्तु का विक्रय मूल्य, इसके क्रय मूल्य से 25% अधिक अंकित किया। यदि वह 42% की छूट देता है, तो उसका हानि-प्रतिशत ज्ञात कीजिए।

Ans  1. 33.5%

2. 8.5%

3. 30%

4. 27.5%

Question ID : 26433074927

Status : Answered

Chosen Option : 4

Q.18 एक रेलगाड़ी 80 km/h की एकसमान चाल से चल रही है। 30 मिनट में रेलगाड़ी द्वारा कितनी दूरी तय की जाती है?

- Ans  1. 40 km  
 2. 50 km  
 3. 60 km  
 4. 70 km

Question ID : 26433074951  
Status : Answered  
Chosen Option : 1

Q.19 यदि  $36 \div 2 + y \times 3 - 22 = 8$  है, तो y का मान ज्ञात कीजिए।

- Ans  1. 2  
 2. 1  
 3. 4  
 4. 8

Question ID : 26433079763  
Status : Answered  
Chosen Option : 3

Q.20 एक ट्रेन की लंबाई 150 मीटर है। यह ट्रेन समान दिशा में 2 km/h की चाल से चल रहे एक व्यक्ति को 3 सेकंड में पार कर जाती है। ट्रेन की चाल ज्ञात करें।

- Ans  1. 182 km/h  
 2. 168 km/h  
 3. 191 km/h  
 4. 176 km/h

Question ID : 26433075853  
Status : Answered  
Chosen Option : 1

Section : Part-D-English

Q.1 Select the most appropriate option that can substitute the underlined segment in the given sentence.

Heather studied really hard during six days in order to crack the entrance examination.

- Ans  1. studied real hard during six days  
 2. studied really hard underneath six days  
 3. studied really hard during that six days  
 4. studied really hard during those six days

Question ID : 26433091774  
Status : Not Answered  
Chosen Option : --

Q.2 Select the most appropriate option to fill in the blank.

David always takes extra effort and \_\_\_\_\_ the assignments on time.

- Ans  1. submits  
 2. submit  
 3. may submit  
 4. submitted

Question ID : 26433089300  
Status : Not Answered  
Chosen Option : --

Q.3 Select the most appropriate synonym of the underlined word in the given sentence.

The decision taken by the director is a/(an) judicious one.

- Ans  1. honest  
 2. irrational  
 3. thoughtful  
 4. foolish

Question ID : 26433092108  
Status : Not Answered  
Chosen Option : --

Q.4 Select the most appropriate option to fill in the blanks in the given sentence.

My teacher said, "Time \_\_\_\_\_ like an arrow, and fruit \_\_\_\_\_ like bananas".

- Ans  1. travels  
 2. glides  
 3. flies  
 4. wings

Question ID : 26433084770  
Status : Not Answered  
Chosen Option : --

Q.5 Select the most appropriate synonym of the underlined word.

He paused several times while delivering the speech.

- Ans  1. persisted  
 2. halted  
 3. stammered  
 4. left

Question ID : 26433088492  
Status : Not Answered  
Chosen Option : --

Q.6 Select the most appropriate option to fill in the blank.

Competition and cooperation are the most \_\_\_\_\_ elements of a company's success story.

- Ans
- 1. inappropriate
  - 2. insignificant
  - 3. important
  - 4. useless

Question ID : 26433073787

Status : Not Answered

Chosen Option : --

Q.7 The sentence given below has one misspelt word. Spot the INCORRECTLY spelt word and select its correct spelling.

Clouds are a kaleidoscope of shapes, sizes, patterns and colours.

- Ans
- 1. Kaleidascope
  - 2. Caliedoscope
  - 3. Caledoscope
  - 4. Kaleidoscope

Question ID : 26433073546

Status : Not Answered

Chosen Option : --

Q.8 Select the most appropriate option that can substitute the underlined segment in the given sentence.

In spite of all her air and graces, she had very few talents

- Ans
- 1. airing her grace
  - 2. airs and grace
  - 3. airing her graces
  - 4. airs and graces

Question ID : 26433071934

Status : Not Answered

Chosen Option : --

Q.9 Select the most appropriate synonym of the given word to fill in the blank in the sentence.

Propel

Paddles are used to \_\_\_\_\_ the boat.

- Ans
- 1. run
  - 2. rush
  - 3. carry
  - 4. move

Question ID : 26433060554

Status : Not Answered

Chosen Option : --



Q.10 Select the most appropriate option that can substitute the underlined segment in the given sentence. If there is no need to substitute it, select 'No substitution'.

When he hand in his homework, he forgot to give the teacher the last page.

- Ans
- 1. When he has handed in his homework,
  - 2. No substitution
  - 3. When he handed his homework,
  - 4. When he handed in his homework,

Question ID : 264330101024  
Status : Not Answered  
Chosen Option : --

Q.11 Select the most appropriate synonym of the given word.

Grandeur

- Ans
- 1. Magnificence
  - 2. Power
  - 3. Liable
  - 4. Commotion

Question ID : 26433087916  
Status : Not Answered  
Chosen Option : --

Q.12 Select the most appropriate option to substitute the underlined segment in the given sentence.

Water pollution not only endangers human health but also our environment.

- Ans
- 1. only causes
  - 2. only shatters
  - 3. only clashes
  - 4. only harms

Question ID : 26433089829  
Status : Not Answered  
Chosen Option : --

Q.13 Select the appropriate idiom that can replace the underlined phrase in the following sentence.

It was a great chance. You missed out an opportunity.

- Ans
- 1. are a blessing in disguise
  - 2. are dead as a dodo
  - 3. missed the boat
  - 4. are in the middle of nowhere

Question ID : 26433072363  
Status : Not Answered  
Chosen Option : --

Q.14 Select the most appropriate ANTONYM of the given word.

Prompt

- Ans  1. Attentive  
 2. Initiate  
 3. Delayed  
 4. Efficient

Question ID : 26433090795

Status : Not Answered

Chosen Option : --

Q.15 Select the most appropriate ANTONYM of the given word.

Relevant

- Ans  1. Applicable  
 2. Ignorant  
 3. Compact  
 4. Insignificant

Question ID : 26433090785

Status : Not Answered

Chosen Option : --

**Comprehension:**

In the following passage, some words have been deleted. Read the passage carefully and select the most appropriate option to fill in each blank.

Outside, the world had become a formless, (1)\_\_\_\_\_ with no shape, while the house itself seemed to have twisted and stretched. There was sticky web-stuff (2)\_\_\_\_\_ to her arm, and she wiped it off as best as she could. The other mother was waiting for her, standing on the grass with her arms (3)\_\_\_\_\_. Her black button eyes were expressionless, but her lips were pressed tightly in a cold (4)\_\_\_\_\_. When she saw Myna she reached (5)\_\_\_\_\_ one long white hand, and she crooked a finger.

SubQuestion No : 16

Q.16 Select the most appropriate option to fill in blank number 1.

- Ans  1. ambiguous  
 2. ambivalent  
 3. advent  
 4. amorphous

Question ID : 26433091407

Status : Not Answered

Chosen Option : --

**Comprehension:**

In the following passage, some words have been deleted. Read the passage carefully and select the most appropriate option to fill in each blank.

Outside, the world had become a formless, (1)\_\_\_\_\_ with no shape, while the house itself seemed to have twisted and stretched. There was sticky web-stuff (2)\_\_\_\_\_ to her arm, and she wiped it off as best as she could. The other mother was waiting for her, standing on the grass with her arms (3)\_\_\_\_\_. Her black button eyes were expressionless, but her lips were pressed tightly in a cold (4)\_\_\_\_\_. When she saw Myna she reached (5)\_\_\_\_\_ one long white hand, and she crooked a finger.

**SubQuestion No : 17**

**Q.17** Select the most appropriate option to fill in blank number 2.

- Ans  1. dried  
 2. clung  
 3. unmoor  
 4. manumit

Question ID : 26433091408

Status : Not Answered

Chosen Option : --

**Comprehension:**

In the following passage, some words have been deleted. Read the passage carefully and select the most appropriate option to fill in each blank.

Outside, the world had become a formless, (1)\_\_\_\_\_ with no shape, while the house itself seemed to have twisted and stretched. There was sticky web-stuff (2)\_\_\_\_\_ to her arm, and she wiped it off as best as she could. The other mother was waiting for her, standing on the grass with her arms (3)\_\_\_\_\_. Her black button eyes were expressionless, but her lips were pressed tightly in a cold (4)\_\_\_\_\_. When she saw Myna she reached (5)\_\_\_\_\_ one long white hand, and she crooked a finger.

**SubQuestion No : 18**

**Q.18** Select the most appropriate option to fill in blank number 3.

- Ans  1. entangled  
 2. folded  
 3. joined  
 4. entwined

Question ID : 26433091409

Status : Not Answered

Chosen Option : --

**Comprehension:**

In the following passage, some words have been deleted. Read the passage carefully and select the most appropriate option to fill in each blank.

Outside, the world had become a formless, (1)\_\_\_\_\_ with no shape, while the house itself seemed to have twisted and stretched. There was sticky web-stuff (2)\_\_\_\_\_ to her arm, and she wiped it off as best as she could. The other mother was waiting for her, standing on the grass with her arms (3)\_\_\_\_\_. Her black button eyes were expressionless, but her lips were pressed tightly in a cold (4)\_\_\_\_\_. When she saw Myna she reached (5)\_\_\_\_\_ one long white hand, and she crooked a finger.

**SubQuestion No : 19**

**Q.19** Select the most appropriate option to fill in blank number 4.

- Ans  1. calmness  
 2. fury  
 3. quietude  
 4. serenity

Question ID : 26433091410

Status : Not Answered

Chosen Option : --

**Comprehension:**

In the following passage, some words have been deleted. Read the passage carefully and select the most appropriate option to fill in each blank.

Outside, the world had become a formless, (1)\_\_\_\_\_ with no shape, while the house itself seemed to have twisted and stretched. There was sticky web-stuff (2)\_\_\_\_\_ to her arm, and she wiped it off as best as she could. The other mother was waiting for her, standing on the grass with her arms (3)\_\_\_\_\_. Her black button eyes were expressionless, but her lips were pressed tightly in a cold (4)\_\_\_\_\_. When she saw Myna she reached (5)\_\_\_\_\_ one long white hand, and she crooked a finger.

**SubQuestion No : 20**

**Q.20** Select the most appropriate option to fill in blank number 5.

- Ans  1. of  
 2. out  
 3. by  
 4. in

Question ID : 26433091411

Status : Not Answered

Chosen Option : --

**Section : Part-D-Hindi**

**Q.1** मेरे सिवाय अनेक को एकाआध पुरस्कार अवश्य मिला।  
उपरोक्त वाक्य में रेखांकित शब्द के स्थान पर आने वाले सर्वोचित विकल्प का चयन कीजिए।

- Ans  1. प्रत्येक  
 2. किन्ही  
 3. सबको  
 4. कुछ

Question ID : 26433084956

Status : Answered

Chosen Option : 1

Q.2 'कक्ष से बाहर \_\_\_\_\_ नियमों का पालन करें।' वाक्य में रिक्त स्थान की पूर्ति शुद्ध शब्द द्वारा कीजिए।

- Ans
- 1. उलेखित
  - 2. उल्लिखित
  - 3. उल्लेकित
  - 4. उल्लेखित

Question ID : 26433069701  
Status : Answered  
Chosen Option : 4

Q.3 'इन्द्र' का पर्यायवाची शब्द इनमें से क्या होगा?

- Ans
- 1. शक्र
  - 2. पंचबाण
  - 3. पिनाकी
  - 4. मनोज

Question ID : 26433066904  
Status : Answered  
Chosen Option : 3

Q.4 विकल्पों में दिए गए किस वाक्य में निम्न शब्द के पर्यायवाची का प्रयोग किया गया है?  
गणेश

- Ans
- 1. हमें गजानन की पूजा करनी चाहिए।
  - 2. हम पुरंदर की पूजा करते हैं।
  - 3. हमें पीताम्बर की अर्चना करनी चाहिए।
  - 4. हमें शशिशेखर की अर्चना करनी चाहिए।

Question ID : 26433066932  
Status : Answered  
Chosen Option : 1

Q.5 निम्नलिखित में से शुद्ध वाक्य कौन-सा है?

- Ans
- 1. बाजार में झुंडों के झुण्ड जानवर खड़े थे।
  - 2. सब तरह के वर्ग के लोग सभा में उपस्थित थे।
  - 3. यह बात कहने में अनन्या को संकोच न होगा।
  - 4. इस बात को कहने में अनन्या को संकोच न होगा।

Question ID : 26433066997  
Status : Answered  
Chosen Option : 4

Q.6 निम्नलिखित मुहावरे में गलत शब्द है-  
आकाश-पत्तल एक कर देना

- Ans  1. पत्तल  
 2. एक  
 3. देना  
 4. आकाश

Question ID : 26433062812  
Status : Answered  
Chosen Option : 1

Q.7 विकल्पों में से कौन सा शब्द निम्न वाक्य में रेखांकित अंश के स्थान पर आ सकता है?  
इस समय उनकी आयु 70 वर्ष है।

- Ans  1. जीवन  
 2. उम्र  
 3. स्थिति  
 4. जन्मतिथि

Question ID : 26433066877  
Status : Answered  
Chosen Option : 2

Q.8 निम्नलिखित वाक्यांश के लिए एक सार्थक शब्द चुनिए।  
जो बाएँ और दाएँ दोनों हाथों से तीर चला ले

- Ans  1. मुक्तहस्त  
 2. सहोदर  
 3. सव्यसाची  
 4. शाक्त

Question ID : 26433062733  
Status : Answered  
Chosen Option : 1

Q.9 निम्न वाक्य में रेखांकित शब्द के स्थान पर सर्वोचित शब्द का चयन कीजिए।  
चंद्रगुप्त ऐतिहासिक मरुभूमि पर लिखा गया नाटक है।

- Ans  1. भाषा  
 2. पृष्ठभूमि  
 3. शैली  
 4. रूपांतरण

Question ID : 26433065699  
Status : Answered  
Chosen Option : 2

Q.10 निम्न वाक्यांश के लिए उपयुक्त एक शब्द क्या होगा?  
जिसके पाणि में चक्र है

- Ans  1. चक्रपाणि  
 2. चक्रधर  
 3. चतुर्दिक  
 4. चक्राकार

Question ID : 26433070084

Status : Answered

Chosen Option : 1

Q.11 'विरंचि' के लिए समानार्थी शब्द चुनकर निम्न वाक्य पूर्ण कीजिए।  
राक्षस को \_\_\_\_\_ से वरदान मिला।

- Ans  1. शंकर  
 2. ब्रह्मा  
 3. गणेश  
 4. विष्णु

Question ID : 26433063099

Status : Answered

Chosen Option : 1

Q.12 निम्नलिखित वाक्य के रिक्त स्थान की पूर्ति उचित संज्ञा शब्द से करें।  
डॉक्टर \_\_\_\_\_ का परीक्षण करता है।

- Ans  1. रोगी  
 2. नीरस  
 3. अपने-आप  
 4. कुछ

Question ID : 26433085021

Status : Answered

Chosen Option : 1

Q.13 दिए गए मुहावरे में रेखांकित अंश के स्थान पर सबसे उपयुक्त विकल्प कौन-सा होगा?  
सिर पर आदमी सवार होना।

- Ans  1. भूत  
 2. भगवान  
 3. इंसान  
 4. जानवर

Question ID : 26433066745

Status : Answered

Chosen Option : 1

Q.14 निम्नलिखित में से कौन-सा वाक्य संज्ञा के प्रयोग की दृष्टि से शुद्ध है?

- Ans
- 1. विश्वजीत को सफल होने की हताशा है।
  - 2. विश्वजीत को सफल होने की जिजीविषा नहीं है।
  - 3. विश्वजीत को सफल होने की निराशा नहीं है।
  - 4. विश्वजीत को सफल होने की उम्मीद नहीं है।

Question ID : 26433066959

Status : Answered

Chosen Option : 4

Q.15 दानव का स्वरूप कुरूप है और ईश्वर का \_\_\_\_\_।  
उपरोक्त वाक्य में रिक्त स्थान की पूर्ति 'कुरूप' के विलोम शब्द से करें।

- Ans
- 1. भौंडा
  - 2. रूप
  - 3. सुंदर
  - 4. स्वरूप

Question ID : 26433080878

Status : Answered

Chosen Option : 3

**Comprehension:**

निम्नलिखित गद्यांश में से कुछ शब्द हटा दिए गए हैं। दिए गए विकल्पों की सहायता से रिक्त स्थानों की पूर्ति कीजिए। प्रत्येक संख्या के लिए उपयुक्त विकल्प का चयन कीजिए।  
सर्दियों में लूसी ने दो बच्चों 1. \_\_\_\_\_ जन्म दिया, किंतु उनमें से 2. \_\_\_\_\_ तो शीत के कारण मर गया और दूसरा उस ठिठुराने वाले परिवेश से जूझने लगा। चार-3. \_\_\_\_\_ दिन के 4. \_\_\_\_\_ को छोड़कर लूसी फिर दुकान 5. \_\_\_\_\_ आने-जाने लगी थी।

**SubQuestion No : 16**

Q.16 रिक्त स्थान 1 की पूर्ति के लिए सर्वाधिक उपयुक्त विकल्प का चयन कीजिए।

- Ans
- 1. को
  - 2. का
  - 3. की
  - 4. के

Question ID : 26433079686

Status : Answered

Chosen Option : 1



**Comprehension:**

निम्नलिखित गद्यांश में से कुछ शब्द हटा दिए गए हैं। दिए गए विकल्पों की सहायता से रिक्त स्थानों की पूर्ति कीजिए। प्रत्येक संख्या के लिए उपयुक्त विकल्प का चयन कीजिए।  
सर्दियों में लूसी ने दो बच्चों 1. \_\_\_\_\_ जन्म दिया, किंतु उनमें से 2. \_\_\_\_\_ तो शीत के कारण मर गया और दूसरा उस ठिठुराने वाले परिवेश से जूझने लगा। चार-3. \_\_\_\_\_ दिन के 4. \_\_\_\_\_ को छोड़कर लूसी फिर दुकान 5. \_\_\_\_\_ आने-जाने लगी थी।

**SubQuestion No : 17**

Q.17 रिक्त स्थान 2 की पूर्ति के लिए सर्वाधिक उपयुक्त विकल्प का चयन कीजिए।

- Ans  1. कुछ  
 2. एक  
 3. कोई  
 4. अनेक

Question ID : 26433079687

Status : Answered

Chosen Option : 2

**Comprehension:**

निम्नलिखित गद्यांश में से कुछ शब्द हटा दिए गए हैं। दिए गए विकल्पों की सहायता से रिक्त स्थानों की पूर्ति कीजिए। प्रत्येक संख्या के लिए उपयुक्त विकल्प का चयन कीजिए।  
सर्दियों में लूसी ने दो बच्चों 1. \_\_\_\_\_ जन्म दिया, किंतु उनमें से 2. \_\_\_\_\_ तो शीत के कारण मर गया और दूसरा उस ठिठुराने वाले परिवेश से जूझने लगा। चार-3. \_\_\_\_\_ दिन के 4. \_\_\_\_\_ को छोड़कर लूसी फिर दुकान 5. \_\_\_\_\_ आने-जाने लगी थी।

**SubQuestion No : 18**

Q.18 रिक्त स्थान 3 की पूर्ति के लिए सर्वाधिक उपयुक्त विकल्प का चयन कीजिए।

- Ans  1. तीन  
 2. छह  
 3. सात  
 4. पाँच

Question ID : 26433079688

Status : Answered

Chosen Option : 4

**Comprehension:**

निम्नलिखित गद्यांश में से कुछ शब्द हटा दिए गए हैं। दिए गए विकल्पों की सहायता से रिक्त स्थानों की पूर्ति कीजिए। प्रत्येक संख्या के लिए उपयुक्त विकल्प का चयन कीजिए।  
सर्दियों में लूसी ने दो बच्चों 1. \_\_\_\_\_ जन्म दिया, किंतु उनमें से 2. \_\_\_\_\_ तो शीत के कारण मर गया और दूसरा उस ठिठुराने वाले परिवेश से जूझने लगा। चार-3. \_\_\_\_\_ दिन के 4. \_\_\_\_\_ को छोड़कर लूसी फिर दुकान 5. \_\_\_\_\_ आने-जाने लगी थी।

**SubQuestion No : 19**

Q.19 रिक्त स्थान 4 की पूर्ति के लिए सर्वाधिक उपयुक्त विकल्प का चयन कीजिए।

- Ans  1. दोस्त  
 2. चूजे  
 3. बच्चे  
 4. आदमी

Question ID : 26433079689

Status : Answered

Chosen Option : 3

**Comprehension:**

निम्नलिखित गद्यांश में से कुछ शब्द हटा दिए गए हैं। दिए गए विकल्पों की सहायता से रिक्त स्थानों की पूर्ति कीजिए। प्रत्येक संख्या के लिए उपयुक्त विकल्प का चयन कीजिए।  
सर्दियों में लूसी ने दो बच्चों 1. \_\_\_\_\_ जन्म दिया, किंतु उनमें से 2. \_\_\_\_\_ तो शीत के कारण मर गया और दूसरा उस ठिठुराने वाले परिवेश से जूझने लगा। चार-3. \_\_\_\_\_ दिन के 4. \_\_\_\_\_ को छोड़कर लूसी फिर दुकान 5. \_\_\_\_\_ आने-जाने लगी थी।

**SubQuestion No : 20**

Q.20 रिक्त स्थान 5 की पूर्ति के लिए सर्वाधिक उपयुक्त विकल्प का चयन कीजिए।

- Ans
- 1. के सामने
  - 2. भर
  - 3. सब
  - 4. तक

Question ID : 26433079690

Status : Answered

Chosen Option : 1

WWW.GOVtjobsalert.in

Q.4 'A + B' का अर्थ है 'B, A का पिता है'  
'A - B' का अर्थ है 'B, A की माता है'  
'A \$ B' का अर्थ है 'B, A का पति है'  
यदि  $A + B - C \text{ \$ } D$  है, तो D, A से किस प्रकार संबंधित है?

- Ans  1. दादा  
 2. पुत्र  
 3. चाचा/ताऊ  
 4. पिता

Question ID : 26433068526  
Status : Answered  
Chosen Option : 1

Q.5 उस विकल्प का चयन करें, जो पाँचवीं संख्या से उसी प्रकार संबंधित है, जिस प्रकार दूसरी संख्या, पहली संख्या से संबंधित है और चौथी संख्या, तीसरी संख्या से संबंधित है।  
 $64 : 5 :: 49 : 4 :: 81 : ?$

- Ans  1. 3  
 2. 6  
 3. 8  
 4. 9

Question ID : 26433069410  
Status : Answered  
Chosen Option : 2

Q.6 एक निश्चित कूट भाषा में 'BEAUTY' को 'DDZTVA' लिखा जाता है और 'GLORIA' को 'INNTHZ' लिखा जाता है। उसी भाषा में 'CLEAVE' को किस प्रकार लिखा जाएगा?

- Ans  1. ENGCGXG  
 2. ENGZXD  
 3. ENDZXD  
 4. EKGZWD

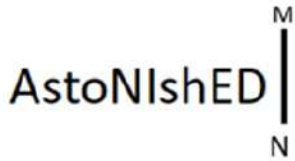
Question ID : 26433081761  
Status : Answered  
Chosen Option : 4

Q.7 उस विकल्प का चयन कीजिए जो तीसरे शब्द से उसी प्रकार संबंधित है जिस प्रकार दूसरा शब्द पहले शब्द से संबंधित है। (शब्दों को अर्थपूर्ण शब्दों के रूप में मानना है और उन्हें शब्द में अक्षरों/व्यंजनों/स्वरों की संख्या के आधार पर एक-दूसरे से संबंधित नहीं करना है।)  
छात्र : कक्षा :: देश : ?

- Ans  1. क्षेत्र  
 2. महाद्वीप  
 3. परिषद  
 4. राष्ट्र

Question ID : 26433069575  
Status : Answered  
Chosen Option : 2

Q.8 दी गई आकृति के सही दर्पण प्रतिबिम्ब का चयन करें जब दर्पण को MN पर रखा जाए जैसा कि नीचे दर्शाया गया है।



Ans

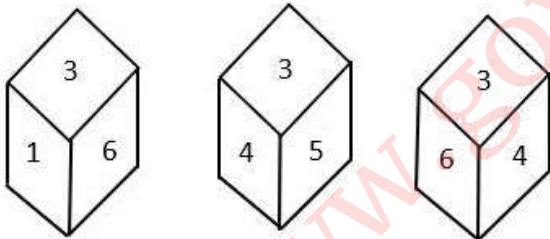
- ✓ 1. AstonishedA
- ✗ 2. astonished
- ✗ 3. astonished
- ✗ 4. astonished

Question ID : 26433085554

Status : Answered

Chosen Option : 1

Q.9 एक ही पासे की तीन अलग-अलग स्थितियों को दर्शाया गया है। '3' दर्शाने वाले फलक के विपरीत फलक की संख्या ज्ञात कीजिए।



- Ans
- ✗ 1. 4
  - ✓ 2. 2
  - ✗ 3. 6
  - ✗ 4. 5

Question ID : 26433090071

Status : Answered

Chosen Option : 2

Q.10 यदि '+' का अर्थ है 'x', '-' का अर्थ है '÷', 'x' का अर्थ है '+' और '÷' का अर्थ है '-', तो निम्नलिखित में से कौन सा समीकरण सही होगा?

- Ans  1.  $24 \times 4 + 4 \div 64 - 16 = 60$   
 2.  $32 - 4 \div 8 \times 64 \div 16 = 36$   
 3.  $48 - 8 + 4 \times 64 \div 16 = 72$   
 4.  $32 \div 8 \times 4 + 64 - 16 = 48$

Question ID : 264330117486

Status : Answered

Chosen Option : 4

Q.11 सात व्यक्ति J, K, L, M, N, O और P एक सीधी पंक्ति में उत्तर की ओर मुख करके बैठे हैं। J, N के बाईं ओर चौथे स्थान पर बैठा है। O, J के दाईं ओर तीसरे स्थान पर बैठा है। M, O के बाईं ओर चौथे स्थान पर बैठा है। P और L के बीच केवल तीन व्यक्ति बैठे हैं। L के बाईं ओर कोई नहीं बैठा है। पंक्ति के दाएं सिरे से दूसरे स्थान पर कौन बैठा है?

- Ans  1. N  
 2. P  
 3. O  
 4. M

Question ID : 26433068283

Status : Answered

Chosen Option : 3

Q.12 किस विकल्प में निम्नलिखित शब्दों का वह क्रम दिया गया है, जिस क्रम में वे अंग्रेजी शब्दकोश में आते हैं?

- 1 fragile
- 2 frame
- 3 friction
- 4 fragment
- 5 fragrance

- Ans  1. 1,4,5,2,3  
 2. 1,4,5,3,2  
 3. 1,5,4,2,3  
 4. 1,5,4,3,2

Question ID : 26433069301

Status : Answered

Chosen Option : 1

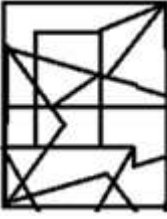
Q.13 उस विकल्प आकृति का चयन करें जिसमें दी गई आकृति निहित है

(आकृति को घुमाने की अनुमति नहीं है)।

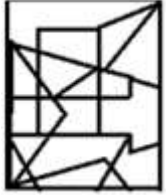


Ans

✗ 1.



✓ 2.



✗ 3.



✗ 4.



Question ID : 26433069251

Status : Answered

Chosen Option : 2

Q.14 दिए गए समीकरण में \* चिह्नों को क्रमिक रूप से बदलने और समीकरण को संतुलित करने के लिए गणितीय चिह्नों के सही संयोजन का चयन कीजिए।

$$6 * 14 * 2 * 1 * 11 * 52$$

Ans ✗ 1. x, +, -, x, =

✓ 2. x, ÷, -, +, =

✗ 3. x, +, -, -, =

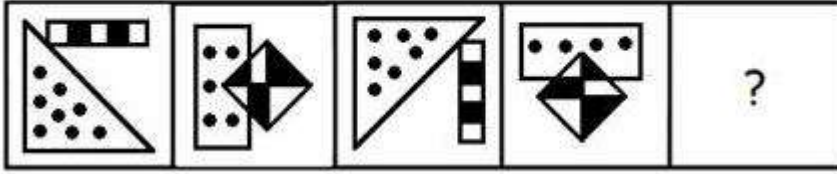
✗ 4. x, -, ÷, +, =

Question ID : 26433082882

Status : Answered


Chosen Option : 2

Q.15 उस आकृति का चयन कीजिए, जो नीचे दी गई श्रृंखला में आगे आएगी।

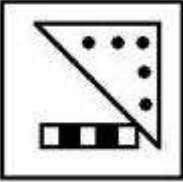


Ans

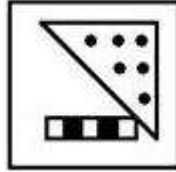
✗ 1.



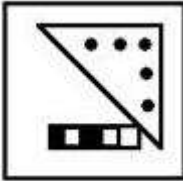
✗ 2.



✓ 3.



✗ 4.



Question ID : 26433078970

Status : Not Attempted and Marked For Review

Chosen Option : --

Q.16 एक कूट भाषा में, 'he is late' को 'ah hu lu', 'she is expected' को 'bo hu ma', और 'she arrived late' को 'bo ka lu' के रूप में कूटबद्ध किया जाता है। शब्द 'arrived' के लिए कूट क्या होगा?

Ans ✗ 1. bo

✓ 2. ka

✗ 3. hu

✗ 4. lu

Question ID : 26433069470

Status : Answered

Chosen Option : 2

Q.17 उस विकल्प का चयन कीजिए जो तीसरे शब्द से उसी प्रकार संबंधित है जिस प्रकार दूसरा शब्द पहले शब्द से संबंधित है। (शब्दों को अर्थपूर्ण शब्दों के रूप में मानना है और उन्हें शब्द में अक्षरों/व्यंजनों/स्वरों की संख्या के आधार पर एक-दूसरे से संबंधित नहीं करना है।)  
शुतुरमुर्ग : पक्षी :: मेंढक : ?

- Ans
- 1. सरीसृप
  - 2. स्तनधारी
  - 3. कृतक
  - 4. उभयचर

Question ID : 26433067363

Status : Answered

Chosen Option : 4

Q.18 निम्न में से कौन सी संख्या दी गई श्रृंखला में प्रश्नचिह्न (?) के स्थान पर आएगी?  
1, 2, 3, 5, 8, ?, 21, 34

- Ans
- 1. 13
  - 2. 16
  - 3. 17
  - 4. 11

Question ID : 26433076752

Status : Answered

Chosen Option : 1

Q.19 कौन-सा अक्षर-समूह दी गई श्रृंखला में प्रश्नचिह्न (?) के स्थान पर आकर श्रृंखला को पूर्ण करेगा?  
WDGP, TBDN, QZAL, ?, KVVH

- Ans
- 1. NXXJ
  - 2. OXYI
  - 3. MWXK
  - 4. MXYJ

Question ID : 26433068033

Status : Answered

Chosen Option : 1



Q.20 तीन कथन दिए गए हैं, जिसके बाद तीन निष्कर्ष I, II और III दिए गए हैं। कथनों को सत्य मानते हुए, भले ही वे सामान्य रूप से ज्ञात तथ्यों से भिन्न प्रतीत होते हों, निर्णय लीजिए कि कौन-से निष्कर्ष कथनों का तार्किक रूप से अनुसरण करते हैं।

कथन:

कुछ कुर्सियाँ बेड हैं।

कुछ मेज डेस्क हैं।

सभी बेड मेज हैं।

निष्कर्ष:

I. कुछ कुर्सियाँ मेज हैं।

II. कुछ डेस्क बेड हैं।

III. कुछ डेस्क कुर्सियाँ हैं।

- Ans
- 1. केवल निष्कर्ष II अनुसरण करता है।
  - 2. केवल निष्कर्ष III अनुसरण करता है।
  - 3. केवल निष्कर्ष I अनुसरण करता है।
  - 4. सभी निष्कर्ष अनुसरण करते हैं।

Question ID : 26433085680

Status : Answered

Chosen Option : 3

Section : Part-B-General Knowledge and General awareness

Q.1 \_\_\_\_\_ सिलिकॉन डाइऑक्साइड का सामान्य नाम है।

- Ans
- 1. आशमीत चूना
  - 2. सफेद विट्रिओल
  - 3. कार्टज
  - 4. प्लास्टर ऑफ पेरिस

Question ID : 264330115167

Status : Answered

Chosen Option : 3

Q.2 नवंबर 2022 तक की स्थिति के अनुसार, निम्नलिखित में से कौन केरल, भारत के मुख्यमंत्री हैं?

- Ans
- 1. आनंदीबेन पटेल
  - 2. बसवराज बोम्मई
  - 3. पिनाराई विजयन
  - 4. नवीन पटनायक

Question ID : 264330114932

Status : Answered

Chosen Option : 3

Q.3 विश्व में हरित क्रांति का जनक किसे कहा जाता है?

- Ans
- 1. आर.के.वी. राव
  - 2. एमएस स्वामीनाथन
  - 3. नॉर्मन बोरलॉग
  - 4. राजा कृष्ण

Question ID : 264330116150

Status : Answered

Chosen Option : 3

Q.4 सहायक गठबंधन प्रणाली, जिसके तहत किसी भारतीय शासक को अपने खुद के सशस्त्र बलों को भंग करना पड़ता था और अपने क्षेत्र में ब्रिटिश सेना और निवासियों को स्वीकार करना पड़ता था, निम्नलिखित में से किसने शुरू की थी?

- Ans
- 1. लॉर्ड हेस्टिंग्स
  - 2. लॉर्ड मिंटो
  - 3. लॉर्ड वैलेस्ली
  - 4. लॉर्ड विलियम बेंटिक

Question ID : 26433099164  
Status : Answered  
Chosen Option : 3

Q.5 छठ पूजा, एक प्राचीन हिंदू पर्व है, यह निम्नलिखित में से किस महीने में आ सकती है?

- Ans
- 1. मई
  - 2. मार्च
  - 3. अगस्त
  - 4. नवंबर

Question ID : 264330115108  
Status : Answered  
Chosen Option : 4

Q.6 \_\_\_\_\_ को गोल्डन फाइबर के रूप में जाना जाता है।

- Ans
- 1. कपास
  - 2. जूट
  - 3. मक्का
  - 4. सिंथेटिक धागा

Question ID : 264330115396  
Status : Answered  
Chosen Option : 2

Q.7 मानसिक बीमारी वाले व्यक्तियों के लिए मानसिक स्वास्थ्य देखभाल और सेवाएं प्रदान करने और ऐसे व्यक्तियों के अधिकारों की रक्षा, प्रचार और पूर्ति हेतु बना एक अधिनियम, \_\_\_\_\_ है।

- Ans
- 1. मानसिक दिव्यांगजन अधिनियम, 2017
  - 2. मानसिक शांति अधिनियम, 2017
  - 3. मानसिक स्वास्थ्य अधिनियम, 2017
  - 4. मानसिक स्वास्थ्य देखभाल अधिनियम, 2017

Question ID : 264330116216  
Status : Answered  
Chosen Option : 4

Q.8 कौटिल्य ने निम्नलिखित में से कौन-सी पुस्तक लिखी थी?

- Ans  1. अर्थशास्त्र  
 2. सूक्तावली  
 3. मुद्रा राक्षस  
 4. इंडिका

Question ID : 26433099147

Status : Answered

Chosen Option : 1

Q.9 समुद्र से दूरी बढ़ने पर किस प्रकार की मौसम की स्थिति का अनुभव होता है?

- Ans  1. शीतोष्ण  
 2. मध्यम  
 3. चरम  
 4. हल्की

Question ID : 264330115975

Status : Answered

Chosen Option : 1

Q.10 जनवरी 2022 में नागरिक उड्डयन मंत्रालय द्वारा राष्ट्रीय वायु खेल नीति (NASP) के ड्राफ्ट में किस प्रकार की शासन संरचना प्रस्तावित की गई थी?

- Ans  1. एकल स्तरीय  
 2. दो स्तरीय  
 3. तीन स्तरीय  
 4. चार स्तरीय

Question ID : 264330114976

Status : Answered

Chosen Option : 3

Q.11 युमलम्बम गंभिनी देवी को किस कला रूप के लिए पद्म श्री से सम्मानित किया गया था?

- Ans  1. कथकली  
 2. लावणी  
 3. कथक  
 4. मणिपुरी

Question ID : 264330115870

Status : Not Attempted and  
Marked For Review

Chosen Option : --

Q.12 दिए गए विकल्पों में से क्या बजट का एक कार्य है?

- Ans
- 1. गांवों का ब्यौरा उपलब्ध कराना
  - 2. राज्यों के नाम प्रदान करना
  - 3. सरकार की आय और व्यय का विस्तृत विवरण प्रदान करना
  - 4. राज्यों और संघ का विवरण प्रदान करना

Question ID : 264330115273

Status : Answered

Chosen Option : 3

Q.13 भारतीय संविधान की सातवीं अनुसूची \_\_\_\_\_ से संबंधित है।

- Ans
- 1. राज्यों की न्यायपालिका
  - 2. संसद की शक्तियों
  - 3. केंद्र और राज्यों के बीच शक्तियों के विभाजन
  - 4. पंचायती राज

Question ID : 264330115608

Status : Answered

Chosen Option : 1

Q.14 हॉकी मैच में हाफ़ टाइम कितने मिनट के बाद शुरू होता है?

- Ans
- 1. 120 मिनट
  - 2. 45 मिनट
  - 3. 90 मिनट
  - 4. 30 मिनट

Question ID : 264330116284

Status : Answered

Chosen Option : 2

Q.15 In which areas is intensive subsistence farming practiced?

- Ans
- 1. areas of no population pressure on land
  - 2. areas of high population pressure on land
  - 3. areas of average population pressure on land
  - 4. areas of low population pressure on land

Question ID : 264330115520

Status : Answered

Chosen Option : 2

Q.16 कथकली की उत्पत्ति मुख्य रूप से निम्नलिखित में से किस राज्य से हुई है?

- Ans
- 1. आंध्र प्रदेश
  - 2. तमिलनाडु
  - 3. कर्नाटक
  - 4. केरल

Question ID : 264330115059

Status : Answered

Chosen Option : 4

Q.17 कौन सी योजना प्रत्येक सहायता प्राप्त परिवार को तीन वर्ष के भीतर गरीबी रेखा से ऊपर लाने के लिए देश के ग्रामीण क्षेत्रों में शुरू की गई?

- Ans
- 1. गरीब कल्याण रोजगार योजना
  - 2. प्रधानमंत्री रोजगार योजना
  - 3. ग्रामीण उद्यमी योजना
  - 4. स्वर्णजयंती ग्राम स्वरोजगार योजना

Question ID : 264330116070

Status : Answered

Chosen Option : 4

Q.18 स्वातंत्र्योत्तर भारत में, पहली निर्वाचित संसद \_\_\_\_\_ में अस्तित्व में आई थी।

- Ans
- 1. मार्च 1957
  - 2. अप्रैल 1952
  - 3. मार्च 1951
  - 4. अप्रैल 1957

Question ID : 26433089915

Status : Answered

Chosen Option : 4

Q.19 What is the trophic level of dead organic matter in detritus food chain?

- Ans
- 1. third
  - 2. fourth
  - 3. second
  - 4. first

Question ID : 264330115246

Status : Not Answered

Chosen Option : --

Q.20 निम्नलिखित में से कौन-सा देश 2019 दक्षिण एशियाई खेलों का हिस्सा नहीं था?

- Ans
- 1. भारत
  - 2. बांग्लादेश
  - 3. ताइवान
  - 4. भूटान

Question ID : 264330115936

Status : Answered

Chosen Option : 3

Section : Part-C-Elementary Mathematics

Q.1 एक व्यापारी अपने माल पर क्रय मूल्य से 20% अधिक मूल्य अंकित करता है और 10% की छूट देता है। वह एक दोषपूर्ण तराजू का उपयोग करता है जो 1 kg वजन के बजाय 800 ग्राम मापता है। उसका शुद्ध प्रतिशत लाभ क्या होगा?

- Ans
- 1. 35%
  - 2. 25%
  - 3. 20%
  - 4. 15%

Question ID : 26433075726

Status : Answered

Chosen Option : 1

Q.2 यदि किसी धनराशि पर 6% वार्षिक की दर से 2 वर्षों का साधारण ब्याज Rs.1,800 है, तो उसी धनराशि पर, समान अवधि के लिए, समान दर से वार्षिक रूप से चक्रवृद्धि हुआ चक्रवृद्धि ब्याज ज्ञात कीजिए।

- Ans
- 1. Rs.1,584
  - 2. Rs.1,854
  - 3. Rs.1,458
  - 4. Rs.1,548

Question ID : 26433073027

Status : Answered

Chosen Option : 2

Q.3 एक व्यक्ति P से Q तक 10 km/h की चाल से चलता है, लेकिन Q से P तक 12 km/h की चाल से वापस आता है। उसकी औसत चाल ज्ञात कीजिए।

- Ans
- 1.  $\frac{10}{11}$  km/h
  - 2.  $9\frac{10}{11}$  km/h
  - 3.  $10\frac{10}{11}$  km/h
  - 4.  $11\frac{10}{11}$  km/h

Question ID : 26433064030

Status : Answered

Chosen Option : 3

Q.4 एक स्कूल में, लड़कों की संख्या का 20%, लड़कियों की संख्या के  $\frac{2}{3}$  के बराबर है।

उस स्कूल में लड़कों का लड़कियों के साथ अनुपात क्या है ?

- Ans
- 1. 10 : 9
  - 2. 9 : 10
  - 3. 10 : 3
  - 4. 3 : 10

Question ID : 26433073020

Status : Answered

Chosen Option : 3

Q.5 500 और 8000 का मध्यानुपाती ज्ञात कीजिए।

- Ans
- 1. 632.46
  - 2. 200
  - 3. 2000
  - 4. 4000

Question ID : 26433080322

Status : Answered

Chosen Option : 3

Q.6 एक व्यक्ति द्वारा धारा की दिशा में किसी गंतव्य तक जाने, और वहां से आरंभिक स्थान तक वापस लौटने में 3 घंटे का समय लगता है। यदि शांत जल में नाव की चाल और धारा की चाल क्रमशः 6 km/h और 3 km/h है, तो आरंभिक स्थान से गंतव्य की दूरी कितनी होगी?

- Ans
- 1. 3.25 km
  - 2. 5.55 km
  - 3. 6.75 km
  - 4. 4.20 km

Question ID : 26433074998

Status : Answered

Chosen Option : 3

Q.7 एक दुकानदार अंकित मूल्य पर 15% की छूट देने के बाद 8% का लाभ अर्जित करता है। स्टॉक को खाली करने के लिए, दुकानदार x% की क्रमिक छूट देता है और कोई लाभ या हानि नहीं कमाता है। x का मान (लगभग) क्या होगा?

- Ans
- 1. 7.6
  - 2. 7.4
  - 3. 7.8
  - 4. 8.0

Question ID : 26433081710

Status : Not Answered

Chosen Option : --

Q.8 एक स्कूल बैग और एक जूते के मूल्य 11 : 9 के अनुपात में हैं। स्कूल बैग का मूल्य जूते के मूल्य से Rs.450 अधिक है। जूते का मूल्य कितना है?

- Ans
- 1. Rs. 2,050
  - 2. Rs. 2,025
  - 3. Rs. 2,000
  - 4. Rs. 2,150

Question ID : 26433081017

Status : Answered

Chosen Option : 2

Q.9 अजीत एक कार्य को पूरा करने में अरुण से दोगुना और संजीव से तिगुना समय लेता है। यदि वे तीनों एक साथ कार्य करते हुए इसे 53 घंटे में पूरा कर सकते हों, तो संजीव द्वारा अकेले इस कार्य को पूरा करने में लिया गया समय ज्ञात कीजिए।

- Ans
- 1. 100 घंटे
  - 2. 106 घंटे
  - 3. 103 घंटे
  - 4. 105 घंटे

Question ID : 26433074944

Status : Answered

Chosen Option : 2

Q.10 एक व्यक्ति सख्त आहार का पालन करता है और एक महीने में अपना भार 80 kg से कम करके 72 kg कर लेता है। व्यक्ति के वजन घटाने का प्रतिशत है:

- Ans
- 1. 8 प्रतिशत
  - 2. 10 प्रतिशत
  - 3. 5 प्रतिशत
  - 4. 12 प्रतिशत

Question ID : 264330116820

Status : Answered

Chosen Option : 2

Q.11 दो वर्ष पहले, एक शहर की जनसंख्या 260000 थी। यदि जनसंख्या में प्रत्येक वर्ष 4% की कमी हो रही है, तो इसकी वर्तमान जनसंख्या कितनी है?

- Ans
- 1. 239000
  - 2. 139616
  - 3. 239616
  - 4. 339610

Question ID : 26433081038

Status : Answered

Chosen Option : 3



Q.12 एक परिवार के 2 बच्चों की औसत आयु 12 वर्ष है। माता-पिता सहित परिवार की औसत आयु 30 वर्ष है। यदि पिता माता से 4 वर्ष बड़ा है, तो पिता की आयु ज्ञात करें?

- Ans  1. 50 वर्ष  
 2. 46 वर्ष  
 3. 52 वर्ष  
 4. 48 वर्ष

Question ID : 264330116680  
Status : Answered  
Chosen Option : 1

Q.13 दो अंको की कितनी संख्याएँ 6 से विभाज्य हैं?

- Ans  1. 18  
 2. 12  
 3. 16  
 4. 15

Question ID : 26433075808  
Status : Answered  
Chosen Option : 4

Q.14 एक वस्तु का अंकित मूल्य 1000 रुपए है और दुकानदार ने 40 प्रतिशत की छूट दी। विक्रय मूल्य क्या होगा?

- Ans  1. 600 रुपए  
 2. 700 रुपए  
 3. 400 रुपए  
 4. 500 रुपए

Question ID : 264330116712  
Status : Answered  
Chosen Option : 1

Q.15 एक शंकु का वक्र पृष्ठीय क्षेत्रफल  $1100 \text{ cm}^2$  है। यदि शंकु का व्यास 28 cm है, तो शंकु की तिर्यक ऊंचाई ज्ञात कीजिए।

( $\pi = \frac{22}{7}$  का उपयोग कीजिए)

- Ans  1. 44 cm  
 2. 12.5 cm  
 3. 25 cm  
 4. 37.5 cm

Question ID : 26433087413  
Status : Answered  
Chosen Option : 3

Q.16 तीन धावक एक वृत्ताकार पथ पर दौड़ना आरम्भ करते हैं। वे समान बिंदु से सुबह 6 बजे शुरू करते हैं और 1 चक्कर पूरा करने के लिए क्रमशः 12 सेकंड, 15 सेकंड और 24 सेकंड का समय लेते हैं। वे फिर से आरंभिक बिन्दु पर किस समय मिलेंगे?

- Ans  1. 6:02:00 AM  
 2. 6:02:30 AM  
 3. 6:03:20 AM  
 4. 6:01:40 AM

Question ID : 264330116649

Status : Answered

Chosen Option : 1

Q.17 अमित एक कार्य को 120 दिनों में पूरा कर सकता है। अमित और सेजल उसी कार्य को 72 दिनों में पूरा कर सकते हैं। उन्होंने एक साथ शुरू किया लेकिन सेजल ने 20 दिनों तक काम करने के बाद छोड़ दिया। दिनों की अनुमानित संख्या ज्ञात करें जिसमें अमित शेष कार्य को पूरा करेगा।

- Ans  1. 90 दिन  
 2. 84 दिन  
 3. 87 दिन  
 4. 76 दिन

Question ID : 264330116900

Status : Answered

Chosen Option : 3

Q.18 रश्मि Rs.80 प्रत्येक की दर से 50 पुस्तकें, Rs.60 प्रत्येक की दर से 46 कलम और Rs.30 प्रत्येक की दर से 60 पेंसिलें खरीदती है। सभी स्टेशनरी वस्तुओं के औसत मूल्य (Rs. में) की गणना करें। (2 दशमलव स्थानों तक पूर्णांकित)

- Ans  1. Rs.46.77  
 2. Rs.65.79  
 3. Rs.49.87  
 4. Rs.54.87

Question ID : 26433082706

Status : Answered

Chosen Option : 4

Q.19 एक लड़का एक खिलौना कार Rs.650 में खरीदता है और उसे Rs.750 में बेचता है। लाभ प्रतिशत ज्ञात कीजिए।

- Ans  1. 16.38%  
 2. 14.38%  
 3. 13.33%  
 4. 15.38%

Question ID : 26433065064

Status : Answered

Chosen Option : 2

Q.20 यदि एक बेलनाकार स्तंभ का आयतन  $924 \text{ m}^3$  है और इसका वक्र पृष्ठीय क्षेत्रफल  $264 \text{ m}^2$  है, तो कुल पृष्ठीय क्षेत्रफल \_\_\_\_\_ है।

- Ans
- 1.  $182 \pi \text{ m}^2$
  - 2.  $184 \text{ m}^2$
  - 3.  $164 \pi \text{ m}^2$
  - 4.  $164 \text{ m}^2$

Question ID : 26433075898

Status : Answered

Chosen Option : 1

Section : Part-D-English

Q.1 Parts of the given sentence have been given as options. One of them contains a spelling error. Select the option that rectifies the error.

The Magdeburg water bridge is the longest navigable aquaduct built over the river Elbe in Germany.

- Ans
- 1. longgest
  - 2. brige
  - 3. navaigable
  - 4. aqueduct

Question ID : 26433072044

Status : Answered

Chosen Option : 3

Q.2 Select the most appropriate synonym for the underlined word in the given sentence.

The wily Jerry mouse very deftly removed the cheese from the trap.

- Ans
- 1. wise
  - 2. worn
  - 3. crafty
  - 4. worrisome

Question ID : 26433073755

Status : Answered

Chosen Option : 1

Q.3 Select the most appropriate meaning of the given idiom.

Forty winks

- Ans
- 1. To do something forty times
  - 2. To take a short nap
  - 3. To be worried
  - 4. To hurry and rush

Question ID : 26433073706

Status : Answered

Chosen Option : 2

Q.4 Select the most appropriate option to fill in the blank.

Don't go to the neighbour's garden, \_\_\_\_\_ not allowed to go there.

- Ans
- 1. yore
  - 2. you're
  - 3. your
  - 4. yor

Question ID : 26433088939  
Status : Answered  
Chosen Option : 2

Q.5 Select the most appropriate option to fill in the blank.

Evelyn became very angry; it seemed to her that she \_\_\_\_\_ never fulfil her dream of being a great musician.

- Ans
- 1. ought to
  - 2. would
  - 3. will
  - 4. can

Question ID : 26433090440  
Status : Answered  
Chosen Option : 2

Q.6 Select the most appropriate ANTONYM of the given word.

Common

- Ans
- 1. Rare
  - 2. Boring
  - 3. Ordinary
  - 4. Shocking

Question ID : 26433086375  
Status : Answered  
Chosen Option : 1

Q.7 The following sentence has been split into four segments. Identify the segment that contains a grammatical error.

When I / was / young, I / play hockey.

- Ans
- 1. was
  - 2. young, I
  - 3. When I
  - 4. play hockey

Question ID : 26433092277  
Status : Answered  
Chosen Option : 4

Q.8 Select the most appropriate ANTONYM of the given word.

Hostility

- Ans
- 1. Silliness
  - 2. Enmity
  - 3. Absurdity
  - 4. Friendship

Question ID : 26433073919

Status : Answered

Chosen Option : 4

Q.9 Select the most appropriate antonym of the bracketed word to fill in the blank.

It would be \_\_\_\_\_ (annoying) to watch India hosting the World Cup and winning it at the same time.

- Ans
- 1. irksome
  - 2. pesky
  - 3. plaguy
  - 4. delightful

Question ID : 26433060717

Status : Answered

Chosen Option : 4

Q.10 Select the most appropriate option that can substitute the underlined words in the given sentence.

Hima was so affected by the movie that she has not speak a word to anyone for a week.

- Ans
- 1. that she has not been spoken a word
  - 2. that she is speaking
  - 3. that she has been speaking
  - 4. that she did not speak a word

Question ID : 26433099935

Status : Answered

Chosen Option : 4

Q.11 Select the most appropriate option to fill in the blank.

The Kathakali dance form, which combines music, dance, poetry, drama and mime, uses \_\_\_\_\_ costumes.

- Ans
- 1. scruffy
  - 2. gaudy
  - 3. elaborate
  - 4. generic

Question ID : 26433071743

Status : Answered

Chosen Option : 1

Q.12 Select the most appropriate meaning of the given idiom.

A Penelope's web

- Ans
- 1. A meaningless job
  - 2. An important job
  - 3. A daily job
  - 4. An endless job

Question ID : 26433070685  
Status : Not Answered  
Chosen Option : --

Q.13 Select the most appropriate synonym of the word given below to fill in the blank in the following sentence.

Adversity

The sage said, "One should keep patience during \_\_\_\_\_".

- Ans
- 1. good times
  - 2. tribute
  - 3. hardships
  - 4. challenges

Question ID : 26433084775  
Status : Answered  
Chosen Option : 4

Q.14 Which of the following options is most similar in meaning to the given word?  
Laudable

- Ans
- 1. Sensible
  - 2. Returnable
  - 3. Preventable
  - 4. Praiseworthy

Question ID : 26433088813  
Status : Answered  
Chosen Option : 4

Q.15 Select the INCORRECTLY spelt word

- Ans
- 1. Robber
  - 2. Radar
  - 3. Rebber
  - 4. Rather

Question ID : 26433071817  
Status : Answered  
Chosen Option : 3

**Comprehension:**

In the following passage, some words have been deleted. Read the passage carefully and select the most appropriate option to fill in each blank.

The Chinese rulers were called the Shang. Chinese civilisation is one of the oldest civilisations of the world which (1)\_\_\_\_\_ in north-east China. The Chinese had thought (2)\_\_\_\_\_ a very clever way of casting weapons and pots which were made of bronze. These people first made a rough model of the object they wanted to cast or make. Then, they shaped the clay mould closely (3)\_\_\_\_\_ the prepared model. When the clay was dry, the mould was (4)\_\_\_\_\_ and cut into pieces. These carved pieces were filled with molten bronze and left to cool down. In the final process, the mould was removed and a perfectly formed object was (5)\_\_\_\_\_.

**SubQuestion No : 16**

**Q.16** Select the most appropriate option to fill in blank number 1.

- Ans
- 1. displayed
  - 2. flaunted
  - 3. exhibited
  - 4. flourished

Question ID : 26433088885

Status : Answered

Chosen Option : 4

**Comprehension:**

In the following passage, some words have been deleted. Read the passage carefully and select the most appropriate option to fill in each blank.

The Chinese rulers were called the Shang. Chinese civilisation is one of the oldest civilisations of the world which (1)\_\_\_\_\_ in north-east China. The Chinese had thought (2)\_\_\_\_\_ a very clever way of casting weapons and pots which were made of bronze. These people first made a rough model of the object they wanted to cast or make. Then, they shaped the clay mould closely (3)\_\_\_\_\_ the prepared model. When the clay was dry, the mould was (4)\_\_\_\_\_ and cut into pieces. These carved pieces were filled with molten bronze and left to cool down. In the final process, the mould was removed and a perfectly formed object was (5)\_\_\_\_\_.

**SubQuestion No : 17**

**Q.17** Select the most appropriate option to fill in blank number 2.

- Ans
- 1. up
  - 2. into
  - 3. in
  - 4. down

Question ID : 26433088886

Status : Answered

Chosen Option : 1

**Comprehension:**

In the following passage, some words have been deleted. Read the passage carefully and select the most appropriate option to fill in each blank.

The Chinese rulers were called the Shang. Chinese civilisation is one of the oldest civilisations of the world which (1)\_\_\_\_\_ in north-east China. The Chinese had thought (2)\_\_\_\_\_ a very clever way of casting weapons and pots which were made of bronze. These people first made a rough model of the object they wanted to cast or make. Then, they shaped the clay mould closely (3)\_\_\_\_\_ the prepared model. When the clay was dry, the mould was (4)\_\_\_\_\_ and cut into pieces. These carved pieces were filled with molten bronze and left to cool down. In the final process, the mould was removed and a perfectly formed object was (5)\_\_\_\_\_.

**SubQuestion No : 18**

**Q.18** Select the most appropriate option to fill in blank number 3.

- Ans  1. behind  
 2. beside  
 3. around  
 4. across

Question ID : 26433088887

Status : Answered

Chosen Option : 3

**Comprehension:**

In the following passage, some words have been deleted. Read the passage carefully and select the most appropriate option to fill in each blank.

The Chinese rulers were called the Shang. Chinese civilisation is one of the oldest civilisations of the world which (1)\_\_\_\_\_ in north-east China. The Chinese had thought (2)\_\_\_\_\_ a very clever way of casting weapons and pots which were made of bronze. These people first made a rough model of the object they wanted to cast or make. Then, they shaped the clay mould closely (3)\_\_\_\_\_ the prepared model. When the clay was dry, the mould was (4)\_\_\_\_\_ and cut into pieces. These carved pieces were filled with molten bronze and left to cool down. In the final process, the mould was removed and a perfectly formed object was (5)\_\_\_\_\_.

**SubQuestion No : 19**

**Q.19** Select the most appropriate option to fill in blank number 4.

- Ans  1. distanced  
 2. removed  
 3. slipped  
 4. closed

Question ID : 26433088888

Status : Answered

Chosen Option : 2



### Comprehension:

In the following passage, some words have been deleted. Read the passage carefully and select the most appropriate option to fill in each blank.

The Chinese rulers were called the Shang. Chinese civilisation is one of the oldest civilisations of the world which (1)\_\_\_\_\_ in north-east China. The Chinese had thought (2)\_\_\_\_\_ a very clever way of casting weapons and pots which were made of bronze. These people first made a rough model of the object they wanted to cast or make. Then, they shaped the clay mould closely (3)\_\_\_\_\_ the prepared model. When the clay was dry, the mould was (4)\_\_\_\_\_ and cut into pieces. These carved pieces were filled with molten bronze and left to cool down. In the final process, the mould was removed and a perfectly formed object was (5)\_\_\_\_\_.

### SubQuestion No : 20

Q.20 Select the most appropriate option to fill in blank number 5.

- Ans  1. disclosed  
 2. revealed  
 3. dropped  
 4. divulged

Question ID : 26433088889

Status : Answered

Chosen Option : 2

### Section : Part-D-Hindi

Q.1 'जिस पर आक्रमण न किया गया हो' वाक्यांश के लिए एक शब्द है-

- Ans  1. आक्रांत  
 2. आक्रमणशील  
 3. अनाक्रांत  
 4. अनाधिकृत

Question ID : 26433062156

Status : Not Answered

Chosen Option : --

Q.2 निम्नलिखित वाक्यांश के लिए उपयुक्त सार्थक शब्द क्या होगा?  
सरकारी अधिकारियों का शासन

- Ans  1. सरकार  
 2. राजशाही  
 3. शासन  
 4. नौकरशाही

Question ID : 26433073314

Status : Not Answered

Chosen Option : --

Q.3 वर्तनी की दृष्टि से दिए गए वाक्य के अशुद्ध भाग का चयन कीजिए-  
घोषणा की गई कि लोग अपने-अपने हथियार मालखाने में जमा कर दें।

- Ans
- 1. में जमा कर दें।
  - 2. हथियार मालखाने
  - 3. घोषणा की गई
  - 4. कि लोग अपने-अपने

Question ID : 26433062883  
Status : Not Answered  
Chosen Option : --

Q.4 निम्नलिखित मुहावरे का सही अर्थ विकल्पों में से चुनिए।  
छाती पर कोदो दलना

- Ans
- 1. पीछे लगे रहना
  - 2. प्रतिशोधात्मक कष्ट पहुँचाना
  - 3. कुछ भी ध्यान न देना
  - 4. लापरवाह होना

Question ID : 26433070011  
Status : Not Answered  
Chosen Option : --

Q.5 निम्न में से कौन-सा शब्द 'समुद्र' शब्द का पर्यायवाची शब्द है?

- Ans
- 1. अम्बर
  - 2. सागर
  - 3. वारिद
  - 4. नीरज

Question ID : 26433067077  
Status : Not Answered  
Chosen Option : --

Q.6 दिए गए विकल्पों में से कौन सा शब्द निम्नलिखित वाक्य में रेखांकित शब्द का पर्यायवाची नहीं है?  
'समुद्र' पर सेतु का निर्माण करना उन्नत यांत्रिकी का परिणाम है।

- Ans
- 1. रवि
  - 2. पयोधि
  - 3. रत्नाकर
  - 4. अर्णव

Question ID : 26433091342  
Status : Not Answered  
Chosen Option : --

Q.7 शब्द विचार की दृष्टि से क्रिया विशेषण शब्द है-

- Ans
- 1. सकर्मक
  - 2. अकर्मक
  - 3. अविकारी
  - 4. विकारी

Question ID : 26433085047

Status : Not Answered

Chosen Option : --

Q.8 निम्नलिखित मुहावरे के लिए उपयुक्त सार्थक शब्द क्या होगा?  
दांतों तले उंगली दबाना

- Ans
- 1. खुश होना
  - 2. गरीब होना
  - 3. आश्चर्य करना
  - 4. भूखे पेट होना

Question ID : 26433065772

Status : Not Answered

Chosen Option : --

Q.9 'आँवले के रस का उपयोग आपके लिए लाभकारी साबित होगा।' उपरोक्त वाक्य में प्रयुक्त 'उपयोग' शब्द का सही अर्थ क्या होगा?

- Ans
- 1. धोना
  - 2. फायदेमंद
  - 3. पीना
  - 4. लाभकारी

Question ID : 26433080916

Status : Not Answered

Chosen Option : --

Q.10 निम्नलिखित वाक्यांश के लिए सार्थक शब्द चुनिए।  
अवसर के अनुसार बदल जाने वाला

- Ans
- 1. स्वार्थन्वेषी
  - 2. अवसरवादी
  - 3. फायदामंद
  - 4. अवश्यंभावी

Question ID : 26433069981

Status : Not Answered

Chosen Option : --

Q.11 'तुम्हारे तो साँस में दम हो गया।' इस वाक्य में 'साँस' के स्थान पर उपयुक्त शब्द क्या होगा?

- Ans
- 1. आंख
  - 2. सर
  - 3. नाक
  - 4. मुंह

Question ID : 26433066802

Status : Not Answered

Chosen Option : --

Q.12 निम्नलिखित वाक्य के किस शब्द में अशुद्धि है?  
लोग रविवार को छुट्टी मनाते हैं।

- Ans
- 1. रविवार
  - 2. मनाते
  - 3. लोग
  - 4. छुट्टी

Question ID : 26433066769

Status : Not Answered

Chosen Option : --

Q.13 निम्नलिखित विकल्पों में से किस एक वाक्य में 'अनृत' शब्द के लिए उचित विलोम का प्रयोग हुआ है?

- Ans
- 1. वह बेहतर करता है।
  - 2. सत्य की विजय होती है।
  - 3. वह सुन्दर है।
  - 4. वह अपराधी है।

Question ID : 26433091190

Status : Not Answered

Chosen Option : --

Q.14 निम्नलिखित वाक्य में उचित विकल्प चुनकर शब्द बदलें-  
'उसकी भाषा सरल और सुबोधपूर्ण होती है।'

- Ans
- 1. सरस और सुबोधपूर्ण
  - 2. सहज और सुबोधक
  - 3. सरल और सुबोध
  - 4. सरल और सुबोध

Question ID : 26433062807

Status : Not Answered

Chosen Option : --

Q.15 निम्न विकल्पों में से किसमें गलत अपादान कारक का प्रयोग हुआ है?

- Ans  1. वह मुझको अलग रहता है।  
 2. मेरे हाथ से छड़ी छूट पड़ी।  
 3. दूध से दही बनता है।  
 4. वह लखनऊ से आया है।

Question ID : 26433063032

Status : Not Answered

Chosen Option : --

**Comprehension:**

निम्नलिखित गद्यांश में कुछ शब्दों को हटा दिया गया है। दिए गए विकल्पों की सहायता से रिक्त स्थानों की पूर्ति कीजिए। प्रत्येक संख्या के लिए सबसे उपयुक्त विकल्प का चयन कीजिए।

आम एक ऐसा फल है, जो बच्चों को ही नहीं, बड़ों को भी 1. \_\_\_\_\_ है। इसीलिए इसे फलों का राजा कहते हैं। इसकी बहुत सी 2. \_\_\_\_\_ होती हैं। स्वास्थ्य के लिए यह बहुत 3. \_\_\_\_\_ होता है। इसका अचार डाला जाता है, जिसका सब बहुत वर्षों तक 4. \_\_\_\_\_ करते हैं। दूध के साथ इसका रस निकालकर पीया जाता है। यद्यपि बाग से आम तोड़कर खाना चोरी होती है, पर बच्चों के लिए तो यह खेल है, मनोरंजन का 5. \_\_\_\_\_ है।

SubQuestion No : 16

Q.16 रिक्त स्थान 1 की पूर्ति के लिए सबसे उपयुक्त विकल्प का चयन कीजिए।

- Ans  1. आनंद  
 2. नापसंद  
 3. फेंकना  
 4. पसंद

Question ID : 264330111089

Status : Not Answered

Chosen Option : --

**Comprehension:**

निम्नलिखित गद्यांश में कुछ शब्दों को हटा दिया गया है। दिए गए विकल्पों की सहायता से रिक्त स्थानों की पूर्ति कीजिए। प्रत्येक संख्या के लिए सबसे उपयुक्त विकल्प का चयन कीजिए।

आम एक ऐसा फल है, जो बच्चों को ही नहीं, बड़ों को भी 1. \_\_\_\_\_ है। इसीलिए इसे फलों का राजा कहते हैं। इसकी बहुत सी 2. \_\_\_\_\_ होती हैं। स्वास्थ्य के लिए यह बहुत 3. \_\_\_\_\_ होता है। इसका अचार डाला जाता है, जिसका सब बहुत वर्षों तक 4. \_\_\_\_\_ करते हैं। दूध के साथ इसका रस निकालकर पीया जाता है। यद्यपि बाग से आम तोड़कर खाना चोरी होती है, पर बच्चों के लिए तो यह खेल है, मनोरंजन का 5. \_\_\_\_\_ है।

SubQuestion No : 17

Q.17 रिक्त स्थान 2 की पूर्ति के लिए सबसे उपयुक्त विकल्प का चयन कीजिए।

- Ans  1. किस्में  
 2. पेड़ों  
 3. लाभ  
 4. बातें

Question ID : 264330111090

Status : Not Answered

Chosen Option : --

**Comprehension:**

निम्नलिखित गद्यांश में कुछ शब्दों को हटा दिया गया है। दिए गए विकल्पों की सहायता से रिक्त स्थानों की पूर्ति कीजिए। प्रत्येक संख्या के लिए सबसे उपयुक्त विकल्प का चयन कीजिए।  
आम एक ऐसा फल है, जो बच्चों को ही नहीं, बड़ों को भी 1. \_\_\_\_\_ है। इसीलिए इसे फलों का राजा कहते हैं। इसकी बहुत सी 2. \_\_\_\_\_ होती हैं। स्वास्थ्य के लिए यह बहुत 3. \_\_\_\_\_ होता है। इसका अचार डाला जाता है, जिसका सब बहुत वर्षों तक 4. \_\_\_\_\_ करते हैं। दूध के साथ इसका रस निकालकर पीया जाता है। यद्यपि बाग से आम तोड़कर खाना चोरी होती है, पर बच्चों के लिए तो यह खेल है, मनोरंजन का 5. \_\_\_\_\_ है।

**SubQuestion No : 18**

Q.18 रिक्त स्थान 3 की पूर्ति के लिए सबसे उपयुक्त विकल्प का चयन कीजिए।

- Ans  1. नुकसानदेह  
 2. लाभदायक  
 3. अग्निकारक  
 4. विकारक

Question ID : 264330111091

Status : Not Answered

Chosen Option : --

**Comprehension:**

निम्नलिखित गद्यांश में कुछ शब्दों को हटा दिया गया है। दिए गए विकल्पों की सहायता से रिक्त स्थानों की पूर्ति कीजिए। प्रत्येक संख्या के लिए सबसे उपयुक्त विकल्प का चयन कीजिए।  
आम एक ऐसा फल है, जो बच्चों को ही नहीं, बड़ों को भी 1. \_\_\_\_\_ है। इसीलिए इसे फलों का राजा कहते हैं। इसकी बहुत सी 2. \_\_\_\_\_ होती हैं। स्वास्थ्य के लिए यह बहुत 3. \_\_\_\_\_ होता है। इसका अचार डाला जाता है, जिसका सब बहुत वर्षों तक 4. \_\_\_\_\_ करते हैं। दूध के साथ इसका रस निकालकर पीया जाता है। यद्यपि बाग से आम तोड़कर खाना चोरी होती है, पर बच्चों के लिए तो यह खेल है, मनोरंजन का 5. \_\_\_\_\_ है।

**SubQuestion No : 19**

Q.19 रिक्त स्थान 4 की पूर्ति के लिए सबसे उपयुक्त विकल्प का चयन कीजिए।

- Ans  1. मनोरंजन  
 2. इच्छा  
 3. खाना  
 4. सेवन

Question ID : 264330111092

Status : Not Answered

Chosen Option : --

**Comprehension:**

निम्नलिखित गद्यांश में कुछ शब्दों को हटा दिया गया है। दिए गए विकल्पों की सहायता से रिक्त स्थानों की पूर्ति कीजिए। प्रत्येक संख्या के लिए सबसे उपयुक्त विकल्प का चयन कीजिए।  
आम एक ऐसा फल है, जो बच्चों को ही नहीं, बड़ों को भी 1. \_\_\_\_\_ है। इसीलिए इसे फलों का राजा कहते हैं। इसकी बहुत सी 2. \_\_\_\_\_ होती हैं। स्वास्थ्य के लिए यह बहुत 3. \_\_\_\_\_ होता है। इसका अचार डाला जाता है, जिसका सब बहुत वर्षों तक 4. \_\_\_\_\_ करते हैं। दूध के साथ इसका रस निकालकर पीया जाता है। यद्यपि बाग से आम तोड़कर खाना चोरी होती है, पर बच्चों के लिए तो यह खेल है, मनोरंजन का 5. \_\_\_\_\_ है।

**SubQuestion No : 20**

Q.20 रिक्त स्थान 5 की पूर्ति के लिए सबसे उपयुक्त विकल्प का चयन कीजिए।

- Ans
- 1. जीवन
  - 2. साधन
  - 3. प्रकृति
  - 4. प्राप्ति

Question ID : 264330111093

Status : Not Answered

Chosen Option : --

WWW.GOV TJOB SALE