

Constable GD in CAPFs SSF Rifleman GD in Assam Rifles and Sepoy in NCB Examination 2022

Roll Number	www.govtjobsalert.in
Candidate Name	www.govtjobsalert.in
Venue Name	iON Digital Zone iDZ 2 Sector 62
Exam Date	17/01/2023
Exam Time	5:15 PM - 6:15 PM
Subject	Constable GD Examination 2022

Section : Part-A-General Intelligence and Reasoning

Q.1 दर्पण को नीचे दिए गए चित्र के अनुसार MN पर रखे जाने पर दी गई आकृति का दर्पण में निर्मित सही प्रतिबिंब चयनित कीजिए।

M
V e w Q A Z X 5 |
N

- Ans
- 1. 2 X Z A Q W e V
 - 2. 5 X Z V Q W e V
 - 3. 5 X Z A Q W e V
 - 4. 2 X Z A Q W e V

Question ID : 26433080810

Status : Answered

Chosen Option : 4

Q.2 निम्न में से कौन सी संख्या दी गई श्रृंखला में प्रश्नचिह्न (?) के स्थान पर आएगी?
1248, 887, 598, 429, ?, 259, 234

- Ans
- 1. 302
 - 2. 306
 - 3. 329
 - 4. 308

Question ID : 26433076754

Status : Answered

Chosen Option : 4

Q.3 निम्नलिखित में से कौन-सा अक्षर नीचे दी गई अक्षर श्रृंखला में प्रश्न-चिह्न (?) के स्थान पर आकर श्रृंखला को पूर्ण करेगा?
F, P, X, D, H, ?

- Ans
- 1. I
 - 2. K
 - 3. J
 - 4. H

Question ID : 26433067276

Status : Answered

Chosen Option : 3

Q.4 नीचे दिए गए समीकरण को गणितीय रूप से सही बनाने के लिए किन दो चिन्हों को परस्पर बदलना चाहिए?

$$26 - 13 + 39 \div 117 \times 24 = 31$$

- Ans
- 1. + और +
 - 2. - और +
 - 3. - और ×
 - 4. × और +

Question ID : 264330117539

Status : Answered

Chosen Option : 2

Q.5 तीन कथनों के बाद तीन निष्कर्ष I, II और III दिए गए हैं। कथनों को सत्य मानते हुए, भले ही वे सामान्य रूप से ज्ञात तथ्यों से भिन्न प्रतीत होते हों, निर्धारित करें कि कौन-सा/से निष्कर्ष कथनों का तार्किक रूप से अनुसरण करता है/करते हैं।

कथन:

सभी बिल्लियां चूहे हैं।

कुछ चूहे सफेद हैं।

सभी सफेद दूध हैं।

निष्कर्ष:

I. कुछ चूहे बिल्लियां हैं।

II. कुछ सफेद चूहे हैं।

III. कुछ दूध सफेद हैं।

- Ans
- 1. सभी निष्कर्ष अनुसरण करते हैं।
 - 2. निष्कर्ष I और III दोनों अनुसरण करते हैं।
 - 3. निष्कर्ष I और II दोनों अनुसरण करते हैं।
 - 4. निष्कर्ष II और III दोनों अनुसरण करते हैं।

Question ID : 26433074633

Status : Answered

Chosen Option : 1

Q.6 छः विद्यार्थी एक वृत्ताकार मेज के परितः मेज के केंद्र की ओर मुख करके बैठे हैं। A, C के बाईं ओर ठीक बगल में बैठा है। E, D के दाईं ओर तीसरे स्थान पर बैठा है। D, C के ठीक बगल में बैठा है। B, E और F दोनों के ठीक बगल में बैठा है। A के बाईं ओर दूसरे स्थान पर कौन बैठा है?

- Ans
- 1. D
 - 2. F
 - 3. E
 - 4. B

Question ID : 26433079503

Status : Answered

Chosen Option : 4

Q.7 उस समुच्चय का चयन करें, जिसकी संख्याओं के बीच ठीक वही संबंध है, जो संबंध निम्नांकित समुच्चयों की संख्याओं में है।

(नोट: संख्याओं को उसके घटक अंकों में विभाजित किए बिना, पूर्ण संख्याओं पर ही गणितीय संक्रियाएँ की जानी चाहिए। जैसे 13 - मान लीजिए 13 पर गणितीय संक्रियाएँ जैसे कि 13 में जोड़ना/घटाना/गुणा करना आदि किया जा सकता है। 13 को 1 और 3 में तोड़कर और फिर 1 और 3 पर गणितीय संक्रियाएँ करने की अनुमति नहीं है।)

(8, 280, 5)
(11, 308, 4)

- Ans
- 1. (6, 370, 9)
 - 2. (5, 270, 9)
 - 3. (13, 637, 7)
 - 4. (11, 440, 5)

Question ID : 26433076535

Status : Answered

Chosen Option : 3

Q.8 उस विकल्प का चयन करें जो पांचवें पद से उसी प्रकार संबंधित है जैसे दूसरा पद पहले पद से और चौथा पद तीसरे पद से संबंधित है।

COURAGE : EQWTCIG :: POWER: RQYGT :: WISDOM : ?

- Ans
- 1. EQWDOM
 - 2. FOQDOM
 - 3. WISTIG
 - 4. YKUFQO

Question ID : 26433057687

Status : Answered

Chosen Option : 4

Q.9 E - F का अर्थ है 'E, F की माता है'
E ÷ F का अर्थ है 'E, F का पिता है'
E + F का अर्थ है 'E, F की बहन है'
E × F का अर्थ है 'E, F का भाई है'
यदि T × U ÷ D × C है, तो T, C से किस प्रकार संबंधित है?

- Ans 1. पिता
 2. चाचा/ताऊ
 3. दादा/नाना
 4. भाई

Question ID : 26433080429
Status : Answered
Chosen Option : 2

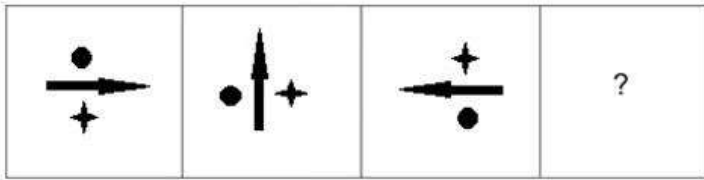
Q.10 नीचे दिए गए समीकरण को गणितीय रूप से सही बनाने के लिए किन दो गणितीय चिह्नों को परस्पर बदलना चाहिए?
 $72 - 12 + 8 \times 6 \div 24 = 30$

- Ans 1. - और +
 2. - और ×
 3. × और ÷
 4. - और ÷

Question ID : 264330114174
Status : Answered
Chosen Option : 4


Q.11 उस आकृति का चयन कीजिए जो नीचे दी गई श्रृंखला में प्रश्न चिह्न (?) के

स्थान पर आएगी।




Ans


✗ 1.



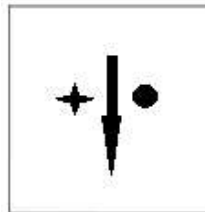
✗ 2.



✗ 3.



✓ 4.



Question ID : 26433070419

Status : Answered

Chosen Option : 4

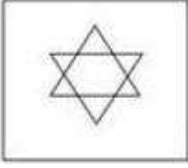
Q.12 निम्न विकल्पों में से उस उत्तर आकृति का चयन करें जिसमें नीचे दी गई प्रश्न आकृति निहित है (आकृति

घुमाने की अनुमति नहीं है)।

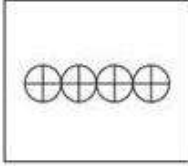


Ans

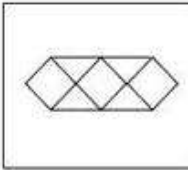
✗ 1.



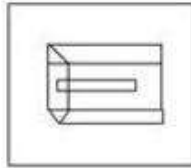
✗ 2.



✗ 3.



✓ 4.



Question ID : 26433070210

Status : Answered

Chosen Option : 4

Q.13 छः मित्र (अमन, बिप्लव, चिरंतन, दिव्या, एलिजाबेथ और फिरोज) एक वृत्ताकार मेज के परितः मेज के केंद्र की ओर मुख करके बैठे हैं। अमन, बिप्लव के बाईं ओर तीसरे स्थान पर बैठा है। चिरंतन, अमन के ठीक बगल में है। एलिजाबेथ, दिव्या के दाईं ओर दूसरे स्थान पर बैठी है। चिरंतन, दिव्या के ठीक बगल में नहीं है। बिप्लव और फिरोज के बीच में कौन बैठा/बैठी है?

Ans

✓ 1. दिव्या

✗ 2. चिरंतन

✗ 3. एलिजाबेथ

✗ 4. अमन

Question ID : 26433092770

Status : Answered

Chosen Option : 1

Q.14 एक निश्चित कूट भाषा में 'TRIP' को GIRK और 'FAST' को UZHG के रूप में कूटबद्ध किया जाता है। उसी भाषा में 'HOME' को किस प्रकार कूटबद्ध किया जाएगा?

- Ans
- 1. FMKB
 - 2. GNLD
 - 3. TMOW
 - 4. SLNV

Question ID : 26433074513
Status : Answered
Chosen Option : 4

Q.15 एक निश्चित कूट भाषा में, यदि BROTHER को 14 के रूप में और ACTIVE को 12 के रूप में कूटबद्ध किया जाता है, तो उसी भाषा में CHOCOLATE को कैसे कूटबद्ध किया जाएगा?

- Ans
- 1. 15
 - 2. 18
 - 3. 20
 - 4. 16

Question ID : 26433068065
Status : Answered
Chosen Option : 2

Q.16 निम्नलिखित में से कौन-सा अक्षर-समूह दी गई श्रृंखला में प्रश्न-चिह्न (?) के स्थान पर आएगा?
BTWH, DRUJ, FPSL, ?, JLOP

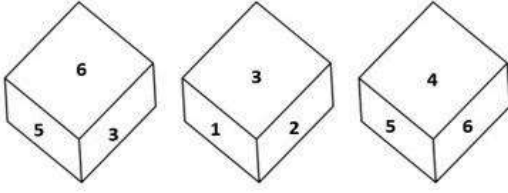
- Ans
- 1. HNPN
 - 2. HNQN
 - 3. HMPN
 - 4. INPN

Question ID : 26433076443
Status : Answered
Chosen Option : 2

Q.17

एक ही पासे की तीन अलग-अलग स्थितियाँ दर्शायी गई हैं। '4' दर्शाने वाले

फलक के विपरीत वाले फलक पर आने वाली संख्या ज्ञात कीजिए।



- Ans
- 1. 2
 - 2. 1
 - 3. 3
 - 4. 6

Question ID : 26433082889

Status : Answered

Chosen Option : 3

Q.18 निम्न श्रंखला में प्रश्न-चिह्न (?) के स्थान पर कौन सी संख्या आएगी?
24, 26, ?, 164, 658, 3292

- Ans
- 1. 96
 - 2. 72
 - 3. 88
 - 4. 54

Question ID : 26433068969

Status : Answered

Chosen Option : 4

Q.19 उस विकल्प का चयन कीजिए, जो तीसरे शब्द से उसी प्रकार संबंधित है, जैसे दूसरा शब्द, पहले शब्द से संबंधित है। (शब्दों को अर्थपूर्ण शब्दों के रूप में माना जाना चाहिए और शब्द में अक्षरों की संख्या / व्यंजनों की संख्या / स्वरों की संख्या के आधार पर एक दूसरे से संबंधित नहीं किया जाना चाहिए।)
उत्तर प्रदेश : लखनऊ :: ओडिशा : ?

- Ans
- 1. भुवनेश्वर
 - 2. गांधीनगर
 - 3. पटना
 - 4. बेंगलुरु

Question ID : 26433081080

Status : Answered

Chosen Option : 1

Q.20 किस विकल्प में निम्नलिखित शब्दों का वह क्रम दिया गया है, जिस क्रम में वे अंग्रेजी शब्दकोश में आते हैं?

- 1 Brown
- 2 Brand
- 3 Brunch
- 4 Branch
- 5 Brimming

Ans 1. 4,2,5,1,3

2. 4,3,5,1,2

3. 3,4,5,2,1

4. 2,4,5,1,3

Question ID : 26433069257

Status : Answered

Chosen Option : 1

Section : Part-B-General Knowledge and General awareness

Q.1 अर्थशास्त्र में, CRR का पूर्ण रूप क्या है?

Ans 1. Cash Reserve Ratio (कैश रिज़र्व रेशियो)

2. Cash Rationing Reserve (कैश राशनिंग रिज़र्व)

3. Cash Rate Ratio (कैश रेट रेशियो)

4. Capital Reserve Ratio (कैपिटल रिज़र्व रेशियो)

Question ID : 264330115326

Status : Answered

Chosen Option : 1

Q.2 निम्नलिखित में से कौन-सा एक मौलिक कर्तव्य है?

Ans 1. सार्वजनिक संपत्ति की रक्षा करना और हिंसा से दूर रहना

2. सार्वजनिक संपत्ति को खतरे में डालना और हिंसा से दूर रहना

3. सार्वजनिक संपत्ति की रक्षा करना और हिंसा को स्वीकार करना

4. सार्वजनिक संपत्ति की रक्षा करना और हिंसा को उजागर करना

Question ID : 26433089952

Status : Answered

Chosen Option : 1

Q.3 निम्नलिखित में से कौन सा भारतीय चिकित्सा अनुसंधान परिषद द्वारा सुझाए गए पांच मूलभूत खाद्य समूहों में से एक नहीं है?

Ans 1. दूध और मांस उत्पाद

2. दालें और फलियां

3. कार्बोहाइड्रेट और प्रोटीन

4. वसा और शर्करा

Question ID : 264330115216

Status : Answered

Chosen Option : 1

Q.4 निम्नलिखित में से किस कलाकार ने 2000 में पद्म विभूषण पुरस्कार जीता है?

- Ans
- 1. पंडित बिरजू महाराज
 - 2. जतिन गोस्वामी
 - 3. अमाला अक्किनेनी
 - 4. केलूचरण महापात्रा

Question ID : 264330115833
Status : Not Answered
Chosen Option : --

Q.5 लोक नृत्य 'लम्बाड़ी' किस भारतीय राज्य से संबंधित है?

- Ans
- 1. कर्नाटक
 - 2. असम
 - 3. आंध्र प्रदेश
 - 4. बिहार

Question ID : 26433072924
Status : Answered
Chosen Option : 1

Q.6 1913 में, दादासाहेब फाल्के द्वारा निर्देशित फिल्म, 'राजा हरिश्चन्द्र' को _____ की पहली फुल लेंथ फिल्म माना जाता है।

- Ans
- 1. बांग्लादेश
 - 2. भारत
 - 3. पाकिस्तान
 - 4. नेपाल

Question ID : 264330115707
Status : Answered
Chosen Option : 2

Q.7 मैसूर दशहरा महोत्सव कर्नाटक में मनाया जाने वाला एक _____-दिन का त्योहार है।

- Ans
- 1. 12
 - 2. 7
 - 3. 5
 - 4. 10

Question ID : 264330115079
Status : Not Answered
Chosen Option : --

Q.8 भारत में पहला सीमेंट संयंत्र किस वर्ष में स्थापित किया गया था?

- Ans
- 1. 1974
 - 2. 2014
 - 3. 2004
 - 4. 1904

Question ID : 264330115573
Status : Not Answered
Chosen Option : --

Q.9 निम्नलिखित में से कौन सा कायांतरित चट्टानों का उदाहरण नहीं है?

- Ans
- 1. ग्रेनाइट
 - 2. शीस्ट
 - 3. नाइस
 - 4. कार्टजाइट

Question ID : 26433089662
Status : Answered
Chosen Option : 2

Q.10 केंद्र सरकार की दूसरी जनसंख्या नीति, राष्ट्रीय जनसंख्या नीति (NPP) भारत में किस वर्ष में बनाई गई थी?

- Ans
- 1. 2000
 - 2. 1998
 - 3. 2005
 - 4. 2002

Question ID : 264330116042
Status : Answered
Chosen Option : 4

Q.11 सुकन्या समृद्धि योजना खाता बालिका के माता-पिता या कानूनी अभिभावकों द्वारा बालिका के _____ की होने से पहले कभी भी खोला जा सकता है।

- Ans
- 1. 12 वर्ष की आयु
 - 2. 10 वर्ष की आयु
 - 3. 18 वर्ष की आयु
 - 4. 16 वर्ष की आयु

Question ID : 264330116179
Status : Answered
Chosen Option : 4

Q.12 एन बीरेन सिंह मार्च 2022 में भारत के _____ राज्य के मुख्यमंत्री बने।

- Ans 1. मणिपुर
 2. नागालैंड
 3. मिजोरम
 4. असम

Question ID : 264330114893
Status : Answered
Chosen Option : 4

Q.13 ड्यूरालुमिन एल्युमिनियम और _____ से बना मिश्रधातु है।

- Ans 1. जिंक
 2. ताँबा
 3. टिन
 4. निकल

Question ID : 264330115141
Status : Not Answered
Chosen Option : --

Q.14 भारतीय संविधान का कौन सा अनुच्छेद राज्यपाल की क्षमादान की शक्ति से संबंधित है?

- Ans 1. अनुच्छेद 55
 2. अनुच्छेद 161
 3. अनुच्छेद 163
 4. अनुच्छेद 145

Question ID : 26433074905
Status : Answered
Chosen Option : 2

Q.15 निम्नलिखित में से कौन सा सबसे पुराना वेद है?

- Ans 1. सामवेद
 2. यजुर्वेद
 3. अथर्ववेद
 4. ऋग्वेद

Question ID : 264330115439
Status : Answered
Chosen Option : 4

Q.16 एशियाई खेल 2018 में कितने देशों ने भाग लिया था?

- Ans 1. 50
 2. 46
 3. 45
 4. 52

Question ID : 264330115908
Status : Not Answered
Chosen Option : --

Q.17 कौन-सी पंचवर्षीय योजना बुनियादी ढांचे के विकास, यानी बिजली और परिवहन पर केंद्रित थी?

- Ans
- 1. दूसरी
 - 2. तीसरी
 - 3. पहली
 - 4. चौथी

Question ID : 26433064861
Status : Answered
Chosen Option : 1

Q.18 एफ.आई.एच (FIH) पुरुष हॉकी विश्व कप 2018 किस देश द्वारा आयोजित किया गया था?

- Ans
- 1. बेल्जियम
 - 2. स्पेन
 - 3. पाकिस्तान
 - 4. भारत

Question ID : 26433086730
Status : Answered
Chosen Option : 2

Q.19 _____ ने भारत में योजना आयोग को प्रतिस्थापित किया।

- Ans
- 1. नीति आयोग
 - 2. भारतीय प्रतिभूति एवं विनियम बोर्ड
 - 3. भारतीय प्रतिस्पर्धा आयोग
 - 4. वित्त अयोग

Question ID : 264330115359
Status : Answered
Chosen Option : 1

Q.20 अक्टूबर 2022 में, स्लोवाक गणराज्य में भारत के अगले राजदूत के रूप में नियुक्त किसे किया गया?

- Ans
- 1. सिबी जॉर्ज
 - 2. सुचित्रा दुरई
 - 3. तरनजीत सिंह संधू
 - 4. अपूर्व श्रीवास्तव

Question ID : 264330115029
Status : Not Answered
Chosen Option : --

Q.1

$\{(6 + 4) + (12 \div 4 \times 2)\} + 1\frac{1}{3} \times 9 \div 3 + 1\frac{2}{3}$ का मान क्या होगा?

Ans

1. $\frac{55}{3}$

2. $\frac{65}{3}$

3. $\frac{23}{3}$

4. $\frac{17}{3}$

Question ID : 26433075178

Status : Answered

Chosen Option : 2

Q.2 एक वृत्ताकार ट्रैक के परितः एक दौड़ में एक एथलीट पहले राउंड में 10 m/sec की चाल से, दूसरे राउंड में 20 m/sec की चाल से और तीसरे राउंड में 30 m/sec की चाल से दौड़ता है। दौड़ में उसकी औसत चाल (m/sec में) ज्ञात करें। (दो दशमलव स्थान तक सही)

Ans

1. 16.67

2. 16.36

3. 15.56

4. 15.15

Question ID : 26433079916

Status : Answered

Chosen Option : 2

Q.3 एक एसी का अंकित मूल्य 36800 रुपए हैं। दुकानदार इस पर 11 प्रतिशत की ऑफ सीजन छूट प्रदान करता है। एसी का विक्रय मूल्य है:

Ans

1. 33842 रुपए

2. 34600 रुपए

3. 31640 रुपए

4. 32752 रुपए

Question ID : 264330116748

Status : Answered

Chosen Option : 4

Q.4 अर्ध-वार्षिक रूप से देय 2% वार्षिक नॉमिनल रेट के अनुरूप प्रभावी वार्षिक ब्याज दर _____ है।

Ans

1. 4.2%

2. 2.1%

3. 2.01%

4. 4.02%

Question ID : 26433080126

Status : Answered

Chosen Option : 3

Q.5 $\frac{7}{8}, \frac{13}{16}, \frac{31}{40}, \frac{63}{80}$ भिन्नो का सही अवरोही क्रम क्या है?

- Ans
- ✓ 1. $\frac{7}{8} > \frac{13}{16} > \frac{63}{80} > \frac{31}{40}$
 - ✗ 2. $\frac{7}{8} > \frac{13}{16} > \frac{31}{40} > \frac{63}{80}$
 - ✗ 3. $\frac{7}{8} > \frac{63}{80} > \frac{13}{16} > \frac{31}{40}$
 - ✗ 4. $\frac{13}{16} > \frac{7}{8} > \frac{63}{80} > \frac{31}{40}$

Question ID : 26433073086

Status : Answered

Chosen Option : 1

Q.6 एक कार्य को रिया 12 दिनों में, रीता 18 दिनों में और गीता 24 दिनों में पूरा कर सकती है। रीता और गीता ने 6 दिनों तक एक साथ मिलकर कार्य किया और फिर गीता की जगह रिया ने ले ली। कार्य को कुल मिलाकर कितने दिनों में पूरा किया गया?

- Ans
- ✗ 1. 12 दिन
 - ✗ 2. 17 दिन
 - ✓ 3. 9 दिन
 - ✗ 4. 8 दिन

Question ID : 26433065007

Status : Answered

Chosen Option : 3

Q.7 6 cm भुजा वाले एक समबाहु त्रिभुज के कोनों को काटकर एक सम-षट्भुज बनाया जाता है। इस सम-षट्भुज का क्षेत्रफल ज्ञात करें।

- Ans
- ✗ 1. $6\sqrt{2} \text{ cm}^2$
 - ✓ 2. $6\sqrt{3} \text{ cm}^2$
 - ✗ 3. 6 cm^2
 - ✗ 4. $3\sqrt{3} \text{ cm}^2$

Question ID : 26433075279

Status : Answered

Chosen Option : 2

Q.8 रमेश ने कुछ पैसे उधार लिए और पहले वर्ष के अंत में Rs.4,565 और दूसरे वर्ष के अंत में Rs.6,534 के भुगतान द्वारा इसे चुकता करने के लिए सहमत हो गया। यदि चक्रवृद्धि ब्याज की दर 10% वार्षिक है, तो रमेश द्वारा उधार ली गई राशि ज्ञात कीजिए।

- Ans
- ✗ 1. Rs.9,660
 - ✗ 2. Rs.9,440
 - ✗ 3. Rs.9,330
 - ✓ 4. Rs.9,550

Question ID : 26433064991

Status : Answered

Chosen Option : 4

Q.9 40 वस्तुओं का विक्रय मूल्य 60 वस्तुओं के क्रय मूल्य के बराबर है। लाभ प्रतिशत ज्ञात करें।

- Ans
- 1. 40 प्रतिशत
 - 2. 30 प्रतिशत
 - 3. 60 प्रतिशत
 - 4. 50 प्रतिशत

Question ID : 26433079859

Status : Answered

Chosen Option : 4

Q.10 A, B और C एक कार्य को क्रमशः 42, 56 और 63 दिनों में कर सकते हैं। उन्होंने एक साथ काम शुरू किया लेकिन A ने काम पूरा होने से 10 दिन पहले छोड़ दिया जबकि B ने काम पूरा होने से 12 दिन पहले छोड़ दिया। कुल कार्य को पूरा करने में लगने वाले दिनों की संख्या (लगभग) ज्ञात करें।

- Ans
- 1. 15 दिन
 - 2. 25 दिन
 - 3. 24 दिन
 - 4. 29 दिन

Question ID : 264330116863

Status : Answered

Chosen Option : 2

Q.11 तीन धावक अमन, रमेश और नरेश एक दौड़ लगाते हैं, जिसमें अमन रमेश से 48 मीटर आगे रहकर और नरेश से 68 मीटर आगे रहकर दौड़ पूरी करता है। इसी लंबाई की एक अन्य दौड़ में, रमेश, नरेश से 25 मीटर आगे रहकर दौड़ पूरी करता है। प्रत्येक धावक पूरी दूरी को स्थिर चाल से तय करता है। दौड़ की लंबाई ज्ञात करें।

- Ans
- 1. 248 मीटर
 - 2. 240 मीटर
 - 3. 244 मीटर
 - 4. 242 मीटर

Question ID : 26433065002

Status : Not Answered

Chosen Option : --

Q.12 यदि $(x - y)$ का 85% = $(x + y)$ का 25% है, तो y, x का कितना प्रतिशत है?

- Ans
- 1. $51\frac{4}{11}\%$
 - 2. $54\frac{6}{11}\%$
 - 3. $55\frac{1}{11}\%$
 - 4. $58\frac{3}{11}\%$

Question ID : 26433076075

Status : Answered

Chosen Option : 2

Q.13 एक व्यक्ति एक पैकेट को, वास्तविक माप से 10% कम वजन का उपयोग करके क्रय मूल्य पर बेचता है। उसका लाभ प्रतिशत क्या है?

Ans

✗ 1. $15\frac{1}{9}\%$

✗ 2. $12\frac{7}{9}\%$

✓ 3. $11\frac{1}{9}\%$

✗ 4. $13\frac{4}{9}\%$

Question ID : 26433076077

Status : Answered

Chosen Option : 3

Q.14 किसी संख्या को 42 से भाग देने पर हमें भागफल के रूप में 120 और शेषफल के रूप में 0 प्राप्त होता है। उसी संख्या को 41 से भाग देने पर शेषफल क्या होगा?

Ans ✗ 1. 40

✗ 2. 37

✓ 3. 38

✗ 4. 39

Question ID : 26433075459

Status : Answered

Chosen Option : 3

Q.15 पंकज एक कुर्सी की बिक्री पर पहले Rs.250 की नकद छूट और फिर 8% और 5% की दो क्रमिक छूट देता है। यदि कुर्सी का अंकित मूल्य Rs.4,250 है, तो दी गई छूट योजना के बाद ग्राहक के लिए कुर्सी का अंतिम मूल्य क्या है?

Ans ✓ 1. Rs.3,496

✗ 2. Rs.3,450

✗ 3. Rs.3,550

✗ 4. Rs.3,600

Question ID : 26433080318

Status : Answered

Chosen Option : 1

Q.16 2000 मीटर की परिधि वाले एक वृत्ताकार स्टेडियम के परितः 8000 मीटर की एक दौड़ में, सबसे तेज़ धावक रोहन और सबसे धीमा धावक सोहम, एक ही बिंदु से दौड़ना शुरू करते हैं और दौड़ शुरू होने के बाद 10 वें मिनट के अंत में आरंभिक बिंदु पर एक साथ पहली बार पहुंचते हैं। यदि रोहन, सोहम की दुगुनी चाल से दौड़ता है, तो रोहन को दौड़ समाप्त करने में कितना समय लगेगा?

- Ans
- 1. 10 मिनट
 - 2. 15 मिनट
 - 3. 25 मिनट
 - 4. 20 मिनट

Question ID : 26433073153

Status : Answered

Chosen Option : 3

Q.17 एक नया घन बनाने के लिए 5 cm, 4 cm और 3 cm भुजा वाले तीन घनों को पिघलाया जाता है। उस नए घन के विकर्ण की लंबाई ज्ञात कीजिए।

- Ans
- 1. $6\sqrt{3}$ cm
 - 2. $9\sqrt{3}$ cm
 - 3. $2\sqrt{3}$ cm
 - 4. $3\sqrt{3}$ cm

Question ID : 26433074946

Status : Answered

Chosen Option : 2

Q.18 A और B की आयु का अनुपात क्रमशः 5 : 8 है। 8 वर्ष बाद, उनकी आयु का अनुपात 3 : 4 होगा। उनकी वर्तमान आयु का योग क्या है?

- Ans
- 1. 13 वर्ष
 - 2. 52 वर्ष
 - 3. 39 वर्ष
 - 4. 26 वर्ष

Question ID : 26433075193

Status : Answered

Chosen Option : 4

Q.19 प्रथम 16 प्राकृत संख्याओं का औसत क्या है?

- Ans
- 1. 7.3
 - 2. 6.5
 - 3. 9.7
 - 4. 8.5

Question ID : 26433074949

Status : Answered

Chosen Option : 4

Q.20 एक चुनाव में, एक प्रत्याशी जिसने 70% मत पाए, 500 मतों के बहुमत से चुन लिया गया है। मतों की कुल संख्या क्या है?

- Ans 1. 1500
 2. 1250
 3. 500
 4. 2100

Question ID : 26433073001
Status : Answered
Chosen Option : 2

Section : Part-D-English

Q.1 Select the correct word for the blanks in the given sentence.

My sister _____ lift a box of 5 kilograms and I have a _____ of carrot juice.

- Ans 1. tank
 2. can
 3. could
 4. bottle

Question ID : 26433060530
Status : Not Answered
Chosen Option : --

Q.2 Select the most appropriate ANTONYM of the given word.

Nadir

- Ans 1. Zenith
 2. Essence
 3. Abyss
 4. Talent

Question ID : 26433071983
Status : Not Answered
Chosen Option : --

Q.3 Select the most appropriate homonym to fill in the blank.

He was supposed to _____ this work.

- Ans 1. do
 2. due
 3. doux
 4. dew

Question ID : 26433089074
Status : Not Answered
Chosen Option : --

Q.4 Select the correct spelling of the underlined word in the following sentence.

The cowboys were injured badly as they were involved in a dual.

- Ans
- 1. duet
 - 2. dwell
 - 3. duel
 - 4. duell

Question ID : 26433072368
Status : Not Answered
Chosen Option : --

Q.5 Select the most appropriate option to fill in the blank.

Each and every individual has the _____ to follow her/his own religion.

- Ans
- 1. compulsion
 - 2. economy
 - 3. freedom
 - 4. expulsion

Question ID : 26433071881
Status : Not Answered
Chosen Option : --

Q.6 Select the INCORRECTLY spelt word.

- Ans
- 1. Psalm
 - 2. Intermittence
 - 3. Cholera
 - 4. Phlegm

Question ID : 26433073606
Status : Not Answered
Chosen Option : --

Q.7 Select the most appropriate ANTONYM of the given word.

Sensitive

- Ans
- 1. Numb
 - 2. Understanding
 - 3. Precise
 - 4. Diplomatic

Question ID : 26433093427
Status : Not Answered
Chosen Option : --

Q.8 The following sentence has been divided into parts. One of them may contain an error. Select the part that contains the error from the given options.

I will driving/ you to/ the station/ in the morning.

- Ans
- 1. you to
 - 2. in the morning
 - 3. I will driving
 - 4. the station

Question ID : 26433089824
Status : Not Answered
Chosen Option : --

Q.9 Select the most appropriate meaning of the given idiom.

Miss the boat

- Ans
- 1. Boat will leave on time
 - 2. Fail to take advantage of an opportunity
 - 3. Opportunity never knocks twice
 - 4. It is late for the boat

Question ID : 26433072758
Status : Not Answered
Chosen Option : --

Q.10 Select the most appropriate synonym of the given word.

Brazen

- Ans
- 1. Bold
 - 2. Courteous
 - 3. Loyal
 - 4. Meek

Question ID : 26433086486
Status : Not Answered
Chosen Option : --

Q.11 Select the most appropriate option to substitute the underlined segment in the given sentence.

The subsequent QR codes will helping you access the data.

- Ans
- 1. helped you access
 - 2. help you access
 - 3. help you accessed
 - 4. helps you access

Question ID : 26433093017
Status : Not Answered
Chosen Option : --

Q.12 Select the most appropriate option that can substitute the underlined segment in the given sentence.

What is the qualities of a good teacher?

- Ans
- 1. is qualities
 - 2. will be a qualities
 - 3. do the qualities
 - 4. are the qualities

Question ID : 26433088985
Status : Not Answered
Chosen Option : --

Q.13 Select the most appropriate synonym of the given word.

Sombre

- Ans
- 1. Accidental
 - 2. Decent
 - 3. Doleful
 - 4. Critical

Question ID : 26433072347
Status : Not Answered
Chosen Option : --

Q.14 Select the most appropriate ANTONYM of the given word.

Camouflage

- Ans
- 1. Bluff
 - 2. Disguise
 - 3. Cloak
 - 4. Reveal

Question ID : 26433073575
Status : Not Answered
Chosen Option : --

Q.15 Select the most appropriate meaning of the given idiom.

Rain on someone's parade

- Ans
- 1. To test and check a brilliant student
 - 2. To restore the disturbed law and order situation
 - 3. To spoil and ruin a happy moment
 - 4. To blame and hurt an innocent child

Question ID : 26433073493
Status : Not Answered
Chosen Option : --

Comprehension:

In the following passage, some words have been deleted. Read the passage carefully and select the most appropriate option to fill in each blank.

The Indian Army, also known as the Bhartiya Thal Sena, is the armed forces' (1)_____ component. It grew from the East India Company's military forces, eventually (2)_____ the British Indian Army and, after independence, the Indian Army. It is regarded as the world's second-largest active army. The Indian Army's purpose is to ensure national (3)_____ and preserve India's sovereignty, territorial integrity, and harmony against external (4)_____ and intimidation. It also entails offering humanitarian assistance and support to the (5)_____ public during natural catastrophes and unforeseen times.

SubQuestion No : 16

Q.16 Select the most appropriate option to fill in blank no. 1.

- Ans 1. private-based
 2. land-based
 3. air-based
 4. water-based

Question ID : 26433058715

Status : Not Answered

Chosen Option : --

Comprehension:

In the following passage, some words have been deleted. Read the passage carefully and select the most appropriate option to fill in each blank.

The Indian Army, also known as the Bhartiya Thal Sena, is the armed forces' (1)_____ component. It grew from the East India Company's military forces, eventually (2)_____ the British Indian Army and, after independence, the Indian Army. It is regarded as the world's second-largest active army. The Indian Army's purpose is to ensure national (3)_____ and preserve India's sovereignty, territorial integrity, and harmony against external (4)_____ and intimidation. It also entails offering humanitarian assistance and support to the (5)_____ public during natural catastrophes and unforeseen times.

SubQuestion No : 17

Q.17 Select the most appropriate option to fill in blank no. 2.

- Ans 1. destructing
 2. reciting
 3. becoming
 4. scrolling

Question ID : 26433058716

Status : Not Answered

Chosen Option : --

Comprehension:

In the following passage, some words have been deleted. Read the passage carefully and select the most appropriate option to fill in each blank.

The Indian Army, also known as the Bhartiya Thal Sena, is the armed forces' (1)_____ component. It grew from the East India Company's military forces, eventually (2)_____ the British Indian Army and, after independence, the Indian Army. It is regarded as the world's second-largest active army. The Indian Army's purpose is to ensure national (3)_____ and preserve India's sovereignty, territorial integrity, and harmony against external (4)_____ and intimidation. It also entails offering humanitarian assistance and support to the (5)_____ public during natural catastrophes and unforeseen times.

SubQuestion No : 18

Q.18 Select the most appropriate option to fill in blank no. 3.

- Ans
- 1. crisis
 - 2. emergency
 - 3. forces
 - 4. security

Question ID : 26433058717

Status : Not Answered

Chosen Option : --

Comprehension:

In the following passage, some words have been deleted. Read the passage carefully and select the most appropriate option to fill in each blank.

The Indian Army, also known as the Bhartiya Thal Sena, is the armed forces' (1)_____ component. It grew from the East India Company's military forces, eventually (2)_____ the British Indian Army and, after independence, the Indian Army. It is regarded as the world's second-largest active army. The Indian Army's purpose is to ensure national (3)_____ and preserve India's sovereignty, territorial integrity, and harmony against external (4)_____ and intimidation. It also entails offering humanitarian assistance and support to the (5)_____ public during natural catastrophes and unforeseen times.

SubQuestion No : 19

Q.19 Select the most appropriate option to fill in blank no. 4.

- Ans
- 1. ministry
 - 2. aggression
 - 3. exports
 - 4. affairs

Question ID : 26433058718

Status : Not Answered

Chosen Option : --

Comprehension:

In the following passage, some words have been deleted. Read the passage carefully and select the most appropriate option to fill in each blank.

The Indian Army, also known as the Bhartiya Thal Sena, is the armed forces' (1)_____ component. It grew from the East India Company's military forces, eventually (2)_____ the British Indian Army and, after independence, the Indian Army. It is regarded as the world's second-largest active army. The Indian Army's purpose is to ensure national (3)_____ and preserve India's sovereignty, territorial integrity, and harmony against external (4)_____ and intimidation. It also entails offering humanitarian assistance and support to the (5)_____ public during natural catastrophes and unforeseen times.

SubQuestion No : 20

Q.20 Select the most appropriate option to fill in blank no. 5.

- Ans 1. exclusive
 2. unusual
 3. literate
 4. general

Question ID : 26433058719

Status : Not Answered

Chosen Option : --

Section : Part-D-Hindi

Q.1 निम्नलिखित विकल्पों में से 'तीनों कालों की बात जानने वाला' वाक्यांश के लिए एक सार्थक शब्द क्या होगा ?

- Ans 1. सर्वशक्तिमान
 2. विद्वान
 3. बुद्धिमान
 4. त्रिकालज्ञ

Question ID : 26433062537

Status : Answered

Chosen Option : 4

Q.2 नीचे दिए मुहावरे का सही अर्थ दिए गए विकल्पों में से चुनिए-
शैतान की आँत

- Ans 1. बुरी बात
 2. लम्बी बात
 3. कड़वी बात
 4. धोखे की बात

Question ID : 26433062313

Status : Answered

Chosen Option : 3

Q.3 "बाज़ार में अधिक कोलाहल था।"
उक्त वाक्य में प्रयुक्त 'कोलाहल' के स्थान पर उसके विलोम शब्द का प्रयोग निम्न में से किस वाक्य में किया गया है?

- Ans
- 1. बाज़ार में अधिक शोर था।
 - 2. बाज़ार में अधिक हलचल थी।
 - 3. बाज़ार में अधिक शांति थी।
 - 4. बाज़ार में अधिक लोग थे।

Question ID : 26433067019
Status : Answered
Chosen Option : 3

Q.4 'पृथ्वी अपने अक्ष पर घूमती है।' इस वाक्य में प्रयुक्त 'अक्ष' शब्द निम्न में से किस अर्थ को व्यक्त करता है?

- Ans
- 1. धुरी
 - 2. आत्मा
 - 3. पासा
 - 4. पहिया

Question ID : 26433069730
Status : Answered
Chosen Option : 1

Q.5 निम्नलिखित वाक्य के किस खंड में त्रुटि है?
माता-पिता का आदर रखना चाहिए।

- Ans
- 1. आदर
 - 2. माता-पिता
 - 3. रखना
 - 4. का

Question ID : 26433066762
Status : Answered
Chosen Option : 3

Q.6 'देश में विदेश से माल आने की क्रिया' वाक्यांश के लिए उचित शब्द बताइए -

- Ans
- 1. आयात
 - 2. निर्यात
 - 3. निगमन
 - 4. आगमन

Question ID : 26433065914
Status : Answered
Chosen Option : 1

Q.7 दूध में कौन पड़ गया?
उपरोक्त वाक्य में रेखांकित शब्द के स्थान पर कौनसा शब्द उचित होगा?

- Ans
- 1. मैं
 - 2. कोई
 - 3. यह
 - 4. क्या

Question ID : 26433062201
Status : Answered
Chosen Option : 4

Q.8 अध्यापक ने प्रखर को समझाया कि दूसरों पर निर्भर रहकर जीवन में सफलता नहीं मिलती, यहाँ तो
पड़ती है।
रिक्त स्थान की पूर्ति उचित मुहावरे द्वारा कीजिए।

- Ans
- 1. अपनी पगड़ी अपने हाथ
 - 2. अपनी करनी पार उतरनी
 - 3. अपनी ढपली अपना राग
 - 4. आगे कुआँ पीछे खाई

Question ID : 26433062601
Status : Answered
Chosen Option : 2

Q.9 निम्नलिखित में से किस वाक्य में विशेषण सम्बन्धी अशुद्धि है?

- Ans
- 1. वह एक भले आदमी हैं।
 - 2. इस गाँव में बाढ़ से क्षति हुई।
 - 3. यह डाल बहुत मोटी है।
 - 4. सबसे मीठा बोलो।

Question ID : 26433062997
Status : Answered
Chosen Option : 3

Q.10 'लालकिला पूरे भारत में प्रख्यात एक ऐतिहासिक इमारत है।' ऊपर दिए वाक्य में रेखांकित शब्द का पर्यायवाची क्या होगा?

- Ans
- 1. प्रसिद्ध
 - 2. परिपूर्ण
 - 3. कुख्यात
 - 4. पूर्ण

Question ID : 26433085103
Status : Answered
Chosen Option : 3

Q.11 'चास' का अर्थ है, 'जुताई'। परंतु 'चाष' का अर्थ प्रकट करने वाले शब्द से निम्न वाक्य पूर्ण कीजिए। हमने _____ कभी नहीं देखा।

- Ans
- 1. शतुरमुर्ग
 - 2. नीलकंठ पक्षी
 - 3. काकतुआ
 - 4. पंडुक पक्षी

Question ID : 26433063080
Status : Answered
Chosen Option : 4

Q.12 निम्नलिखित वाक्य में रेखांकित खंड के स्थान पर प्रयुक्त होने वाले सबसे उपयुक्त विकल्प का चयन कीजिए।
पूजनीय पिता जी का आदेश है।

- Ans
- 1. पूज्य
 - 2. पावन
 - 3. परम
 - 4. पाहन

Question ID : 26433079663
Status : Answered
Chosen Option : 1

Q.13 निम्नलिखित वाक्य के किस शब्द में अशुद्धि है?
उसकि गर्दन शर्म से नीची थी।

- Ans
- 1. नीची
 - 2. उसकि
 - 3. गर्दन
 - 4. शर्म

Question ID : 26433066763
Status : Answered
Chosen Option : 2

Q.14 दिए गए वाक्यों में से किस वाक्य में सही विभक्ति चिह्न का प्रयोग नहीं हुआ है?

- Ans
- 1. मैदान में कुछ बच्चे झूलों पर झूल रहे हैं।
 - 2. गेंद खेलने में अन्य लोगों पर चोट लग सकती है।
 - 3. मैदान में इस तरह गेंद से खेलना ठीक नहीं।
 - 4. कुछ बच्चों के हाथों में गेंद है।

Question ID : 26433062864
Status : Answered
Chosen Option : 2

Q.15 'जिसके आने की तिथि न हो' वाक्यांश के लिए सार्थक शब्द है-

- Ans
- 1. अग्रज
 - 2. सतिथि
 - 3. विस्थापित
 - 4. अतिथि

Question ID : 26433065858

Status : Answered

Chosen Option : 4

Comprehension:

निम्नलिखित गद्यांश में कुछ शब्दों को हटा दिया गया है। दिए गए विकल्पों की सहायता से रिक्त स्थानों की पूर्ति कीजिए। प्रत्येक संख्या के लिए सबसे उपयुक्त विकल्प का चयन कीजिए।
होली का त्यौहार प्रति वर्ष 1. _____ मास की पूर्णिमा को मनाया जाता है। पूर्णिमा की रात्रि को 2. _____ का दहन होता है। सभी 3. _____ भुलाकर एक-दूसरे पर रंग डालते हैं। रंगों का पर्व होली 4. _____ दृष्टि से विशेष महत्व रखता है। इस दिन शत्रु भी अपनी 5. _____ भुलाकर मित्र बन जाते हैं।

SubQuestion No : 16

Q.16 रिक्त स्थान 1 की पूर्ति के लिए सबसे उपयुक्त विकल्प का चयन करें।

- Ans
- 1. फाल्गुन
 - 2. भाद्रपद
 - 3. वैशाख
 - 4. कार्तिक

Question ID : 264330110855

Status : Answered

Chosen Option : 1

Comprehension:

निम्नलिखित गद्यांश में कुछ शब्दों को हटा दिया गया है। दिए गए विकल्पों की सहायता से रिक्त स्थानों की पूर्ति कीजिए। प्रत्येक संख्या के लिए सबसे उपयुक्त विकल्प का चयन कीजिए।
होली का त्यौहार प्रति वर्ष 1. _____ मास की पूर्णिमा को मनाया जाता है। पूर्णिमा की रात्रि को 2. _____ का दहन होता है। सभी 3. _____ भुलाकर एक-दूसरे पर रंग डालते हैं। रंगों का पर्व होली 4. _____ दृष्टि से विशेष महत्व रखता है। इस दिन शत्रु भी अपनी 5. _____ भुलाकर मित्र बन जाते हैं।

SubQuestion No : 17

Q.17 रिक्त स्थान 2 की पूर्ति के लिए सबसे उपयुक्त विकल्प का चयन करें।

- Ans
- 1. सुर्पणखा
 - 2. होलिका
 - 3. रावण
 - 4. मेघनाद

Question ID : 264330110856

Status : Answered

Chosen Option : 2

Comprehension:

निम्नलिखित गद्यांश में कुछ शब्दों को हटा दिया गया है। दिए गए विकल्पों की सहायता से रिक्त स्थानों की पूर्ति कीजिए। प्रत्येक संख्या के लिए सबसे उपयुक्त विकल्प का चयन कीजिए।
होली का त्यौहार प्रति वर्ष 1. _____ मास की पूर्णिमा को मनाया जाता है। पूर्णिमा की रात्रि को 2. _____ का दहन होता है। सभी 3. _____ भुलाकर एक-दूसरे पर रंग डालते हैं। रंगों का पर्व होली 4. _____ दृष्टि से विशेष महत्व रखता है। इस दिन शत्रु भी अपनी 5. _____ भुलाकर मित्र बन जाते हैं।

SubQuestion No : 18

Q.18 रिक्त स्थान 3 की पूर्ति के लिए सबसे उपयुक्त विकल्प का चयन करें।

- Ans
- 1. काम
 - 2. नाम
 - 3. पर्वों
 - 4. भेद-भाव

Question ID : 264330110857

Status : Answered

Chosen Option : 4

Comprehension:

निम्नलिखित गद्यांश में कुछ शब्दों को हटा दिया गया है। दिए गए विकल्पों की सहायता से रिक्त स्थानों की पूर्ति कीजिए। प्रत्येक संख्या के लिए सबसे उपयुक्त विकल्प का चयन कीजिए।
होली का त्यौहार प्रति वर्ष 1. _____ मास की पूर्णिमा को मनाया जाता है। पूर्णिमा की रात्रि को 2. _____ का दहन होता है। सभी 3. _____ भुलाकर एक-दूसरे पर रंग डालते हैं। रंगों का पर्व होली 4. _____ दृष्टि से विशेष महत्व रखता है। इस दिन शत्रु भी अपनी 5. _____ भुलाकर मित्र बन जाते हैं।

SubQuestion No : 19

Q.19 रिक्त स्थान 4 की पूर्ति के लिए सबसे उपयुक्त विकल्प का चयन करें।

- Ans
- 1. काल्पनिक
 - 2. पौराणिक
 - 3. आधुनिक
 - 4. साहित्यिक

Question ID : 264330110858

Status : Answered

Chosen Option : 2

Comprehension:

निम्नलिखित गद्यांश में कुछ शब्दों को हटा दिया गया है। दिए गए विकल्पों की सहायता से रिक्त स्थानों की पूर्ति कीजिए। प्रत्येक संख्या के लिए सबसे उपयुक्त विकल्प का चयन कीजिए।
होली का त्यौहार प्रति वर्ष 1. _____ मास की पूर्णिमा को मनाया जाता है। पूर्णिमा की रात्रि को 2. _____ का दहन होता है। सभी 3. _____ भुलाकर एक-दूसरे पर रंग डालते हैं। रंगों का पर्व होली 4. _____ दृष्टि से विशेष महत्व रखता है। इस दिन शत्रु भी अपनी 5. _____ भुलाकर मित्र बन जाते हैं।

SubQuestion No : 20

Q.20 रिक्त स्थान 5 की पूर्ति के लिए सबसे उपयुक्त विकल्प का चयन करें।

- Ans
- 1. भाईचारा
 - 2. शत्रुता
 - 3. दोस्ती
 - 4. मतभेद

Question ID : 264330110859

Status : Answered

Chosen Option : 2