

Constable GD in CAPFs SSF Rifleman GD in Assam Rifles and Sepoy in NCB Examination 2022

Roll Number	www.govtjobsalert.in
Candidate Name	www.govtjobsalert.in
Venue Name	iON Digital Zone iDZ4 Patliputra
Exam Date	11/01/2023
Exam Time	11:45 AM - 12:45 PM
Subject	Constable GD Examination 2022

Section : Part-A-General Intelligence and Reasoning

Q.1 तीन कथनों के बाद तीन निष्कर्ष I, II और III दिए गए हैं। कथनों को सत्य मानते हुए, भले ही वे सामान्य रूप से ज्ञात तथ्यों से भिन्न प्रतीत होते हों, निर्णय लीजिए कि कौन-सा/से निष्कर्ष कथनों का तार्किक रूप से अनुसरण करता/करते है/हैं।

कथन:

सभी डिब्बे कुत्ते हैं।

कुछ कुत्ते चूहे हैं।

कुछ चूहे सेब हैं।

निष्कर्ष:

I. कोई डिब्बा कुत्ता नहीं है।

II. कुछ चूहे कुत्ते नहीं हैं।

III. कुछ सेब चूहे हैं।

- Ans 1. केवल निष्कर्ष III अनुसरण करता है।
 2. कोई भी निष्कर्ष अनुसरण नहीं करता है।
 3. केवल निष्कर्ष I अनुसरण करता है।
 4. केवल निष्कर्ष II अनुसरण करता है।

Question ID : 26433081790

Status : Answered

Chosen Option : 1

Q.2 निम्नलिखित में से कौन-सी संख्या दी गई श्रृंखला में प्रश्न-चिह्न (?) के स्थान पर आएगी?
5, 11, 23, 47, 95, ?

- Ans 1. 196
 2. 161
 3. 181
 4. 191

Question ID : 26433082015

Status : Answered

Chosen Option : 4

Q.3 एक निश्चित कूट भाषा में 'CLUTCH' को 'DNXXHN' के रूप में लिखा जाता है और 'CREDIT' को 'DTHHNZ' के रूप में लिखा जाता है। उसी भाषा में 'WALLET' को किस प्रकार लिखा जाएगा?

- Ans
- 1. XCPOJZ
 - 2. XOCPJZ
 - 3. XCOJPZ
 - 4. XCOPJZ

Question ID : 26433068226
Status : Answered
Chosen Option : 4

Q.4 दिए गए विकल्पों में से उस अक्षर-समूह का चयन कीजिए जो निम्न श्रृंखला में प्रश्न-चिह्न (?) के स्थान पर आ सकता है।
HS, PK, XC, FU, ?

- Ans
- 1. MN
 - 2. NM
 - 3. PN
 - 4. PM

Question ID : 26433079037
Status : Answered
Chosen Option : 2

Q.5 उस विकल्प का चयन करें जो पांचवें अक्षर-समूह से उसी प्रकार संबंधित है जिस प्रकार दूसरा अक्षर-समूह पहले अक्षर-समूह से संबंधित है और चौथा अक्षर-समूह तीसरे अक्षर-समूह से संबंधित है।
DGS : PEC :: NST : QQM :: EHK : ?

- Ans
- 1. HFD
 - 2. NFD
 - 3. HJF
 - 4. JFB

Question ID : 26433057743
Status : Answered
Chosen Option : 1

Q.6 निम्नलिखित में से कौन सा विकल्प दी गई श्रृंखला में प्रश्न चिह्न (?) को प्रतिस्थापित करेगा?
416, 341, 276, ?, 176, 141, 116

- Ans
- 1. 211
 - 2. 201
 - 3. 196
 - 4. 221

Question ID : 26433089438
Status : Answered
Chosen Option : 4

Q.7 एक निश्चित कूट भाषा में, 'COMBAT' को 'NPDVCD' के रूप में लिखा जाता है और 'CREATE' को 'FSDGVC' के रूप में लिखा जाता है। उसी भाषा में 'CREDIT' को कैसे लिखा जाएगा?

- Ans
- 1. ERCTID
 - 2. TIDERC
 - 3. FSDVKF
 - 4. ERCVKF

Question ID : 26433090040
Status : Answered
Chosen Option : 3

Q.8 नीचे दिए गए समीकरण को गणितीय रूप से सही बनाने के लिए किन दो चिन्हों को परस्पर बदलना चाहिए?

$$54 \times 8 - 48 \div 12 + 27 = 24$$

- Ans
- 1. \div और $-$
 - 2. $+$ और \div
 - 3. $+$ और \times
 - 4. $-$ और $+$

Question ID : 264330117556
Status : Answered
Chosen Option : 2

WWW.GOVtJOBSAlert.in

Q.9 दिए गए विकल्पों में से उस आकृति का चयन करें जो निम्न श्रृंखला में

प्रश्नवाचक चिन्ह (?) के स्थान पर आ सकती है।

X ↑ = C	= C M ↑	M ↑ ☆ C	☆ C S ↑	?
------------------	------------------	------------------	------------------	---

Ans

✓ 1.

S ↑ T C

✗ 2.

S ↑ ☆ C

✗ 3.

S ↑ C T

✗ 4.

↑ S T C

Question ID : 26433080755

Status : Answered

Chosen Option : 1

Q.10 निम्नलिखित में से कौन-सा पद दी गई श्रृंखला में प्रश्न-चिह्न (?) के स्थान पर आएगा?
QCSD, ?, WGQZ, ZIPX, CKOV

Ans ✗ 1. RETB

✓ 2. TERB

✗ 3. ERTB

✗ 4. BTER

Question ID : 26433068987

Status : Answered

Chosen Option : 2

Q.11 गणितीय चिह्नों के उस सही संयोजन का चयन कीजिए जिसे क्रमिक रूप से * चिह्नों के स्थान पर रखने पर समीकरण संतुलित हो जाएगा।
 $14 * 1 * 15 * 75 * 21 = 30$

Ans 1. -, +, x, +

2. -, x, +, +

3. x, +, +, -

4. +, -, +, x

Question ID : 26433091646

Status : Answered

Chosen Option : 1

Q.12 आठ व्यक्ति, A, B, C, D, E, F, G और H एक सीधी पंक्ति में उत्तर की ओर मुख करके बैठे हैं। A के बाईं ओर केवल तीन व्यक्ति बैठे हैं। B, A के दाईं ओर तीसरे स्थान पर बैठा है। B और D के बीच केवल चार व्यक्ति बैठे हैं। F, G के दाईं ओर ठीक बगल में बैठा है। C, पंक्ति के किसी भी सिरे पर नहीं बैठा है। E, H के दाईं ओर किसी एक स्थान पर बैठा है। H और A के बीच कितने व्यक्ति बैठे हैं?

Ans 1. एक

2. तीन

3. दो

4. कोई नहीं

Question ID : 26433092419

Status : Answered

Chosen Option : 3

Q.13 'P % Q' का अर्थ है 'P, Q का भाई है'।
'P + Q' का अर्थ है 'P, Q की बेटी है'।
'P = Q' का अर्थ है 'P, Q का बेटा है'।
'P # Q' का अर्थ है 'P, Q की पत्नी है'।
यदि $A + B \% C = D \# F$ है, तो F, A से किस प्रकार संबंधित है?

Ans 1. ताई/चाची

2. नानी

3. दादा

4. ताऊ/चाचा

Question ID : 26433086999

Status : Answered

Chosen Option : 3

Q.14 उस विकल्प का चयन कीजिए जो नीचे दिए गए शब्दों के उस क्रम को निरूपित करता है जिस क्रम में वे अंग्रेजी शब्दकोश में आते हैं।

1. PURVEY
2. PURSE
3. PURPLE
4. PURELY
5. PUTTER
6. PUSTULE

Ans 1. 3, 4, 2, 1, 6, 5
 2. 6, 5, 4, 3, 2, 1
 3. 4, 3, 2, 1, 6, 5
 4. 3, 4, 2, 1, 5, 6

Question ID : 26433079377

Status : Answered

Chosen Option : 3

Q.15 आठ व्यक्ति दो समानांतर पंक्तियों में, प्रत्येक में 4 व्यक्ति के अनुसार इस प्रकार बैठे हैं कि आसन्न व्यक्तियों के बीच की दूरी समान है तथा एक पंक्ति के व्यक्ति दूसरी पंक्ति के व्यक्तियों की ओर मुख करके बैठे हुए हैं।

पंक्ति I में - 6, 7, 8 और 9 बैठे हैं, और उन सभी का मुख दक्षिण की ओर है।

पंक्ति II में - 1, 2, 3 और 4 बैठे हैं, और उन सभी का मुख उत्तर की ओर है।

9, उनकी पंक्ति के अंतिम बाएं सिरे पर बैठे व्यक्ति के बगल में बैठा है, और 4 के ठीक सामने है। 3

उनकी पंक्ति के अंतिम बाएं सिरे पर बैठा है, और 2 उसके ठीक बगल में है।

उत्तर की ओर मुख करके बैठी पंक्ति के अंतिम दाएं सिरे पर कौन बैठा है?

Ans 1. 2
 2. 1
 3. 3
 4. 4

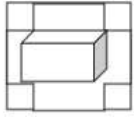
Question ID : 26433068743

Status : Answered

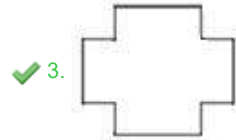
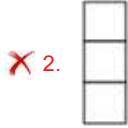
Chosen Option : 2

Q.16 उस विकल्प का चयन कीजिए, जो दी गई आकृति में अंतर्निहित है (घूमने की

अनुमति नहीं है)।



Ans



Question ID : 26433082899

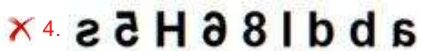
Status : Answered

Chosen Option : 3

Q.17 दर्पण को चित्र में दिखाए अनुसार MN पर रखे जाने पर दी गई आकृति के सही दर्पण प्रतिबिंब का चयन करें।



Ans

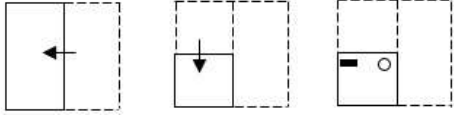


Question ID : 26433082329

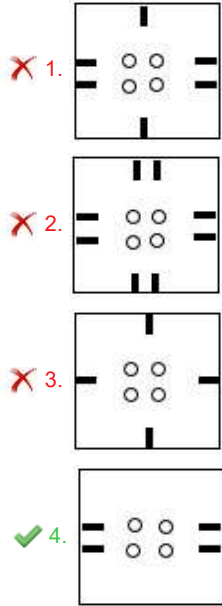
Status : Answered

Chosen Option : 2

Q.18 एक कागज को नीचे दर्शाए गए अनुसार मोड़ा और काटा जाता है। खोले जाने पर यह कैसा दिखाई देगा?



Ans



Question ID : 26433090087

Status : Answered

Chosen Option : 2

Q.19 निम्नलिखित में से उस विकल्प का चयन कीजिए, जो पाँचवें अक्षर-समूह से उसी प्रकार से संबंधित है, जिस प्रकार दूसरा अक्षर-समूह पहले अक्षर-समूह से और चौथा अक्षर-समूह तीसरे अक्षर-समूह से संबंधित है।

MUZHUK : KVMXIGI :: QUACKY : OVYDIW :: ZEBECK : ?

Ans 1. IAFZFX

2. XFZFAL

3. XAIFZF

4. XFFZAI

Question ID : 26433083107

Status : Answered

Chosen Option : 2

Q.20 उस समुच्चय का चयन करें, जिसकी संख्याओं के बीच ठीक वही संबंध है, जो संबंध निम्नांकित समुच्चयों की संख्याओं में है।
(नोट: संख्याओं को उसके घटक अंकों में विभाजित किए बिना, पूर्ण संख्याओं पर ही गणितीय संक्रियाएँ की जानी चाहिए। जैसे 13 - मान लीजिए 13 पर गणितीय संक्रियाएँ जैसे कि 13 में जोड़ना/घटाना/गुणा करना आदि किया जा सकता है। 13 को 1 और 3 में तोड़कर और फिर 1 और 3 पर गणितीय संक्रियाएँ करने की अनुमति नहीं है।)
(6, 135, 9)
(13, 261, 16)

- Ans
- 1. (9, 224, 19)
 - 2. (9, 190, 13)
 - 3. (7, 216, 17)
 - 4. (11, 249, 16)

Question ID : 26433076544
Status : Answered
Chosen Option : 3

Section : Part-B-General Knowledge and General awareness

Q.1 लॉर्ड डलहौजी ने विलय नीति के तहत किस वर्ष झाँसी का विलय किया था?

- Ans
- 1. 1854
 - 2. 1848
 - 3. 1850
 - 4. 1852

Question ID : 26433099172
Status : Answered
Chosen Option : 4

Q.2 एम चिन्नास्वामी क्रिकेट स्टेडियम किस शहर में स्थित है?

- Ans
- 1. कोलकाता
 - 2. मुंबई
 - 3. बेंगलुरु
 - 4. दिल्ली

Question ID : 26433092327
Status : Answered
Chosen Option : 3

Q.3 निम्नलिखित में से किस शख्सियत को वर्ष 2019 में कथकली नृत्य शैली में उनके योगदान के लिए पद्म श्री से सम्मानित किया गया?

- Ans
- 1. मिलिना साल्विनी
 - 2. शोभना नारायण
 - 3. वैभवी मर्चेट
 - 4. गीता कपूर

Question ID : 26433070807
Status : Answered
Chosen Option : 1

Q.4 भारत के संविधान के निम्नलिखित में से किस भाग में मूल अधिकार सन्निहित हैं?

- Ans 1. III
 2. IV
 3. II
 4. I

Question ID : 26433054894
Status : Answered
Chosen Option : 1

Q.5 प्रधान मंत्री नरेन्द्र मोदी ने _____ में जल जीवन मिशन का शुभारंभ किया।

- Ans 1. 2014
 2. 2018
 3. 2019
 4. 2022

Question ID : 264330116188
Status : Answered
Chosen Option : 1

Q.6 लक्ष्य सेन किस खेल के खिलाड़ी हैं?

- Ans 1. क्रिकेट
 2. बैडमिंटन
 3. टेबल टेनिस
 4. कबड्डी

Question ID : 264330115946
Status : Not Answered
Chosen Option : --

Q.7 1992 में, सबसे कम आयु में पद्म भूषण प्राप्त करने वाले नर्तक/नर्तकी का नाम निम्न में से क्या था?

- Ans 1. अनुराधा पाण्डेय
 2. सोनल मानसिंह
 3. उदय शंकर
 4. पंडित बिरजू महाराज

Question ID : 264330115842
Status : Answered
Chosen Option : 1

Q.8 विश्व के कुल पृष्ठीय क्षेत्रफल में भारत का कितना हिस्सा है?

- Ans 1. 3.9%
 2. 2.4%
 3. 4.2%
 4. 2.8%

Question ID : 264330116051
Status : Answered
Chosen Option : 2

Q.9 कौन सा विकल्प बुलिमिया का सबसे अच्छा वर्णन करता है?

- Ans
- 1. चिंता संबंधी विकार
 - 2. खाने संबंधी विकार
 - 3. तंत्रिकाविकास संबंधी विकार
 - 4. बाइपोलर विकार

Question ID : 264330115225
Status : Not Answered
Chosen Option : --

Q.10 उत्तर भारत के लोग किस त्योहार पर देवी लक्ष्मी और भगवान गणेश की एक साथ पूजा करते हैं?

- Ans
- 1. होली
 - 2. दशहरा
 - 3. दिवाली
 - 4. जन्माष्टमी

Question ID : 264330109310
Status : Answered
Chosen Option : 3

Q.11 भारत के संविधान के अनुच्छेद 243 के अनुसार, _____ का अर्थ है ग्रामीण क्षेत्रों के लिए अनुच्छेद 243ख के अधीन गठित स्वाता शासन वाली एक संस्था।

- Ans
- 1. ग्राम सभा
 - 2. पंचायत
 - 3. नगर निगम
 - 4. म्युनिस्पल कमेटी

Question ID : 26433086833
Status : Answered
Chosen Option : 2

Q.12 निम्नलिखित में से कौन सा संगठन भारत में निर्धनता रेखा का आकलन करने के प्रतिदर्श सर्वेक्षण कौन करता है?

- Ans
- 1. एन. एस. एस. औ.
 - 2. वित्त मंत्रालय
 - 3. आर. बी. आई.
 - 4. सी. एस. औ.

Question ID : 264330115343
Status : Not Answered
Chosen Option : --

Q.13 निम्नलिखित में से कौन अप्रैल 2022 में भारत में खैरागढ़, छत्तीसगढ़ से विधान सभा के सदस्य बने?

- Ans 1. यशोदा वर्मा
 2. बंधु तिर्की
 3. मनोज सिंह मंडावी
 4. मुसाफिर पासवान

Question ID : 264330114960
Status : Not Answered
Chosen Option : --

Q.14 कृषि में गाय के गोबर का उपयोग _____ के रूप में किया जाता है।

- Ans 1. जैविक उर्वरक
 2. अपशिष्ट पदार्थ
 3. अजैविक उर्वरक
 4. रासायनिक उर्वरक

Question ID : 264330115422
Status : Answered
Chosen Option : 1

Q.15 जून 2022 में, मंत्रिमंडल की नियुक्ति समिति (ACC) द्वारा राष्ट्रीय जांच एजेंसी के महानिदेशक के रूप में किसे नियुक्त किया गया?

- Ans 1. आमिर सुभामी
 2. दिनकर गुप्ता
 3. अरुण मिश्रा
 4. नरेश कुमार

Question ID : 264330115046
Status : Answered
Chosen Option : 3

Q.16 कौन-सा जलमार्ग अटलांटिक महासागर को प्रशांत महासागर से जोड़ता है?

- Ans 1. स्वेज़ नहर
 2. पनामा नहर
 3. कील नहर
 4. वोल्गा-डॉन नहर

Question ID : 264330116014
Status : Answered
Chosen Option : 1

Q.17 एक बर्तन लंबे समय तक नम हवा के संपर्क में रहता है। यह एक हल्की, हरी कोटिंग प्राप्त करता है। बर्तन किससे बना हुआ है?

- Ans
- 1. कार्बन
 - 2. फास्फोरस
 - 3. लोह
 - 4. ताँबा

Question ID : 264330115179
Status : Answered
Chosen Option : 3

Q.18 देश की स्वतंत्रता से पहले, भारत मुख्य रूप से अपने _____ उद्योगों के लिए जाना जाता था।

- Ans
- 1. मसाले के
 - 2. पुष्प के
 - 3. हस्तशिल्प के
 - 4. धातु के

Question ID : 264330116137
Status : Answered
Chosen Option : 1

Q.19 कच्चे तेल, पेट्रोलियम उत्पादों और प्राकृतिक गैस को स्थानांतरित करने के लिए अब परिवहन के किस साधन का उपयोग किया जा रहा है?

- Ans
- 1. केबल
 - 2. हवाई मार्ग
 - 3. बस
 - 4. पाइपलाइन

Question ID : 264330115590
Status : Answered
Chosen Option : 4

Q.20 _____ ने हर्षवर्धन के दरबार में बहुत समय बिताया और उन्होंने जो कुछ देखा उसका विस्तृत विवरण दिया।

- Ans
- 1. फ़ाहियान
 - 2. श्वेन त्सांग
 - 3. यिजिंग
 - 4. कांग सेंग

Question ID : 264330106592
Status : Answered
Chosen Option : 1

Q.1 एक कंपनी तीन प्रकार की क्रमिक छूट प्रदान करती है: प्रथम ऑफर : 25% और 5%, दूसरी ऑफर : 20% और 10%, तीसरी ऑफर : 15% और 15%, ग्राहक के लिए कौन-सी ऑफर सबसे अच्छी है?

- Ans
- 1. दूसरी ऑफर
 - 2. सभी ऑफर समान हैं
 - 3. तीसरी ऑफर
 - 4. प्रथम ऑफर

Question ID : 26433075190
Status : Answered
Chosen Option : 3

Q.2 A एक कार्य को 72 दिनों में और B 90 दिनों में कर सकता है। उन्होंने 30 दिनों तक एक साथ कार्य किया और फिर B ने छोड़ दिया। शेष कार्य को पूरा करने के लिए A द्वारा लिए गए दिन ज्ञात करें।

- Ans
- 1. 18 दिन
 - 2. 14 दिन
 - 3. 16 दिन
 - 4. 17 दिन

Question ID : 264330116872
Status : Answered
Chosen Option : 1

Q.3 8, 16, 20 और 32 से विभाज्य सबसे छोटी संख्या ज्ञात करें।

- Ans
- 1. 160
 - 2. 144
 - 3. 200
 - 4. 120

Question ID : 26433082345
Status : Answered
Chosen Option : 1

Q.4 $40 - [20 - \{14 - (16 - 6 \times 4 - 2)\}]$ का मान ज्ञात कीजिए।

- Ans
- 1. 40
 - 2. 38
 - 3. 44
 - 4. 42

Question ID : 26433079765
Status : Answered
Chosen Option : 3

Q.5 एक क्रिकेट क्लब में औसत उपस्थिति पिछले वर्ष की 5640 से गिरकर इस वर्ष 3820 हो गई। पिछले वर्ष की तुलना में इस वर्ष कितने प्रतिशत कमी हुई?

- Ans
- 1. 28.82 प्रतिशत
 - 2. 18.20 प्रतिशत
 - 3. 24.48 प्रतिशत
 - 4. 32.26 प्रतिशत

Question ID : 264330116792
Status : Answered
Chosen Option : 4

Q.6 किसी संख्या में 30% की वृद्धि करके पुनः 30% की वृद्धि की जाती है। मूल संख्या की पुनर्प्राप्ति के लिए बड़ी हुई संख्या को कितना प्रतिशत कम किया जाना चाहिए?

- Ans
- 1. 42.80%
 - 2. 38.28%
 - 3. 48.20%
 - 4. 40.82%

Question ID : 26433072999
Status : Answered
Chosen Option : 4

Q.7 14 cm त्रिज्या वाले एक गोले का वक्र पृष्ठीय क्षेत्रफल ज्ञात कीजिए।
 $\pi = \frac{22}{7}$ का प्रयोग करें

- Ans
- 1. 2,464 cm²
 - 2. 2,454 cm²
 - 3. 2,446 cm²
 - 4. 2,428 cm²

Question ID : 26433076054
Status : Answered
Chosen Option : 1

Q.8 यदि x, y के अनुक्रमानुपाती है और y = 8 होने पर x = 10 है, तो y = 36 होने पर x का मान क्या है?

- Ans
- 1. 45
 - 2. 48
 - 3. 40
 - 4. 42

Question ID : 26433075555
Status : Answered
Chosen Option : 1

Q.9 एक बस, बाइक से 20% तेज चल सकती है। दोनों एक ही स्थान से, एक ही समय पर चलना शुरू करती हैं और एक ही समय पर 60 km दूर एक ही गंतव्य पर पहुंचती हैं। हालांकि रास्ते में बस 10 मिनट के लिए स्टेशनों पर रुकती है। बाइक की चाल क्या होगी?

- Ans 1. 60 km/h
 2. 70 km/h
 3. 65 km/h
 4. 55 km/h

Question ID : 26433075197
Status : Answered
Chosen Option : 1

Q.10 10 व्यक्तियों में से, 9 व्यक्तियों ने अपने नाश्ते पर प्रत्येक ₹15 खर्च किए। दसवें व्यक्ति ने सभी लोगों के औसत व्यय से ₹9 अधिक खर्च किए। उन सभी द्वारा खर्च की गई कुल राशि ज्ञात कीजिए।

- Ans 1. ₹135
 2. ₹144
 3. ₹10
 4. ₹160

Question ID : 26433076370
Status : Answered
Chosen Option : 2

Q.11 एक कंपनी ऋण पर 10% वार्षिक की दर से चक्रवृद्धि ब्याज लेती है। कंपनी द्वारा 2 वर्ष की अवधि के लिए ₹2,20,000 की राशि दी जाती है। कंपनी ने प्रत्येक वर्ष के बजाय प्रत्येक छमाही में ब्याज को चक्रवृद्धि किया। यदि कंपनी ब्याज को वार्षिक रूप से चक्रवृद्धि करती, तो उधारकर्ता द्वारा कितना पैसा बचा लिया जाता (एक दशमलव स्थान तक पूर्णांकित)?

- Ans 1. ₹1,312.20
 2. ₹1,211.40
 3. ₹1,412.20
 4. ₹1,111.40

Question ID : 26433085461
Status : Not Attempted and Marked For Review
Chosen Option : --

Q.12 एक द्रव का भार उसके आयतन के अनुक्रमानुपाती है। एक द्रव, जिसका भार 12 kg है, उसका आयतन 3 लीटर है। 4 लीटर आयतन वाले द्रव का भार क्या होगा?

- Ans 1. 12 kg
 2. 16 kg
 3. 14 kg
 4. 8 kg

Question ID : 26433075194
Status : Answered
Chosen Option : 2

Q.13 एक पुस्तक 20 प्रतिशत की छूट के साथ 300 रुपए में सूचीबद्ध है। विक्रय मूल्य को 216 रुपए पर लाने के लिए कितनी अतिरिक्त छूट दी जानी चाहिए?

- Ans
- 1. 16 प्रतिशत
 - 2. 9 प्रतिशत
 - 3. 10 प्रतिशत
 - 4. 20 प्रतिशत

Question ID : 264330116757
Status : Answered
Chosen Option : 4

Q.14 यदि किसी घन के सबसे लंबे विकर्ण का माप $\sqrt{432}$ cm है, तो इसका आयतन ज्ञात कीजिये।

- Ans
- 1. $1,728\text{cm}^3$
 - 2. $1,928\text{cm}^3$
 - 3. $1,825\text{cm}^3$
 - 4. $1,625\text{cm}^3$

Question ID : 26433074474
Status : Answered
Chosen Option : 1

Q.15 140 m और 160 m लंबी दो ट्रेनें समानांतर लाइनों पर एक 40 km/h की चाल से और दूसरी 50 km/h की चाल से एक-दूसरे की ओर दौड़ रही हैं। जिस क्षण वे दोनों ट्रेनें आपस में मिलेंगी, उसके बाद कितने समय में वे एक-दूसरे को पार कर लेंगी?

- Ans
- 1. 13 sec
 - 2. 10 sec
 - 3. 12 sec
 - 4. 15 sec

Question ID : 26433076201
Status : Answered
Chosen Option : 3

Q.16 A एक कार्य को 20 दिनों में कर सकता है और B उसी कार्य को 24 दिनों में कर सकता है। यदि दोनों एक साथ कार्य करते हैं तो उन्हें कार्य पूरा करने में कितने दिन लगेंगे?

- Ans
- 1. $10\frac{10}{11}$
 - 2. $10\frac{11}{10}$
 - 3. $10\frac{10}{8}$
 - 4. $8\frac{10}{11}$

Question ID : 26433076204
Status : Answered
Chosen Option : 1

Q.17 एक दुकानदार 55 टॉफियां बेचकर 11 टॉफियों का लाभ अर्जित करता है। अर्जित लाभ का प्रतिशत ज्ञात कीजिए।

- Ans
- 1. 11%
 - 2. 25%
 - 3. 15%
 - 4. 20%

Question ID : 26433071310
Status : Answered
Chosen Option : 4

Q.18 अरुण ने संचित से Rs.1,12,500 में एक लैपटॉप खरीदा। संचित ने लैपटॉप पर 25% का लाभ कमाया। रमन ने 20% के लाभ पर संचित को लैपटॉप बेचा था। रमन ने लैपटॉप कितने में खरीदा था?

- Ans
- 1. Rs.75,000
 - 2. Rs.85,000
 - 3. Rs.80,000
 - 4. Rs.90,000

Question ID : 26433075059
Status : Answered
Chosen Option : 2

Q.19 यदि एक दुकानदार, Rs.80 प्रति kg और Rs.95 प्रति kg की दो प्रकार की दालों को 2 : 3 के अनुपात में मिलाता है, तो मिश्रण का औसत मूल्य क्या होगा?

- Ans
- 1. Rs.91 प्रति kg
 - 2. Rs.87 प्रति kg
 - 3. Rs.90 प्रति kg
 - 4. Rs.89 प्रति kg

Question ID : 26433075642
Status : Answered
Chosen Option : 4

Q.20 2 वर्ष पहले जमा की गई ₹10,500 की राशि पहले वर्ष के दौरान 10% वार्षिक और दूसरे वर्ष के दौरान 12% वार्षिक ब्याज दर पर _____ हो जाएगी (ब्याज वार्षिक रूप से चक्रवृद्धि किया जाता है)।

- Ans
- 1. ₹12,937
 - 2. ₹12,705
 - 3. ₹12,936
 - 4. ₹12,396

Question ID : 26433076197
Status : Answered
Chosen Option : 3

Q.1 Select the most appropriate option to substitute the underlined segment in the given sentence.

Due to increased international travel, the tourism sector has grown to be a global tracker to the global economy.

- Ans
- 1. a worthless trade
 - 2. a major importer
 - 3. a substantial contributor
 - 4. a complementary distributor

Question ID : 26433089830
Status : Not Answered
Chosen Option : --

Q.2 Select the most appropriate synonym of the given word.

Drowsy

- Ans
- 1. Stimulant
 - 2. Restive
 - 3. Active
 - 4. Sleepy

Question ID : 26433088128
Status : Not Answered
Chosen Option : --

Q.3 Select the most appropriate meaning of the given idiom.

In dire straits

- Ans
- 1. Crumble under autocracy
 - 2. Futuristic hope
 - 3. Very bad situation
 - 4. Eliminate doubts and fears

Question ID : 26433073997
Status : Not Answered
Chosen Option : --

Q.4 Select the most appropriate ANTONYM of the given word.

Fatuity

- Ans
- 1. Obey
 - 2. Folly
 - 3. Sapience
 - 4. Disregard

Question ID : 26433072214
Status : Not Answered
Chosen Option : --

Q.5 Select the most appropriate synonym of the given word to fill in the blank in the sentence.

Procure

It is very difficult to _____ food and fuel for daily necessities for people living below poverty line in the world.

- Ans
- 1. guarantee
 - 2. effort
 - 3. console
 - 4. obtain

Question ID : 26433060555
Status : Not Answered
Chosen Option : --

Q.6 Select the most appropriate synonym of the underlined word.

Ultimately it turned out to be a fair decision.

- Ans
- 1. Drowsy
 - 2. Effective
 - 3. Unbiased
 - 4. Hollow

Question ID : 26433088761
Status : Not Answered
Chosen Option : --

Q.7 Select the most appropriate option to fill in the blanks and make the sentence meaningful.

My _____ intention was to have a good time in the excellent _____.

- Ans
- 1. sole; weather
 - 2. sole; whether
 - 3. soul; weather
 - 4. soul; whether

Question ID : 26433092099
Status : Not Answered
Chosen Option : --

Q.8 The following sentence has been split into four segments. Identify the segment that contains a grammatical error.

This day next year / I will having a conference with / the international board / discussing the environment.

- Ans
- 1. I will having a conference with
 - 2. This day next year,
 - 3. discussing the environment
 - 4. the international board

Question ID : 264330100303
Status : Not Answered
Chosen Option : --

Q.9 Select the most appropriate idiom that can substitute the italicised words in the given sentence.

It was a *difficult task* to complete a relay run of 5 km in minutes yet our team managed to do it successfully.

- Ans
- 1. kangaroo court
 - 2. seeing pink elephants
 - 3. a Herculean effort
 - 4. the heels of Achilles

Question ID : 26433071999
Status : Not Answered
Chosen Option : --

Q.10 Select the most appropriate option that can substitute the underlined segment in the given sentence.

In the olden days, when people went on pilgrimages, they created a feeling of belonging towards all, convey a message of brotherhood among all they came across.

- Ans
- 1. conveying
 - 2. has conveyed
 - 3. conveyed
 - 4. have conveyed

Question ID : 26433091870
Status : Not Answered
Chosen Option : --

Q.11 Select the most appropriate ANTONYM of the given word.

Neglect

- Ans
- 1. Remember
 - 2. Overlook
 - 3. Omit
 - 4. Slight

Question ID : 26433090786
Status : Not Answered
Chosen Option : --

Q.12 Select the INCORRECTLY spelt word.

- Ans
- 1. Loneliness
 - 2. Compassion
 - 3. Efficient
 - 4. Mortality

Question ID : 26433073736
Status : Not Answered
Chosen Option : --

Q.13 Select the most appropriate option that can substitute the underlined segment in the given sentence. If there is no need to substitute it, select 'No substitution'.
Rapid deforestation may put the lives of many indigenous communities in a danger.

- Ans
- 1. in some danger
 - 2. in the danger
 - 3. in danger
 - 4. No substitution

Question ID : 26433093075
Status : Not Answered
Chosen Option : --

Q.14 Select the most appropriate option to fill in the blanks in the given sentence.

The minister was supposed to _____ the gathering located at the _____ of Hotel Mao Inn.

- Ans
- 1. speech
 - 2. treat
 - 3. address
 - 4. deliver

Question ID : 26433084771
Status : Not Answered
Chosen Option : --

Q.15 The sentence given below has one misspelt word. Spot the INCORRECTLY spelt word and select its correct spelling.

The play depicts a futuristec society.

- Ans
- 1. Fuetristic
 - 2. Fewchuristic
 - 3. Faturistic
 - 4. Futuristic

Question ID : 26433073547
Status : Not Answered
Chosen Option : --

Comprehension:

In the following passage, some words have been deleted. Read the passage carefully and select the most appropriate option to fill in each blank.

The beach is often (1) _____ to as nature's most (2) _____ tourist spot. Going to the beach allows you to take in all of nature's splendour, which includes a (3) _____ of (4) _____ sights. The beach is the perfect place where I can sit, relax and enjoy the (5) _____ and beautiful natural surroundings.

SubQuestion No : 16

Q.16 Select the most appropriate option to fill in blank number 1.

Ans 1. referred

2. associated

3. named

4. called

Question ID : 26433091727

Status : Not Answered

Chosen Option : --

Comprehension:

In the following passage, some words have been deleted. Read the passage carefully and select the most appropriate option to fill in each blank.

The beach is often (1) _____ to as nature's most (2) _____ tourist spot. Going to the beach allows you to take in all of nature's splendour, which includes a (3) _____ of (4) _____ sights. The beach is the perfect place where I can sit, relax and enjoy the (5) _____ and beautiful natural surroundings.

SubQuestion No : 17

Q.17 Select the most appropriate option to fill in blank number 2.

Ans 1. recognised

2. organised

3. crowded

4. natural

Question ID : 26433091728

Status : Not Answered

Chosen Option : --

Comprehension:

In the following passage, some words have been deleted. Read the passage carefully and select the most appropriate option to fill in each blank.

The beach is often (1) _____ to as nature's most (2) _____ tourist spot. Going to the beach allows you to take in all of nature's splendour, which includes a (3) _____ of (4) _____ sights. The beach is the perfect place where I can sit, relax and enjoy the (5) _____ and beautiful natural surroundings.

SubQuestion No : 18

Q.18 Select the most appropriate option to fill in blank number 3.

Ans 1. view

2. plethora

3. means

4. kind

Question ID : 26433091729

Status : Not Answered

Chosen Option : --

Comprehension:

In the following passage, some words have been deleted. Read the passage carefully and select the most appropriate option to fill in each blank.

The beach is often (1) _____ to as nature's most (2) _____ tourist spot. Going to the beach allows you to take in all of nature's splendour, which includes a (3) _____ of (4) _____ sights. The beach is the perfect place where I can sit, relax and enjoy the (5) _____ and beautiful natural surroundings.

SubQuestion No : 19

Q.19 Select the most appropriate option to fill in blank number 4.

- Ans 1. captivating
 2. sorrowful
 3. rare
 4. costly

Question ID : 26433091730
Status : Not Answered
Chosen Option : --

Comprehension:

In the following passage, some words have been deleted. Read the passage carefully and select the most appropriate option to fill in each blank.

The beach is often (1) _____ to as nature's most (2) _____ tourist spot. Going to the beach allows you to take in all of nature's splendour, which includes a (3) _____ of (4) _____ sights. The beach is the perfect place where I can sit, relax and enjoy the (5) _____ and beautiful natural surroundings.

SubQuestion No : 20

Q.20 Select the most appropriate option to fill in blank number 5.

- Ans 1. costliest
 2. cognizant
 3. peaceful
 4. polluted

Question ID : 26433091731
Status : Not Answered
Chosen Option : --

Section : Part-D-Hindi

Q.1 रिक्त स्थान की पूर्ति उचित संज्ञा शब्द से करें।
_____ तरल अवस्था में होता है।

- Ans 1. सुन्दरी
 2. वह
 3. कुछ
 4. पारा

Question ID : 26433085022
Status : Answered
Chosen Option : 4

Q.2 'स्वर्ग' का पर्यायवाची शब्द इनमें से क्या होगा?

- Ans 1. देवलोक
 2. क्षितिज
 3. ब्रह्मांड
 4. द्यौ

Question ID : 26433066905
Status : Answered
Chosen Option : 1

Q.3 निम्न में से किस वाक्य में 'गंगा' के सही पर्यायवाची शब्द का प्रयोग हुआ है?

- Ans 1. कालिंदी में स्नान करना फलदायक है।
 2. कालगंगा का जल बहुत पवित्र होता है।
 3. वेदवती का जल अत्यन्त पवित्र होता है।
 4. देवनादी का जल पवित्र होता है।

Question ID : 26433066933
Status : Answered
Chosen Option : 4

Q.4 'भारत देश के रहने वाले बहुत सारे लोग गौतम बुद्ध के अनुयायी थे।' वाक्य में प्रयुक्त 'अनुयायी' का विलोम शब्द है।

- Ans 1. विरोधी
 2. पुजारी
 3. अनुगामी
 4. प्रसंशक

Question ID : 26433069743
Status : Answered
Chosen Option : 4

Q.5 वीर और साहसी पुरुष साधारण नहीं होते, अपितु _____ प्रतिभा से युक्त होते हैं।

साधारण के विलोम शब्द से वाक्य पूर्ण करें।

- Ans 1. सामान्य
 2. कठोर
 3. विलक्षण
 4. बड़ी

Question ID : 26433080879
Status : Marked For Review
Chosen Option : 3

Q.6 'दादा-दादी का सबके जीवन में पूजनीय स्थान होता है।' उपरोक्त वाक्य के किस भाग में अशुद्ध वर्तनी वाला शब्द है?

- Ans
- 1. दादा-दादी का
 - 2. पूजनीय स्थान
 - 3. सबके जीवन में
 - 4. होता है।

Question ID : 26433069696
Status : Answered
Chosen Option : 2

Q.7 निम्नलिखित वाक्यांश के लिए उपयुक्त शब्द का चयन विकल्पों में से कीजिए। जो प्रमाण द्वारा सिद्ध न हो सके

- Ans
- 1. अचिंत्य
 - 2. अद्वितीय
 - 3. अनिर्वचनीय
 - 4. अप्रमेय

Question ID : 26433069995
Status : Answered
Chosen Option : 4

Q.8 'जो अपनी जगह से न डिगें' वाक्यांश के लिए उचित शब्द बताइए -

- Ans
- 1. असीमित
 - 2. आधार
 - 3. अडिग
 - 4. अखंड

Question ID : 26433065904
Status : Answered
Chosen Option : 3

Q.9 निम्नलिखित वाक्यांश के लिए एक सार्थक शब्द चुनिए। जिसे पार करना कठिन हो

- Ans
- 1. पारंगत
 - 2. दूरदर्शी
 - 3. दुस्तर
 - 4. दत्तक

Question ID : 26433062734
Status : Answered
Chosen Option : 1

Q.10 निम्नलिखित मुहावरे के लिय उपयुक्त सार्थक शब्द है-
बहती गंगा में हाथ धोना

- Ans 1. अवसर का फायदा उठाना
 2. अपमान सहन कर लेना
 3. सम्मान देना
 4. बहुत अधिक परिश्रम करना

Question ID : 26433065774
Status : Answered
Chosen Option : 1

Q.11 रेखांकित शब्द के स्थान पर सर्वोचित विकल्प चुनिए।
आवश्यक काम में रूत रहने के कारण मुझे अवकाश नहीं मिला।

- Ans 1. व्यस्त
 2. विरक्त
 3. विलीन
 4. आसक्त

Question ID : 26433084957
Status : Answered
Chosen Option : 1

Q.12 'लालकिला भारत की _____ इमारत है।' वाक्य में रिक्त स्थान की पूर्ति शुद्ध शब्द द्वारा कीजिए।

- Ans 1. ऐतिहासिक
 2. इतिहासिक
 3. एतिहासिक
 4. इतिहाषिक

Question ID : 26433069702
Status : Answered
Chosen Option : 1

Q.13 वाक्य में रेखांकित शब्द के स्थान पर सर्वोचित शब्द का चयन कीजिए।

प्रत्येक भारतवासी को हिंदी का सामान्य ज्ञान होना चाहिए।

- Ans 1. साहित्यिक
 2. सामाजिक
 3. व्यावहारिक
 4. लौकिक

Question ID : 26433065700
Status : Answered
Chosen Option : 4

Q.14 निम्नलिखित में से कौन-सा वाक्य संज्ञा के प्रयोग की दृष्टि से शुद्ध है?

- Ans
- 1. रघुवीर मेरा अग्रज भाई है।
 - 2. रघुवीर मेरा अग्रज बड़ा भाई है।
 - 3. रघुवीर मेरा अग्रज छोटा भाई है।
 - 4. रघुवीर मेरा अग्रज है।

Question ID : 26433066960

Status : Answered

Chosen Option : 4

Q.15 'ऊंट के मुंह में पान भरना।' रेखांकित वाक्यांश के स्थान पर शुद्ध वाक्यांश होगा-

- Ans
- 1. नमक देना
 - 2. धनिया देना
 - 3. पानी भरना
 - 4. जीरा देना

Question ID : 26433062813

Status : Answered

Chosen Option : 4

Comprehension:

निम्नलिखित गद्यांश में से कुछ शब्द हटा दिए गए हैं। दिए गए विकल्पों की सहायता से रिक्त स्थानों की पूर्ति कीजिए। प्रत्येक संख्या के लिए उपयुक्त विकल्प का चयन कीजिए-

बाबाजी भी मनुष्य ही थे। अपनी वस्तु की 1. _____ दूसरे के मुख से सुनने के लिए उनका हृदय अधीर हो गया। घोड़े को खोलकर बाहर गए। 2. _____ वायुवेग से उड़ने लगा। 3. _____ चाल देखकर खड्ग सिंह के हृदय पर साँप 4. _____ गया। वह डाकू था और जो वस्तु उसे पसंद आ जाए उस पर 5. _____ अपना अधिकार समझता था।

SubQuestion No : 16

Q.16 रिक्त स्थान 1 की पूर्ति के लिए सर्वाधिक उपयुक्त विकल्प का चयन कीजिए।

- Ans
- 1. नाम
 - 2. प्रशंसा
 - 3. बुराई
 - 4. निंदा

Question ID : 26433079692

Status : Answered

Chosen Option : 2

Comprehension:

निम्नलिखित गद्यांश में से कुछ शब्द हटा दिए गए हैं। दिए गए विकल्पों की सहायता से रिक्त स्थानों की पूर्ति कीजिए। प्रत्येक संख्या के लिए उपयुक्त विकल्प का चयन कीजिए-

बाबाजी भी मनुष्य ही थे। अपनी वस्तु की 1. _____ दूसरे के मुख से सुनने के लिए उनका हृदय अधीर हो गया। घोड़े को खोलकर बाहर गए। 2. _____ वायुवेग से उड़ने लगा। 3. _____ चाल देखकर खड्ग सिंह के हृदय पर साँप 4. _____ गया। वह डाकू था और जो वस्तु उसे पसंद आ जाए उस पर 5. _____ अपना अधिकार समझता था।

SubQuestion No : 17

Q.17 रिक्त स्थान 2 की पूर्ति के लिए सर्वाधिक उपयुक्त विकल्प का चयन कीजिए।

- Ans 1. मनुष्य
 2. घोड़ा
 3. बैल
 4. बाबा

Question ID : 26433079693

Status : Answered

Chosen Option : 2

Comprehension:

निम्नलिखित गद्यांश में से कुछ शब्द हटा दिए गए हैं। दिए गए विकल्पों की सहायता से रिक्त स्थानों की पूर्ति कीजिए। प्रत्येक संख्या के लिए उपयुक्त विकल्प का चयन कीजिए-

बाबाजी भी मनुष्य ही थे। अपनी वस्तु की 1. _____ दूसरे के मुख से सुनने के लिए उनका हृदय अधीर हो गया। घोड़े को खोलकर बाहर गए। 2. _____ वायुवेग से उड़ने लगा। 3. _____ चाल देखकर खड्ग सिंह के हृदय पर साँप 4. _____ गया। वह डाकू था और जो वस्तु उसे पसंद आ जाए उस पर 5. _____ अपना अधिकार समझता था।

SubQuestion No : 18

Q.18 रिक्त स्थान 3 की पूर्ति के लिए सर्वाधिक उपयुक्त विकल्प का चयन कीजिए।

- Ans 1. उसकी
 2. किसकी
 3. मेरी
 4. सबकी

Question ID : 26433079694

Status : Answered

Chosen Option : 1

Comprehension:

निम्नलिखित गद्यांश में से कुछ शब्द हटा दिए गए हैं। दिए गए विकल्पों की सहायता से रिक्त स्थानों की पूर्ति कीजिए। प्रत्येक संख्या के लिए उपयुक्त विकल्प का चयन कीजिए-

बाबाजी भी मनुष्य ही थे। अपनी वस्तु की 1. _____ दूसरे के मुख से सुनने के लिए उनका हृदय अधीर हो गया। घोड़े को खोलकर बाहर गए। 2. _____ वायुवेग से उड़ने लगा। 3. _____ चाल देखकर खड्ग सिंह के हृदय पर साँप 4. _____ गया। वह डाकू था और जो वस्तु उसे पसंद आ जाए उस पर 5. _____ अपना अधिकार समझता था।

SubQuestion No : 19

Q.19 रिक्त स्थान 4 की पूर्ति के लिए सर्वाधिक उपयुक्त विकल्प का चयन कीजिए।

- Ans
- 1. छिप
 - 2. भाग
 - 3. रुक
 - 4. लोट

Question ID : 26433079695

Status : Answered

Chosen Option : 4

Comprehension:

निम्नलिखित गद्यांश में से कुछ शब्द हटा दिए गए हैं। दिए गए विकल्पों की सहायता से रिक्त स्थानों की पूर्ति कीजिए। प्रत्येक संख्या के लिए उपयुक्त विकल्प का चयन कीजिए-

बाबाजी भी मनुष्य ही थे। अपनी वस्तु की 1. _____ दूसरे के मुख से सुनने के लिए उनका हृदय अधीर हो गया। घोड़े को खोलकर बाहर गए। 2. _____ वायुवेग से उड़ने लगा। 3. _____ चाल देखकर खड्ग सिंह के हृदय पर साँप 4. _____ गया। वह डाकू था और जो वस्तु उसे पसंद आ जाए उस पर 5. _____ अपना अधिकार समझता था।

SubQuestion No : 20

Q.20 रिक्त स्थान 5 की पूर्ति के लिए सर्वाधिक उपयुक्त विकल्प का चयन कीजिए।

- Ans
- 1. वह
 - 2. हम
 - 3. मुझे
 - 4. मैं

Question ID : 26433079696

Status : Answered

Chosen Option : 1