

Constable GD in CAPFs SSF Rifleman GD in Assam Rifles and Sepoy in NCB Examination 2022

Roll Number	www.govtjobsalert.in
Candidate Name	www.govtjobsalert.in
Venue Name	iON Digital Zone iDZ Kuberpur
Exam Date	23/01/2023
Exam Time	5:15 PM - 6:15 PM
Subject	Constable GD Examination 2022

Section : Part-A-General Intelligence and Reasoning

Q.1 किस विकल्प में निम्नलिखित शब्दों का वह क्रम दिया गया है, जिस क्रम में वे अंग्रेजी शब्दकोश में आते हैं।

- 1 Book
- 2 Bowl
- 3 Board
- 4 Boundary
- 5 Botanical

- Ans
- 1. 3,5,1,4,2
 - 2. 3,4,5,1,2
 - 3. 3,1,4,2,5
 - 4. 3,1,5,4,2

Question ID : 26433069268

Status : Answered

Chosen Option : 4

Q.2 उस विकल्प का चयन कीजिए, जो पाँचवें पद से उसी प्रकार संबंधित है, जिस प्रकार दूसरा पद पहले पद से और चौथा पद तीसरे पद से संबंधित है।

FUNS : JZJN :: STOP : WYKK :: DISK : ?

- Ans
- 1. HNOF
 - 2. GMPF
 - 3. GNOG
 - 4. HMPG

Question ID : 26433058011

Status : Answered

Chosen Option : 1

Q.3 एक निश्चित कूट भाषा में 'BUS' को 42 और 'COT' को 38 के रूप में कूटबद्ध किया जाता है। उस भाषा में 'DRUM' को कैसे कूटबद्ध किया जाएगा?

- Ans
- 1. 56
 - 2. 83
 - 3. 57
 - 4. 65

Question ID : 26433074519

Status : Answered

Chosen Option : 1

Q.4 उस विकल्प का चयन करें जो तिसरे पद से उसी प्रकार संबंधित है, जिस प्रकार दूसरा पद पहले पद से और छठा पद पांचवे पद से संबंधित है।

4 : 250 :: 5 : ? :: 6 : 1290

Ans 1. 535

2. 433

3. 619

4. 555

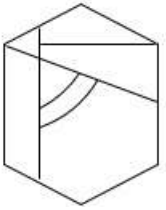
Question ID : 26433069095

Status : Not Answered

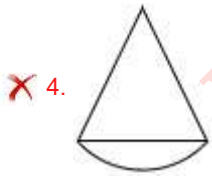
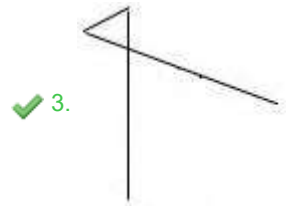
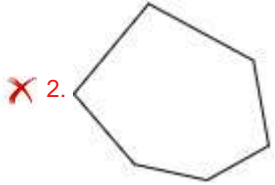
Chosen Option : --

Q.5 वह विकल्प चित्र चुनिए, जो प्रस्तुत चित्र में अंतर्निहित है। (घुमाना अनुमन्य नहीं

है)



Ans



Question ID : 26433069350

Status : Answered

Chosen Option : 3

Q.6 A @ B का अर्थ है 'A, B का पति है'।
A & B का अर्थ है 'A, B की माता है'।
A # B का अर्थ है 'A, B की पुत्री है'।
A % B का अर्थ है 'A, B का सहोदर है'।
यदि R% Y & D @ G # M है, तो M का दामाद R का _____ है।

- Ans
- 1. भाई
 - 2. पुत्र
 - 3. पोता
 - 4. भांजा

Question ID : 26433069615

Status : Not Answered

Chosen Option : --

Q.7 नीचे दिए गए समीकरण को गणितीय रूप से सही बनाने के लिए किन दो चिन्हों को परस्पर बदलना चाहिए?
 $24 + 54 \div 18 - 48 \times 16 = 40$

- Ans
- 1. + और -
 - 2. \times और +
 - 3. \div और \times
 - 4. \div और +

Question ID : 264330117506

Status : Answered

Chosen Option : 2

Q.8 उस विकल्प का चयन कीजिए जो तीसरे शब्द से उसी प्रकार संबंधित है जिस प्रकार दूसरा शब्द पहले शब्द से संबंधित है। (शब्दों को अर्थपूर्ण शब्दों के रूप में मानना है और उन्हें शब्द में अक्षरों/व्यंजनों/स्वरों की संख्या के आधार पर एक-दूसरे से संबंधित नहीं करना है।)
जनवरी : 31 :: मार्च : _____

- Ans
- 1. 28
 - 2. 30
 - 3. 31
 - 4. 29

Question ID : 26433078824

Status : Answered

Chosen Option : 3

Q.9 किसी निश्चित कूट भाषा में, 'candy grass' को, 'producer dog' के रूप में कूटबद्ध किया जाता है, 'feature cable' को, 'bug remote' के रूप में कूटबद्ध किया जाता है, 'grass feature' को, 'dog bug' के रूप में कूटबद्ध किया जाता है और 'candy cable' को, 'producer remote' के रूप में कूटबद्ध किया जाता है। 'candy' का कूट क्या है?

- Ans
- 1. bug
 - 2. remote
 - 3. dog
 - 4. producer

Question ID : 26433069042

Status : Answered

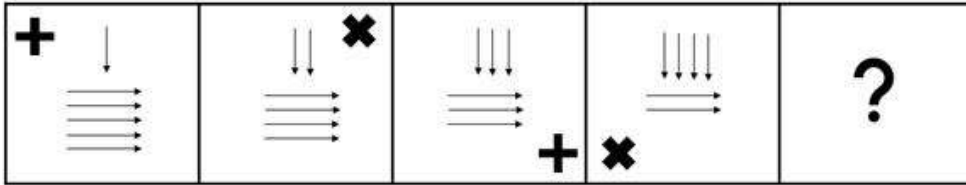
Chosen Option : 4

Q.10 निम्नलिखित में से कौन-सी संख्या दी गई श्रृंखला में प्रश्न-चिह्न (?) का स्थान लेगी?
286, 231, ?, 151, 126, 111

- Ans 1. 111
 2. 166
 3. 186
 4. 201

Question ID : 26433068097
 Status : Answered
 Chosen Option : 3

Q.11 उस आकृति का चयन करें, जो निम्न आकृति श्रृंखला में आगे आएगी।



- Ans
- 1.
- 2.
- 3.
- 4.

Question ID : 26433076492
 Status : Answered
 Chosen Option : 4

Q.12 सात व्यक्ति A, B, C, D, E, F और G एक सीधी पंक्ति में उत्तर की ओर मुख करके बैठे हैं। A बाईं ओर से दूसरे स्थान पर बैठा है। A और C के बीच केवल दो व्यक्ति बैठे हैं। D और F के बीच केवल तीन व्यक्ति बैठे हैं, और D, A के ठीक बगल में है। B, D के ठीक बगल में है, और E, C के ठीक बगल में नहीं है। अंतिम दाएं सिरे पर कौन बैठा है?

- Ans 1. G
 2. F
 3. E
 4. D

Question ID : 26433056932

Status : Not Answered

Chosen Option : --

Q.13 नीचे दिए गए समीकरण को गणितीय रूप से सही बनाने के लिए किन दो चिह्नों को परस्पर बदलना चाहिए?

$$12 \times 6 + 9 \div 3 - 4 = 25$$

- Ans 1. \times और $+$
 2. \times और \div
 3. $+$ और $-$
 4. $+$ और $-$

Question ID : 264330114180

Status : Answered

Chosen Option : 1

Q.14 निम्नलिखित में से कौन-सी संख्या दी गई श्रृंखला में प्रश्न-चिह्न (?) के स्थान पर आएगी?
2, 6, 12, 20, 30, 42, 56, 72, ?

- Ans 1. 78
 2. 90
 3. 80
 4. 84

Question ID : 26433069046

Status : Answered

Chosen Option : 3

Q.15 निम्नलिखित में से कौन-सा अक्षर नीचे दी गई अक्षर श्रृंखला में प्रश्न-चिह्न (?) के स्थान पर आकर श्रृंखला को पूर्ण करेगा?
F, P, I, S, L, V, ?

- Ans 1. O
 2. N
 3. M
 4. L

Question ID : 26433067282

Status : Answered

Chosen Option : 1

Q.16 निम्नलिखित में से कौन-सा पद दी गई शृंखला में प्रश्न-चिह्न (?) के स्थान पर आएगा?
EHGD, FGHC, GFIB, ?

Ans 1. HEJA

2. BEJA

3. REJA

4. SEHA

Question ID : 26433068632

Status : Answered

Chosen Option : 1

Q.17 तीन कथनों के बाद तीन निष्कर्ष I, II और III दिए गए हैं। कथनों को सत्य मानते हुए, भले ही वे सामान्य रूप से ज्ञात तथ्यों से भिन्न प्रतीत होते हों, निर्धारित करें कि कौन-सा/से निष्कर्ष, कथनों का तार्किक रूप से अनुसरण करता है/करते हैं।

कथन:

सभी हाथ उंगलियां हैं।

सभी पैर उंगलियां हैं।

सभी उंगलियां 'पैर के अंगूठे' हैं।

निष्कर्ष:

I. सभी 'पैर के अंगूठे' उंगलियां हैं।

II. कुछ 'पैर के अंगूठे' हाथ हैं।

III. कुछ 'पैर के अंगूठे' पैर हैं।

Ans 1. केवल निष्कर्ष I और III अनुसरण करते हैं

2. केवल निष्कर्ष II और III अनुसरण करते हैं

3. सभी निष्कर्ष अनुसरण करते हैं

4. केवल निष्कर्ष I और II अनुसरण करते हैं

Question ID : 26433082312

Status : Answered

Chosen Option : 2

Q.18 दी गई आकृति के सही दर्पण प्रतिबिम्ब का चयन करें जब दर्पण को MN पर रखा जाए जैसा कि नीचे दर्शाया गया है।

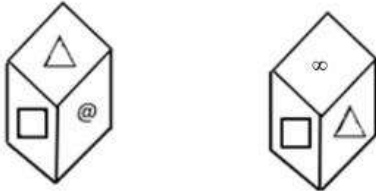


Ans

- ✗ 1. metaMoRphoSis
- ✗ 2. metaMoRphoSis
- ✓ 3. metaMoRphoSis
- ✗ 4. metaMoRphoSis

Question ID : 26433085546
 Status : Answered
 Chosen Option : 3

Q.19 एक ही पासे की दो अलग-अलग स्थितियों को दर्शाया गया है जिस पर @, Δ, □, Ω, ∞ और * चिह्न बने हैं। '@' दर्शाने वाले फलक के विपरीत फलक पर स्थित चिह्न ज्ञात कीजिए।



Ans

- ✗ 1. Ω
- ✗ 2. Δ
- ✓ 3. ∞
- ✗ 4. *

Question ID : 26433085509
 Status : Answered
 Chosen Option : 3

Q.20 छः लड़कियां - D, K, M, P, R और S एक वृत्ताकार मेज के परितः मेज के केंद्र की ओर मुख करके बैठी हैं। S, R के बाईं ओर तीसरे स्थान पर बैठी है। P, R के दाईं ओर ठीक बगल में, और D के बाईं ओर ठीक बगल में बैठी है। M, R के बाईं ओर ठीक बगल में बैठी है। K, S के दाईं ओर ठीक बगल में, और M के बाईं ओर ठीक बगल में बैठी है। यदि D और K अपना स्थान बदल लेती हैं, तो इनमें से कौन D के दाईं ओर ठीक बगल में बैठी होगी?

- Ans
- 1. S
 - 2. R
 - 3. P
 - 4. M

Question ID : 26433080473
Status : Not Answered
Chosen Option : --

Section : Part-B-General Knowledge and General awareness

Q.1 जब 'निर्यात' आयात से अधिक होता है, तो इसे _____ की स्थिति के रूप में जाना जाता है।

- Ans
- 1. व्यापार घाटा
 - 2. व्यापार अधिशेष
 - 3. राजकोषीय घाटा
 - 4. राजस्व अधिशेष

Question ID : 26433054782
Status : Answered
Chosen Option : 2

Q.2 खेलो इंडिया यूथ गेम्स को पहले _____ के रूप में जाना जाता था।

- Ans
- 1. खेलो इंडिया जीतो इंडिया
 - 2. खेलो भारत
 - 3. जीतो इंडिया यूथ गेम्स
 - 4. खेलो इंडिया स्कूल गेम्स

Question ID : 264330115914
Status : Answered
Chosen Option : 1

Q.3 लोकसभा का सदस्य बनने के लिए न्यूनतम आयु कितनी होनी चाहिए?

- Ans
- 1. 23 वर्ष
 - 2. 18 वर्ष
 - 3. 22 वर्ष
 - 4. 25 वर्ष

Question ID : 26433074910
Status : Answered
Chosen Option : 4

Q.4 बर्मी भारत के किस पड़ोसी देश की राजभाषा है?

- Ans
- 1. नेपाल
 - 2. भूटान
 - 3. तिब्बत
 - 4. म्यांमार

Question ID : 264330116100

Status : Answered

Chosen Option : 2

Q.5 अप्रैल 2022 में, दिल्ली के नए मुख्य सचिव के रूप में किसे नामित किया गया था?

- Ans
- 1. नरेश कुमार
 - 2. अमित सिंह
 - 3. संजय प्रसाद
 - 4. केशव प्रसाद मौर्य

Question ID : 264330114996

Status : Answered

Chosen Option : 2

Q.6 भारत में शरद का मौसम निम्नलिखित में से किस महीने के अंतराल के अंतर्गत आता है?

- Ans
- 1. मार्च से मई
 - 2. अक्टूबर से नवम्बर
 - 3. दिसम्बर से फरवरी
 - 4. जून से सितम्बर

Question ID : 264330115540

Status : Answered

Chosen Option : 3

Q.7 विश्वरूपम फिल्म के लिए सर्वश्रेष्ठ कोरियोग्राफी का राष्ट्रीय फिल्म पुरस्कार _____ को दिया गया था।

- Ans
- 1. अमाला अक्किनेनी
 - 2. एम आर कृष्णमूर्ति
 - 3. कलामंडलम गोपी
 - 4. पंडित बिरजू महाराज

Question ID : 264330115862

Status : Not Answered

Chosen Option : --

Q.8 किसी भी क्षेत्र का दाब एवं पवन तंत्र किस पर निर्भर करता है?

- Ans
- 1. स्थान का अक्षांश और ऊँचाई
 - 2. ऊँचाई और देशांतर
 - 3. समुद्र से दूरी और अक्षांश
 - 4. देशांतर और समुद्र से दूरी

Question ID : 26433087881

Status : Not Answered

Chosen Option : --

Q.9 भारतीय राष्ट्रीय कांग्रेस की स्थापना कब हुई थी?

- Ans
- 1. 1875
 - 2. 1865
 - 3. 1885
 - 4. 1895

Question ID : 26433090583

Status : Answered

Chosen Option : 3

Q.10 कंपनी (संशोधन) विधेयक, 2020 को लोकसभा में किस मंत्री द्वारा पेश किया गया था?

- Ans
- 1. अनुराग सिंह ठाकुर
 - 2. रमेश बिधुरी
 - 3. गौतम गंभीर
 - 4. नितिन गडकरी

Question ID : 264330116208

Status : Not Answered

Chosen Option : --

Q.11 अनुच्छेद _____ से _____ अन्य बातों के साथ-साथ राष्ट्रपति की योग्यता, कार्य और उनके कार्यकाल, निर्वाचन, पुनर्निर्वाचन की विधि और महाभियोग का वर्णन करते हैं।

- Ans
- 1. 50; 55
 - 2. 50; 60
 - 3. 52; 62
 - 4. 19; 21

Question ID : 26433089907

Status : Answered

Chosen Option : 3

Q.12 भगवान महावीर ने _____ वर्ष की आयु में घर छोड़ दिया और ज्ञान की तलाश में वे एक जंगल में रहने चले गए।

- Ans
- 1. तीस
 - 2. उन्तीस
 - 3. बत्तीस
 - 4. अट्ठाईस

Question ID : 26433085210

Status : Answered

Chosen Option : 2

Q.13 निम्नलिखित में से किस नियम के अनुसार, विद्युत धारा द्वारा उत्पन्न ऊष्मा चालक के प्रतिरोध, धारा के वर्ग और इसके प्रवाहित होने के समय के समानुपाती होती है?

- Ans
- 1. जूल नियम
 - 2. हुक का नियम
 - 3. फेराडे का नियम
 - 4. कूलम्ब का नियम

Question ID : 264330115147

Status : Answered

Chosen Option : 4

Q.14 ड्री (Dree), अरुणाचल प्रदेश का एक कृषि उत्सव है, यह _____ के महीने में मनाया जाता है।

- Ans
- 1. जून
 - 2. मई
 - 3. जुलाई
 - 4. अगस्त

Question ID : 264330115085

Status : Answered

Chosen Option : 2

Q.15 केंद्रक झिल्ली द्वारा केंद्रक को _____ से अलग किया जाता है।

- Ans
- 1. जीन
 - 2. कोशिका
 - 3. कोशिका द्रव्य
 - 4. रिक्तिका

Question ID : 264330115241

Status : Not Attempted and Marked For Review

Chosen Option : --

Q.16 व्यापार का _____ शेष वह होता है जिसमें जिसमें निर्यात की गई घरेलू वस्तुओं का मूल्य आयातित विदेशी वस्तुओं के मूल्य से अधिक होता है।

- Ans
- 1. प्रतिकूल
 - 2. अनुकूल
 - 3. अवांछनीय
 - 4. गरीब

Question ID : 264330115293

Status : Answered

Chosen Option : 3

Q.17 _____ के दौरान मुख्य फोकस सार्वजनिक क्षेत्र पर था, और इस दौरान देश में तेजी से औद्योगीकरण लाने की योजना बनाई गई थी।

- Ans
- 1. भारत में दूसरी पंचवर्षीय योजना
 - 2. भारत में प्रथम पंचवर्षीय योजना
 - 3. भारत में तीसरी पंचवर्षीय योजना
 - 4. भारत में पांचवीं पंचवर्षीय योजना

Question ID : 264330115365

Status : Answered

Chosen Option : 1

Q.18 निम्नलिखित राजनीतिक नेताओं में से कौन जून 2022 में पंजाब के संगरूर निर्वाचन क्षेत्र से संसद सदस्य बने?

- Ans
- 1. अरविंद केजरीवाल
 - 2. आजम खान
 - 3. भगवंत मान
 - 4. सिमरनजीत सिंह मान

Question ID : 264330114899

Status : Answered

Chosen Option : 3

Q.19 स्वामी विवेकानंद के जन्मदिन के उपलक्ष्य में 23वां राष्ट्रीय युवा महोत्सव _____ में आयोजित किया गया था।

- Ans
- 1. मुंबई
 - 2. दिल्ली
 - 3. देहरादून
 - 4. लखनऊ

Question ID : 264330116276

Status : Answered

Chosen Option : 3

Q.20 संगीत नाटक अकादमी द्वारा मई 2022 तक कितने भारतीय नृत्यों को शास्त्रीय नृत्य के रूप में मान्यता दी गई है?

- Ans
- 1. 10
 - 2. 12
 - 3. 5
 - 4. 8

Question ID : 26433074071

Status : Answered

Chosen Option : 4

Section : Part-C-Elementary Mathematics

Q.1 चार गायों को 30 m लंबाई और 20 m चौड़ाई के आयताकार खेत के 4 कोनों (प्रत्येक कोने पर एक) पर बांधा गया है। रस्सी की लंबाई 7 m है। खेत का ऐसा कितना क्षेत्र है जहाँ गायें चर नहीं सकती हैं? ($\pi = 22/7$ का उपयोग करें)

- Ans
- 1. 414 m²
 - 2. 446 m²
 - 3. 424 m²
 - 4. 434 m²

Question ID : 26433075478

Status : Not Answered

Chosen Option : --

Q.2 एक नाव धारा के दिशा में 12 km की दूरी 4 घंटे में तय करती है। यह धारा के विपरीत दिशा में 6 km की दूरी उतने समय में ही तय करती है। शांत जल में नाव की चाल (km /h में) ज्ञात कीजिए।

- Ans
- 1. 2.25
 - 2. 3.12
 - 3. 1.11
 - 4. 1.16

Question ID : 26433080050

Status : Answered

Chosen Option : 1

Q.3 किसी धनराशि को A, B और C के बीच 5 : 7 : 11 के अनुपात में बाँटा जाना है। यदि B को A से ₹1,500 अधिक मिलते हैं, तो B का हिस्सा क्या है?

- Ans
- 1. ₹6,750
 - 2. ₹3,750
 - 3. ₹8,250
 - 4. ₹5,250

Question ID : 26433080115

Status : Answered

Chosen Option : 4

Q.4 दो ट्रेने A और B एक सीधी रेखा पर एकदूसरे से 155 km की दूरी पर हैं। एक ट्रेन A से, 7:00 A.M. पर 20 km/h की चाल से B की ओर चलती है। दूसरी ट्रेन B से, 8:00 A.M. पर 25 km/h की चाल से A की ओर चलती है। वे किस समय मिलेंगी?

- Ans
- 1. 10:00 A.M.
 - 2. 12:00 A.M.
 - 3. 9:00 A.M.
 - 4. 11:00 A.M.

Question ID : 26433075506

Status : Not Answered

Chosen Option : --

Q.5 A और B मिलकर एक कार्य को 8 दिनों में पूरा कर सकते हैं। A अकेले इसे 16 दिनों में पूरा कर सकता है। यदि B 50 प्रतिशत क्षमता से कार्य करता है, तो A और B मिलकर कार्य को कितने दिनों में पूरा करेंगे?

- Ans
- 1. 55/7 दिन
 - 2. 47/3 दिन
 - 3. 34/3 दिन
 - 4. 32/3 दिन

Question ID : 264330116892

Status : Answered

Chosen Option : 4

Q.6 प्रथम 9 अभाज्य संख्याओं का औसत ज्ञात कीजिए।

- Ans
- 1. $\frac{98}{9}$
 - 2. $10\frac{2}{9}$
 - 3. $11\frac{2}{9}$
 - 4. $11\frac{1}{9}$

Question ID : 26433075716

Status : Not Answered

Chosen Option : --

Q.7 छः क्रमागत विषम संख्याओं का औसत 68 है। सबसे बड़ी और सबसे छोटी संख्या के बीच के अंतर का घन कितना है?

- Ans
- 1. 729
 - 2. 1331
 - 3. 1000
 - 4. 512

Question ID : 26433075755

Status : Marked For Review

Chosen Option : 4

Q.8 एक दुकानदार ने पाया कि उत्पाद का विक्रय मूल्य क्रय मूल्य का 90% है। विक्रय मूल्य Rs.90/kg है, अतः लाभ प्राप्त करने के लिए वह 1 kg के स्थान पर केवल 800 ग्राम तौलता है। इस उत्पाद के 1 kg को बेचने पर दुकानदार द्वारा अर्जित लाभ (रुपये में) ज्ञात कीजिए।

- Ans
- 1. 15
 - 2. 20
 - 3. 10
 - 4. 25

Question ID : 26433071314
Status : Answered
Chosen Option : 1

Q.9 प्रियांक सुसज्जित ना किया हुआ एक फ्लैट 6000000 रुपए में खरीदता है। उन्होंने इसे सुसज्जित किया और अंततः इसे 12000000 रुपए में बेच दिया। फ्लैट के मूल्य में प्रतिशत वृद्धि है:

- Ans
- 1. 60 प्रतिशत
 - 2. 100 प्रतिशत
 - 3. 40 प्रतिशत
 - 4. 50 प्रतिशत

Question ID : 264330116812
Status : Answered
Chosen Option : 2

Q.10 दो संख्याओं का महत्तम समापवर्तक (HCF) और लघुतम समापवर्त्य (LCM) क्रमशः 6 और 3024 है। यदि एक संख्या 54 है, तो दूसरी संख्या ज्ञात करें।

- Ans
- 1. 506
 - 2. 336
 - 3. 334
 - 4. 504

Question ID : 26433080088
Status : Answered
Chosen Option : 2

Q.11 रलेश ने एक बाइक Rs.64,000 में खरीदी और उसे Rs.60,000 में बेच दिया। रलेश को कितने प्रतिशत हानि का सामना करना पड़ा?

- Ans
- 1. 5.25%
 - 2. 6.00%
 - 3. 6.25%
 - 4. 5.65%

Question ID : 26433080301
Status : Answered
Chosen Option : 3

Q.12 अंकित मूल्य पर 15% की छूट के बाद, लाभ 5% है। 8% लाभ प्राप्त करने के लिए अंकित मूल्य पर कितने प्रतिशत की छूट होनी चाहिए (एक दशमलव स्थान तक पूर्णांकित)?

- Ans 1. 12.6%
2. 10.2%
3. 11.5%
4. 9.2%

Question ID : 26433085448

Status : Answered

Chosen Option : 4

Q.13 दो व्यक्ति P और Q मिलकर कार्य करते हुए किसी कार्य को 18 दिनों में पूरा कर सकते हैं। Q अकेले इसे 36 दिनों में कर सकता है। Q ने कार्य करना प्रारंभ किया और 6 दिन कार्य करने के बाद उसने कार्य छोड़ दिया। फिर P ने शेष कार्य अपने हाथ में ले लिया। शेष कार्य पूरा करने में P को कितने दिन लगेंगे?

- Ans 1. 30
2. 40
3. 50
4. 20

Question ID : 26433074463

Status : Answered

Chosen Option : 1

Q.14 एक विक्रेता ने एक पंखे के अंकित मूल्य पर 30% की छूट की घोषणा की। यदि पंखे का विक्रय मूल्य Rs.2,800 है, तो पंखे का अंकित मूल्य कितना था?

- Ans 1. Rs.2,930
2. Rs.3,000
3. Rs.3,500
4. Rs.4,000

Question ID : 26433083038

Status : Answered

Chosen Option : 4

Q.15 दो उम्मीदवारों के बीच एक चुनाव में, डाले गए मतों के 58% मत प्राप्त करने वाला व्यक्ति 4,032 मतों के बहुमत से निर्वाचित होता है। डाले गए मतों की कुल संख्या कितनी है?

- Ans 1. 24,800
2. 25,800
3. 24,600
4. 25,200

Question ID : 26433080358

Status : Answered

Chosen Option : 4

Q.16 एक व्यक्ति एक निश्चित धनराशि उधार लेता है और उसका भुगतान 2 वर्षों में दो समान किश्तों में कर देता है। यदि वार्षिक चक्रवृद्धि के मामले में चक्रवृद्धि ब्याज की गणना 5% प्रतिवर्ष की दर से की जाती है और वह वार्षिक रूप से Rs.882 का भुगतान करता है, तो उसने कितनी धनराशि उधार ली थी?

- Ans
- 1. Rs.1,682
 - 2. Rs.1,650
 - 3. Rs.1,640
 - 4. Rs.1,600

Question ID : 26433075502
Status : Answered
Chosen Option : 4

Q.17 निम्न में से कौन-सी संख्या 24 से विभाज्य है?

- Ans
- 1. 2940
 - 2. 1458
 - 3. 2856
 - 4. 1860

Question ID : 26433079901
Status : Answered
Chosen Option : 3

Q.18 यदि 8 और 18 का तीसरा समानुपात 2, 81 और $x^2 + 2x + 2$ के चौथे समानुपात के समान है, तो x का मान ज्ञात करें।

- Ans
- 1. 2
 - 2. 1
 - 3. -2
 - 4. -1

Question ID : 26433079944
Status : Answered
Chosen Option : 3

Q.19 एक निश्चित राशि के लिए 20% प्रति वर्ष की ब्याज दर पर $1\frac{1}{2}$ वर्ष के चक्रवृद्धि और साधारण ब्याज के बीच का अंतर Rs.6,200 है, जब ब्याज अर्ध-वार्षिक रूप से चक्रवृद्धि किया जाता है, तो वह धनराशि ज्ञात कीजिए।

- Ans
- 1. Rs. 2,15,520
 - 2. Rs. 2,00,000
 - 3. Rs. 2,12,000
 - 4. Rs. 2,10,300

Question ID : 26433083046
Status : Answered
Chosen Option : 2

Q.20 एक लम्ब वृत्तीय बेलन का आयतन 180 cm^3 , इसके आधार का क्षेत्रफल 30 cm^2 और ऊँचाई 6 cm है, तो बेलन का व्यास (cm में) _____ है।

Ans

✓ 1. $2\sqrt{\frac{30}{\pi}}$

✗ 2. $\sqrt{30}$

✗ 3. $\sqrt{\frac{30}{\pi}}$

✗ 4. $2\sqrt{30}$

Question ID : 26433079974

Status : Answered

Chosen Option : 1

Section : Part-D-English

Q.1 Select the most appropriate synonym of the word given in the brackets to fill in the blank.

The increasing population of a country can be a _____ (affliction) for the development of a country.

Ans

✓ 1. bane

✗ 2. boon

✗ 3. brittleness

✗ 4. boom

Question ID : 26433071890

Status : Not Answered

Chosen Option : --

Q.2 Select the correctly spelt word.

Ans

✗ 1. Ricipit

✗ 2. Reicipit

✗ 3. Reciept

✓ 4. Receipt

Question ID : 26433086495

Status : Not Answered

Chosen Option : --

Q.3 Select the most appropriate ANTONYM of the given word.

Ponderous

- Ans
- 1. Adverse
 - 2. Swollen
 - 3. Obligated
 - 4. Graceful

Question ID : 26433071837
Status : Not Answered
Chosen Option : --

Q.4 Select the most appropriate ANTONYM of the given word.

Alienate

- Ans
- 1. Alternate
 - 2. Alter
 - 3. Renounce
 - 4. Reconcile

Question ID : 26433074440
Status : Not Answered
Chosen Option : --

Q.5 Select the most appropriate meaning of the given idiom.

Gate-crasher

- Ans
- 1. A blind person
 - 2. Thick grass
 - 3. A person who enters an event without any invitation
 - 4. A cobra that lives in gardens

Question ID : 26433072575
Status : Not Answered
Chosen Option : --

Q.6 Select the most appropriate option to fill in the blank.

APJ Abdul Kalam was born in a middle class family. He was a short boy _____ ordinary looks.

- Ans
- 1. with as
 - 2. neither
 - 3. with rather
 - 4. with either

Question ID : 26433072728
Status : Not Answered
Chosen Option : --

Q.7 Select the most appropriate meaning of the given idiom.

Bear a grudge

- Ans
- 1. To entertain the guests with utmost happiness
 - 2. To consider people with kindness and care
 - 3. To feel satisfied with the achievements
 - 4. To feel angry against somebody for a past incident

Question ID : 26433073480

Status : Not Answered

Chosen Option : --

Q.8 Select the most appropriate ANTONYM to substitute the underlined word in the given sentence.

This certainly was a feeble attempt to capture the culprit.

- Ans
- 1. enviable
 - 2. treble
 - 3. refraining
 - 4. powerful

Question ID : 26433074011

Status : Not Answered

Chosen Option : --

Q.9 Select the option that expresses the given sentence in past tense form.

Aksa Thomas comes to attend the session so early.

- Ans
- 1. Aksa Thomas may come to attend the session so early.
 - 2. Aksa Thomas came to attend the session so early.
 - 3. Aksa Thomas has come to attend the session so early.
 - 4. Aksa Thomas will come to attend the session so early.

Question ID : 26433089297

Status : Not Answered

Chosen Option : --

Q.10 Select the most appropriate option to fill in the blank.

He is usually calm but today he appears rather _____.

- Ans
- 1. disturbed
 - 2. quiet
 - 3. undisturbed
 - 4. relaxed

Question ID : 26433074065

Status : Not Answered

Chosen Option : --

Q.11 Select the most appropriate option that can substitute the underlined segment in the given sentence.

Dogs are the most adorable and lovable beings to tie.

- Ans
- 1. beings to see
 - 2. pets to keep
 - 3. animals to play
 - 4. organisms to watch

Question ID : 26433088504
Status : Not Answered
Chosen Option : --

Q.12 Select the most appropriate synonym of the given word.

Eligible

- Ans
- 1. Sufficient
 - 2. Efficient
 - 3. Qualified
 - 4. Disinterested

Question ID : 26433073394
Status : Not Answered
Chosen Option : --

Q.13 Select the most appropriate option that can substitute the underlined segment in the given sentence.

The collision was witnessed by the pedestrians.

- Ans
- 1. protest march
 - 2. violent accident
 - 3. funeral procession
 - 4. powerful blast

Question ID : 26433099871
Status : Not Answered
Chosen Option : --

Q.14 Select the INCORRECTLY spelt word.

- Ans
- 1. Thankful
 - 2. Merciful
 - 3. Plentiful
 - 4. Dutyful

Question ID : 26433073502
Status : Not Answered
Chosen Option : --

Q.15 Select the most appropriate synonym of the given word.

Ample

- Ans
- 1. Sample
 - 2. Temple
 - 3. Entertain
 - 4. Sufficient

Question ID : 26433072188

Status : Not Answered

Chosen Option : --

Comprehension:

In the following passage, some words have been deleted. Read the passage carefully and select the most appropriate option to fill in each blank.

Reaching the stall from which the sound was emanating, he saw that it was deserted. It was festooned (1)_____ flowers: blue-bells and foxgloves and harebells and daffodils, but also with violets and lilies. The use and function of these flowers is chiefly (2)_____; they bring pleasure; they can be given to a loved one as a token of admiration and affection, and the sound they make is pleasing (3)_____ the ear. Also, they catch the light (4)_____ delightfully. Dustan could not but observe that the colour of sunlight glittering through the purple crystal was inferior in both (5)_____ to that of her eyes.

SubQuestion No : 16

Q.16 Select the most appropriate option to fill in blank number 1.

- Ans
- 1. with
 - 2. on
 - 3. by
 - 4. upon

Question ID : 26433060871

Status : Not Answered

Chosen Option : --

Comprehension:

In the following passage, some words have been deleted. Read the passage carefully and select the most appropriate option to fill in each blank.

Reaching the stall from which the sound was emanating, he saw that it was deserted. It was festooned (1)_____ flowers: blue-bells and foxgloves and harebells and daffodils, but also with violets and lilies. The use and function of these flowers is chiefly (2)_____; they bring pleasure; they can be given to a loved one as a token of admiration and affection, and the sound they make is pleasing (3)_____ the ear. Also, they catch the light (4)_____ delightfully. Dustan could not but observe that the colour of sunlight glittering through the purple crystal was inferior in both (5)_____ to that of her eyes.

SubQuestion No : 17

Q.17 Select the most appropriate option to fill in blank number 2.

- Ans
- 1. glittering
 - 2. repellent and frivolous
 - 3. admiration and affection
 - 4. decorative and recreational

Question ID : 26433060872

Status : Not Answered

Chosen Option : --

Comprehension:

In the following passage, some words have been deleted. Read the passage carefully and select the most appropriate option to fill in each blank.

Reaching the stall from which the sound was emanating, he saw that it was deserted. It was festooned (1) _____ flowers: blue-bells and foxgloves and harebells and daffodils, but also with violets and lilies. The use and function of these flowers is chiefly (2) _____; they bring pleasure; they can be given to a loved one as a token of admiration and affection, and the sound they make is pleasing (3) _____ the ear. Also, they catch the light (4) _____ delightfully. Dustan could not but observe that the colour of sunlight glittering through the purple crystal was inferior in both (5) _____ to that of her eyes.

SubQuestion No : 18

Q.18 Select the most appropriate option to fill in blank number 3.

- Ans
- 1. for
 - 2. as far as
 - 3. to
 - 4. upon

Question ID : 26433060873

Status : Not Answered

Chosen Option : --

Comprehension:

In the following passage, some words have been deleted. Read the passage carefully and select the most appropriate option to fill in each blank.

Reaching the stall from which the sound was emanating, he saw that it was deserted. It was festooned (1) _____ flowers: blue-bells and foxgloves and harebells and daffodils, but also with violets and lilies. The use and function of these flowers is chiefly (2) _____; they bring pleasure; they can be given to a loved one as a token of admiration and affection, and the sound they make is pleasing (3) _____ the ear. Also, they catch the light (4) _____ delightfully. Dustan could not but observe that the colour of sunlight glittering through the purple crystal was inferior in both (5) _____ to that of her eyes.

SubQuestion No : 19

Q.19 Select the most appropriate option to fill in blank number 4.

- Ans
- 1. so
 - 2. more
 - 3. much
 - 4. such

Question ID : 26433060874

Status : Not Answered

Chosen Option : --

Comprehension:

In the following passage, some words have been deleted. Read the passage carefully and select the most appropriate option to fill in each blank.

Reaching the stall from which the sound was emanating, he saw that it was deserted. It was festooned (1)_____ flowers: blue-bells and foxgloves and harebells and daffodils, but also with violets and lilies. The use and function of these flowers is chiefly (2)_____; they bring pleasure; they can be given to a loved one as a token of admiration and affection, and the sound they make is pleasing (3)_____ the ear. Also, they catch the light (4)_____ delightfully. Dustan could not but observe that the colour of sunlight glittering through the purple crystal was inferior in both (5)_____ to that of her eyes.

SubQuestion No : 20

Q.20 Select the most appropriate option to fill in blank number 5.

- Ans 1. aroma and fragrance
 2. hue and shade
 3. shape and size
 4. texture and touch

Question ID : 26433060875

Status : Not Answered

Chosen Option : --

Section : Part-D-Hindi

Q.1 वर्तनी की दृष्टि से शुद्ध वाक्य का चयन कीजिए-

- Ans 1. वह मरणासन्न था, इसीलिए मैंने उसे छमा कर दिया।
 2. विनय चुसत न हो पर है समझदार।
 3. यदि वह घर पर मिलेगा तो मैं अवश्य जाऊँगा।
 4. ज्यों ही मैं वहाँ पहुँचा त्यों ही घंटा बजा।

Question ID : 26433062896

Status : Answered

Chosen Option : 4

Q.2 निम्नलिखित में से 'अंतर' का अर्थ नहीं होता है-

- Ans 1. हृदय
 2. दूरी
 3. शेष
 4. आकाश

Question ID : 26433080948

Status : Answered

Chosen Option : 1

Q.3 'अपना हस्ताक्षर लगा दो।' इस वाक्य में रेखांकित शब्द के स्थान पर उपयुक्त शब्द के प्रयोग से वाक्य को शुद्ध करें।

- Ans
- 1. मिला
 - 2. कर
 - 3. जोड़
 - 4. सटा

Question ID : 26433062207

Status : Answered

Chosen Option : 2

Q.4 'फूंक से पहाड़ उड़ाना' मुहावरे का सही अर्थ है -

- Ans
- 1. बड़ा काम करना
 - 2. असम्भव कार्य करने की कोशिश करना
 - 3. बड़ी-बड़ी बातें करना
 - 4. झूठी बातें करना

Question ID : 26433065928

Status : Answered

Chosen Option : 2

Q.5 'संपन्न को सब सुख प्राप्त हो जाते हैं और _____ सदा तरसता ही रह जाता है।' 'संपन्न' के विलोम शब्द से उक्त वाक्य पूर्ण करें।

- Ans
- 1. वीर
 - 2. अपंग
 - 3. विपन्न
 - 4. शाही

Question ID : 26433080874

Status : Marked For Review

Chosen Option : 2

Q.6 निम्नलिखित में से अशुद्ध वाक्य कौन-सा है?

- Ans
- 1. मेरे प्राण निकल गए।
 - 2. राजीव ने भरपेट खाना खाया।
 - 3. केशव रोटी खा लिया है।
 - 4. अक्षत पाठशाला से सीधे घर चला गया।

Question ID : 26433066984

Status : Answered

Chosen Option : 3

Q.7 'जो पृथ्वी से संबद्ध है' वाक्यांश के लिए इनमें से सही शब्द क्या है?

- Ans
- 1. पहाड़
 - 2. पर्वत
 - 3. पार्थिव
 - 4. पठार

Question ID : 26433070148

Status : Answered

Chosen Option : 3

Q.8 "इस विषय पर प्राचार्य ने क्या निर्णय किया?"

इस वाक्य में क्रिया सम्बन्धी त्रुटि पहचानकर निम्नलिखित में से शुद्ध वाक्य का चयन कीजिए।

- Ans
- 1. इस विषय पर प्राचार्य ने क्या निर्णय प्रदान किया?
 - 2. इस विषय पर प्राचार्य ने क्या निर्णय कहा?
 - 3. इस विषय पर प्राचार्य ने क्या निर्णय लिया?
 - 4. इस विषय पर प्राचार्य ने क्या निर्णय दिया?

Question ID : 26433066972

Status : Answered

Chosen Option : 3

Q.9 'रसोईघर _____ ।'

उपर्युक्त वाक्य में रिक्त स्थान के लिए उपयुक्त विकल्प निम्न में से क्या होगा?

- Ans
- 1. का अर्थ है- रसोइये का घर
 - 2. का अर्थ है- रसोई का घर
 - 3. का अर्थ है- रसोई में बना हुआ घर
 - 4. का अर्थ है- रसोई का बनाया हुआ घर

Question ID : 26433067042

Status : Answered

Chosen Option : 1

Q.10 'दूसरों की उन्नति को देखकर जलने वाला' इस वाक्यांश के लिए सार्थक शब्द है -

- Ans
- 1. क्रोधी
 - 2. गुस्सैल
 - 3. कृपालु
 - 4. ईर्ष्यालु

Question ID : 26433062331

Status : Answered

Chosen Option : 4

Q.11 "लड़कों ने लड़कियों से साथ नाचा।"
उपरोक्त वाक्य में कारक सम्बन्धी त्रुटि पहचानकर निम्नलिखित में से शुद्ध वाक्य का चयन कीजिए।

- Ans
- 1. लड़के लड़कियों के साथ नाचे।
 - 2. लड़के लड़कियों ने साथ नाचे।
 - 3. लड़कों ने लड़कियों से नाचे।
 - 4. लड़कों ने लड़कियों के साथ नाचा।

Question ID : 26433066968

Status : Answered

Chosen Option : 1

Q.12 'भेट' के दो अर्थों में से एक अर्थ 'मुलाकात' है। दूसरे अर्थ से निम्न वाक्य को पूर्ण कीजिए।
अतिथि को _____ देकर सम्मानित किया गया।

- Ans
- 1. पुष्पगुच्छ
 - 2. मानपत्र
 - 3. उपहार
 - 4. एक लाख रुपए

Question ID : 26433079239

Status : Answered

Chosen Option : 1

Q.13 'रामू बेहद गरीब है।'
उपरोक्त वाक्य में रेखांकित शब्द के उपयुक्त पर्यायवाची शब्द का चयन कीजिए।

- Ans
- 1. निबद्ध
 - 2. निर्बाध
 - 3. निस्सार
 - 4. निर्धन

Question ID : 26433079719

Status : Answered

Chosen Option : 4

Q.14 'मुसीबत में और मुसीबत आना' किस मुहावरे का अर्थ है?

- Ans
- 1. ओछे की प्रीति बालू की भीति
 - 2. एक अनार सौ बीमार
 - 3. ककड़ी चोर और फांसी की सजा
 - 4. कंगाली में आटा गीला

Question ID : 26433062607

Status : Answered

Chosen Option : 4

Q.15 'जो अपना भोजन स्वयं पकाता है' वाक्यांश के लिए उचित शब्द क्या होगा?

- Ans
- 1. स्वयंपाठी
 - 2. स्वयंभू
 - 3. स्वयंसेवक
 - 4. स्वयंपाकी

Question ID : 26433067065

Status : Answered

Chosen Option : 4

Comprehension:

निम्नलिखित गद्यांश में कुछ शब्दों को हटा दिया गया है। दिए गए विकल्पों की सहायता से रिक्त स्थानों की पूर्ति कीजिए। प्रत्येक संख्या के लिए सबसे उपयुक्त विकल्प का चयन करें।

सुख 1. _____ से उत्पन्न होता है। सुख जड़ता से भी उत्पन्न होता है। पुराने जमाने के लोग सुखी इसलिए थे, क्योंकि 2. _____ में उन्हें विश्वास था। उस जमाने के नमूने आज भी हैं, मगर वे 3. _____ में कम मिलते हैं। उनका जमघट गाँवों, कस्बों या छोटे-छोटे नगरों में है। इनके बहुत अधिक असंतुष्ट न होने का कारण यह है कि जो 4. _____ उनके बस में नहीं है, उन्हें वे अदृश्य की इच्छा पर छोड़कर निश्चित हो जाते हैं। इसी प्रकार सुखी वे लोग भी होते हैं, जो सच्चे अर्थों में जड़तावादी हैं, क्योंकि उनकी 5. _____ पर कठखोदी चिड़िया चोंच नहीं मारा करती, किंतु जो न जड़ता को स्वीकार करता है, न ईश्वर के अस्तित्व को तथा जो पूरे मन से न तो जड़ता का त्याग करता है और न ईश्वर के अस्तित्व को।

SubQuestion No : 16

Q.16 रिक्त स्थान 1 की पूर्ति के लिए सबसे उपयुक्त विकल्प का चयन करें।

- Ans
- 1. विश्वास
 - 2. शंका
 - 3. अविश्वास
 - 4. संदेह

Question ID : 264330110891

Status : Answered

Chosen Option : 1

Comprehension:

निम्नलिखित गद्यांश में कुछ शब्दों को हटा दिया गया है। दिए गए विकल्पों की सहायता से रिक्त स्थानों की पूर्ति कीजिए। प्रत्येक संख्या के लिए सबसे उपयुक्त विकल्प का चयन करें।

सुख 1. _____ से उत्पन्न होता है। सुख जड़ता से भी उत्पन्न होता है। पुराने जमाने के लोग सुखी इसलिए थे, क्योंकि 2. _____ में उन्हें विश्वास था। उस जमाने के नमूने आज भी हैं, मगर वे 3. _____ में कम मिलते हैं। उनका जमघट गाँवों, कस्बों या छोटे-छोटे नगरों में है। इनके बहुत अधिक असंतुष्ट न होने का कारण यह है कि जो 4. _____ उनके बस में नहीं है, उन्हें वे अदृश्य की इच्छा पर छोड़कर निश्चित हो जाते हैं। इसी प्रकार सुखी वे लोग भी होते हैं, जो सच्चे अर्थों में जड़तावादी हैं, क्योंकि उनकी 5. _____ पर कठखोदी चिड़िया चोंच नहीं मारा करती, किंतु जो न जड़ता को स्वीकार करता है, न ईश्वर के अस्तित्व को तथा जो पूरे मन से न तो जड़ता का त्याग करता है और न ईश्वर के अस्तित्व को।

SubQuestion No : 17

Q.17 रिक्त स्थान 2 की पूर्ति के लिए सबसे उपयुक्त विकल्प का चयन करें।

- Ans
- 1. राज सत्ता
 - 2. असुर की सत्ता
 - 3. ईश्वर की सत्ता
 - 4. मानव की सत्ता

Question ID : 264330110892

Status : Answered

Chosen Option : 3

Comprehension:

निम्नलिखित गद्यांश में कुछ शब्दों को हटा दिया गया है। दिए गए विकल्पों की सहायता से रिक्त स्थानों की पूर्ति कीजिए। प्रत्येक संख्या के लिए सबसे उपयुक्त विकल्प का चयन करें।

सुख 1. _____ से उत्पन्न होता है। सुख जड़ता से भी उत्पन्न होता है। पुराने जमाने के लोग सुखी इसलिए थे, क्योंकि 2. _____ में उन्हें विश्वास था। उस जमाने के नमूने आज भी हैं, मगर वे 3. _____ में कम मिलते हैं। उनका जमघट गाँवों, कस्बों या छोटे-छोटे नगरों में है। इनके बहुत अधिक असंतुष्ट न होने का कारण यह है कि जो 4. _____ उनके बस में नहीं है, उन्हें वे अदृश्य की इच्छा पर छोड़कर निश्चित हो जाते हैं। इसी प्रकार सुखी वे लोग भी होते हैं, जो सच्चे अर्थों में जड़तावादी हैं, क्योंकि उनकी 5. _____ पर कठखोदी चिड़िया चोंच नहीं मारा करती, किंतु जो न जड़ता को स्वीकार करता है, न ईश्वर के अस्तित्व को तथा जो पूरे मन से न तो जड़ता का त्याग करता है और न ईश्वर के अस्तित्व को।

SubQuestion No : 18

Q.18 रिक्त स्थान 3 की पूर्ति के लिए सबसे उपयुक्त विकल्प का चयन करें।

- Ans 1. महानगरों
 2. गाँवों
 3. गलियों
 4. नुक्कड़ों

Question ID : 264330110893

Status : Answered

Chosen Option : 1

Comprehension:

निम्नलिखित गद्यांश में कुछ शब्दों को हटा दिया गया है। दिए गए विकल्पों की सहायता से रिक्त स्थानों की पूर्ति कीजिए। प्रत्येक संख्या के लिए सबसे उपयुक्त विकल्प का चयन करें।

सुख 1. _____ से उत्पन्न होता है। सुख जड़ता से भी उत्पन्न होता है। पुराने जमाने के लोग सुखी इसलिए थे, क्योंकि 2. _____ में उन्हें विश्वास था। उस जमाने के नमूने आज भी हैं, मगर वे 3. _____ में कम मिलते हैं। उनका जमघट गाँवों, कस्बों या छोटे-छोटे नगरों में है। इनके बहुत अधिक असंतुष्ट न होने का कारण यह है कि जो 4. _____ उनके बस में नहीं है, उन्हें वे अदृश्य की इच्छा पर छोड़कर निश्चित हो जाते हैं। इसी प्रकार सुखी वे लोग भी होते हैं, जो सच्चे अर्थों में जड़तावादी हैं, क्योंकि उनकी 5. _____ पर कठखोदी चिड़िया चोंच नहीं मारा करती, किंतु जो न जड़ता को स्वीकार करता है, न ईश्वर के अस्तित्व को तथा जो पूरे मन से न तो जड़ता का त्याग करता है और न ईश्वर के अस्तित्व को।

SubQuestion No : 19

Q.19 रिक्त स्थान 4 की पूर्ति के लिए सबसे उपयुक्त विकल्प का चयन करें।

- Ans 1. रचना
 2. चीज़
 3. सूखा
 4. कुसुम

Question ID : 264330110894

Status : Answered

Chosen Option : 2

Comprehension:

निम्नलिखित गद्यांश में कुछ शब्दों को हटा दिया गया है। दिए गए विकल्पों की सहायता से रिक्त स्थानों की पूर्ति कीजिए। प्रत्येक संख्या के लिए सबसे उपयुक्त विकल्प का चयन करें।

सुख 1. _____ से उत्पन्न होता है। सुख जड़ता से भी उत्पन्न होता है। पुराने जमाने के लोग सुखी इसलिए थे, क्योंकि 2. _____ में उन्हें विश्वास था। उस जमाने के नमूने आज भी हैं, मगर वे 3. _____ में कम मिलते हैं। उनका जमघट गाँवों, कस्बों या छोटे-छोटे नगरों में है। इनके बहुत अधिक असंतुष्ट न होने का कारण यह है कि जो 4. _____ उनके बस में नहीं है, उन्हें वे अदृश्य की इच्छा पर छोड़कर निश्चित हो जाते हैं। इसी प्रकार सुखी वे लोग भी होते हैं, जो सच्चे अर्थों में जड़तावादी हैं, क्योंकि उनकी 5. _____ पर कठखोदी चिड़िया चोंच नहीं मारा करती, किंतु जो न जड़ता को स्वीकार करता है, न ईश्वर के अस्तित्व को तथा जो पूरे मन से न तो जड़ता का त्याग करता है और न ईश्वर के अस्तित्व को।

SubQuestion No : 20

Q.20 रिक्त स्थान 5 की पूर्ति के लिए सबसे उपयुक्त विकल्प का चयन करें।

Ans 1. हाथ

2. आत्मा

3. बालों

4. आँखें

Question ID : 264330110895

Status : Answered

Chosen Option : 2

WWW.GOV TJOB SALEKIN