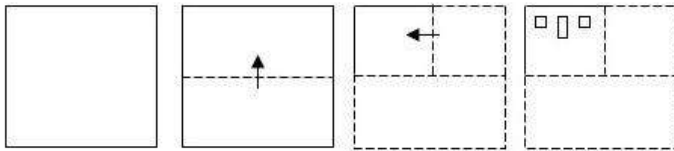


Constable GD in CAPFs SSF Rifleman GD in Assam Rifles and Sepoy in NCB Examination 2022

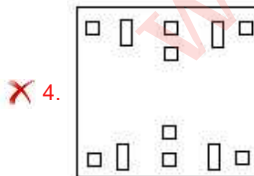
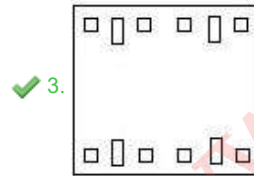
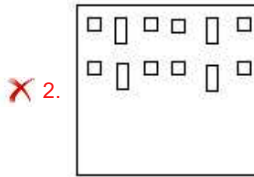
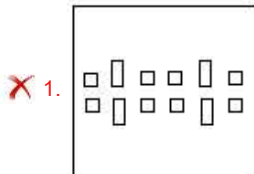
Roll Number	www.govtjobsalert.in
Candidate Name	www.govtjobsalert.in
Venue Name	iON Digital Zone iDZ Bhagalpur
Exam Date	23/01/2023
Exam Time	11:45 AM - 12:45 PM
Subject	Constable GD Examination 2022

Section : Part-A-General Intelligence and Reasoning

Q.1 एक कागज को नीचे दिखाए अनुसार मोड़ा और काटा गया है। कागज की तह खुलने पर यह कैसा दिखाई देगा?



Ans



Question ID : 26433090956

Status : Answered

Chosen Option : 3

Q.2 निम्नलिखित में से कौन सा विकल्प नीचे दिए गए शब्दों के उस क्रम को निरूपित करता है जिस क्रम में वे अंग्रेजी शब्दकोश में आते हैं?

1. Leave
2. Learn
3. Leap
4. Lease
5. Least

Ans ✓ 1. 3, 2, 4, 5, 1

✗ 2. 3, 2, 4, 1, 5

✗ 3. 3, 4, 2, 1, 5

✗ 4. 2, 3, 4, 1, 5

Question ID : 26433086970

Status : Answered

Chosen Option : 1

Q.3 निम्नलिखित में से कौन सी संख्या दी गई श्रृंखला में प्रश्न चिह्न (?) के स्थान पर आएगी?
5, 9, 25, 97, 481, ?

Ans ✗ 1. 2788

✗ 2. 2885

✗ 3. 2684

✓ 4. 2881

Question ID : 26433085643

Status : Answered

Chosen Option : 4

Q.4 नीचे दिए गए समीकरण को गणितीय रूप से सही बनाने के लिए किन दो चिन्हों को परस्पर बदलना चाहिए?

$$124 - 8 + 96 \div 16 \times 20 = 12$$

Ans ✓ 1. - और +

✗ 2. × और ÷

✗ 3. - और ×

✗ 4. + और ÷

Question ID : 264330117496

Status : Answered

Chosen Option : 1

Q.5 एक निश्चित कूट भाषा में 'Love And Light' को 513 लिखा जाता है। 'Love Sugar' को 437 लिखा जाता है और 'Sugar And Spice' को 614 लिखा जाता है। 'Love' शब्द का आंकिक कूट क्या है?

Ans ✗ 1. 1

✗ 2. 7

✓ 3. 3

✗ 4. 4

Question ID : 26433090109

Status : Answered

Chosen Option : 3

Q.6 A @ B का अर्थ है 'A, B की बहन है'।
A & B का अर्थ है 'A, B का भाई है'।
A # B का अर्थ है 'A, B की पत्नी है'।
A ^ B का अर्थ है 'A, B की माता है'।
A + B का अर्थ है 'A, B के पिता है'।
यदि U + Q ^ R @ N & C ^ I @ J # A है, तो निम्नलिखित में से कौन-सा कथन सही नहीं है?

- Ans
- 1. C, Q की पुत्री है।
 - 2. A, C का पुत्र है।
 - 3. Q, N की माता है।
 - 4. U, R के नाना है।

Question ID : 26433068948
Status : Not Answered
Chosen Option : --

Q.7 उस विकल्प का चयन कीजिए जो पांचवें अक्षर-समूह से उसी प्रकार संबंधित है जिस प्रकार दूसरा अक्षर-समूह पहले अक्षर-समूह से संबंधित है और चौथा अक्षर-समूह तीसरे अक्षर-समूह से संबंधित है।
FACTORY : AFTCYRO :: FASHION : AFHSNOI :: EXPLAIN : ?

- Ans
- 1. EXALPNI
 - 2. NIALPXE
 - 3. XELPNIA
 - 4. PLAINEX

Question ID : 26433069634
Status : Answered
Chosen Option : 3

Q.8 एक निश्चित कूट भाषा में, 'CHILL' को 'HDNHQ' और 'HARSH' को 'MWWOM' लिखा जाता है। उसी कूट भाषा में 'DEVIL' को किस प्रकार लिखा जाएगा?

- Ans
- 1. JBECQ
 - 2. IAAEQ
 - 3. JAERQ
 - 4. IBADQ

Question ID : 26433068142
Status : Not Answered
Chosen Option : --

Q.9 छः विद्यार्थी एक वृत्ताकार मेज के परितः मेज के केंद्र की ओर मुख करके बैठे हैं। A, C के बाईं ओर ठीक बगल में बैठा है। E, D के दाईं ओर तीसरे स्थान पर बैठा है। D, C के ठीक बगल में बैठा है। B, E और F दोनों के ठीक बगल में बैठा है। F के दाईं ओर ठीक बगल में कौन बैठा है?

- Ans
- 1. C
 - 2. B
 - 3. E
 - 4. D

Question ID : 26433079506
Status : Answered
Chosen Option : 2

Q.10 तीन कथनों के बाद तीन निष्कर्ष I, II और III दिए गए हैं। कथनों को सत्य मानते हुए, भले ही वे सामान्य रूप से ज्ञात तथ्यों से भिन्न प्रतीत होते हों, निर्धारित करें कि कौन-सा/से निष्कर्ष कथनों का तार्किक रूप से अनुसरण करता है/करते हैं।

कथन:

कुछ पंखे बड़े हैं।
सभी बड़े कोट हैं।
कुछ कोट फ्लैट हैं।

निष्कर्ष:

I. सभी पंखे बड़े हैं।
II. कुछ कोट बड़े हैं।
III. कुछ फ्लैट कोट हैं।

- Ans 1. निष्कर्ष I और III दोनों अनुसरण करते हैं।
 2. निष्कर्ष II और III दोनों अनुसरण करते हैं।
 3. निष्कर्ष I और II दोनों अनुसरण करते हैं।
 4. सभी निष्कर्ष अनुसरण करते हैं।

Question ID : 26433074636

Status : Answered

Chosen Option : 2

Q.11 निम्नलिखित में से कौन-सी संख्या दी गई श्रंखला में प्रश्न-चिह्न (?) के स्थान पर आएगी?
3, 11, 27, 59 ?

- Ans 1. 118
 2. 127
 3. 123
 4. 111

Question ID : 26433067880

Status : Answered

Chosen Option : 3

Q.12 उस समुच्चय का चयन करें, जिसकी संख्याओं के बीच ठीक वही संबंध है, जो संबंध निम्नांकित समुच्चयों की संख्याओं में हैं।

(नोट: संख्याओं को उसके घटक अंकों में विभाजित किए बिना, पूर्ण संख्याओं पर ही गणितीय संक्रियाएँ की जानी चाहिए। जैसे 13 - मान लीजिए 13 पर गणितीय संक्रियाएँ जैसे कि 13 में जोड़ना/घटाना/गुणा करना आदि किया जा सकता है। 13 को 1 और 3 में तोड़कर और फिर 1 और 3 पर गणितीय संक्रियाएँ करने की अनुमति नहीं है।)

(6, 9, 324)

(5, 8, 240)

- Ans 1. (10, 6, 360)
 2. (9, 5, 260)
 3. (9, 4, 232)
 4. (8, 5, 280)

Question ID : 26433076538

Status : Not Answered

Chosen Option : --

Q.13 निम्नलिखित में से कौन-सा पद दी गई श्रृंखला में प्रश्न-चिह्न (?) के स्थान पर आएगा?
KDN, JEO, GHQ, ?, UTX, LCC

- Ans 1. BNN
 2. BNT
 3. BMS
 4. BMT

Question ID : 26433069455
Status : Not Answered
Chosen Option : --

Q.14 निम्नलिखित में से कौन-सा पद दी गई श्रृंखला में प्रश्न-चिह्न (?) के स्थान पर आएगा?
NOTK, LQQN, ? , HUKT, FWHW

- Ans 1. KSMQ
 2. JSMP
 3. KSNP
 4. JSNQ

Question ID : 26433068305
Status : Not Answered
Chosen Option : --

Q.15 दर्पण को नीचे दिए गए चित्र के अनुसार MN पर रखे जाने पर दी गई आकृति

का दर्पण में निर्मित सही प्रतिबिंब चयनित कीजिए।

B Ch 3 5 4 k x

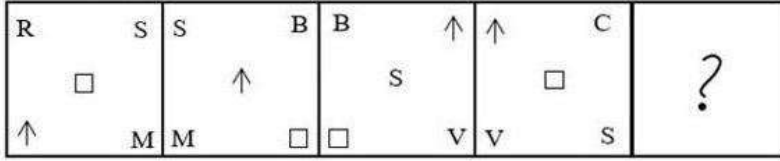
M _____ N

- Ans 1. B C 4 3 2 4 K X
 2. B C P 3 2 4 K X
 3. B C 4 3 2 4 K X
 4. B C P 3 2 4 K X

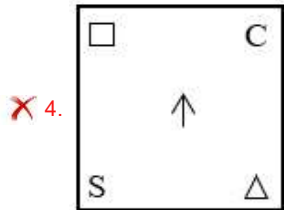
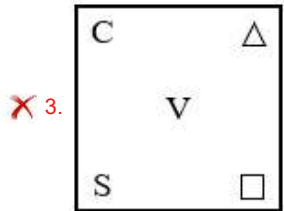
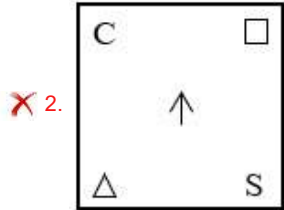
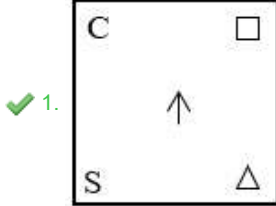
Question ID : 26433080813
Status : Answered
Chosen Option : 2

Q.16

निम्नलिखित आकृति शृंखला में प्रश्न-चिह्न (?) के स्थान पर नीचे दिए गए विकल्पों में से कौन-सी आकृति आएगी?



Ans



Question ID : 26433081695

Status : Answered

Chosen Option : 1

Q.17 उस विकल्प का चयन करें जो तीसरे पद से उसी प्रकार संबंधित है जैसे दूसरा पद पहले पद से संबंधित है।

ROSE : 36303810 :: LILY : ?

Ans ✓ 1. 24182450

✗ 2. 34303816

✗ 3. 24192456

✗ 4. 34363816

Question ID : 26433057690

Status : Answered

Chosen Option : 1

Q.18 विकल्पों में दिए गए गणितीय चिह्नों का कौन सा संयोजन निम्न समीकरण में * चिह्नों के स्थान पर क्रमिक रूप से आकर समीकरण को संतुलित करेगा?
 $7 * 10 * 280 * 2 * 10 * 80$

Ans 1. $\times, =, +, +, -$

2. $=, +, \times, +, -$

3. $\times, +, =, +, -$

4. $-, +, \times, +, =$

Question ID : 26433094995

Status : Not Answered

Chosen Option : --

Q.19 छः मित्र, एक वृत्ताकार स्थिति में केंद्र की ओर मुख करके बैठे हैं। ये P, Q, R, S, T और U हैं। P, T और S के ठीक बगल में बैठा है। S, Q के बाईं ओर ठीक बगल में बैठा है। U, Q के दाईं ओर ठीक बगल में बैठा है। R, U और T के ठीक बगल में बैठा है। T के दाईं ओर ठीक बगल में कौन बैठा है?

Ans 1. P

2. R

3. Q

4. S

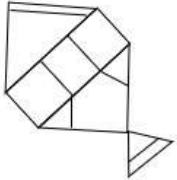
Question ID : 26433074604

Status : Answered

Chosen Option : 1

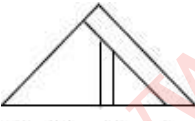
Q.20 वह विकल्प चित्र चुनिए, जो प्रस्तुत चित्र में अंतर्निहित है। (घुमाना अनुमन्य नहीं)

बै)

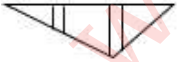


Ans

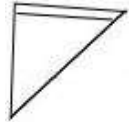
1.



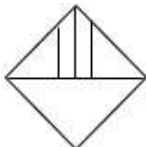
2.



3.



4.



Question ID : 26433069338

Status : Answered

Chosen Option : 3

Q.1 जनगणना 2011 के अनुसार किस भारतीय राज्य का जनसंख्या घनत्व सबसे कम है?

- Ans
- 1. सिक्किम
 - 2. नागालैंड
 - 3. अरुणाचल प्रदेश
 - 4. मिज़ोरम

Question ID : 264330116045
Status : Answered
Chosen Option : 2

Q.2 26 नवंबर, 1949 को डॉ. राजेंद्र प्रसाद ने सभा के अध्यक्ष के रूप में दस्तावेज़ पर हस्ताक्षर किए। यहां किस दस्तावेज़ के बारे में बात की जा रही है?

- Ans
- 1. प्रस्तावना
 - 2. संविधान का पहला मसौदा
 - 3. भारतीय संविधान
 - 4. परिग्रहण का साधन

Question ID : 264330115692
Status : Answered
Chosen Option : 3

Q.3 वेम्पति चित्रा सत्यम ने किस नृत्य शैली में अपनी पहचान बनाई?

- Ans
- 1. मोहिनीअट्टम
 - 2. रचनात्मक नृत्य
 - 3. कुचिपुड़ी
 - 4. सत्रीया

Question ID : 264330115836
Status : Answered
Chosen Option : 4

Q.4 घरेलू मुद्रा के संदर्भ में विदेशी मुद्रा की एक इकाई की कीमत _____ कहलाती है।

- Ans
- 1. वास्तविक विनिमय दर
 - 2. मौद्रिक विनिमय दर
 - 3. आंकी गई फ्लोट दर
 - 4. स्थिर विनिमय दर

Question ID : 264330115435
Status : Answered
Chosen Option : 2

Q.5 किसने जून 2022 में महाराष्ट्र के नए मुख्यमंत्री के रूप में शपथ ली?

- Ans
- 1. देवेन्द्र फडनवीस
 - 2. उद्धव ठाकरे
 - 3. पृथ्वीराज चव्हाण
 - 4. एकनाथ संभाजी शिंदे

Question ID : 264330114986
Status : Answered
Chosen Option : 2

Q.6 भारतीय भारोत्तोलक सैखोम मीराबाई चानू ने 2021 में उस समय इतिहास रच दिया जब वे _____ में रजत पदक जीतने वाली पहली भारतीय भारोत्तोलक बनीं।

- Ans
- 1. स्पेन में विश्व चैम्पियनशिप
 - 2. नीदरलैंड चैम्पियनशिप
 - 3. टोक्यो ओलंपिक
 - 4. एशियाई चैम्पियनशिप

Question ID : 26433089927
Status : Answered
Chosen Option : 3

Q.7 सरकार की प्राप्ति, जो देयता सृजित करती हैं या वित्तीय परिसंपत्तियों को कम करती हैं, कहलाती हैं।

- Ans
- 1. सेवा करार
 - 2. आरक्षित
 - 3. पूंजीगत प्राप्ति
 - 4. राजस्व प्राप्ति

Question ID : 264330115283
Status : Answered
Chosen Option : 3

Q.8 निम्नलिखित में से कौन सा वसंत उत्सव गोवा में मनाया जाता है?

- Ans
- 1. राउफ
 - 2. शिम्मो
 - 3. मीम कुट
 - 4. लोसर

Question ID : 264330106219
Status : Answered
Chosen Option : 2

Q.9 मई और जून के महीनों में देश के उत्तरी भागों में चलने वाली तेज़, गर्म और शुष्क स्थानीय हवा को क्या कहा जाता है?

- Ans
- 1. चेरी ब्लॉसम
 - 2. आम्र वर्षा
 - 3. कालबैसाखी
 - 4. लू

Question ID : 264330115985
Status : Answered
Chosen Option : 4

Q.10 विकास की प्रक्रिया के दौरान कोई देश अवसंरचनात्मक परिवर्तन से गुजरता है। निम्नलिखित में से कौन सा इस अवसंरचनात्मक परिवर्तन का एक संकेत है?

- Ans
- 1. जीडीपी (GDP) में कृषि का योगदान बढ़ता है।
 - 2. जीडीपी (GDP) में औद्योगिक क्षेत्र का योगदान घटता है।
 - 3. जीडीपी (GDP) में कृषि का योगदान 50 प्रतिशत से अधिक हो जाता है।
 - 4. जीडीपी (GDP) में कृषि का योगदान घटता है।

Question ID : 26433090756
Status : Not Answered
Chosen Option : --

Q.11 कबड्डी खेल के मैदान के किनारों पर चिह्नित लाँबी की चौड़ाई कितनी होती है?

- Ans
- 1. 2.5 m
 - 2. 1.5 m
 - 3. 2 m
 - 4. 1 m

Question ID : 26433096227
Status : Answered
Chosen Option : 1

Q.12 किस देश का संविधान सबसे लंबा लिखा हुआ है?

- Ans
- 1. कनाडा
 - 2. इंडोनेशिया
 - 3. संयुक्त राज्य अमेरिका
 - 4. भारत

Question ID : 264330115618
Status : Answered
Chosen Option : 4

Q.13 किसी विलगित परमाणु के नाभिक के केंद्र और बाह्यतम कोश के बीच की दूरी को क्या कहा जाता है?

- Ans
- 1. समस्थानिक
 - 2. परमाणु का आकार
 - 3. इलेक्ट्रॉन
 - 4. परमाणु द्रव्यमान

Question ID : 26433087854
Status : Answered
Chosen Option : 4

Q.14 निम्नलिखित में से किसे 'नाट्यशास्त्र' का रचयिता माना जाता है?

- Ans
- 1. शंकर
 - 2. विष्णु
 - 3. राघव
 - 4. भरत

Question ID : 26433071448
Status : Answered
Chosen Option : 2

Q.15 शहरी जल संतुलन योजना में चिन्हित परियोजनाओं के आधार पर, _____ (CWAP) तैयार किया जाएगा।

- Ans
- 1. सिटी वाटर एक्शन पीरियड
 - 2. कंज़र्व वाटर एक्शन प्लान
 - 3. सिटी वाटर एरिया प्लान
 - 4. सिटी वाटर एक्शन प्लान

Question ID : 264330116182
Status : Not Answered
Chosen Option : --

Q.16 निम्नलिखित में से कौन नवंबर 2022 में भारत में गोपालगंज, बिहार से विधान सभा के सदस्य बने?

- Ans
- 1. नीतीश कुमार
 - 2. नरेन्द्र मोदी
 - 3. लालमुनि चौबे
 - 4. कुसुम देवी

Question ID : 264330114973
Status : Answered
Chosen Option : 3

Q.17 _____, उत्तर में खरीफ की फसल और दक्षिण भारत में रबी की फसल है।

- Ans
- 1. अलसी
 - 2. तिल
 - 3. सरसों
 - 4. अरंडी

Question ID : 264330115530
Status : Answered
Chosen Option : 2

Q.18 भारतीय संविधान का कौन सा अनुच्छेद राज्य की सरकार के कार्य का संचालन?

- Ans
- 1. 144
 - 2. 178
 - 3. 166
 - 4. 132

Question ID : 26433089966
Status : Answered
Chosen Option : 1

Q.19 निम्नलिखित को सुमेलित करें।

- a) धान्य और अनाज i) मसूर की दाल
- b) दूध और मांस ii) चावल
- c) वसा और शर्करा iii) मछली
- d) दालें और फलियां iv) घी

- Ans
- 1. a-i, b-ii, c-iii, d-iv
 - 2. a-iii, b-i, c-ii, d-iv
 - 3. a-ii, b-iii, c-iv, d-i
 - 4. a-iii, b-iv, c-ii, d-i

Question ID : 264330115219
Status : Answered
Chosen Option : 3

Q.20 चरक को _____ के जनक के रूप में जाना जाता है।

- Ans
- 1. भारतीय राग
 - 2. योग
 - 3. आयुर्वेद
 - 4. भारत के शास्त्रीय नृत्य

Question ID : 26433089864
Status : Answered
Chosen Option : 4

Q.1 यदि ऊँचाई h और त्रिज्या r के एक ठोस लंब वृत्तीय बेलन का वक्र पृष्ठीय क्षेत्रफल उसके कुल पृष्ठीय क्षेत्रफल का एक तिहाई है, तो:

- Ans
- 1. $h = 2r$
 - 2. $h = \left(\frac{1}{3}\right)r$
 - 3. $h = r$
 - 4. $h = \left(\frac{1}{2}\right)r$

Question ID : 26433075280

Status : Answered

Chosen Option : 1

Q.2 625 m की एक वृत्तीय दौड़ में, A और B एक ही बिंदु से एक ही समय पर और क्रमशः 90 km/h और 72 km/h की चाल से दौड़ना शुरू करते हैं। यदि वे एक ही दिशा में दौड़ रहे हैं तो वे ट्रैक पर पहली बार फिर से कितने समय बाद मिलेंगे?

- Ans
- 1. 122 सेकंड में
 - 2. 115 सेकंड में
 - 3. 120 सेकंड में
 - 4. 125 सेकंड में

Question ID : 26433076383

Status : Answered

Chosen Option : 3

Q.3 यदि एक कॉम्पैक्ट डिस्क (CD) की 30 प्रतियों की कीमत Rs.140 है, तो उसी कॉम्पैक्ट डिस्क की 24 प्रतियों की कीमत कितनी होगी?

- Ans
- 1. Rs.101
 - 2. Rs.121
 - 3. Rs.112
 - 4. Rs.110

Question ID : 26433080330

Status : Answered

Chosen Option : 3

Q.4 चक्रवृद्धि ब्याज की वह वार्षिक दर क्या है जिस पर कोई मूलधन दो वर्षों में Rs.500 और तीन वर्षों में Rs.700 हो जाता है, जब ब्याज की गणना वार्षिक चक्रवृद्धि आधार पर की जाती है?

- Ans
- 1. 35%
 - 2. 40%
 - 3. 38%
 - 4. 32%

Question ID : 26433080337

Status : Answered

Chosen Option : 3

Q.5 मोहन Rs.1,200 में एक कुर्सी खरीदता है। यदि वह इसे Rs.1,440 में बेचता है, तो लाभ प्रतिशत क्या होगा?

- Ans
- 1. 20%
 - 2. 15%
 - 3. 12%
 - 4. 18%

Question ID : 26433075651
Status : Answered
Chosen Option : 1

Q.6 एक व्यक्ति बुलेट ट्रेन द्वारा 84 km/h की चाल से एक निश्चित दूरी तय करता है और बस द्वारा 66 km/h की चाल से प्रारंभिक बिंदु पर वापस लौटता है। समग्र यात्रा के लिए व्यक्ति की औसत चाल ज्ञात कीजिए।

- Ans
- 1. 74.92 km/h
 - 2. 73.92 km/h
 - 3. 72.92 km/h
 - 4. 75.92 km/h

Question ID : 26433080194
Status : Answered
Chosen Option : 4

Q.7 राबिया एक कार्य 12 दिन में समाप्त कर सकती है। सरिता उसी कार्य को 18 दिन में समाप्त कर सकती है। यदि वे मिलकर एक साथ कार्य करती हैं, तो कार्य कितने दिनों में समाप्त हो जाएगा?

- Ans
- 1. $\frac{10}{72}$
 - 2. $7\frac{2}{10}$
 - 3. $7\frac{4}{10}$
 - 4. $6\frac{2}{10}$

Question ID : 26433080382
Status : Answered
Chosen Option : 2

Q.8 कुणाल ने कोई वस्तु खरीदी और उसे 15% की हानि पर बेचा। यदि वह इसे 18% कम मूल्य पर खरीदता और ₹108 अधिक पर बेचता, तो उसे 30% का लाभ होता। उस वस्तु का क्रय मूल्य ज्ञात कीजिए।

- Ans
- 1. ₹560
 - 2. ₹500
 - 3. ₹570
 - 4. ₹540

Question ID : 26433080165
Status : Answered
Chosen Option : 1

Q.9 एक व्यक्ति की आय और बचत का अनुपात 7:3 है। यदि आय में 12% की वृद्धि हो और व्यय में 8% की वृद्धि हो, तो उसकी बचत कितना प्रतिशत बढ़ जाएगी? (दशमलव के 2 स्थान तक शुद्ध)

- Ans
- 1. 21.33 प्रतिशत
 - 2. 22.33 प्रतिशत
 - 3. 24.33 प्रतिशत
 - 4. 23.33 प्रतिशत

Question ID : 26433080163
Status : Answered
Chosen Option : 3

Q.10 एक व्यक्ति 75 kmph की गति से 4 घंटे कार चलाता है और 90 kmph की गति से अगले 6 घंटे कार चलाता है। पूरी यात्रा के दौरान कार की औसत गति ज्ञात करें।

- Ans
- 1. 85 kmph
 - 2. 80 kmph
 - 3. 84 kmph
 - 4. 82.50 kmph

Question ID : 264330116690
Status : Answered
Chosen Option : 3

Q.11 एक थैले में 50 kg दाल है। तीन दालें हैं A, B, और C, जो इसमें 4 : 3 : 3 के अनुपात में मिश्रित हैं। दालों A, B और C की कीमतें क्रमशः ₹80 प्रति kg, ₹60 प्रति kg और ₹80 प्रति kg हैं। दालों के 1 kg मिश्रण का औसत मूल्य क्या होगा?

- Ans
- 1. ₹72
 - 2. ₹74
 - 3. ₹80
 - 4. ₹70

Question ID : 26433082499
Status : Answered
Chosen Option : 1

Q.12 यदि एक दुकानदार किसी वस्तु के क्रय मूल्य पर 20% की छूट देना चाहता है, तो उसको इसे Rs.400 में बेचना होगा। यदि वह इसे Rs.520 में बेचता है, तो उसका लाभ प्रतिशत ज्ञात कीजिए।

- Ans
- 1. 8%
 - 2. 4%
 - 3. 6%
 - 4. 5%

Question ID : 26433066305
Status : Answered
Chosen Option : 2

Q.13 मनीष एक कार्य को 7 दिन में कर सकता है जबकि अनिल समान कार्य को 6 दिन में कर सकता है, पूरे काम के लिए मजदूरी 390 रुपए है, यदि वे दोनों मिलकर कार्य को पूरा करते हैं, तो मनीष की आय ज्ञात करें।

- Ans
- 1. 500 रुपए
 - 2. 200 रुपए
 - 3. 180 रुपए
 - 4. 400 रुपए

Question ID : 264330116866
Status : Answered
Chosen Option : 3

Q.14 वह छोटी से छोटी संख्या जो 12, 15, 18 और 27 से पूर्णतः विभाज्य हो, क्या है?

- Ans
- 1. 540
 - 2. 740
 - 3. 680
 - 4. 508

Question ID : 26433091500
Status : Answered
Chosen Option : 4

Q.15 उस लंबवृत्तीय बेलन का आयतन ज्ञात कीजिए, जिसका वक्रपृष्ठीय क्षेत्रफल 1012 cm^2 और उसके आधार की परिधि 22 cm है। ($\pi = 22/7$ का उपयोग करें)

- Ans
- 1. 1487 cm^3
 - 2. 1771 cm^3
 - 3. 1672 cm^3
 - 4. 1325 cm^3

Question ID : 26433066326
Status : Answered
Chosen Option : 3

Q.16 जयशंकर ने अपने नियोक्ता से 8% वार्षिक चक्रवृद्धि ब्याज की दर से एक राशि उधार ली, जो वार्षिक संयोजित होता है। उसे ऋण समाप्त करने के लिए दो वर्ष की अवधि के बाद ₹58,320 का भुगतान करना होगा। उसने कितना रुपया उधार लिया?

- Ans
- 1. ₹49,900
 - 2. ₹50,000
 - 3. ₹50,100
 - 4. ₹51,000

Question ID : 26433091623
Status : Answered
Chosen Option : 2

Q.17 निम्नलिखित में से कौन सा युग्म असहभाज्य संख्याओं को निरूपित करता है?

- Ans 1. (15, 235)
 2. (51, 141)
 3. (15, 141)
 4. (15, 94)

Question ID : 26433080283
Status : Not Answered
Chosen Option : --

Q.18 615 सिक्कों में एक रुपया, 50 पैसे और 25 पैसे के सिक्के शामिल हैं। उनके मूल्य क्रमशः 3 : 5 : 7 के अनुपात में हैं। 50 पैसे के सिक्कों की संख्या ज्ञात कीजिए।

- Ans 1. 160
 2. 150
 3. 170
 4. 180

Question ID : 26433080179
Status : Answered
Chosen Option : 2

Q.19 एक व्यक्ति के प्रति दिन काम करने के घंटे में 25% की वृद्धि हुई और उसकी प्रति घंटे की मजदूरी में 20% की वृद्धि हुई। उसकी दैनिक आय में कितने प्रतिशत की वृद्धि हुई?

- Ans 1. 45%
 2. 35%
 3. 40%
 4. 50%

Question ID : 26433080357
Status : Answered
Chosen Option : 1

Q.20 एक पंखे का अंकित मूल्य 1850 रुपए है और दुकानदार इस पर 9.5 प्रतिशत की छूट देता है। पंखे का विक्रय मूल्य है:

- Ans 1. 1448.80 रुपए
 2. 1580.60 रुपए
 3. 1674.25 रुपए
 4. 1752.50 रुपए

Question ID : 264330116751
Status : Answered
Chosen Option : 3

Q.1 Select the most appropriate synonym of the given word.

Sailor

- Ans 1. Enterpriser
 2. Prosecutor
 3. Mariner
 4. Trainer

Question ID : 26433089340
Status : Not Answered
Chosen Option : --

Q.2 Select the most appropriate option to substitute the underlined segment in the given sentence.

Guess that vessel holds the least water?

- Ans 1. vessel which holds
 2. that vessel hold
 3. which vessel holds
 4. which vessel hold

Question ID : 26433093020
Status : Not Answered
Chosen Option : --

Q.3 The following sentence has been split into four segments. Identify the segment that contains a grammatical error.

I hope / you will / helped me / this weekend.

- Ans 1. this weekend
 2. you will
 3. I hope
 4. helped me

Question ID : 26433092273
Status : Not Answered
Chosen Option : --

Q.4 Select the INCORRECTLY spelt word.

- Ans 1. Hierarchial
 2. Pathetic
 3. Troublesome
 4. Cognisant

Question ID : 26433073658
Status : Not Answered
Chosen Option : --

Q.5 Select the most appropriate ANTONYM of the word given in the bracket to fill in the blank.

His _____ (repulsive) behaviour could not be ignored.

- Ans 1. innocuous
 2. logical
 3. faithful
 4. ambitious

Question ID : 26433060326
Status : Not Answered
Chosen Option : --

Q.6 Select the most appropriate option that can substitute the underlined segment in the given sentence.

Prime Minister Narendra Modi paid tribute to Pandit Jawaharlal Nehru on his death day.

- Ans 1. death anniversary
 2. death festivity
 3. death ceremony
 4. death recurrence

Question ID : 26433088164
Status : Not Answered
Chosen Option : --

Q.7 Replace the word in bold in the given sentence with its ANTONYM.

Reforms were also made in the tedious technicalities of the feudal law.

- Ans 1. boring
 2. drab
 3. tiring
 4. exciting

Question ID : 26433072157
Status : Not Answered
Chosen Option : --

Q.8 Complete the sentence with the most appropriate synonym of the word in brackets.

Tell everyone to clear the _____ (hallway) as the bride and her father have arrived.

- Ans 1. driveway
 2. avenue
 3. stage
 4. aisle

Question ID : 26433089753
Status : Not Answered
Chosen Option : --

Q.9 Select the most appropriate meaning of the given idiom.

Out of the woods

- Ans 1. Being arrogant
 2. Always happy
 3. Not in danger
 4. Risking life

Question ID : 26433072279
Status : Not Answered
Chosen Option : --

Q.10 Select the most appropriate ANTONYM of the given word.

Shabby

- Ans 1. Dilapidated
 2. Impoverished
 3. Miserable
 4. Respectable

Question ID : 26433073572
Status : Not Answered
Chosen Option : --

Q.11 Identify the correctly spelt sentence.

- Ans 1. He is a leading manufakturer in the clothing industry.
 2. He is a leading manufacturer in the clothing endustry.
 3. He is a leading manufacturer in the clothing industry.
 4. He is a leading manufacturer in the clothing indosty.

Question ID : 26433072827
Status : Not Answered
Chosen Option : --

Q.12 Select the most appropriate option to fill in the blank.

His ashes were deposited in a golden _____.

- Ans 1. earn
 2. urn
 3. yearn
 4. years

Question ID : 26433090385
Status : Not Answered
Chosen Option : --

Q.13 Select the most appropriate alternative to replace the underlined segment in the given sentence.

They met yesterday, haven't they?

- Ans
- 1. don't they?
 - 2. isn't it?
 - 3. didn't they?
 - 4. did they?

Question ID : 26433092352
Status : Not Answered
Chosen Option : --

Q.14 Which of the following options is most similar in meaning to the given word?

Allude

- Ans
- 1. Instruct
 - 2. Tell
 - 3. Demonstrate
 - 4. Refer

Question ID : 26433088810
Status : Not Answered
Chosen Option : --

Q.15 Select the most appropriate meaning of the given idiom.

Hit the sack

- Ans
- 1. To go to bed in order to read
 - 2. To go to bed in order to sleep
 - 3. Go to bed in order to sit
 - 4. To go to bed in order to write

Question ID : 26433073647
Status : Not Answered
Chosen Option : --

Comprehension:

In the following passage some words have been deleted. Fill in the blanks with the help of the alternatives given. Select the most appropriate option for each number.

I hope you will find this series (1)_____ in developing language skills of the learners through diverse reading (2)_____ such as fairy tales, fables, classics, adventure, biography, drama and so on. The prose pieces (3)_____ for intensive language study while the poems (4)_____ enable children to develop an ear for (5)_____ and rhythm.

SubQuestion No : 16

Q.16 Select the most appropriate option to fill in blank 1.

- Ans 1. challenging
 2. demanding
 3. distasteful
 4. helpful

Question ID : 26433093027
Status : Not Answered
Chosen Option : --

Comprehension:

In the following passage some words have been deleted. Fill in the blanks with the help of the alternatives given. Select the most appropriate option for each number.

I hope you will find this series (1)_____ in developing language skills of the learners through diverse reading (2)_____ such as fairy tales, fables, classics, adventure, biography, drama and so on. The prose pieces (3)_____ for intensive language study while the poems (4)_____ enable children to develop an ear for (5)_____ and rhythm.

SubQuestion No : 17

Q.17 Select the most appropriate option to fill in blank 2.

- Ans 1. habits
 2. genres
 3. papers
 4. mediums

Question ID : 26433093028
Status : Not Answered
Chosen Option : --

Comprehension:

In the following passage some words have been deleted. Fill in the blanks with the help of the alternatives given. Select the most appropriate option for each number.

I hope you will find this series (1)_____ in developing language skills of the learners through diverse reading (2)_____ such as fairy tales, fables, classics, adventure, biography, drama and so on. The prose pieces (3)_____ for intensive language study while the poems (4)_____ enable children to develop an ear for (5)_____ and rhythm.

SubQuestion No : 18

Q.18 Select the most appropriate option to fill in blank 3.

- Ans
- 1. are deleted
 - 2. will be added
 - 3. are meant
 - 4. were given

Question ID : **26433093029**
Status : **Not Answered**
Chosen Option : --

Comprehension:

In the following passage some words have been deleted. Fill in the blanks with the help of the alternatives given. Select the most appropriate option for each number.

I hope you will find this series (1)_____ in developing language skills of the learners through diverse reading (2)_____ such as fairy tales, fables, classics, adventure, biography, drama and so on. The prose pieces (3)_____ for intensive language study while the poems (4)_____ enable children to develop an ear for (5)_____ and rhythm.

SubQuestion No : 19

Q.19 Select the most appropriate option to fill in blank 4.

- Ans
- 1. will
 - 2. is
 - 3. was
 - 4. has

Question ID : **26433093030**
Status : **Not Answered**
Chosen Option : --

Comprehension:

In the following passage some words have been deleted. Fill in the blanks with the help of the alternatives given. Select the most appropriate option for each number.

I hope you will find this series (1)_____ in developing language skills of the learners through diverse reading (2)_____ such as fairy tales, fables, classics, adventure, biography, drama and so on. The prose pieces (3)_____ for intensive language study while the poems (4)_____ enable children to develop an ear for (5)_____ and rhythm.

SubQuestion No : 20

Q.20 Select the most appropriate option to fill in blank 5.

- Ans 1. onomatopoeia
 2. rhyme
 3. personification
 4. simile

Question ID : 26433093031
Status : Not Answered
Chosen Option : --

Section : Part-D-Hindi

Q.1 ' _____ भर पानी में डूब मरना।'
मुहावरे में रिक्त स्थान की पूर्ति उपयुक्त शब्द द्वारा कीजिए।

- Ans 1. तालाब
 2. सूखे
 3. चुल्लू
 4. बाल्टी

Question ID : 26433069686
Status : Answered
Chosen Option : 3

Q.2 निम्नलिखित वाक्य में से अशुद्धि पहचानें-
तुम लोग कुते की मौत मरोगे।

- Ans 1. तुम
 2. कुते
 3. मौत
 4. मरोगे

Question ID : 26433066830
Status : Answered
Chosen Option : 2

Q.3 जल ही जीवन है।

उपरोक्त वाक्य में रेखांकित शब्द के पर्यायवाची शब्द का चयन विकल्पों में से कीजिए।

- Ans
- 1. दृग
 - 2. हर
 - 3. मतंग
 - 4. पानी

Question ID : 26433079617
Status : Answered
Chosen Option : 4

Q.4 निम्न शब्दों में से उचित शब्द का प्रयोग करके दिए गए वाक्य के रिक्त स्थान की पूर्ति कीजिए।
आपको क्या पता कि उसने मेरे साथ क्या _____ की?

- Ans
- 1. खूबी
 - 2. कठिनाई
 - 3. भलाई
 - 4. विशेषता

Question ID : 26433074417
Status : Answered
Chosen Option : 3

Q.5 निम्नलिखित वाक्य के किस खंड में अशुद्धि है?
आप अपनी कार को भी ले आना।

- Ans
- 1. को भी
 - 2. आप
 - 3. अपनी
 - 4. आना

Question ID : 26433066754
Status : Answered
Chosen Option : 4

Q.6 "गुरु हथौड़े से वह प्रहार कर रहा था।"
उक्त वाक्य में प्रयुक्त 'गुरु' के स्थान पर उसके विलोम शब्द का प्रयोग निम्न में से किस वाक्य में किया गया है?

- Ans
- 1. भारी हथौड़े से वह प्रहार कर रहा था।
 - 2. बड़े हथौड़े से वह प्रहार कर रहा था।
 - 3. वजनदार हथौड़े से वह प्रहार कर रहा था।
 - 4. लघु हथौड़े से वह प्रहार कर रहा था।

Question ID : 26433067022
Status : Answered
Chosen Option : 4

Q.7 निम्नलिखित विकल्पों में से कौन सा एक निजवाचक सर्वनाम का वाक्य नहीं है?

- Ans 1. आप कुछ पूछना चाहते हैं?
 2. ये फाइलें मैं अपने आप देखूँगा।
 3. वे अपने आपही यह जिम्मेदारी सँभालने को तैयार हो गए।
 4. यह सब वे अपने आप देख लेंगे।

Question ID : 26433091240
Status : Not Answered
Chosen Option : --

Q.8 'जिसका कोई नाथ न हो' वाक्यांश के लिए सार्थक शब्द है-

- Ans 1. अनाथ
 2. नास्तिक
 3. सनाथ
 4. नाथ

Question ID : 26433065861
Status : Answered
Chosen Option : 1

Q.9 'वह व्यक्ति जो काव्य अथवा कविता की रचना करता हो' वाक्यांश के लिए सार्थक शब्द है-

- Ans 1. कवि
 2. कटु
 3. कपि
 4. कल्प

Question ID : 26433062231
Status : Answered
Chosen Option : 1

Q.10 निम्न में से कौन-सा शब्द 'अर्जुन' शब्द का पर्यायवाची शब्द है?

- Ans 1. सव्यसाची
 2. विनायक
 3. अमरपति
 4. जगन्नाथ

Question ID : 26433067074
Status : Answered
Chosen Option : 3

Q.11 मुहावरों और उनके अर्थ का निम्नलिखित में से कौन सा युग्म अशुद्ध है?

- Ans 1. सर खपाना- दिमाग लगाना
 2. हाथ पैर मारना- प्रयत्न करना
 3. हाथ का मैल- तुच्छ वस्तु
 4. लकीर का फ़कीर- प्रगतिशील होना

Question ID : 26433062556
Status : Answered
Chosen Option : 4

Q.12 'भोजन बहुत सुन्दर बना है।' इस वाक्य में रेखांकित शब्द के स्थान पर उपयुक्त शब्द क्या होगा?

- Ans 1. स्वादिष्ट
 2. खुबसूरत
 3. उन्नत
 4. बेहतर

Question ID : 26433066799
Status : Answered
Chosen Option : 1

Q.13 निम्नलिखित में से कौन सा एक कारक चिन्ह नहीं है?

- Ans 1. द्वारा
 2. पर
 3. के लिए
 4. जाना

Question ID : 26433085028
Status : Answered
Chosen Option : 4

Q.14 निम्नलिखित वाक्यांश के लिए एक सार्थक शब्द क्या होगा?
गज के समान गति से चलने वाली

- Ans 1. हंसवाहिनी
 2. गजगामिनी
 3. मृणालकांति
 4. मृगनयनी

Question ID : 26433069989
Status : Answered
Chosen Option : 2

Q.15 "सुयश अमेरिका गया होगा।"
उपरोक्त वाक्य को पूर्ण भूतकाल का प्रयोग करते हुए पुनः लिखिए।

- Ans 1. सुयश अमेरिका जाएगा।
 2. सुयश अमेरिका गया था।
 3. सुयश अमेरिका गया है।
 4. सुयश अमेरिका जा रहा था।

Question ID : 26433066981
Status : Answered
Chosen Option : 2

Comprehension:

प्रश्न संख्या 1-5 के उत्तर निम्न गद्यांश के आधार पर दीजिए।

गुरु नानक ने प्रेम का संदेश दिया है उनका कथन था कि ईश्वर नाम के सम्मुख जाति और कुल के बंधन (1) _____ हैं, क्योंकि मनुष्य जीवन का जो चरम प्राप्तव्य है वह स्वयं प्रेमरूप है प्रेम ही उसका स्वभाव है, (2) _____ ही उसका साधन है अरे ओ मुग्ध मनुष्य, सच्ची प्रीति से ही तेरा मान-अभिमान नष्ट होगा, तेरी छोटाई की सीमा (3) _____ होगी, परम मंगलमय शिव तुझे प्राप्त होगा उसी सच्चे प्रेम की साधना ही तेरे जीवन का परम लक्ष्य है बाह्य (4) _____ को तू धर्म समझ रहा है मूल संस्कारों को तू आस्था मानता है नहीं प्यारे, यह सब धर्म नहीं है धर्म तो स्वयं रूप होकर भगवान के रूप में तेरे भीतर (5) _____ है उनका मत था कि विश्व का परित्याग कर सन्यास लेना ईश्वर की दृष्टि में आवश्यक नहीं है उसके लिए तो धार्मिक सन्यासी तथा भक्त व गृहस्थ सभी समान हैं।

SubQuestion No : 16

Q.16 रिक्त स्थान (1) के लिए सर्वाधिक उपयुक्त शब्द इनमें से कौन सा होगा?

- Ans 1. निरर्थक
 2. अनिवार्य
 3. सार्थक
 4. जरूरी

Question ID : 26433092232

Status : Answered

Chosen Option : 4

Comprehension:

प्रश्न संख्या 1-5 के उत्तर निम्न गद्यांश के आधार पर दीजिए।

गुरु नानक ने प्रेम का संदेश दिया है उनका कथन था कि ईश्वर नाम के सम्मुख जाति और कुल के बंधन (1) _____ हैं, क्योंकि मनुष्य जीवन का जो चरम प्राप्तव्य है वह स्वयं प्रेमरूप है प्रेम ही उसका स्वभाव है, (2) _____ ही उसका साधन है अरे ओ मुग्ध मनुष्य, सच्ची प्रीति से ही तेरा मान-अभिमान नष्ट होगा, तेरी छोटाई की सीमा (3) _____ होगी, परम मंगलमय शिव तुझे प्राप्त होगा उसी सच्चे प्रेम की साधना ही तेरे जीवन का परम लक्ष्य है बाह्य (4) _____ को तू धर्म समझ रहा है मूल संस्कारों को तू आस्था मानता है नहीं प्यारे, यह सब धर्म नहीं है धर्म तो स्वयं रूप होकर भगवान के रूप में तेरे भीतर (5) _____ है उनका मत था कि विश्व का परित्याग कर सन्यास लेना ईश्वर की दृष्टि में आवश्यक नहीं है उसके लिए तो धार्मिक सन्यासी तथा भक्त व गृहस्थ सभी समान हैं।

SubQuestion No : 17

Q.17 रिक्त स्थान (2) के लिए सर्वाधिक उपयुक्त शब्द इनमें से कौन सा होगा?

- Ans 1. गुस्सा
 2. प्रेम
 3. घृणा
 4. शत्रुता

Question ID : 26433092233

Status : Answered

Chosen Option : 2

Comprehension:

प्रश्न संख्या 1-5 के उत्तर निम्न गद्यांश के आधार पर दीजिए।

गुरु नानक ने प्रेम का संदेश दिया है उनका कथन था कि ईश्वर नाम के सम्मुख जाति और कुल के बंधन (1) _____ हैं, क्योंकि मनुष्य जीवन का जो चरम प्राप्तव्य है वह स्वयं प्रेमरूप है प्रेम ही उसका स्वभाव है, (2) _____ ही उसका साधन है अरे ओ मुग्ध मनुष्य, सच्ची प्रीति से ही तेरा मान-अभिमान नष्ट होगा, तेरी छोटाई की सीमा (3) _____ होगी, परम मंगलमय शिव तुझे प्राप्त होगा उसी सच्चे प्रेम की साधना ही तेरे जीवन का परम लक्ष्य है बाह्य (4) _____ को तू धर्म समझ रहा है मूल संस्कारों को तू आस्था मानता है नहीं प्यारे, यह सब धर्म नहीं है धर्म तो स्वयं रूप होकर भगवान के रूप में तेरे भीतर (5) _____ है उनका मत था कि विश्व का परित्याग कर सन्यास लेना ईश्वर की दृष्टि में आवश्यक नहीं है उसके लिए तो धार्मिक सन्यासी तथा भक्त व गृहस्थ सभी समान हैं।

SubQuestion No : 18

Q.18 रिक्त स्थान (3) के लिए सर्वाधिक उपयुक्त शब्द इनमें से कौन सा होगा?

- Ans
- 1. शुरू
 - 2. प्रगति
 - 3. समाप्त
 - 4. उद्भव

Question ID : 26433092234

Status : Answered

Chosen Option : 2

Comprehension:

प्रश्न संख्या 1-5 के उत्तर निम्न गद्यांश के आधार पर दीजिए।

गुरु नानक ने प्रेम का संदेश दिया है उनका कथन था कि ईश्वर नाम के सम्मुख जाति और कुल के बंधन (1) _____ हैं, क्योंकि मनुष्य जीवन का जो चरम प्राप्तव्य है वह स्वयं प्रेमरूप है प्रेम ही उसका स्वभाव है, (2) _____ ही उसका साधन है अरे ओ मुग्ध मनुष्य, सच्ची प्रीति से ही तेरा मान-अभिमान नष्ट होगा, तेरी छोटाई की सीमा (3) _____ होगी, परम मंगलमय शिव तुझे प्राप्त होगा उसी सच्चे प्रेम की साधना ही तेरे जीवन का परम लक्ष्य है बाह्य (4) _____ को तू धर्म समझ रहा है मूल संस्कारों को तू आस्था मानता है नहीं प्यारे, यह सब धर्म नहीं है धर्म तो स्वयं रूप होकर भगवान के रूप में तेरे भीतर (5) _____ है उनका मत था कि विश्व का परित्याग कर सन्यास लेना ईश्वर की दृष्टि में आवश्यक नहीं है उसके लिए तो धार्मिक सन्यासी तथा भक्त व गृहस्थ सभी समान हैं।

SubQuestion No : 19

Q.19 रिक्त स्थान (4) के लिए सर्वाधिक उपयुक्त शब्द इनमें से कौन सा होगा?

- Ans
- 1. नीतियों
 - 2. आडंबरों
 - 3. विश्वासों
 - 4. संस्कारों

Question ID : 26433092235

Status : Answered

Chosen Option : 4

Comprehension:

प्रश्न संख्या 1-5 के उत्तर निम्न गद्यांश के आधार पर दीजिए।

गुरु नानक ने प्रेम का संदेश दिया है उनका कथन था कि ईश्वर नाम के सम्मुख जाति और कुल के बंधन (1) _____ हैं, क्योंकि मनुष्य जीवन का जो चरम प्राप्तव्य है वह स्वयं प्रेमरूप है प्रेम ही उसका स्वभाव है, (2) _____ ही उसका साधन है अरे ओ मुग्ध मनुष्य, सच्ची प्रीति से ही तेरा मान-अभिमान नष्ट होगा, तेरी छोटाई की सीमा (3) _____ होगी, परम मंगलमय शिव तुझे प्राप्त होगा उसी सच्चे प्रेम की साधना ही तेरे जीवन का परम लक्ष्य है बाह्य (4) _____ को तू धर्म समझ रहा है मूल संस्कारों को तू आस्था मानता है नहीं प्यारे, यह सब धर्म नहीं है धर्म तो स्वयं रूप होकर भगवान के रूप में तेरे भीतर (5) _____ है उनका मत था कि विश्व का परित्याग कर सन्यास लेना ईश्वर की दृष्टि में आवश्यक नहीं है उसके लिए तो धार्मिक सन्यासी तथा भक्त व गृहस्थ सभी समान हैं।

SubQuestion No : 20

Q.20 रिक्त स्थान (5) के लिए सर्वाधिक उपयुक्त शब्द इनमें से कौन सा होगा?

Ans 1. गायब

2. विराजमान

3. बाहर

4. साधना

Question ID : 26433092236

Status : Answered

Chosen Option : 2

WWW.GOV TJOB SALE .IN