

Constable GD in CAPFs SSF Rifleman GD in Assam Rifles and Sepoy in NCB Examination 2022

Roll Number	www.govtjobsalert.in
Candidate Name	www.govtjobsalert.in
Venue Name	iON Digital Zone iDZ Chandpura
Exam Date	11/01/2023
Exam Time	9:00 AM - 10:00 AM
Subject	Constable GD Examination 2022

Section : Part-A-General Intelligence and Reasoning

Q.1 यदि दर्पण को 'PQ' पर रखा जाए जैसा कि नीचे दिखाया गया है, तो दिए गए अक्षर संयोजन का सही दर्पण प्रतिबिम्ब कौन-सा होगा?

G C P U W K | P
Q

Ans

- ✗ 1. K W U P C Q
✗ 2. Q C B U M K
✓ 3. K W U P C Q
✗ 4. K M U P C Q

Question ID : 26433081696

Status : Answered

Chosen Option : 3

Q.2 'A + B' का अर्थ है 'B, A का भाई है'
'A - B' का अर्थ है 'B, A की बहन है'
'A % B' का अर्थ है 'B, A की पुत्री है'
'A & B' का अर्थ है 'B, A की पत्नी है'
यदि A & B % C + D - E है, तो E, A से किस प्रकार संबंधित है?


- Ans ✗ 1. माता
✓ 2. पुत्री
✗ 3. बहन
✗ 4. पत्नी

Question ID : 26433068529

Status : Answered

Chosen Option : 2

Q.3 उस आकृति का चयन कीजिए, जो नीचे दी गई शृंखला में आगे आएगी।



Ans

- ✗ 1.
- ✗ 2.
- ✗ 3.
- ✓ 4.

Question ID : 26433078969

Status : Answered

Chosen Option : 4

Q.4 एक निश्चित कूट भाषा में 'SLOWLY' को 'TMNXMZ' और 'FRIEND' को 'GSHDOE' लिखा जाता है। उसी भाषा में 'BORING' को किस प्रकार लिखा जाएगा?

- Ans
- ✓ 1. CNSHOH
 - ✗ 2. CNSHOF
 - ✗ 3. CPSNOH
 - ✗ 4. CNSJOH

Question ID : 26433081760

Status : Answered

Chosen Option : 1

Q.5 किस विकल्प में निम्नलिखित शब्दों का वह क्रम दिया गया है, जिस क्रम में वे अंग्रेजी शब्दकोश में आते हैं?

- 1 kind
- 2 kite
- 3 knit
- 4 king
- 5 kindle

- Ans
- 1. 1,4,5,2,3
 - 2. 1,4,2,5,3
 - 3. 1,5,2,4,3
 - 4. 1,5,4,2,3

Question ID : 26433069300

Status : Answered

Chosen Option : 4

Q.6 तीन कथनों के बाद तीन निष्कर्ष I, II और III दिए गए हैं। कथनों को सत्य मानते हुए, भले ही वे सामान्य रूप से ज्ञात तथ्यों से भिन्न प्रतीत होते हों, निर्धारित करें कि कौन-सा/से निष्कर्ष कथनों का तार्किक रूप से अनुसरण करता है/करते हैं।

कथन:

सभी बैग रबर हैं।

कुछ रबर कुर्सियां हैं।

सभी कुर्सियां मेज हैं।

निष्कर्ष:

I. कुछ रबर बैग हैं।

II. कुछ कुर्सियां रबर हैं।

III. कुछ कुर्सियां मेज हैं।

- Ans
- 1. निष्कर्ष II और III दोनों अनुसरण करते हैं।
 - 2. निष्कर्ष I और II दोनों अनुसरण करते हैं।
 - 3. निष्कर्ष I और III दोनों अनुसरण करते हैं।
 - 4. सभी निष्कर्ष अनुसरण करते हैं।

Question ID : 26433074639

Status : Answered

Chosen Option : 4

Q.7 एक निश्चित कूट भाषा में, 'GHOST' को 'JCRNW' और 'FIRED' को 'IDUZG' लिखा जाता है। उसी कूट भाषा में 'RIFLE' को किस प्रकार लिखा जाएगा?

- Ans
- 1. PDBGH
 - 2. UDIGH
 - 3. UIDBH
 - 4. VEJFH

Question ID : 26433068145

Status : Answered

Chosen Option : 2

Q.8 सात मित्र एक वृत्ताकार मेज के परितः मेज के केंद्र की ओर मुख करके बैठे हैं। T, K और U के ठीक बगल में बैठा है। S, K के दाईं ओर ठीक बगल में बैठा है। W, U और M के ठीक बगल में है। K के बाईं ओर तीसरे स्थान पर कौन बैठा है?

- Ans
- 1. M
 - 2. W
 - 3. T
 - 4. U

Question ID : 26433080433

Status : Answered

Chosen Option : 2

Q.9 उस विकल्प का चयन कीजिए जो पांचवें अक्षर-समूह से उसी प्रकार संबंधित है जिस प्रकार दूसरा अक्षर-समूह, पहले अक्षर-समूह से संबंधित है और चौथा अक्षर-समूह, तीसरे अक्षर-समूह से संबंधित है।
PAE : HCQ :: ESH: KUF :: FDN : ?

- Ans
- 1. KGP
 - 2. KFG
 - 3. QFG
 - 4. PFH

Question ID : 26433057713

Status : Answered

Chosen Option : 3

Q.10 निम्न श्रंखला में प्रश्न-चिह्न (?) के स्थान पर कौन सी संख्या आएगी?
6, 24, 60, 120, ?

- Ans
- 1. 150
 - 2. 180
 - 3. 210
 - 4. 135

Question ID : 26433067838

Status : Answered

Chosen Option : 3

Q.11 नीचे दिए गए समीकरण को गणितीय रूप से सही बनाने के लिए किन दो गणितीय चिन्हों को परस्पर बदलना चाहिए?
 $144 - 12 + 18 \times 6 \div 24 = 96$

- Ans
- 1. - और ×
 - 2. - और +
 - 3. × और ÷
 - 4. - और ÷

Question ID : 264330117489

Status : Answered

Chosen Option : 4

Q.12 कौन-सा अक्षर-समूह दी गई श्रृंखला में प्रश्नचिह्न (?) के स्थान पर आकर श्रृंखला को पूर्ण करेगा?
XCMQ, YDNR, ?, AFPT, BGQU

- Ans
- 1. ZEPS
 - 2. ZEOS
 - 3. ZEOB
 - 4. ZEUS

Question ID : 26433067941

Status : Answered

Chosen Option : 2

Q.13 उस विकल्प का चयन कीजिए जो तीसरे शब्द से उसी प्रकार संबंधित है जिस प्रकार दूसरा शब्द पहले शब्द से संबंधित है। (शब्दों को अर्थपूर्ण शब्दों के रूप में मानना है और उन्हें शब्द में अक्षरों/व्यंजनों/स्वरों की संख्या के आधार पर एक-दूसरे से संबंधित नहीं करना है।)
चील : पंजा :: घोड़ा : ?

- Ans
- 1. तेज़
 - 2. खुर
 - 3. ताकतवर
 - 4. शक्ति

Question ID : 26433069578

Status : Answered

Chosen Option : 2

Q.14 कौन-सा अक्षर-समूह दी गई श्रृंखला में प्रश्नचिह्न (?) के स्थान पर आकर श्रृंखला को पूर्ण करेगा?
QJKE, SHIG, UFGI, ?, YBCM

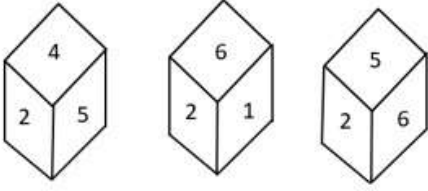
- Ans
- 1. VEFL
 - 2. WCFM
 - 3. WDEK
 - 4. VDEN

Question ID : 26433068036

Status : Answered

Chosen Option : 3

Q.15 एक ही पासे की तीन अलग-अलग स्थितियों को दर्शाया गया है। '2' दर्शाने वाले फलक के विपरीत फलक की संख्या ज्ञात कीजिए।



- Ans
- 1. 4
 - 2. 3
 - 3. 1
 - 4. 5

Question ID : 26433090067

Status : Answered

Chosen Option : 2

Q.16 गणितीय चिह्नों के सही संयोजन का चयन करें जिसे क्रमिक रूप से * चिह्नों के स्थान पर रखने से दिया गया समीकरण संतुलित हो जाएगा।
 $10 * 18 * 19 * 2 * 1 * 217$

- Ans
- 1. $\times, +, \times, -, =$
 - 2. $+, +, \times, -, =$
 - 3. $\times, +, \times, +, =$
 - 4. $\times, +, -, -, =$

Question ID : 26433082881

Status : Answered

Chosen Option : 1

Q.17 उस समुच्चय का चयन करें, जिसकी संख्याओं के बीच ठीक वही संबंध है, जो संबंध निम्नांकित समुच्चयों की संख्याओं में हैं।

(नोट: संख्याओं को उसके घटक अंकों में विभाजित किए बिना, पूर्ण संख्याओं पर ही गणितीय संक्रियाएँ की जानी चाहिए। जैसे 13 - मान लीजिए 13 पर गणितीय संक्रियाएँ जैसे कि 13 में जोड़ना/घटाना/गुणा करना आदि किया जा सकता है। 13 को 1 और 3 में तोड़कर और फिर 1 और 3 पर गणितीय संक्रियाएँ करने की अनुमति नहीं है।)

(11, 78, 15)

(12, 90, 18)

- Ans
- 1. (12, 89, 17)
 - 2. (11, 91, 19)
 - 3. (10, 54, 17)
 - 4. (13, 96, 19)

Question ID : 26433076541

Status : Answered

Chosen Option : 4

Q.18 निम्न में से कौन सी संख्या दी गई श्रृंखला में प्रश्नचिह्न (?) के स्थान पर आएगी?
62498, 61874, ?, 60644, 60038, 59438

- Ans
- 1. 60544
 - 2. 61656
 - 3. 60446
 - 4. 61256

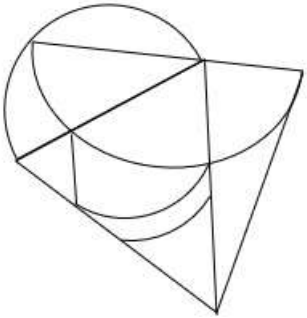
Question ID : 26433076751

Status : Answered

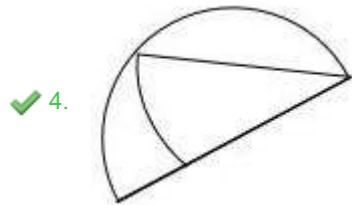
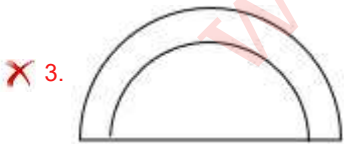
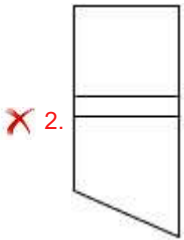
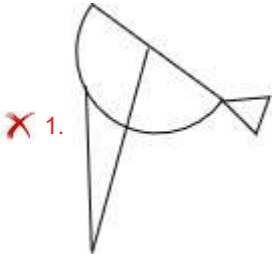
Chosen Option : 4

Q.19 वह विकल्प चित्र चुनिए, जो प्रस्तुत चित्र में अंतर्निहित है। (घुमाना अनुमन्य नहीं

है)



Ans



Question ID : 26433069331

Status : Answered

Chosen Option : 4

Q.20 छः व्यक्ति U, V, W, X, Y और Z वृत्त बनाके केंद्र से विपरीत दिशा की ओर मुख करके बैठे हैं। U, Y के दाईं ओर तीसरे स्थान पर बैठा है। W, U के बाईं ओर ठीक बगल में बैठा है। W, V के बाईं ओर तीसरे स्थान पर बैठा है। Z, U के बगल में नहीं बैठा है। W और Y के बीच में कौन बैठा है?

- Ans
- 1. U
 - 2. Z
 - 3. X
 - 4. V

Question ID : 264330114206

Status : Answered

Chosen Option : 2

Section : Part-B-General Knowledge and General awareness

Q.1 2003 में, सबसे कम आयु में पद्म विभूषण प्राप्त करने वाले भारतीय नर्तक/नर्तकी का नाम निम्न में से क्या था?

- Ans
- 1. सोनल मानसिंह
 - 2. उदय शंकर
 - 3. केलूचरण महापात्रा
 - 4. पंडित बिरजू महाराज

Question ID : 264330115839

Status : Not Answered

Chosen Option : --

Q.2 FIFA विश्व कप 2022 की मेजबानी किसने की?

- Ans
- 1. ब्राज़िल
 - 2. कतर
 - 3. स्पेन
 - 4. जर्मनी

Question ID : 264330115926

Status : Answered

Chosen Option : 2

Q.3 कैल्सियम कार्बोनेट का रासायनिक सूत्र क्या है?

- Ans
- 1. CaSO_4
 - 2. CaCO_2
 - 3. CaO
 - 4. CaCO_3

Question ID : 264330115166

Status : Answered

Chosen Option : 4

Q.4 एक संकरी पट्टी में स्थित क्षोभमंडल में अत्यधिक ऊँचाई (12000 मीटर से अधिक) वाली पश्चिमी हवाएँ होती हैं। इनकी गति गर्मी में 110 कि.मी. प्रति घंटा तथा सर्दी में 184 कि.मी. प्रति घंटा होती है।

- Ans
- 1. चक्रवात (Hurricane)
 - 2. डेरेचो
 - 3. जेट धाराएं
 - 4. बवंडर (Whirlwind)

Question ID : 264330115978

Status : Answered

Chosen Option : 3

Q.5 निम्नलिखित में से किस शास्त्रीय नृत्य रूप की शुरुआत 16वीं शताब्दी में वैष्णव संत महापुरुष शंकरदेव द्वारा की गई थी?

- Ans
- 1. ओडिसी
 - 2. कुचिपुड़ी
 - 3. मणिपुरी
 - 4. सत्रीया

Question ID : 264330115062

Status : Not Answered

Chosen Option : --

Q.6 विरासत का अधिकार (right of inheritance) किस ओर ले जाता है?

- Ans
- 1. भूमि प्रदुषण
 - 2. भूमि का विभाजन
 - 3. भूमि की कमी
 - 4. अनुपजाऊ भूमि

Question ID : 264330115523

Status : Answered

Chosen Option : 2

Q.7 2011 की जनगणना के अनुसार किस केंद्र शासित प्रदेश का लिंगानुपात सबसे अधिक है?

- Ans
- 1. दमन और दीव
 - 2. पुदुचेरी
 - 3. चंडीगढ़
 - 4. लक्षद्वीप

Question ID : 264330116048

Status : Answered

Chosen Option : 3

Q.8 गांधी-इरविन समझौते पर किस वर्ष हस्ताक्षर किए गए थे?

- Ans
- 1. 1933
 - 2. 1935
 - 3. 1931
 - 4. 1929

Question ID : 264330115685

Status : Answered

Chosen Option : 3

Q.9 नवंबर 2022 तक की स्थिति के अनुसार, भारत में केंद्रीय शिक्षा मंत्री कौन हैं?

- Ans
- 1. अनुराग ठाकुर
 - 2. किरण रिजिजू
 - 3. धर्मेन्द्र प्रधान
 - 4. मनसुख मंडाविया

Question ID : 264330114931

Status : Answered

Chosen Option : 3

Q.10 देश के राष्ट्रपति को उनके पद से हटाने को _____ के रूप में जाना जाता है।

- Ans
- 1. सेवाओं से स्वैच्छिक सेवानिवृत्ति
 - 2. सेवाओं की समाप्ति
 - 3. महाभियोग
 - 4. त्यागपत्र

Question ID : 264330115666

Status : Answered

Chosen Option : 3

Q.11 स्वतंत्रता के बाद, भारत ने _____ में अपनी पहली पंचवर्षीय योजना शुरू की।

- Ans
- 1. 1953
 - 2. 1950
 - 3. 1952
 - 4. 1951

Question ID : 264330116134

Status : Answered

Chosen Option : 4

Q.12 निम्नलिखित यूनानी शासकों में से किसने मेगस्थनीज को चंद्रगुप्त मौर्य के दरबार में भेजा था?

- Ans
- 1. अमीनटास तृतीय
 - 2. फिलिप द्वितीय
 - 3. सेल्यूकस निकेटर
 - 4. अमीनटास द्वितीय

Question ID : 26433090574

Status : Answered

Chosen Option : 3

Q.13 एक बजट दस्तावेज, जो किसी विशेष वित्तीय वर्ष के लिए सरकार की राजस्व प्राप्तियों और राजस्व व्यय से संबंधित होता है, _____ कहलाता है।

- Ans
- 1. राजस्व बजट
 - 2. दीर्घकालिक बजट
 - 3. पूंजीगत बजट
 - 4. शून्य बजट

Question ID : 264330115276

Status : Answered

Chosen Option : 4

Q.14 अक्टूबर 2022 में, मेघालय के राज्यपाल के रूप में किसने शपथ ली?

- Ans
- 1. सत्य पाल मलिक
 - 2. बी. डी. मिश्रा
 - 3. बनवारीलाल पुरोहित
 - 4. तथागत राय

Question ID : 264330114979

Status : Answered

Chosen Option : 2

Q.15 मोहन बागान एथलेटिक क्लब किस शहर में स्थित है?

- Ans
- 1. लखनऊ
 - 2. बुलंदशहर
 - 3. जयपुर
 - 4. कोलकाता

Question ID : 26433092324

Status : Not Answered

Chosen Option : --

Q.16 किस विटामिन को थायमिन के नाम से भी जाना जाता है?

- Ans
- 1. विटामिन B3
 - 2. विटामिन B1
 - 3. विटामिन B2
 - 4. विटामिन B12

Question ID : 264330115222

Status : Answered

Chosen Option : 2

Q.17 भारतीय संविधान में अंतिम अनुच्छेद को संख्या _____ दी गयी है। (मई 2022 तक प्राप्त जानकारी के अनुसार)

- Ans
- 1. 380
 - 2. 395
 - 3. 385
 - 4. 390

Question ID : 264330115611

Status : Not Answered

Chosen Option : --

Q.18 चीनी उद्योग के लिए प्राथमिक कच्चा माल _____ है।

- Ans
- 1. शकरकंद
 - 2. रासायनिक स्वीटनर
 - 3. गन्ना
 - 4. सेब

Question ID : 264330115395

Status : Answered

Chosen Option : 3

Q.19 भारत सरकार ने "राष्ट्रीय मधुमक्खी पालन एवं शहद मिशन (NBHM)" नाम की एक नई केंद्रीय क्षेत्र योजना को मंजूरी दी है जो _____ क्रांति से जुड़ी है।

- Ans
- 1. स्वर्ण
 - 2. मिष्ठान्न
 - 3. नमकीन
 - 4. शहद

Question ID : 264330116185

Status : Answered

Chosen Option : 4

Q.20 _____ को भारत में गुजराती नव वर्ष के रूप में मनाया जाता है।

- Ans
- 1. लोसर
 - 2. लोसांग
 - 3. विशु
 - 4. बेस्तु वरस

Question ID : 264330115107

Status : Not Answered

Chosen Option : --

Section : Part-C-Elementary Mathematics

Q.1 यदि मशीन A और B क्रमशः 9 घंटे और 12 घंटे में 1100 यूनिट का उत्पादन कर सकती हैं, तो मशीन A और B इन नियत दरों पर एक साथ काम करते हुए कितने घंटे में 1100 यूनिट का उत्पादन कर सकती हैं?

- Ans
- 1. $\frac{36}{7}$
 - 2. $\frac{37}{7}$
 - 3. $\frac{39}{7}$
 - 4. $\frac{38}{7}$

Question ID : 26433074312

Status : Answered

Chosen Option : 1

Q.2 एक क्लब में 90 महिला सदस्य और 60 पुरुष सदस्य हैं। यदि महिला सदस्यों की औसत आयु 35 वर्ष है और पुरुष सदस्यों की औसत आयु 45 वर्ष है, तो पूरे क्लब की औसत आयु (वर्षों में) ज्ञात कीजिए।

- Ans
- 1. 36
 - 2. 40
 - 3. 47
 - 4. 39

Question ID : 26433082705

Status : Answered

Chosen Option : 4

Q.3 एक व्यक्ति पहले दिन पर 6 घंटे में 240 kms, दूसरे दिन पर 8 घंटे में 360 kms और तीसरे दिन पर 6 घंटे में 450 kms की दूरी पूरी करता है। 3 दिनों में उसके द्वारा पूरी की गई प्रति घंटे की औसत दूरी ज्ञात करें।

- Ans
- 1. 51 kms
 - 2. 50.5 kms
 - 3. 48 kms
 - 4. 52.5 kms

Question ID : 264330116683
Status : Answered
Chosen Option : 4

Q.4 मनीष ने एक एयर कंडीशनर Rs.46,875 में खरीदा, इसके मूल्य का 8% वार्षिक दर से मूल्यहास हो रहा है। 3 वर्षों बाद एयर कंडीशनर की कीमत क्या होगी?

- Ans
- 1. Rs.35,602
 - 2. Rs.32,245
 - 3. Rs.36,501
 - 4. Rs.33,786

Question ID : 26433080339
Status : Answered
Chosen Option : 3

Q.5 प्याज के मूल्य में 25 प्रतिशत की वृद्धि से एक महिला 200 रुपए में 5 kg कम खरीद सकती है। प्याज का बढ़ा हुआ मूल्य प्रति kg है:

- Ans
- 1. 8 रुपए प्रति kg
 - 2. 15 रुपए प्रति kg
 - 3. 5 रुपए प्रति kg
 - 4. 10 रुपए प्रति kg

Question ID : 264330116789
Status : Answered
Chosen Option : 4

Q.6 किसी अनुपात में प्रथम और चतुर्थ पद का गुणनफल 70 है और द्वितीय और तृतीय पद का गुणनफल $3.5x$ है। x का मान _____ है।

- Ans
- 1. 20
 - 2. 35
 - 3. 21
 - 4. 2

Question ID : 26433074931
Status : Answered
Chosen Option : 1

Q.7 एक शंकु की त्रिज्या 5 cm है और इसकी तिर्यक ऊँचाई 16 cm है। इसका कुल पृष्ठीय क्षेत्रफल (cm^2 में) होगा।

- Ans
- 1. 320
 - 2. 330
 - 3. 310
 - 4. 300

Question ID : 26433085772
Status : Answered
Chosen Option : 2

Q.8 कितने वर्षों में ₹800 की धनराशि 10% वार्षिक दर से ₹926.10 हो जाएगी, जबकि ब्याज अर्ध-वार्षिक रूप से संयोजित होता है?

- Ans
- 1. 1.5
 - 2. 3
 - 3. 2
 - 4. 2.5

Question ID : 26433082403
Status : Answered
Chosen Option : 1

Q.9 A और B मिलकर एक कार्य को 50 घंटे में पूरा कर सकते हैं, B और C मिलकर उसी कार्य को 75 घंटे में कर सकते हैं और A और C मिलकर उसी कार्य को 25 घंटे में कर सकते हैं। वह समय ज्ञात करें जिसमें A, B और C मिलकर कार्य को पूरा करेंगे।

- Ans
- 1. 131/11 घंटे
 - 2. 150/11 घंटे
 - 3. 400/11 घंटे
 - 4. 300/11 घंटे

Question ID : 264330116869
Status : Answered
Chosen Option : 4

Q.10 14 cm ऊँचाई वाले लम्ब वृत्तीय बेलन का वक्र पृष्ठीय क्षेत्रफल 110 cm^2 है। बेलन का आधार व्यास क्या है? ($\pi = \frac{22}{7}$ का प्रयोग करें)

- Ans
- 1. 2.5 cm
 - 2. 2.4 cm
 - 3. 2.6 cm
 - 4. 2.7 cm

Question ID : 26433079779
Status : Answered
Chosen Option : 1

Q.11 दो संख्याओं के बीच का अंतर उनके योग का 15% है। छोटी संख्या और बड़ी संख्या का अनुपात ज्ञात करें।

- Ans
- 1. $\frac{23}{17}$
 - 2. $\frac{17}{13}$
 - 3. $\frac{13}{17}$
 - 4. $\frac{17}{23}$

Question ID : 26433080366

Status : Answered

Chosen Option : 4

Q.12 रूबी ने Rs.1 में 20 बटन खरीदे। 25% का लाभ प्राप्त करने के लिए उसे Rs.1 में कितने बटन बेचने चाहिए?

- Ans
- 1. 17
 - 2. 16
 - 3. 14
 - 4. 15

Question ID : 26433080304

Status : Answered

Chosen Option : 2

Q.13 यदि $a + b = 25$ और $a - b = 7$ है, तो a और b का मध्यानुपाती ज्ञात करें।

- Ans
- 1. 9
 - 2. 6
 - 3. 12
 - 4. 15

Question ID : 26433080114

Status : Answered

Chosen Option : 3

Q.14 यदि $2^{305} + 303$ को 9 से विभाजित किया जाता है, तो शेषफल _____ होता है।

- Ans
- 1. 2
 - 2. 1
 - 3. 6
 - 4. 4

Question ID : 26433079904

Status : Answered

Chosen Option : 2

Q.15 एक वस्तु का अंकित मूल्य 100000 रुपए था। लेकिन दुकानदार ने 20 प्रतिशत और 10 प्रतिशत की दोहरी छूट दी। अंततः उसने किस मूल्य पर वस्तु बेची?

- Ans
- 1. 82000 रुपए
 - 2. 72000 रुपए
 - 3. 70000 रुपए
 - 4. 80000 रुपए

Question ID : 264330116754

Status : Answered

Chosen Option : 2

Q.16 रॉबिन किसी दूरी का एक चौथाई भाग 20 km/h की चाल से, अगला एक चौथाई भाग 10 km/h की चाल से, और शेष भाग 80 km/h की चाल से तय करता है। संपूर्ण दूरी के लिए रॉबिन की औसत चाल ज्ञात कीजिए (2 दशमलव स्थानों तक)?

- Ans
- 1. 20 km/h
 - 2. 18.2 km/h
 - 3. 25 km/h
 - 4. 22.86 km/h

Question ID : 26433065292

Status : Answered

Chosen Option : 2

Q.17 4 अंकीय सबसे बड़ी और सबसे छोटी संख्या के बीच का अंतर ज्ञात करें जो 36 और 48 से पूर्णतः विभाज्य हैं।

- Ans
- 1. 8982
 - 2. 8298
 - 3. 8928
 - 4. 8892

Question ID : 264330116648

Status : Not Answered

Chosen Option : --

Q.18 एक वस्तु पर अंकित मूल्य 2000/- रुपए था लेकिन दुकानदार ने 20 प्रतिशत की छूट दी। उसने अंततः वस्तु को कितने में बेचा?

- Ans
- 1. 1400 रुपए
 - 2. 1200 रुपए
 - 3. 1600 रुपए
 - 4. 1500 रुपए

Question ID : 264330116715

Status : Answered

Chosen Option : 3

Q.19 एक कुर्सी ₹800 में खरीदी जाती है और ₹1,100 में बेची जाती है। लाभ प्रतिशत ज्ञात कीजिए।

Ans 1. 37.5%

2. 30%

3. 40%

4. 32.3%

Question ID : 26433074276

Status : Answered

Chosen Option : 1

Q.20 एक व्यक्ति कार से 600 km की दूरी 50 km/h की औसत चाल से तय करता है और 100 km की दूरी 100 km/h की चाल से यात्रा करता है, और अंत में 50 km की दूरी 25 km/h की चाल से तय करके अपने गंतव्य तक पहुंचता है। पूरी यात्रा के दौरान उसकी औसत चाल ज्ञात कीजिए।

Ans 1. 50 km/h

2. 25 km/h

3. 75 km/h

4. 58.33 km/h

Question ID : 26433071334

Status : Answered

Chosen Option : 1

Section : Part-D-English

Q.1 The sentence below is divided into four segments. Select the option that has an error of tense.

I has been / visiting my / family and relatives / during the winter vacation.

Ans 1. visiting my

2. family and relatives

3. I has been

4. during the winter vacation

Question ID : 26433092945

Status : Not Answered

Chosen Option : --

Q.2 Select the option in which all the words are spelt correctly.

Ans 1. The sage preached that we are accuuntable to God in this life.

2. The sage preached that we are akountable to God in this life.

3. The sage preached that we are accountable to God in this life.

4. The sage preached that we are accountable to God in this life.

Question ID : 26433072287

Status : Not Answered

Chosen Option : --

Q.3 Select the most appropriate option to fill in the blank.

He indeed is intelligent who _____ this and succeeds in making all work truly great.

- Ans 1. notices
 2. noticing
 3. was noticed
 4. noticed

Question ID : 26433088957
Status : Not Answered
Chosen Option : --

Q.4 Complete the sentence using correct pair of words from the options given.

My brother _____ apples during his fast.

- Ans 1. eight; eight
 2. eight; ate
 3. ate; ate
 4. ate; eight

Question ID : 26433088870
Status : Not Answered
Chosen Option : --

Q.5 Select the most appropriate option to fill in the blank.

He is an absolutely _____ man.

- Ans 1. crazed
 2. chased
 3. chaste
 4. chest

Question ID : 26433090388
Status : Not Answered
Chosen Option : --

Q.6 Select the most appropriate synonym of the given word.

Ideal

- Ans 1. Excellent
 2. Bad
 3. Hefty
 4. Intact

Question ID : 26433088925
Status : Not Answered
Chosen Option : --

Q.7 Select the INCORRECTLY spelt word.

- Ans 1. Miraculous
 2. Vision
 3. Skulptor
 4. Succeed

Question ID : 26433073733

Status : Not Answered

Chosen Option : --

Q.8 Select the most appropriate meaning of the underlined idiom in the given sentence.

Siraj-ud Daula's defeat can be attributed to a snake in the grass.

- Ans 1. A disloyal soldier
 2. A deceitful person
 3. A coiled serpent
 4. A devoted attendant

Question ID : 26433071996

Status : Not Answered

Chosen Option : --

Q.9 Select the most appropriate option that can substitute the underlined segment in the given sentence. If there is no need to substitute it, select 'No substitution'.

I visited the hospital to enquire about eyes surgery.

- Ans 1. No substitution
 2. enquired about eye surgery
 3. enquire about eye surgery
 4. enquire for eyes surgery

Question ID : 26433093072

Status : Not Answered

Chosen Option : --

Q.10 Select the most appropriate synonym for the underlined word in the given sentence.

An oxygen cylinder is used to deliver oxygen through the patient's nasal orifice.

- Ans 1. opening
 2. ornate
 3. origin
 4. ordained

Question ID : 26433073754

Status : Not Answered

Chosen Option : --

Q.11 Select the most appropriate meaning of the given idiom.

To call in question

- Ans
- 1. Show indifference
 - 2. Dislike the arrangement
 - 3. Take a resolute stand
 - 4. Challenge

Question ID : 26433073874
Status : Not Answered
Chosen Option : --

Q.12 Select the most appropriate ANTONYM of the given word.

Feeble

- Ans
- 1. Sturdy
 - 2. Anxious
 - 3. Weak
 - 4. Curious

Question ID : 26433073918
Status : Not Answered
Chosen Option : --

Q.13 Select the most appropriate ANTONYM of the given word.

Compassionate

- Ans
- 1. Fashionable
 - 2. Cruel
 - 3. Likeable
 - 4. Merciful

Question ID : 26433072211
Status : Not Answered
Chosen Option : --

Q.14 Select the most appropriate option that can substitute the underlined segment in the given sentence.

My uncle has an extremely large bungalow which has six bedrooms, five bathrooms and four living rooms.

- Ans
- 1. enormous
 - 2. great
 - 3. meagre
 - 4. oversize

Question ID : 26433086460
Status : Not Answered
Chosen Option : --

Q.15 Select the most appropriate ANTONYM of the bracketed word to fill in the blank.

The medicine was so _____ (sweet) that a man had to choose sugar along with it.

- Ans 1. rancid
 2. sour
 3. stale
 4. fetid

Question ID : 26433060720

Status : Not Answered

Chosen Option : --

Comprehension:

In the following passage, some words have been deleted. Read the passage carefully and select the most appropriate option to fill in each blank.

One certain benefit of online communication either through email or even communicating through WhatsApp nowadays is that there is a (1) _____ dependence on paper. It is said that to make a ton of paper 17 trees have to be cut down. With the already existing demand for paper to meet (2) _____ needs, it would be horrendous to keep (3) _____ the demand for paper worldwide. Online communication is a boon as many documents are now sent by mail through PDF, Microsoft Word or the JPEG format. This means that there is certainly a (4) _____ in the use of paper due to online communication. Many people read online newspapers nowadays, which means there is a decline in the number of people buying offline versions of (5) _____.

SubQuestion No : 16

Q.16 Select the most appropriate option to fill in blank number 1.

- Ans 1. dress
 2. restless
 3. less
 4. crest

Question ID : 26433088749

Status : Not Answered

Chosen Option : --

Comprehension:

In the following passage, some words have been deleted. Read the passage carefully and select the most appropriate option to fill in each blank.

One certain benefit of online communication either through email or even communicating through WhatsApp nowadays is that there is a (1) _____ dependence on paper. It is said that to make a ton of paper 17 trees have to be cut down. With the already existing demand for paper to meet (2) _____ needs, it would be horrendous to keep (3) _____ the demand for paper worldwide. Online communication is a boon as many documents are now sent by mail through PDF, Microsoft Word or the JPEG format. This means that there is certainly a (4) _____ in the use of paper due to online communication. Many people read online newspapers nowadays, which means there is a decline in the number of people buying offline versions of (5) _____.

SubQuestion No : 17

Q.17 Select the most appropriate option to fill in blank number 2.

- Ans 1. rare
 2. various
 3. controversial
 4. handle

Question ID : 26433088750
Status : Not Answered
Chosen Option : --

Comprehension:

In the following passage, some words have been deleted. Read the passage carefully and select the most appropriate option to fill in each blank.

One certain benefit of online communication either through email or even communicating through WhatsApp nowadays is that there is a (1) _____ dependence on paper. It is said that to make a ton of paper 17 trees have to be cut down. With the already existing demand for paper to meet (2) _____ needs, it would be horrendous to keep (3) _____ the demand for paper worldwide. Online communication is a boon as many documents are now sent by mail through PDF, Microsoft Word or the JPEG format. This means that there is certainly a (4) _____ in the use of paper due to online communication. Many people read online newspapers nowadays, which means there is a decline in the number of people buying offline versions of (5) _____.

SubQuestion No : 18

Q.18 Select the most appropriate option to fill in blank number 3.

- Ans 1. depriving
 2. increasing
 3. planning
 4. contriving

Question ID : 26433088751
Status : Not Answered
Chosen Option : --

Comprehension:

In the following passage, some words have been deleted. Read the passage carefully and select the most appropriate option to fill in each blank.

One certain benefit of online communication either through email or even communicating through WhatsApp nowadays is that there is a (1) _____ dependence on paper. It is said that to make a ton of paper 17 trees have to be cut down. With the already existing demand for paper to meet (2) _____ needs, it would be horrendous to keep (3) _____ the demand for paper worldwide. Online communication is a boon as many documents are now sent by mail through PDF, Microsoft Word or the JPEG format. This means that there is certainly a (4) _____ in the use of paper due to online communication. Many people read online newspapers nowadays, which means there is a decline in the number of people buying offline versions of (5) _____.

SubQuestion No : 19

Q.19 Select the most appropriate option to fill in blank number 4.

- Ans** 1. induction
 2. traction
 3. reduction
 4. gumption

Question ID : 26433088752
Status : Not Answered
Chosen Option : --

Comprehension:

In the following passage, some words have been deleted. Read the passage carefully and select the most appropriate option to fill in each blank.

One certain benefit of online communication either through email or even communicating through WhatsApp nowadays is that there is a (1) _____ dependence on paper. It is said that to make a ton of paper 17 trees have to be cut down. With the already existing demand for paper to meet (2) _____ needs, it would be horrendous to keep (3) _____ the demand for paper worldwide. Online communication is a boon as many documents are now sent by mail through PDF, Microsoft Word or the JPEG format. This means that there is certainly a (4) _____ in the use of paper due to online communication. Many people read online newspapers nowadays, which means there is a decline in the number of people buying offline versions of (5) _____.

SubQuestion No : 20

Q.20 Select the most appropriate option to fill in blank number 5.

- Ans** 1. newspapers
 2. canvas
 3. magazines
 4. fliers

Question ID : 26433088753
Status : Not Answered
Chosen Option : --

Q.1 निम्नलिखित वाक्य के किस भाग में वर्तनी सम्बन्धी त्रुटि है?
'आजकल दिल्ली के प्रगति मैदान में हस्तशिल्प प्रदर्शनी चल रही है।'

- Ans
- 1. प्रगति मैदान में
 - 2. आजकल दिल्ली के
 - 3. चल रही है।
 - 4. हस्तशिल्प प्रदर्शनी

Question ID : 26433063025
Status : Not Answered
Chosen Option : --

Q.2 मुहावरों और उनके अर्थ का निम्नलिखित में से कौन सा युग्म सही है?

- Ans
- 1. दिन का फेर होना-दिनभर भटकते रहना
 - 2. दाल न गलना-पूरा बस चलना
 - 3. त्रिशंकु होना-अधर में लटकते रहना
 - 4. दो दिन का मेहमान-लम्बे समय तक जीना

Question ID : 26433062559
Status : Answered
Chosen Option : 3

Q.3 'निरक्षर' शब्द का विलोम क्या होगा?

- Ans
- 1. साक्षर
 - 2. अनपढ़
 - 3. अपढ़
 - 4. महान

Question ID : 26433067090
Status : Answered
Chosen Option : 1

Q.4 'गंगा नदी भारत देश में हजारों लोगों की जीवनदायिनी है।' निम्नलिखित में से कौन सा शब्द 'गंगा' का पर्यायवाची शब्द नहीं है।

- Ans
- 1. सुरसरिता
 - 2. देवपगा
 - 3. हंसजा
 - 4. विष्णुपदी

Question ID : 26433069737
Status : Answered
Chosen Option : 3

Q.5 निम्नलिखित में से अशुद्ध वाक्य कौन-सा है?

- Ans
- 1. सुमेध आज छुट्टी पर है।
 - 2. अंजना ने नई साड़ी खरीदी।
 - 3. कोयल पेड़ में बैठी है।
 - 4. वसुंधरा बहुत सुरीला गाती है।

Question ID : 26433066989

Status : Answered

Chosen Option : 3

Q.6 'सारे शरीर की हड्डियों का ढांचा' वाक्यांश के लिए सार्थक शब्द है-

- Ans
- 1. शरीर की हड्डियां
 - 2. कंकाल
 - 3. हड्डी का ढांचा
 - 4. मांसपेशी

Question ID : 26433062224

Status : Answered

Chosen Option : 2

Q.7 निम्न विकल्पों में से अशुद्ध वाक्य छाँटिए।

- Ans
- 1. शीला को नाटक अच्छा लगा।
 - 2. लड़की पुस्तक पढ़ती है।
 - 3. मुझे उस पर दया आती है।
 - 4. लड़के ने घर जाना है।

Question ID : 26433063035

Status : Answered

Chosen Option : 4

Q.8 'आफिसर ने कर्मचारी को फ़ाइल लाने का आदेश दिया।' इस वाक्य में प्रयुक्त 'आदेश' शब्द का अर्थ क्या है?

- Ans
- 1. छोटों को बहकाना
 - 2. अपने कर्मचारियों की अवज्ञा करना
 - 3. आज्ञा पालन के लिए कहना
 - 4. अपने से छोटों को डांटना

Question ID : 26433080915

Status : Answered

Chosen Option : 3

Q.9 निम्नलिखित वाक्य के रेखांकित अंश के स्थान पर विकल्पों में सबसे उपयुक्त शब्द का चयन कीजिए।
शोक है कि मैं आपके पत्र का उत्तर नहीं दे सका।

- Ans 1. खेद
 2. खुशी
 3. कष्ट
 4. पता

Question ID : 26433066868
Status : Answered
Chosen Option : 1

Q.10 'जो कहा गया है' वाक्यांश के लिए सार्थक शब्द है-

- Ans 1. अकथ्य
 2. कल्पित
 3. वचनातीत
 4. कथित

Question ID : 26433065864
Status : Answered
Chosen Option : 4

Q.11 तब की बात कुछ और थी। फिर ऐसा नहीं होगा।
उपरोक्त वाक्य में प्रयुक्त 'तब', 'फिर' समानार्थक क्रिया-विशेषणों के सही अर्थ क्या हैं?

- Ans 1. 'तब' का अर्थ बाद में और 'फिर' का अर्थ बार - बार
 2. 'तब' का अर्थ उस समय और 'फिर' का अर्थ दुबारा
 3. 'तब' का अर्थ कहाँ और 'फिर' का अर्थ वर्तमान
 4. 'तब' का अर्थ उस समय और 'फिर' का अर्थ अलग

Question ID : 26433079232
Status : Answered
Chosen Option : 2

Q.12 विकल्पों में से निम्नलिखित वाक्यांश के लिए उपयुक्त शब्द चुनें।
जो इंद्रियों से परे हो

- Ans 1. अतीन्द्रिय
 2. कर्मेन्द्रिय
 3. जितेन्द्रिय
 4. ज्ञानेन्द्रिय

Question ID : 26433069992
Status : Answered
Chosen Option : 1

Q.13 निम्नलिखित मुहावरे के लिए उपयुक्त सार्थक शब्द है-
टका-सा जवाब देना

- Ans
- 1. बहाना करना
 - 2. हिचकना
 - 3. साफ इंकार करना
 - 4. लालच देना

Question ID : 26433065771

Status : Answered

Chosen Option : 3

Q.14 निम्नलिखित वाक्य के किस भाग में शब्द-चयन सम्बन्धी अशुद्धि है?
'हिन्दी के प्रचार में बहुत बड़े-बड़े संकट हैं।'

- Ans
- 1. हिन्दी के
 - 2. बहुत
 - 3. प्रचार में
 - 4. बड़े-बड़े संकट हैं।

Question ID : 26433062806

Status : Answered

Chosen Option : 2

Q.15 सिंह की सवारी सबके बस की बात नहीं है।
उस विकल्प का चयन कीजिए जो उपरोक्त वाक्य में रेखांकित शब्द का पर्यायवाची शब्द नहीं है।

- Ans
- 1. मणि
 - 2. सिंह
 - 3. वनराज
 - 4. केसरी

Question ID : 26433091341

Status : Answered

Chosen Option : 1

Comprehension:

निम्नलिखित गद्यांश में कुछ शब्दों को हटा दिया गया है। दिए गए विकल्पों की सहायता से रिक्त स्थानों की पूर्ति कीजिए। प्रत्येक संख्या के लिए सबसे उपयुक्त विकल्प का चयन करें।

वैसे तो सभी आयु-वर्ग के लोग अपने-अपने जन्मदिन 1. _____ मनाते हैं, पर बच्चों में इस दिन को मनाने की उत्सुकता कुछ 2. _____ ही होती है। पूरे वर्ष वे इस दिन की 3. _____ करते रहते हैं। जब भी किसी के जन्मदिन में 4. _____ होते हैं लौटकर ज़रूर पूछते हैं कि हमारा जन्मदिन कब मनाया जाएगा। जन्मदिन पर घर को सजाया जाता है। इस दिन सभी मित्र 5. _____ होते हैं।

SubQuestion No : 16

Q.16 रिक्त स्थान 1 की पूर्ति के लिए सबसे उपयुक्त विकल्प का चयन कीजिए।

- Ans
- 1. स्वाभाविक
 - 2. उत्सुकता
 - 3. प्रसन्नतापूर्वक
 - 4. रोज़

Question ID : 264330111083

Status : Answered

Chosen Option : 3

Comprehension:

निम्नलिखित गद्यांश में कुछ शब्दों को हटा दिया गया है। दिए गए विकल्पों की सहायता से रिक्त स्थानों की पूर्ति कीजिए। प्रत्येक संख्या के लिए सबसे उपयुक्त विकल्प का चयन करें।

वैसे तो सभी आयु-वर्ग के लोग अपने-अपने जन्मदिन 1. _____ मनाते हैं, पर बच्चों में इस दिन को मनाने की उत्सुकता कुछ 2. _____ ही होती है। पूरे वर्ष वे इस दिन की 3. _____ करते रहते हैं। जब भी किसी के जन्मदिन में 4. _____ होते हैं लौटकर ज़रूर पूछते हैं कि हमारा जन्मदिन कब मनाया जाएगा। जन्मदिन पर घर को सजाया जाता है। इस दिन सभी मित्र 5. _____ होते हैं।

SubQuestion No : 17

Q.17 रिक्त स्थान 2 की पूर्ति के लिए सबसे उपयुक्त विकल्प का चयन कीजिए।

- Ans
- 1. अधिक
 - 2. प्रायः
 - 3. हमेशा
 - 4. कम

Question ID : 264330111084

Status : Answered

Chosen Option : 1

Comprehension:

निम्नलिखित गद्यांश में कुछ शब्दों को हटा दिया गया है। दिए गए विकल्पों की सहायता से रिक्त स्थानों की पूर्ति कीजिए। प्रत्येक संख्या के लिए सबसे उपयुक्त विकल्प का चयन करें।

वैसे तो सभी आयु-वर्ग के लोग अपने-अपने जन्मदिन 1. _____ मनाते हैं, पर बच्चों में इस दिन को मनाने की उत्सुकता कुछ 2. _____ ही होती है। पूरे वर्ष वे इस दिन की 3. _____ करते रहते हैं। जब भी किसी के जन्मदिन में 4. _____ होते हैं लौटकर ज़रूर पूछते हैं कि हमारा जन्मदिन कब मनाया जाएगा। जन्मदिन पर घर को सजाया जाता है। इस दिन सभी मित्र 5. _____ होते हैं।

SubQuestion No : 18

Q.18 रिक्त स्थान 3 की पूर्ति के लिए सबसे उपयुक्त विकल्प का चयन कीजिए।

- Ans 1. विकसित
 2. प्रतीक्षा
 3. सार्थकता
 4. सहायता

Question ID : 264330111085

Status : Answered

Chosen Option : 2

Comprehension:

निम्नलिखित गद्यांश में कुछ शब्दों को हटा दिया गया है। दिए गए विकल्पों की सहायता से रिक्त स्थानों की पूर्ति कीजिए। प्रत्येक संख्या के लिए सबसे उपयुक्त विकल्प का चयन करें।

वैसे तो सभी आयु-वर्ग के लोग अपने-अपने जन्मदिन 1. _____ मनाते हैं, पर बच्चों में इस दिन को मनाने की उत्सुकता कुछ 2. _____ ही होती है। पूरे वर्ष वे इस दिन की 3. _____ करते रहते हैं। जब भी किसी के जन्मदिन में 4. _____ होते हैं लौटकर ज़रूर पूछते हैं कि हमारा जन्मदिन कब मनाया जाएगा। जन्मदिन पर घर को सजाया जाता है। इस दिन सभी मित्र 5. _____ होते हैं।

SubQuestion No : 19

Q.19 रिक्त स्थान 4 की पूर्ति के लिए सबसे उपयुक्त विकल्प का चयन कीजिए।

- Ans 1. सामाजिक
 2. अभिव्यक्त
 3. विचलित
 4. सम्मिलित

Question ID : 264330111086

Status : Answered

Chosen Option : 4

Comprehension:

निम्नलिखित गद्यांश में कुछ शब्दों को हटा दिया गया है। दिए गए विकल्पों की सहायता से रिक्त स्थानों की पूर्ति कीजिए। प्रत्येक संख्या के लिए सबसे उपयुक्त विकल्प का चयन करें।

वैसे तो सभी आयु-वर्ग के लोग अपने-अपने जन्मदिन 1. _____ मनाते हैं, पर बच्चों में इस दिन को मनाने की उत्सुकता कुछ 2. _____ ही होती है। पूरे वर्ष वे इस दिन की 3. _____ करते रहते हैं। जब भी किसी के जन्मदिन में 4. _____ होते हैं लौटकर ज़रूर पूछते हैं कि हमारा जन्मदिन कब मनाया जाएगा। जन्मदिन पर घर को सजाया जाता है। इस दिन सभी मित्र 5. _____ होते हैं।

SubQuestion No : 20

Q.20 रिक्त स्थान 5 की पूर्ति के लिए सबसे उपयुक्त विकल्प का चयन कीजिए।

- Ans 1. एकत्रित
 2. प्रेरणा
 3. प्रसिद्धि
 4. संबंधित

Question ID : 264330111087

Status : Answered

Chosen Option : 1

WWW.GOVtJOBSALEX.COM