

# Constable GD in CAPFs SSF Rifleman GD in Assam Rifles and Sepoy in NCB Examination 2022

Roll Number	<a href="http://www.govtjobsalert.in">www.govtjobsalert.in</a>
Candidate Name	<a href="http://www.govtjobsalert.in">www.govtjobsalert.in</a>
Venue Name	Yagyavalkya Institute of Technology
Exam Date	27/01/2023
Exam Time	5:15 PM - 6:15 PM
Subject	Constable GD Examination 2022

## Section : Part-A-General Intelligence and Reasoning

Q.1 A @ B का अर्थ है 'A, B का जीवनसाथी है'।  
A & B का अर्थ है 'A, B का पिता है'।  
A # B का अर्थ है 'A, B की माता है'।  
A % B का अर्थ है 'A, B की बहन है'।  
यदि H @ V & K % Q # F है, तो H, F से किस प्रकार संबंधित है?

- Ans
- 1. सास
  - 2. दादा
  - 3. नानी
  - 4. ससुर

Question ID : 26433069618

Status : Answered

Chosen Option : 3

Q.2 नीचे दिए गए समीकरण को गणितीय रूप से सही बनाने के लिए किन दो चिन्हों को परस्पर बदलना चाहिए?  
 $24 + 36 \times 32 - 8 \div 20 = 148$

- Ans
- 1. + और ×
  - 2. + और ÷
  - 3. - और +
  - 4. ÷ और -

Question ID : 264330117509

Status : Answered

Chosen Option : 4

Q.3 छः व्यक्ति M, N, O, P, Q और R एक वृत्ताकार मेज के परितः मेज के केंद्र की ओर मुख करके बैठे हैं। Q, M और R के ठीक बगल में बैठा है। N, Q के बाईं ओर तीसरे स्थान पर बैठा है। O, R और N के ठीक बगल में है। R, N के बाईं ओर दूसरे स्थान पर बैठा है। N के दाईं ओर से देखने पर, M और N के बीच में कौन बैठा है?

- Ans
- 1. O
  - 2. R
  - 3. Q
  - 4. P

Question ID : 26433081517

Status : Answered

Chosen Option : 1

Q.4 कौन-सा अक्षर-समूह दी गई श्रृंखला में प्रश्नचिह्न (?) के स्थान पर आकर श्रृंखला को पूर्ण करेगा?  
DCAB, ?, NMKL, SRPQ, XWUV

- Ans  1. EFIH  
 2. IHFG  
 3. EFHI  
 4. HIFG

Question ID : 26433067715

Status : Answered

Chosen Option : 2

Q.5 दिए गए विकल्पों में से उस अक्षर-समूह का चयन कीजिए जो निम्न श्रृंखला में प्रश्न-चिह्न (?) के स्थान पर आ सकता है।  
RBWP, TWYR, VRAT, ?, ZHEX

- Ans  1. XCVM  
 2. FVGW  
 3. XMCV  
 4. FTXH

Question ID : 26433074737

Status : Answered

Chosen Option : 3

www.govtjobsalert.in

Q.6 यदि श्रृंखला जारी रखनी है तो कौन-सी आकृति प्रश्न चिह्न (?) के स्थान पर

आएगी?

F	3	C	3	C	F	□	B	3	B	3	□	?
	V			B			C			A		
	B			V			A			C		
8	□	A	□	A	8	8	V	F	V	F	8	

Ans

✓ 1.

V	A	B
	3	
	F	
8	C	□

✗ 2.

□	A	8
	3	
	F	
B	C	V

✗ 3.

3	□	B
	C	
	A	
F	8	V

✗ 4.

V	F	B
	3	
	A	
8	C	□

Question ID : 26433076639

Status : Not Answered

Chosen Option : --

Q.7 तीन कथनों के बाद तीन निष्कर्ष I, II और III दिए गए हैं। कथनों को सत्य मानते हुए, भले ही वे सामान्य रूप से ज्ञात तथ्यों से भिन्न प्रतीत होते हों, निर्धारित करें कि कौन-सा/से निष्कर्ष कथनों का तार्किक रूप से अनुसरण करता है/करते हैं।

कथन:

सभी पुस्तक कठोर हैं।

कुछ कठोर पत्थर हैं।

कुछ पत्थर कार हैं।

निष्कर्ष:

I. कुछ कठोर पुस्तक हैं।

II. सभी कठोर पत्थर हैं।

III. कुछ कार पत्थर हैं।

Ans ✗ 1. निष्कर्ष I और II दोनों अनुसरण करते हैं।

✗ 2. सभी निष्कर्ष अनुसरण करते हैं।

✗ 3. निष्कर्ष II और III दोनों अनुसरण करते हैं।

✓ 4. निष्कर्ष I और III दोनों अनुसरण करते हैं।

Question ID : 26433074632

Status : Answered

Chosen Option : 4

Q.8 उस विकल्प का चयन कीजिए जो पांचवें अक्षर-समूह से उसी प्रकार संबंधित है जिस प्रकार दूसरा अक्षर-समूह पहले अक्षर-समूह से संबंधित है और चौथा अक्षर-समूह तीसरे अक्षर-समूह से संबंधित है।  
ONCE: LLVS :: LIST: OQFD :: PACK: ?

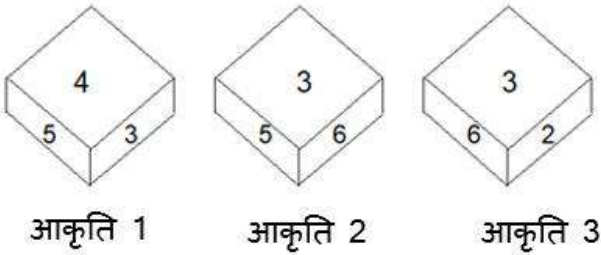
- Ans
- 1. KZXP
  - 2. JYWO
  - 3. IXVM
  - 4. KYVM

Question ID : 26433057499

Status : Answered

Chosen Option : 4

Q.9 एक ही पासे की तीन अलग-अलग स्थितियां दर्शाई गई हैं। '1' वाले फलक के विपरीत फलक पर संख्या ज्ञात करें।



- Ans
- 1. 3
  - 2. 2
  - 3. 5
  - 4. 6

Question ID : 26433089451

Status : Answered

Chosen Option : 2

Q.10 छः विद्यार्थी एक वृत्ताकार मेज के परितः मेज के केंद्र की ओर मुख करके बैठे हैं। A, C के बाईं ओर ठीक बगल में बैठा है। E, D के दाईं ओर तीसरे स्थान पर बैठा है। D, C के ठीक बगल में बैठा है। B, E और F दोनों के ठीक बगल में बैठा है। इनमें से कौन C और E के ठीक बगल में बैठा है?

- Ans
- 1. B
  - 2. F
  - 3. D
  - 4. A

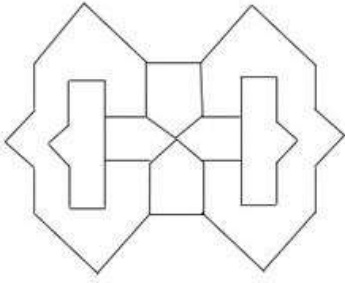
Question ID : 26433079502

Status : Answered

Chosen Option : 4

Q.11 वह विकल्प चित्र चुनिए, जो प्रस्तुत चित्र में अंतर्निहित है। (घुमाना अनुमन्य नहीं है)

है)

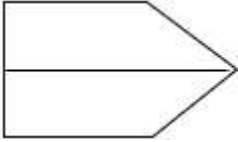


Ans

✓ 1.



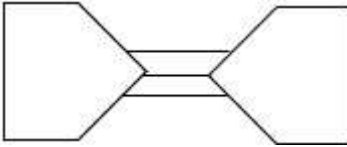
✗ 2.



✗ 3.



✗ 4.



Question ID : 26433069353

Status : Answered

Chosen Option : 1

Q.12 निम्नलिखित में से कौन-सी संख्या दी गई श्रंखला में प्रश्न-चिह्न (?) के स्थान पर आएगी?  
132, 154, 176, ?, 220

Ans ✓ 1. 198

✗ 2. 184

✗ 3. 192

✗ 4. 189

Question ID : 26433076735

Status : Answered

Chosen Option : 1

Q.13 उस विकल्प का चयन कीजिए जो तीसरे शब्द से उसी प्रकार संबंधित है जिस प्रकार दूसरा शब्द पहले शब्द से संबंधित है। (शब्दों को अर्थपूर्ण शब्दों के रूप में मानना है और उन्हें शब्द में अक्षरों/व्यंजनों/स्वरों की संख्या के आधार पर एक-दूसरे से संबंधित नहीं करना है।)  
गुलदस्ता : फूल :: चैन : \_\_\_\_\_

- Ans
- 1. पेड़
  - 2. कड़ी
  - 3. पौधा
  - 4. भारी

Question ID : 26433078827

Status : Answered

Chosen Option : 2

Q.14 दर्पण को नीचे दिए गए चित्र के अनुसार MN पर रखे जाने पर दी गई आकृति का दर्पण में निर्मित सही प्रतिबिंब चयनित कीजिए।

S O B x z F G L

M

|

N

- Ans
- 1. L G F z x B O S
  - 2. L G F z x B O S
  - 3. L G F z x B O S
  - 4. L G F z x B O S

Question ID : 26433080809

Status : Answered

Chosen Option : 1

Q.15 एक निश्चित कूट भाषा में यदि CAB को 75 के रूप में और DIP को 52 के रूप में कूटबद्ध किया जाता है, तो उसी भाषा में FLY को कैसे कूटबद्ध किया जाएगा?

- Ans
- 1. 26
  - 2. 38
  - 3. 44
  - 4. 42

Question ID : 26433068064

Status : Answered

Chosen Option : 2

Q.16 निम्नलिखित में से कौन-सी संख्या दी गई श्रृंखला में प्रश्न-चिह्न (?) के स्थान पर पर आएगी?  
1, 5, 16, 41, 87, 161, ?

- Ans  1. 270  
 2. 226  
 3. 266  
 4. 206

Question ID : 26433069116  
Status : Answered  
Chosen Option : 3

Q.17 एक निश्चित कूट भाषा में, 'PAPER' को 'QCSIW' के रूप में लिखा जाता है और 'BOARD' को 'CQDVI' के रूप में लिखा जाता है, उसी भाषा में 'PENCIL' को कैसे लिखा जाएगा?

- Ans  1. QGPGNP  
 2. RGQGNR  
 3. PGQGNP  
 4. QGQGNR

Question ID : 26433079390  
Status : Answered  
Chosen Option : 4

Q.18 किस विकल्प में निम्नलिखित शब्दों का वह क्रम दिया गया है, जिस क्रम में वे अंग्रेजी शब्दकोश में आते हैं?

- 1 demolish  
2 demon  
3 destroy  
4 decor  
5 detour

- Ans  1. 4,5,1,2,3  
 2. 4,2,1,5,3  
 3. 4,1,3,2,5  
 4. 4,1,2,3,5

Question ID : 26433069287  
Status : Answered  
Chosen Option : 4

Q.19 दिए गए समीकरण को संतुलित करने के लिए निम्न में से किन दो चिह्नों को परस्पर बदलना होगा?  
 $192 \div 16 + 8 \times 25 - 95 = 26$

- Ans  1.  $\div$  और +  
 2. + और  $\times$   
 3. - और  $\div$   
 4.  $\times$  और -

Question ID : 26433081085  
Status : Answered  
Chosen Option : 2

Q.20 उस समुच्चय का चयन करें, जिसकी संख्याओं के बीच ठीक वही संबंध है, जो संबंध निम्नांकित समुच्चयों की संख्याओं में हैं।  
(नोट: संख्याओं को उसके घटक अंकों में विभाजित किए बिना, पूर्ण संख्याओं पर ही गणितीय संक्रियाएँ की जानी चाहिए। जैसे 13 - मान लीजिए 13 पर गणितीय संक्रियाएँ जैसे कि 13 में जोड़ना/घटाना/गुणा करना आदि किया जा सकता है। 13 को 1 और 3 में तोड़कर और फिर 1 और 3 पर गणितीय संक्रियाएँ करने की अनुमति नहीं है।)  
(13, 390, 6)  
(9, 180, 4)

- Ans  1. (11, 385, 7)  
 2. (8, 224, 4)  
 3. (9, 220, 5)  
 4. (12, 432, 9)

Question ID : 26433076534  
Status : Answered  
Chosen Option : 1

Section : Part-B-General Knowledge and General awareness

Q.1 अक्टूबर 2022 में, भारत के उप चुनाव आयुक्त के रूप में किसे नियुक्त किया गया?

- Ans  1. सुनील अरोड़ा  
 2. अजय भादू  
 3. राजीव कुमार  
 4. ओम प्रकाश रावत

Question ID : 264330114999  
Status : Answered  
Chosen Option : 1

Q.2 इस योजना के अंतर्गत, गरीबी रेखा से नीचे (BPL) परिवारों को 5 करोड़ LPG (लिक्विफाइड पेट्रोलियम गैस) कनेक्शन प्रदान किए गए।

- Ans  1. सांसद आदर्श ग्राम योजना  
 2. बेटी बचाओ बेटी पढ़ाओ  
 3. स्किल इंडिया मिशन  
 4. प्रधानमंत्री उज्वला योजना

Question ID : 264330116178  
Status : Answered  
Chosen Option : 4

Q.3 नवंबर 2022 तक की स्थिति के अनुसार, 2022 में हुए चुनावों से पहले गुजरात के मुख्यमंत्री कौन थे?

- Ans  1. विजय रुपाणी  
 2. धनजीभाई पटेल  
 3. भूपेन्द्र पटेल  
 4. ईसुदान गढ़वी

Question ID : 264330114918  
Status : Answered  
Chosen Option : 3



Q.4 नाभिकीय विखंडन के संदर्भ में सही कथन की पहचान करें।

- Ans
- 1. एक निम्न-ऊर्जा परमाणु के नाभिक पर, जब उच्च-ऊर्जा न्यूट्रॉनों की बौछार की जाती है, तो उसे भारी नाभिकों में विभाजित किया जा सकता है।
  - 2. उच्च-ऊर्जा इलेक्ट्रॉनों और निम्न-ऊर्जा न्यूट्रॉन का एक साथ आना नाभिकीय विखंडन कहलाता है।
  - 3. एक भारी परमाणु के नाभिक पर, जब निम्न-ऊर्जा न्यूट्रॉनों की बौछार की जाती है, तो उसे हल्के नाभिकों में विभाजित किया जा सकता है।
  - 4. एक निम्न-ऊर्जा परमाणु के नाभिक पर, जब उच्च-ऊर्जा न्यूट्रॉनों की बौछार की जाती है, तो उसे हल्के नाभिकों में विभाजित किया जा सकता है।

Question ID : 26433096237

Status : Answered

Chosen Option : 2

Q.5 आंध्र प्रदेश का गठन किस तारीख को हुआ था?

- Ans
- 1. 26 जनवरी 1953 को
  - 2. 1 नवंबर 1956 को
  - 3. 15 अगस्त 1953 को
  - 4. 2 अक्टूबर 1956 को

Question ID : 26433090660

Status : Answered

Chosen Option : 2

Q.6 2011 की जनगणना के अनुसार भारत का जनसंख्या घनत्व (प्रति वर्ग किमी) कितना है?

- Ans
- 1. 298
  - 2. 198
  - 3. 382
  - 4. 442

Question ID : 264330116041

Status : Answered

Chosen Option : 3

Q.7 हॉकी इंडिया लीग (HIL) की शुरुआत निम्न में से किस वर्ष हुई थी?

- Ans
- 1. 2011
  - 2. 2012
  - 3. 2013
  - 4. 2010

Question ID : 264330116294

Status : Not Attempted and  
Marked For Review

Chosen Option : --

Q.8 एशियाई खेल 2018 के समापन समारोह में भारतीय दल का ध्वजवाहक कौन था/थी?

- Ans
- 1. नीरज चोपड़ा
  - 2. हिमा दास
  - 3. रानी रामपाल
  - 4. पीटी उषा

Question ID : 26433092321

Status : Answered

Chosen Option : 2

Q.9 भारत में दुनिया का दूसरा सबसे बड़ा \_\_\_\_\_ नेटवर्क है, जो कुल मिलाकर लगभग 62.16 लाख km (2020-21) तक समेकित है।

- Ans
- 1. सड़क
  - 2. समुद्र
  - 3. रेल
  - 4. वायु

Question ID : 264330115543

Status : Answered

Chosen Option : 3

Q.10 मौर्य साम्राज्य के किस सम्राट ने युद्ध जीतने के बाद विजय का त्याग कर दिया था?

- Ans
- 1. अशोक
  - 2. चंद्रगुप्त मौर्य
  - 3. बिंदुसार
  - 4. दशरथ

Question ID : 26433085214

Status : Answered

Chosen Option : 1

Q.11 तमिलनाडु में सर्दियों की बारिश \_\_\_\_\_ के कारण होती है।

- Ans
- 1. उत्तर-पूर्वी व्यापारिक पवनों
  - 2. शीतोष्ण चक्रवात
  - 3. स्थानीय हवा
  - 4. दक्षिण-पश्चिम व्यापारिक पवनों

Question ID : 26433089656

Status : Answered

Chosen Option : 4

Q.12 केलूचरण महापात्रा ने किस नृत्य शैली में अपनी पहचान बनाई?

- Ans  1. ओडिसी  
 2. सत्रीया  
 3. छऊ  
 4. कुचिपुड़ी

Question ID : 264330115832

Status : Answered

Chosen Option : 4

Q.13 ऋण के लिए सुरक्षा के रूप में ऋणदाता के पास उधारकर्ता द्वारा गिरवी रखी गई संपत्ति, \_\_\_\_\_ कहलाती है।

- Ans  1. द्विपक्षीय  
 2. बहुपक्षीय  
 3. एकपक्षीय  
 4. संपार्श्विक

Question ID : 264330115296

Status : Answered

Chosen Option : 4

Q.14 भारत के संविधान का निम्नलिखित में से कौन सा अनुच्छेद भारत के राष्ट्रपति को सजा या सजा के मामले में क्षमा करने का अधिकार देता है?

- Ans  1. अनुच्छेद 65  
 2. अनुच्छेद 78  
 3. अनुच्छेद 72  
 4. अनुच्छेद 66

Question ID : 26433074904

Status : Answered

Chosen Option : 3

Q.15 कथकली नृत्य शैली की उत्पत्ति भारत के किस भाग में हुई?

- Ans  1. पूर्वी भारत  
 2. दक्षिण भारत  
 3. पश्चिम भारत  
 4. उत्तर भारत

Question ID : 26433086708

Status : Answered

Chosen Option : 2

Q.16 मोपिन भारत के किस राज्य का सांस्कृतिक उत्सव है?

- Ans
- 1. महाराष्ट्र
  - 2. अरुणाचल प्रदेश
  - 3. मिजोरम
  - 4. नागालैंड

Question ID : 264330109604

Status : Answered

Chosen Option : 1

Q.17 भारत में किस पंचवर्षीय योजना के तहत परिवार नियोजन कार्यक्रम का कार्यान्वयन योजना के प्रमुख लक्ष्यों में से एक था?

- Ans
- 1. पाँचवीं
  - 2. चौथी
  - 3. तीसरी
  - 4. दूसरी

Question ID : 26433082235

Status : Answered

Chosen Option : 1

Q.18 किस पंचवर्षीय योजना में 'तीव्र और अधिक समावेशी विकास' की अवधारणा गढ़ी गई थी?

- Ans
- 1. 9वीं
  - 2. 11वीं
  - 3. 8वीं
  - 4. 10वीं

Question ID : 264330116131

Status : Answered

Chosen Option : 1

Q.19 कुख्यात जलियांवाला बाग की घटना कब हुई थी?

- Ans
- 1. 13 अप्रैल 1919
  - 2. 13 अप्रैल 1920
  - 3. 13 अप्रैल 1918
  - 4. 11 अप्रैल 1919

Question ID : 264330106573

Status : Answered

Chosen Option : 1

Q.20 निम्नलिखित में से कौन सा प्रोटीन का स्रोत नहीं है?

- Ans
- 1. मांस
  - 2. मछली
  - 3. दूध
  - 4. नींबू

Question ID : 264330115215

Status : Answered

Chosen Option : 4

Section : Part-C-Elementary Mathematics

Q.1 यदि X और Y का अनुपात 3 : 4 है, तो X और Y के बीच संबंध ज्ञात कीजिये।

- Ans
- 1. X, Y का 75 प्रतिशत है और Y, X का 133.33 प्रतिशत है दोनों
  - 2. X, Y का 35 प्रतिशत है
  - 3. Y, X का 120 प्रतिशत है
  - 4. X, Y का 80 प्रतिशत है

Question ID : 26433076005

Status : Answered

Chosen Option : 1

Q.2 प्रिया अपनी वस्तुओं के अंकित मूल्य पर 5 प्रतिशत की छूट देती है और फिर भी 18 प्रतिशत का लाभ अर्जित करती है। किसी वस्तु का क्रय मूल्य क्या है, यदि उसका अंकित मूल्य रु. 944?

- Ans
- 1. 854 रुपए
  - 2. 760 रुपए
  - 3. 580 रुपए
  - 4. 684 रुपए

Question ID : 264330116747

Status : Answered

Chosen Option : 3

Q.3 500 पेपरों का एक रिम ₹280 में खरीदा जाता है, और इससे 25 पेपरों के पैकेट बनाए जाते हैं। प्रत्येक पैकेट को ₹18 में बेचा जाता है। प्रतिशत लाभ या हानि ज्ञात करें। (एक दशमलव स्थान तक पूर्णांकित)।

- Ans
- 1. 24.5% लाभ
  - 2. 24.6% हानि
  - 3. 28.6% लाभ
  - 4. 26.5% लाभ

Question ID : 26433081707

Status : Answered

Chosen Option : 3

Q.4 3 घंटा 20 मिनट, 1 घंटा 50 मिनट और 6 घंटा 20 मिनट का चतुर्थानुपाती ज्ञात करें।

Ans  1. 3 घंटा 29 मिनट

2. 4 घंटा 19 मिनट

3. 3 घंटा 19 मिनट

4. 4 घंटा 29 मिनट

Question ID : 26433080120

Status : Not Answered

Chosen Option : --

Q.5 तीन संख्याएँ 4 : 5 : 6 के अनुपात में हैं और उनका लघुतम समापवर्त्य 180 है। उनका महत्तम समापवर्तक \_\_\_\_\_ है।

Ans  1. 3

2. 2

3. 8

4. 4

Question ID : 26433082352

Status : Answered

Chosen Option : 1

Q.6 वर्ष 2001, 2002, 2003 और 2004 में एक इलेक्ट्रॉनिक्स की दुकान की बिक्री का औसत 1850 है और 2002, 2003, 2004 और 2005 के लिए औसत 2125 है। यदि 2005 में बिक्री 1200 है, तो 2001 में बिक्री ज्ञात कीजिए।

Ans  1. 100

2. 130

3. 110

4. 120

Question ID : 26433076302

Status : Not Answered

Chosen Option : --

Q.7 ₹3,00,000 पर  $2\frac{1}{2}$  वर्ष के लिए 20% वार्षिक दर से चक्रवृद्धि ब्याज ज्ञात करें जबकि ब्याज अर्ध-वार्षिक रूप से संयोजित होना है।

Ans  1. ₹1,73,153

2. ₹1,92,156

3. ₹1,83,153

4. ₹1,62,156

Question ID : 26433080125

Status : Answered

Chosen Option : 1

Q.8 A और B मिलकर कोई काम 20 दिन में कर सकते हैं, जबकि B अकेले उसे 25 दिन में पूरा कर सकता है। उसी काम को अकेले पूरा करने में A को कितने दिन लगेंगे?

- Ans
- 1. 150
  - 2. 60
  - 3. 100
  - 4. 80

Question ID : 26433079892

Status : Answered

Chosen Option : 3

Q.9 11 संख्याओं का औसत 7.5 है। औसत 8.5 करने के लिए उनमें कौन सी 12वीं संख्या जोड़ी जानी चाहिए?

- Ans
- 1. 17.5
  - 2. 21.5
  - 3. 19.5
  - 4. 11.5

Question ID : 26433079844

Status : Answered

Chosen Option : 1

Q.10 एक दुकानदार एक वस्तु पर 15%, 30% और 4% की तीन क्रमागत छूटें देता है। यदि वस्तु का अंकित मूल्य ₹1,950 है, तो उसका विक्रय मूल्य क्या होगा (₹ में, निकटतम दहाई तक पूर्णांकित)?

- Ans
- 1. 1,110
  - 2. 1,020
  - 3. 1,130
  - 4. 1,150

Question ID : 26433061891

Status : Not Answered

Chosen Option : --

Q.11 11.6 m, 9.2 m, 32.8 m का चतुर्भुजापाती निर्धारित करें। (दो दशमलव स्थान तक मान लें)

- Ans
- 1. 22.01 m
  - 2. 20.01 m
  - 3. 28.01 m
  - 4. 26.01 m

Question ID : 26433081030

Status : Marked For Review

Chosen Option : 2

Q.12 एक गाँव की जनसंख्या में पहले वर्ष में  $12\frac{1}{2}\%$  की वृद्धि होती है और दूसरे वर्ष में 8% की कमी होती है। यदि गाँव की वर्तमान जनसंख्या 3200 है, तो 2 वर्ष बाद गाँव की जनसंख्या कितनी होगी?

- Ans
- 1. 3564
  - 2. 3312
  - 3. 3412
  - 4. 3388

Question ID : 26433075681

Status : Answered

Chosen Option : 3

Q.13 एक अर्धगोले का व्यास 6 cm है। इसके वक्र पृष्ठीय क्षेत्रफल और संपूर्ण पृष्ठीय क्षेत्रफल के मानों का अनुपात क्या होगा?

- Ans
- 1. 2 : 3
  - 2. 3 : 5
  - 3. 1 : 2
  - 4. 1 : 3

Question ID : 26433075210

Status : Not Answered

Chosen Option : --

Q.14 A और B मिलकर एक कार्य को 21 दिनों में कर सकते हैं। B और C मिलकर इसे 24 दिनों में कर सकते हैं। A और C मिलकर इसे 33 दिनों में कर सकते हैं। A, B और C मिलकर इसे लगभग कितने दिनों में पूरा करेंगे?

- Ans
- 1. 14 दिन
  - 2. 13 दिन
  - 3. 15 दिन
  - 4. 17 दिन

Question ID : 264330116862

Status : Not Answered

Chosen Option : --

Q.15 A, B और C एक वृत्ताकार ट्रैक पर दौड़ते हैं। A, B और C को एक चक्कर पूरा करने में क्रमशः 6 मिनट, 8 मिनट और 3 मिनट का समय लगता है। यदि वे 5 p.m. बजे एक साथ शुरू करते हैं, तो वे आरंभिक बिन्दु पर दोबारा किस समय मिलेंगे?

- Ans
- 1. 5:12 p.m.
  - 2. 5:18 p.m.
  - 3. 5:24 p.m.
  - 4. 5:08 p.m.

Question ID : 26433076014

Status : Answered

Chosen Option : 3



Q.16 एक ही बिंदु से शुरू होने वाली 5000 m की एक वृत्ताकार दौड़ में, दो प्रतियोगियों A और B की चाल क्रमशः 36 km/h और 54 km/h है। यदि वे विपरीत दिशा में और समान दिशा में दौड़ते हैं, तो दोनों स्थिति में ट्रैक पर उनके पहली बार मिलने के समय के बीच का अंतर (सेकंड में) ज्ञात करें।

- Ans  1. 600  
 2. 800  
 3. 200  
 4. 1000

Question ID : 26433066183

Status : Answered

Chosen Option : 3

Q.17 किसी वस्तु को एक निश्चित मूल्य पर बेचने पर एक महिला को 30 प्रतिशत का लाभ होता है। यदि वह इसे दोगुने मूल्य पर बेचती है, तो अर्जित लाभ कितने प्रतिशत होगा?

- Ans  1. 140 प्रतिशत  
 2. 130 प्रतिशत  
 3. 160 प्रतिशत  
 4. 120 प्रतिशत

Question ID : 26433079858

Status : Answered

Chosen Option : 3

Q.18 अफज़ल की मासिक आय Rs.35,000 है। वह अपनी मासिक आय का 20% भोजन पर, 30% कपड़ों पर और 15% किराए पर खर्च करता है। अफज़ल प्रति माह कितनी धनराशि की बचत करता है?

- Ans  1. Rs.16,660  
 2. Rs.14,200  
 3. Rs.15,220  
 4. Rs.12,250

Question ID : 26433080297

Status : Answered

Chosen Option : 1

Q.19 सबसे बड़ी संख्या के अंकों का योग ज्ञात करें जो 288 और 432 को पूर्णतः विभाजित कर सकती है।

- Ans  1. 12  
 2. 9  
 3. 3  
 4. 4

Question ID : 264330116635

Status : Answered

Chosen Option : 2

Q.20 यदि एक शंकु के आधार की त्रिज्या और तिर्यक ऊँचाई क्रमशः 17 cm और 25 cm है, तो शंकु का कुल पृष्ठीय क्षेत्रफल क्या होगा?

- Ans
- 1. 2244 cm<sup>2</sup>
  - 2. 2292 cm<sup>2</sup>
  - 3. 2288 cm<sup>2</sup>
  - 4. 2266 cm<sup>2</sup>

Question ID : 26433075708

Status : Not Answered

Chosen Option : --

Section : Part-D-English

Q.1 Select the most appropriate option to fill in the blank.

He visited his mother \_\_\_\_\_ after she was discharged from the hospital.

- Ans
- 1. more or less
  - 2. by and by
  - 3. now and then
  - 4. round and round

Question ID : 26433084651

Status : Not Answered

Chosen Option : --

Q.2 Select the most appropriate meaning of the given idiom.

Explore all avenues

- Ans
- 1. To discover new routes
  - 2. To discover new ideas
  - 3. To discover new things
  - 4. Try out every possibility to get a result

Question ID : 26433072681

Status : Not Answered

Chosen Option : --

Q.3 Select the most appropriate option that can substitute the underlined segment in the given sentence.

He has given us no reason to be prestigious of him.

- Ans
- 1. be ambitious
  - 2. be auspicious
  - 3. be suspicious
  - 4. be proudly

Question ID : 26433088509

Status : Not Answered

Chosen Option : --

Q.4 Select the INCORRECTLY spelt word.

- Ans
- 1. Pester
  - 2. Orientation
  - 3. Exaggerate
  - 4. Reference

Question ID : 26433073601  
Status : Not Answered  
Chosen Option : --

Q.5 Select the most appropriate synonym of the given word.

Noble

- Ans
- 1. Agile
  - 2. Dignified
  - 3. Humble
  - 4. Regular

Question ID : 26433072191  
Status : Not Answered  
Chosen Option : --

Q.6 Select the most appropriate synonym of the given word.

Reckon

- Ans
- 1. Relieve
  - 2. Release
  - 3. Think
  - 4. Terminate

Question ID : 26433073637  
Status : Not Answered  
Chosen Option : --

Q.7 Select the INCORRECTLY spelt word.

- Ans
- 1. Perceive
  - 2. Vacuous
  - 3. Malicious
  - 4. Repugnant

Question ID : 26433073605  
Status : Not Answered  
Chosen Option : --

Q.8 Select the correct option to substitute the underlined segment in the given sentence.

Let I clear the doubts, if any.

- Ans
- 1. Let mine
  - 2. Let my
  - 3. Let myself
  - 4. Let me

Question ID : 26433092998

Status : Not Answered

Chosen Option : --

Q.9 Select the correct word for the blanks in the given sentence.

Health is a state of \_\_\_\_\_ being, and a \_\_\_\_\_ is used to draw water from the ground.

- Ans
- 1. fine
  - 2. good
  - 3. well
  - 4. tubewell

Question ID : 26433060540

Status : Not Answered

Chosen Option : --

Q.10 Select the most appropriate meaning of the given idiom.

Spinning one's wheels

- Ans
- 1. To talk about oneself for achieving something
  - 2. To make a lot of effort without achieving anything
  - 3. To talk about random things
  - 4. To do a lot of work for achieving something

Question ID : 26433072680

Status : Not Answered

Chosen Option : --

Q.11 Select the most appropriate ANTONYM of the given word.

Erudite

- Ans
- 1. Primeval
  - 2. Inherent
  - 3. Civilized
  - 4. Ignorant

Question ID : 26433071982

Status : Not Answered

Chosen Option : --

Q.12 Select the most appropriate ANTONYM of the underlying word in the given sentence and complete the sentence.

He was \_\_\_\_\_ by his brother's attitude, but his mother's words calmed him.

- Ans
- 1. solaced
  - 2. agitated
  - 3. effaced
  - 4. acquitted

Question ID : 26433084711

Status : Not Answered

Chosen Option : --

Q.13 The following sentence has been divided into parts. One of them may contain an error. Select the part that contains the error from the given options.

Tomorrow is a/ holiday for all /except me as/ I will writing my exam.

- Ans
- 1. I will writing my exam
  - 2. holiday for all
  - 3. Tomorrow is a
  - 4. except me as

Question ID : 26433089823

Status : Not Answered

Chosen Option : --

Q.14 Select the most appropriate ANTONYM of the given word.

Obvious

- Ans
- 1. Plain
  - 2. Clear
  - 3. Straight
  - 4. Cryptic

Question ID : 26433072271

Status : Not Answered

Chosen Option : --

Q.15 Select the most appropriate homonym to fill in the blank.

He planned a weeklong \_\_\_\_\_ down the Nile.

- Ans
- 1. cruise
  - 2. crews
  - 3. cruse
  - 4. crus

Question ID : 26433089073

Status : Not Answered

Chosen Option : --

**Comprehension:**

In the following passage, some words have been deleted. Read the passage carefully and select the most appropriate option to fill in each blank.

Amla tree is (1) \_\_\_\_\_ to be thousands of years old. It is called aamaleki and dhaatri in Sanskrit. Its botanical name is Emblica Officinalis. The amla tree is a medium (2) \_\_\_\_\_ tree with citrus fruits. It is found almost everywhere in India (3) \_\_\_\_\_ for some very high mountainous regions. It is found (4) \_\_\_\_\_ in Madhya Pradesh. The leaves are very small and have a close (5) \_\_\_\_\_ to those of Gulmohar. The amla tree has slender branches which grow upwards and surround the trees on all sides.

**SubQuestion No : 16**

**Q.16** Select the most appropriate option to fill in blank no. 1.

- Ans  1. considered  
 2. contemplated  
 3. reviewed  
 4. examined

Question ID : 26433072256

Status : Not Answered

Chosen Option : --

**Comprehension:**

In the following passage, some words have been deleted. Read the passage carefully and select the most appropriate option to fill in each blank.

Amla tree is (1) \_\_\_\_\_ to be thousands of years old. It is called aamaleki and dhaatri in Sanskrit. Its botanical name is Emblica Officinalis. The amla tree is a medium (2) \_\_\_\_\_ tree with citrus fruits. It is found almost everywhere in India (3) \_\_\_\_\_ for some very high mountainous regions. It is found (4) \_\_\_\_\_ in Madhya Pradesh. The leaves are very small and have a close (5) \_\_\_\_\_ to those of Gulmohar. The amla tree has slender branches which grow upwards and surround the trees on all sides.

**SubQuestion No : 17**

**Q.17** Select the most appropriate option to fill in blank no. 2.

- Ans  1. sorted  
 2. assessed  
 3. sized  
 4. weighed

Question ID : 26433072257

Status : Not Answered

Chosen Option : --

**Comprehension:**

In the following passage, some words have been deleted. Read the passage carefully and select the most appropriate option to fill in each blank.

Amla tree is (1) \_\_\_\_\_ to be thousands of years old. It is called aamaleki and dhaatri in Sanskrit. Its botanical name is Emblica Officinalis. The amla tree is a medium (2) \_\_\_\_\_ tree with citrus fruits. It is found almost everywhere in India (3) \_\_\_\_\_ for some very high mountainous regions. It is found (4) \_\_\_\_\_ in Madhya Pradesh. The leaves are very small and have a close (5) \_\_\_\_\_ to those of Gulmohar. The amla tree has slender branches which grow upwards and surround the trees on all sides.

**SubQuestion No : 18**

**Q.18** Select the most appropriate option to fill in blank no. 3.

- Ans  1. unless  
 2. except  
 3. till  
 4. without

Question ID : 26433072258

Status : Not Answered

Chosen Option : --

**Comprehension:**

In the following passage, some words have been deleted. Read the passage carefully and select the most appropriate option to fill in each blank.

Amla tree is (1) \_\_\_\_\_ to be thousands of years old. It is called aamaleki and dhaatri in Sanskrit. Its botanical name is Emblica Officinalis. The amla tree is a medium (2) \_\_\_\_\_ tree with citrus fruits. It is found almost everywhere in India (3) \_\_\_\_\_ for some very high mountainous regions. It is found (4) \_\_\_\_\_ in Madhya Pradesh. The leaves are very small and have a close (5) \_\_\_\_\_ to those of Gulmohar. The amla tree has slender branches which grow upwards and surround the trees on all sides.

**SubQuestion No : 19**

**Q.19** Select the most appropriate option to fill in blank no. 4.

- Ans  1. profusely  
 2. lavishly  
 3. abundantly  
 4. wholly

Question ID : 26433072259

Status : Not Answered

Chosen Option : --

### Comprehension:

In the following passage, some words have been deleted. Read the passage carefully and select the most appropriate option to fill in each blank.

Amla tree is (1) \_\_\_\_\_ to be thousands of years old. It is called aamaleki and dhaatri in Sanskrit. Its botanical name is Emblica Officinalis. The amla tree is a medium (2) \_\_\_\_\_ tree with citrus fruits. It is found almost everywhere in India (3) \_\_\_\_\_ for some very high mountainous regions. It is found (4) \_\_\_\_\_ in Madhya Pradesh. The leaves are very small and have a close (5) \_\_\_\_\_ to those of Gulmohar. The amla tree has slender branches which grow upwards and surround the trees on all sides.

### SubQuestion No : 20

Q.20 Select the most appropriate option to fill in blank no. 5.

- Ans  1. resemblance  
 2. coincidence  
 3. harmony  
 4. congruence

Question ID : 26433072260

Status : Not Answered

Chosen Option : --

### Section : Part-D-Hindi

Q.1 'जानने की इच्छा' वाक्यांश के लिए सार्थक शब्द है-

- Ans  1. जिज्ञासा  
 2. अज्ञ  
 3. जानकारी  
 4. जिजीविषा

Question ID : 26433065857

Status : Answered

Chosen Option : 1

Q.2 निम्नलिखित विकल्पों में से 'आस्तीन का साँप' मुहावरे का अर्थ क्या है?

- Ans  1. विश्वासपात्र बनना  
 2. सबका प्रिय बनकर रहने वाला  
 3. प्रिय बनकर धोखा देने वाला  
 4. दुष्टता करना

Question ID : 26433062548

Status : Answered

Chosen Option : 3



Q.3 नीचे दिए मुहावरे का सही अर्थ दिए गए विकल्पों में से चुनिए-  
लोहा मानना

- Ans
- 1. श्रेष्ठता स्वीकार करना
  - 2. गलती स्वीकार करना
  - 3. सच्चाई स्वीकार करना
  - 4. वीरता स्वीकार करना

Question ID : 26433062312

Status : Answered

Chosen Option : 3

Q.4 “चोर को क्षमा दान कर दिया गया।”  
उपरोक्त वाक्य में क्रिया सम्बन्धी त्रुटि पहचानकर निम्नलिखित में से शुद्ध वाक्य का चयन कीजिए।

- Ans
- 1. चोर को क्षमा दान दे दिया गया।
  - 2. चोर को क्षमा दान किया गया।
  - 3. चोर को क्षमा दान प्रदान किया गया।
  - 4. चोर को क्षमा कर दिया गया।

Question ID : 26433066975

Status : Answered

Chosen Option : 4

Q.5 निम्नलिखित में से किस वाक्य में दिए गए शब्द के सही विलोम शब्द का प्रयोग किया गया है?  
अंधकार

- Ans
- 1. कमरे में चाँदनी है।
  - 2. कमरे में धुआं फैला है।
  - 3. कमरे में रसायन फैल रहा है।
  - 4. कमरे में प्रकाश फैला हुआ है।

Question ID : 26433066947

Status : Answered

Chosen Option : 4

Q.6 'किसी बात पर बार-बार जोर देना' वाक्यांश के लिए उचित शब्द क्या होगा?

- Ans
- 1. मुनादी
  - 2. कलरव
  - 3. आग्रह
  - 4. नाद

Question ID : 26433065913

Status : Answered

Chosen Option : 3

Q.7 निम्न में से किस वाक्य में 'क्लेश' के सही पर्यायवाची शब्द का प्रयोग हुआ है?

- Ans
- 1. काव्या की खुशी का ठिकाना नहीं था।
  - 2. अश्विन अधिक रुष्ट हो गया।
  - 3. उस बात का मुझे दुःख है।
  - 4. सुयश मूर्ख है।

Question ID : 26433067017

Status : Answered

Chosen Option : 3

Q.8 'बाढ़ के कारण जान-माल की भारी \_\_\_\_\_ हो चुकी थी।' उपरोक्त वाक्य में रिक्त स्थान की पूर्ति उपयुक्त शब्द द्वारा कीजिए।

- Ans
- 1. तबाही
  - 2. विनाशलीला
  - 3. रंजिश
  - 4. उगाही

Question ID : 26433069683

Status : Answered

Chosen Option : 2

Q.9 आज मैच देखकर आनंद आ गया। उपरोक्त वाक्य में रेखांकित शब्द के उचित पर्यायवाची शब्द का चयन कीजिए।

- Ans
- 1. रम्य
  - 2. मधवा
  - 3. सुधी
  - 4. प्रसन्नता

Question ID : 26433079722

Status : Answered

Chosen Option : 4

Q.10 'वह पुरुष जिसकी पत्नी मर गई हो' इस वाक्यांश के लिए सार्थक शब्द है -

- Ans
- 1. साधक
  - 2. सधवा
  - 3. विधुर
  - 4. विधवा

Question ID : 26433062334

Status : Answered

Chosen Option : 3

Q.11 घोड़ा जंगल की तरफ भागा।  
उपरोक्त वाक्य में 'की तरफ' के बदले कौन सा शब्द प्रयोग हो सकता है ?

- Ans
- 1. के सामने
  - 2. की ओर
  - 3. की और
  - 4. के निकट

Question ID : 26433062693  
Status : Answered  
Chosen Option : 2

Q.12 निम्न में से अशुद्ध शब्द की पहचान करें।

- Ans
- 1. उज्ज्वल
  - 2. कवयित्री
  - 3. अनधिकार
  - 4. अतिथि

Question ID : 26433067106  
Status : Answered  
Chosen Option : 1

Q.13 निम्नलिखित में से सकर्मक क्रिया का उदाहरण नहीं है-

- Ans
- 1. सोहन साइकिल चलाता है।
  - 2. मोहन दूध पीता है।
  - 3. बालक दौड़ता है।
  - 4. श्यामा ढोलक बजाती है।

Question ID : 26433085040  
Status : Answered  
Chosen Option : 4

Q.14 निम्नलिखित वाक्य के किस खंड में त्रुटि है?  
मोहिनी का पती परदेश में है।

- Ans
- 1. मोहिनी
  - 2. परदेश
  - 3. का
  - 4. पती

Question ID : 26433066761  
Status : Answered  
Chosen Option : 4

Q.15 विकल्पों में दिए गए शब्दों में से उचित शब्द चुनकर निम्न वाक्य पूर्ण करें।  
हमें \_\_\_\_\_ का निरादर नहीं करना चाहिए।

- Ans
- 1. अन्
  - 2. अन्य
  - 3. अन
  - 4. अन्न

Question ID : 26433062911

Status : Answered

Chosen Option : 4

**Comprehension:**

निम्नलिखित गद्यांश में कुछ शब्दों को हटा दिया गया है। दिए गए विकल्पों की सहायता से रिक्त स्थानों की पूर्ति कीजिए। प्रत्येक संख्या के लिए सबसे उपयुक्त विकल्प का चयन कीजिए।

स्कूली सत्र और परीक्षा समाप्त होने के पश्चात लम्बी 1. \_\_\_\_\_ का आनंद कुछ और ही होता है। पढाई का बोझ सिर से 2. \_\_\_\_\_ जाता है। उस समय परीक्षा के 3. \_\_\_\_\_ की प्रतीक्षा होती है। छुट्टियों का समय हमारा 4. \_\_\_\_\_ होता है। हमारे लिए यह समय अतुल्य 5. \_\_\_\_\_ से कम नहीं होता है।

**SubQuestion No : 16**

Q.16 रिक्त स्थान 1 की पूर्ति के लिए सबसे उपयुक्त विकल्प का चयन कीजिए।

- Ans
- 1. बातों
  - 2. रुचियों
  - 3. कक्षाओं
  - 4. छुट्टियों

Question ID : 264330111005

Status : Answered

Chosen Option : 4

**Comprehension:**

निम्नलिखित गद्यांश में कुछ शब्दों को हटा दिया गया है। दिए गए विकल्पों की सहायता से रिक्त स्थानों की पूर्ति कीजिए। प्रत्येक संख्या के लिए सबसे उपयुक्त विकल्प का चयन कीजिए।

स्कूली सत्र और परीक्षा समाप्त होने के पश्चात लम्बी 1. \_\_\_\_\_ का आनंद कुछ और ही होता है। पढाई का बोझ सिर से 2. \_\_\_\_\_ जाता है। उस समय परीक्षा के 3. \_\_\_\_\_ की प्रतीक्षा होती है। छुट्टियों का समय हमारा 4. \_\_\_\_\_ होता है। हमारे लिए यह समय अतुल्य 5. \_\_\_\_\_ से कम नहीं होता है।

**SubQuestion No : 17**

Q.17 रिक्त स्थान 2 की पूर्ति के लिए सबसे उपयुक्त विकल्प का चयन कीजिए।

- Ans
- 1. बढ़
  - 2. उतर
  - 3. चढ़
  - 4. मर

Question ID : 264330111006

Status : Answered

Chosen Option : 2

**Comprehension:**

निम्नलिखित गद्यांश में कुछ शब्दों को हटा दिया गया है। दिए गए विकल्पों की सहायता से रिक्त स्थानों की पूर्ति कीजिए। प्रत्येक संख्या के लिए सबसे उपयुक्त विकल्प का चयन कीजिए।

स्कूली सत्र और परीक्षा समाप्त होने के पश्चात लम्बी 1. \_\_\_\_\_ का आनंद कुछ और ही होता है। पढाई का बोझ सिर से 2. \_\_\_\_\_ जाता है। उस समय परीक्षा के 3. \_\_\_\_\_ की प्रतीक्षा होती है। छुट्टियों का समय हमारा 4. \_\_\_\_\_ होता है। हमारे लिए यह समय अतुल्य 5. \_\_\_\_\_ से कम नहीं होता है।

**SubQuestion No : 18**

Q.18 रिक्त स्थान 3 की पूर्ति के लिए सबसे उपयुक्त विकल्प का चयन कीजिए।

- Ans
- 1. योजना
  - 2. ध्यान
  - 3. परिणाम
  - 4. प्रमाण

Question ID : 264330111007

Status : Answered

Chosen Option : 3

**Comprehension:**

निम्नलिखित गद्यांश में कुछ शब्दों को हटा दिया गया है। दिए गए विकल्पों की सहायता से रिक्त स्थानों की पूर्ति कीजिए। प्रत्येक संख्या के लिए सबसे उपयुक्त विकल्प का चयन कीजिए।

स्कूली सत्र और परीक्षा समाप्त होने के पश्चात लम्बी 1. \_\_\_\_\_ का आनंद कुछ और ही होता है। पढाई का बोझ सिर से 2. \_\_\_\_\_ जाता है। उस समय परीक्षा के 3. \_\_\_\_\_ की प्रतीक्षा होती है। छुट्टियों का समय हमारा 4. \_\_\_\_\_ होता है। हमारे लिए यह समय अतुल्य 5. \_\_\_\_\_ से कम नहीं होता है।

**SubQuestion No : 19**

Q.19 रिक्त स्थान 4 की पूर्ति के लिए सबसे उपयुक्त विकल्प का चयन कीजिए।

- Ans
- 1. कार्यक्रम
  - 2. मिलाकर
  - 3. व्यवसाय
  - 4. अपना

Question ID : 264330111008

Status : Answered

Chosen Option : 4

**Comprehension:**

निम्नलिखित गद्यांश में कुछ शब्दों को हटा दिया गया है। दिए गए विकल्पों की सहायता से रिक्त स्थानों की पूर्ति कीजिए। प्रत्येक संख्या के लिए सबसे उपयुक्त विकल्प का चयन कीजिए।

स्कूली सत्र और परीक्षा समाप्त होने के पश्चात लम्बी 1. \_\_\_\_\_ का आनंद कुछ और ही होता है। पढाई का बोझ सिर से 2. \_\_\_\_\_ जाता है। उस समय परीक्षा के 3. \_\_\_\_\_ की प्रतीक्षा होती है। छुट्टियों का समय हमारा 4. \_\_\_\_\_ होता है। हमारे लिए यह समय अतुल्य 5. \_\_\_\_\_ से कम नहीं होता है।

**SubQuestion No : 20**

Q.20 रिक्त स्थान 5 की पूर्ति के लिए सबसे उपयुक्त विकल्प का चयन कीजिए।

- Ans
- 1. मित्रों
  - 2. संपत्ति
  - 3. व्यतीत
  - 4. जीवन

Question ID : 264330111009

Status : Answered

Chosen Option : 4

[www.govtjobsalert.in](http://www.govtjobsalert.in)